

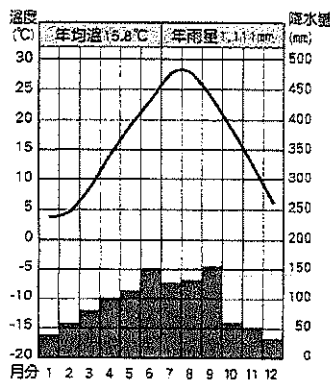
請讀完下文才開始作答：

- 1.本學科試題二張四面，交卷時只須交答案卡。
- 2.每題都有 A、B、C、D 四個選項，其中只有一個選項是正確的，請將正確答案選出。
- 3.作答時須用 2B 黑色鉛筆將正確答案劃記在答案卡，否則不予計分。
- 4.答案卡上劃記必須正確，答案塗改須擦拭乾淨，若劃記錯誤或不清楚影響電腦讀卡判讀，將不予計分。
- 5.本試題卷分為兩部份：一、單選 15 題；二、題組 16~35 題。1~30 題，每題 3 分，共 90 分，31~35 題每題 2 分，共 10 分。滿分 100 分。
- 6.本學科試題應答時間為 45 分鐘，考試中如有問題，請舉手發問。

一、單一選擇題 (每題3分 共15題)

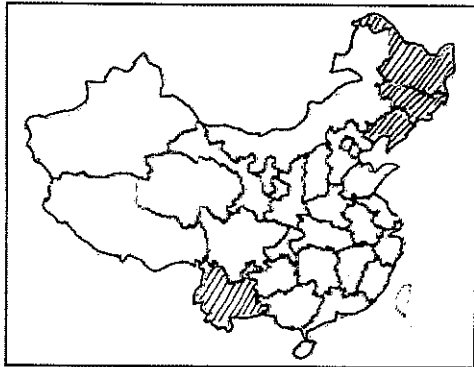
- () 1. 有台商將台灣的熱帶水果如蓮霧、鳳梨、芒果等引至中國大陸種植，這些台商最可能選擇下列何處當成熱帶水果的種植區？
 (A) 黃土高原 (B) 東北平原
 (C) 長江三角洲 (D) 海南島

- () 2. 下圖為中國某城市的氣候圖，根據圖中資訊判斷，此城市應位於下列哪一個地理區？



- (A) 長江中下游平原 (B) 華北平原
 (C) 東北平原 (D) 黃土高原

- () 3. 下圖為中國肺癌高發生地區圖，根據研究，肺癌與空氣汙染及生活習慣如抽菸有關，從圖中可看出除了雲南省，中國東北三省皆為高發生區，造成東北地區此現象的原因與下列何項因素最相關？




- (A) 醫療資源最不足 (B) 產業以重工業為主
 (C) 氣候較寒冷抵抗力差 (D) 人口少交通不便

- () 4. 柏蓉報名了江南五日遊行程，暢遊「小橋流水人家」的水鄉澤國，品嚐當地魚蝦、烤鴨料理，並帶回絲綢當伴手禮，柏蓉應是暢遊下列哪一個地形區？
 (A) 長江三角洲 (B) 珠江三角洲
 (C) 華北平原 (D) 東北平原

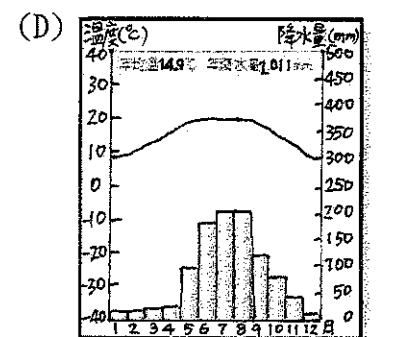
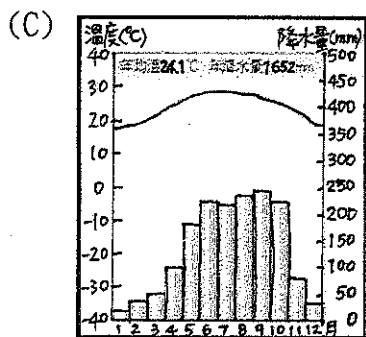
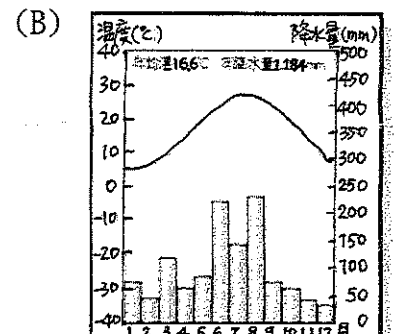
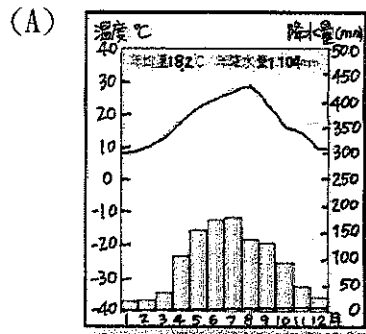
- () 5. 「酸菜白肉鍋」源自中國東北，其中酸白菜是當地居民的主要食物之一，該地區會將蔬菜進行醃製以利保存並食用。請問當地居民製作酸白菜，主要的原因為何？
 (A) 冬季嚴寒，不利蔬菜生長
 (B) 降雨集中，蔬菜容易腐爛
 (C) 土壤貧瘠，影響蔬菜收成
 (D) 平原狹小，蔬菜需要進口。

- () 6. 下圖為中國最為著名的梯田景觀，梯田中的農作物為水稻，無論是成熟期的金黃色或成長期的綠色及水面倒影，皆令人讚嘆。此人文景觀已被列入世界遺產，最可能分布於下列何種地理區？



- (A) 華北平原 (B) 嶺南丘陵 (C) 大興安嶺 (D) 山東丘陵

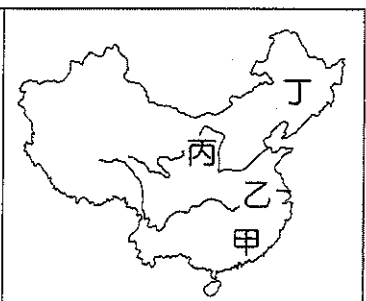
- () 7. 位於雲貴高原的昆明因冬暖夏涼，四季如春，有「春城」之稱，請問下列四張氣候圖，哪張最能代表昆明的氣候類型？



- () 8. 早期為了運送方便，會將茶葉壓制成茶磚或茶餅，以減少運送上的損失，也方便清點數量。圖一是中國某的生產的茶餅，請問這個茶餅最可能來自圖二中的何處？



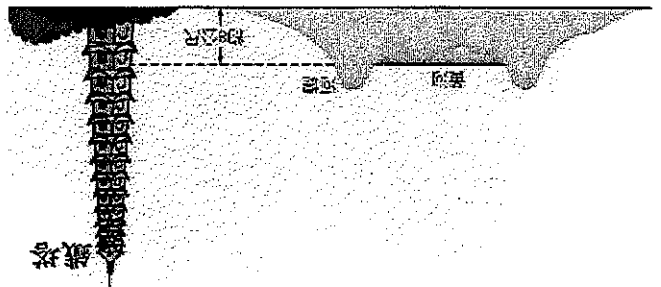
圖一



圖二

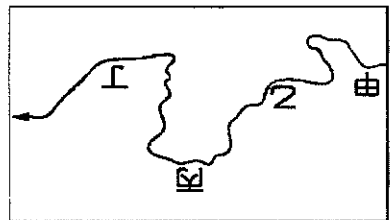
- (A) 甲 (B) 乙 (C) 丙 (D) 丁

() 9. 下圖是中國黃河某一段的景觀，請問形成這樣景觀除了當地居民築河堤外和下列哪一個諺語最相關？



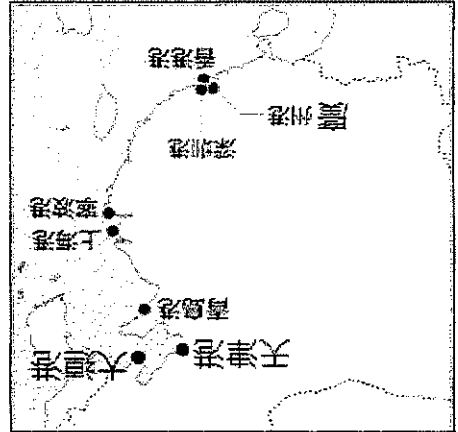
- (A) 大雨大災，無雨旱災
- (B) 蜀犬吠日
- (C) 人家半鑿山腰住，車馬多從頭頂過
- (D) 黃河水，一碗水，半碗泥

() 10. 承上題，此景觀為「地上懸河，千里大堤鎖狂河」，請問此景觀最可能出現在下圖中的哪個河段？



- (A) 甲 (B) 乙 (C) 丙 (D) 丁。

() 11. 下圖為中國重要港口位置圖，有些港口位於岩岸，游闊水深，有些港口有泥沙淤積的問題，下列哪一個港口組合的海岸類型並不相同？

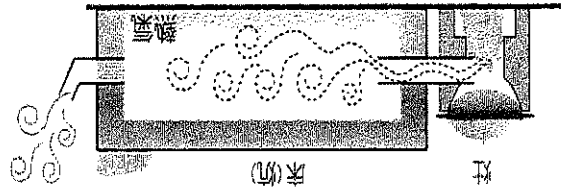


- (A) 大連港、青島港 (B) 天津港、上海港
- (C) 營口港、濰州港 (D) 大連港、營口港

() 12. 北部地區的礦產資源豐富，因此冀北發展工業的基礎與優勢，主要核心區為京津唐及遼中南工業區，但是近年來出現許多問題，需要積極轉型。下列哪一項不是當地所面臨的問題？

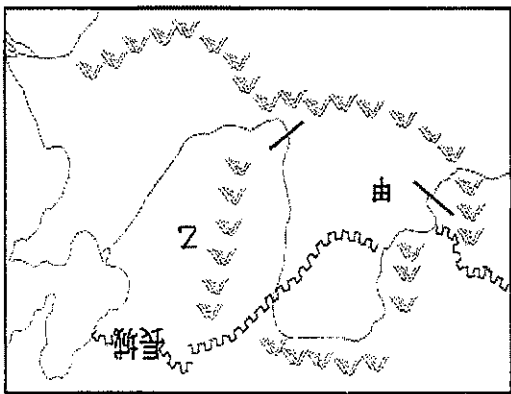
- (A) 礦產資源枯竭 (B) 國營事業缺乏效率
- (C) 工廠設備老舊 (D) 工資逐漸上漲

() 13. 子齊家中設有「炕」，平常將燒柴煮泡麵的餘熱導引到通鋪下面(如圖)，可使屋內較為溫暖，這項設施與其居住區哪項自然環境特色最相關？



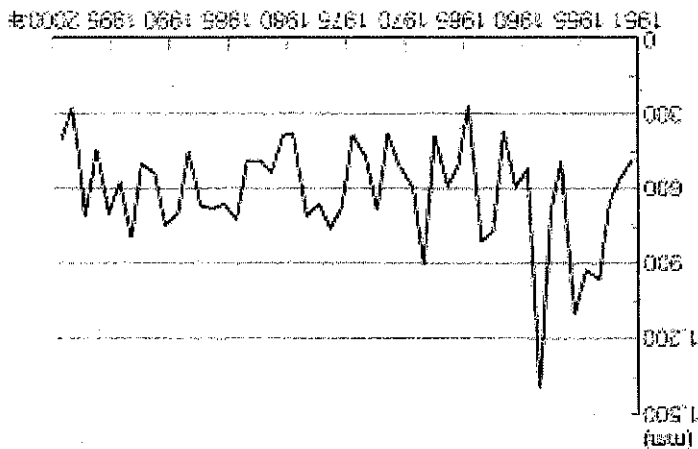
- (A) 一月均溫低於 0°C (B) 降雨集中夏季
- (C) 年雨量變率大 (D) 夏季盛行東南季風。

() 14. 下圖為華北地區示意圖，請問下面四位同學敘述何者正確？



- (A) 信實：甲為黃土高原，因風力侵蝕，地表崎嶇不平
- (B) 宜登：乙為華北平原，土質肥沃，為中國主要的稻米產區
- (C) 詠承：甲為高原，乙為平原，太行山為甲區和乙區的界山
- (D) 家楷：甲乙兩區皆為黃河流域，航運興盛，帶動貿易發展

() 15. 下圖為北京市歷年降水量變化曲線圖，從圖中可得知下列哪項事實？

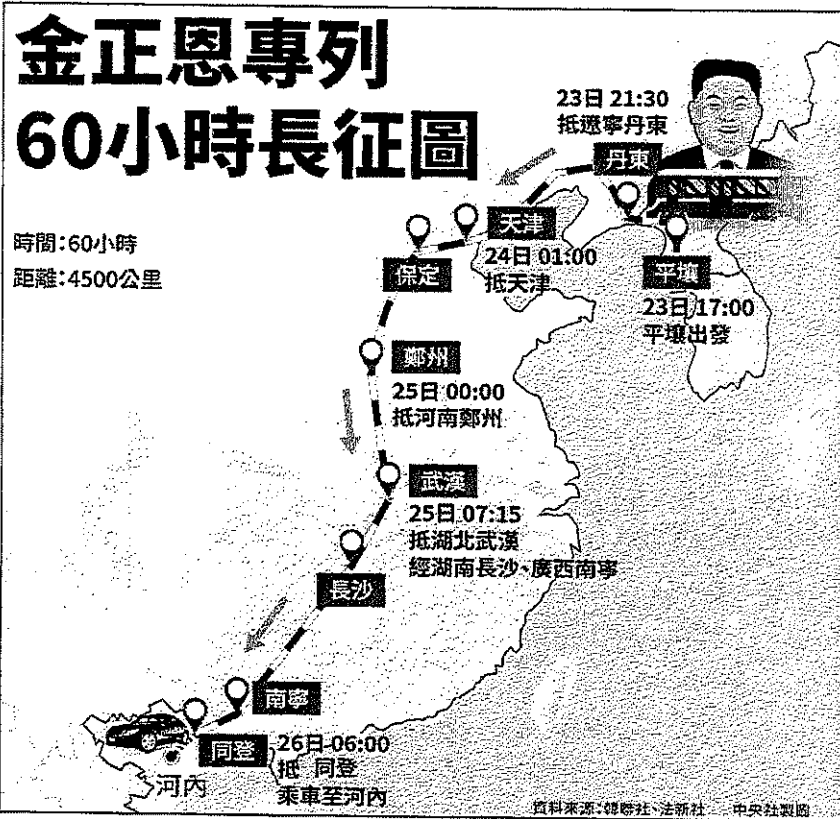


- (A) 年溫差變化大
- (B) 年降水量變率大
- (C) 河川結冰期長
- (D) 季風向變化大。

《尚奇試題》

二、題組(16~30每題3分，31~35每題2分)

◎下圖是金正恩今年2月23日前往川金會的路線圖，歷經60小時到達越南，請回答下列問題：



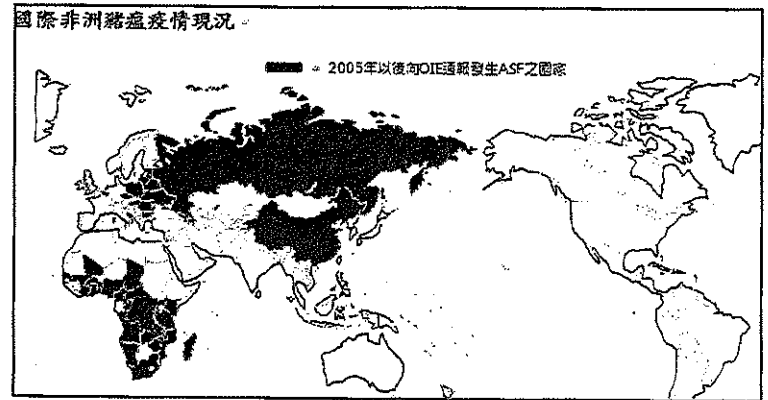
- () 16. 金正恩從北韓出發須越過哪一個天然國界到達中國？
 (A)喜馬拉雅山 (B)長白山
 (C)橫斷山脈 (D)太行山
- () 17. 下列哪一種感受最不可能是一路往南的金正恩會經歷到的？
 (A)越往南越溫暖 (B)越往南日溫差越大
 (C)南北風向不同 (D)北部空氣品質較差
- () 18. 天津市是金正恩路過最發達的城市，下列關於天津的敘述，何者錯誤？
 (A)為中國的直轄市之一 (B)位於華北平原
 (C)屬於海河流域 (D)中國首都所在地
- () 19. 依據金正恩的路線圖，金正恩沒有經過下列哪一個地形？
 (A)遼河平原 (B)兩湖盆地
 (C)嶺南丘陵 (D)珠江三角洲

◎「一線城市」是中國民間對城市分級的最高等級，與行政級別上的國家中心城市不同，劃分依據城市本身的經濟競爭力及工商業發展程度，普遍被公認為中國一線城市的包括北京市、上海市、廣州市、深圳市，統稱「北上廣深」，請回答下列問題：

- () 20. 「北上廣深」四個都市中，位於「珠三角」地帶的城市有幾個？
 (A)1個 (B)2個 (C)3個 (D)4個
- () 21. 其中離香港最近的經濟特區為下列哪一個？
 (A)北京市 (B)上海市 (C)廣州市 (D)深圳市

- () 22. 有中國矽谷之稱的中關村高科技園區位於哪一個城市？
 (A)北京市 (B)上海市 (C)廣州市 (D)深圳市


◎下圖為非洲豬瘟疫區圖，中國從瀋陽第一件疫情的死亡豬隻中，發現養豬場的非洲豬瘟病毒都有與北方鄰國俄羅斯有相同的基因型。請回答下列問題



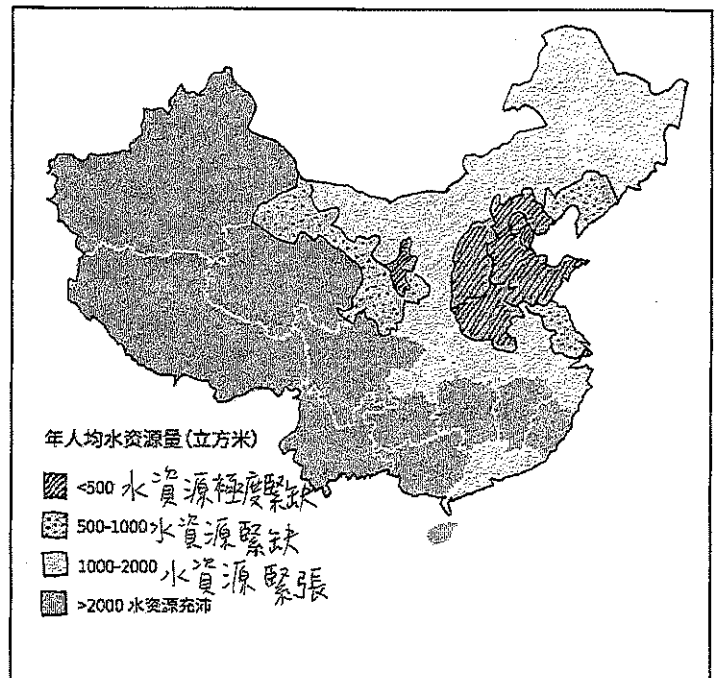
- () 23. 中國第一起非洲豬瘟疫區的瀋陽位於哪個地理區？
 (A)東北 (B)華北 (C)華中 (D)華南

- () 24. 中國與俄羅斯的國界為下列何者？
 (A)圖們江 (B)鴨綠江 (C)松花江 (D)黑龍江

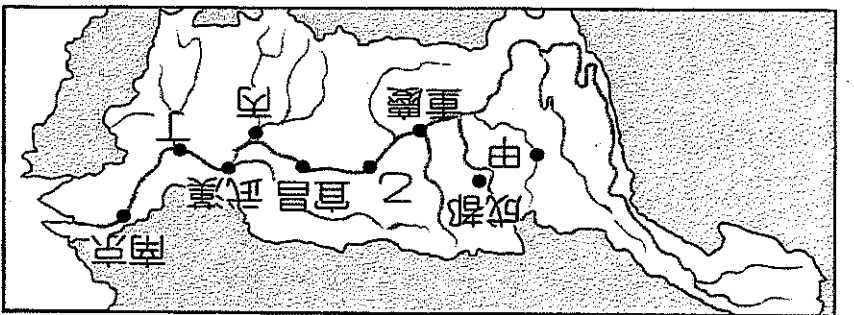
- () 25. 博聖前往中國某城市旅遊，參觀了右圖特別的東正教風格的教堂，其屋頂像彥博老師的髮型讓博聖印象深刻，這個建築物風格受到俄羅斯影響的城市為何？
 (A)大連 (B)哈爾濱
 (C)北京 (D)天津



◎下圖是中國的人均水資源量，請回答下列問題：



- () 26. 為了解決主要缺水地區的困境，中國啟用下列哪一項工程？
 (A)三北防護林 (B)京津風沙源治理工程
 (C)長江三峽水利工程 (D)南水北調
- () 27. 造成圖中華北地區省分供水吃緊的原因，與下列何者無關？
 (A)雨量稀少 (B)乾季較長 (C)人口密集 (D)工業發展



◎下圖為長江流域圖，請回答下列問題：

() 28. 長江三峽大壩的位置在下圖中哪一個地區？
(A) 甲 (B) 乙 (C) 丙 (D) 丁

() 29. 長江三峽大壩興建完工後，因長江上游的水位提高，將會有大型的輪船可以到達下列哪一個都市？

- (A) 重慶 (B) 宜昌 (C) 武漢 (D) 南京

() 30. 長江三峽大壩是當今世界上最大規模的水利工程

，關於大壩興建所帶來的利弊得失，至今在中國仍

辯論不斷，請問：關於三峽大壩興建後的影響，下

列敘述何者正確？

- (A) 減少甲地發生水患的可能性

- (B) 使乙地上游的部分居民被迫搬遷

- (C) 淹沒丙地的古蹟

- (D) 使長江流域和珠江流域相互連結

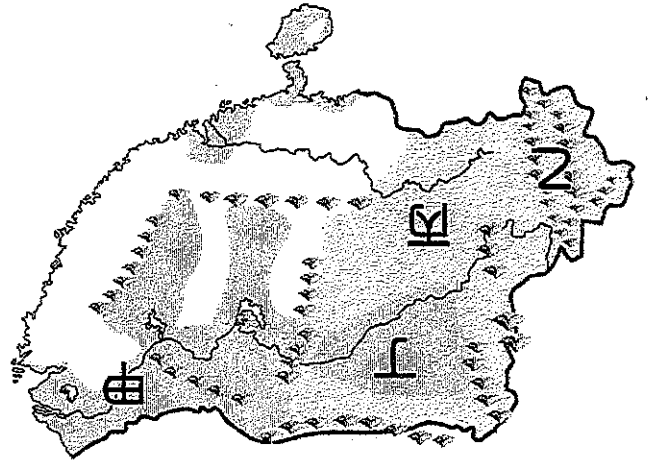
() 31. 關於圖中長江各地河川治理措施的配對，何者最

為正確？

- (A) 甲地：修築堤防 (B) 乙地：汴梁管控

- (C) 丙地：退田還湖 (D) 丁地：植樹造林。

◎下圖為中國南部地區地形圖，請回答下列問題：



() 32. 「石漠化」，亦稱石質荒漠化。指在石灰岩地質的

環境下，由於人類不合理的經濟活動而造成植被破

壞，水土流失而導致地表土壤損失，基岩裸露，土

地喪失農業利用價值和生態環境退化的現象。中國

石漠化最嚴重的地區應位於圖中何處？

- (A) 甲 (B) 乙 (C) 丙 (D) 丁



() 33. 右圖這種少

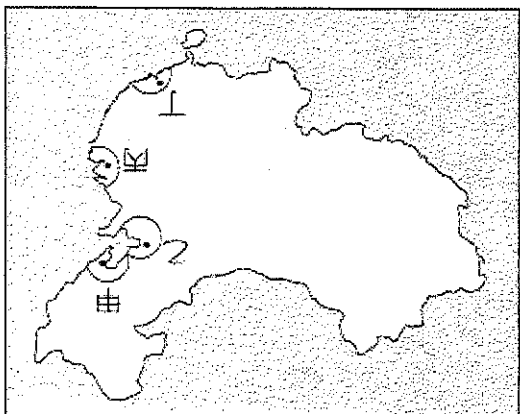
數民族使用的

交通工具溜索

位於何處？

- (A) 甲 (B) 乙

- (C) 丙 (D) 丁



◎下圖為中國重要的工業地帶分布圖請回答下列問題：

() 34. 中國設立經濟特區的策略十分成功地帶動發展，請

問經濟特區主要分布在哪個區域附近？

- (A) 甲 (B) 乙 (C) 丙 (D) 丁。

() 35. 下列敘述何者正確？

- (A) 甲區為中國首都所在

- (B) 乙區的優勢為礦產資源豐富

- (C) 丙區是中國向南海的主要門戶

- (D) 丁區有中國最大金融中心

本試題到此結束~請再仔細檢查畫卡是否有誤，

祝大家考試順利!!