


請讀完下文再開始作答。

1. 本學科試題三張五面，交卷時只須交答案卡（“座號”請務必劃記正確）。
2. 作答時必須使用 2B 黑色鉛筆，將正確答案劃記在答案卡上，否則不予計分。
3. 答案卡上劃記必須正確，答案塗改須擦拭乾淨，若劃記錯誤或劃記不清楚，影響電腦讀卡判讀，將不予計分。
4. 本試題卷分為兩部份：一、選擇題，1~27 題，每題 2 分，共 54 分；二、題組，28~50 題，每題 2 分，共 46 分。

一、選擇 27 題，每題 2 分

1. 右圖蹺蹺板的狀況可能是描述哪個時期的歐洲？

- (A) 第一次世界大戰前
- (B) 第一次世界大戰後
- (C) 第二次世界大戰前
- (D) 第二次世界大戰後。



2. 「他的目標，也是義大利人長期渴望的，是要建立一個統一的義大利帝國，因此他致力推動國內建設，並且他嘗試尋找另一條更有效的途徑成功地勸說虛榮心重的法國皇帝拿破崙三世，要他也為義大利的自由和統一出力；他可以從中得到好處，甚至可以損害在義大利有領地的敵國利益……。」請問：上述的「他」指的是誰？

- (A) 加富爾
- (B) 馬志尼
- (C) 俾斯麥
- (D) 凱末爾。

3. 右圖是一幅西元 1895 年的政治漫畫，美國被畫成一個正準備吞食中美洲島國的人臉模樣。

請問：美國將美洲視為自己的勢力範圍，最早可以追溯到下列哪一種主張？

- (A) 獨立宣言
- (B) 門羅宣言
- (C) 解放黑奴宣言
- (D) 門戶開放宣言。



4. 下表是歐洲國家占有非洲土地總面積的百分比，

請問：此資料最適合放置在下列哪一個主題中？

國家	法國	英國	德國	比利時	葡萄牙	義大利	西班牙
百分比(%)	33	30	8	8	6	5	1 以下

- (A) 工業革命：新帝國主義發展
- (B) 民族主義：非洲的新興國家
- (C) 區域分工：非洲模式的崛起
- (D) 地理大發現：建立海外殖民地。

5. 有關「義大利」的歷史，下列敘述何者正確？

- (A) 上古時期是希臘文化的發源地，出現最早的民主城邦
- (B) 中世紀時曾被東哥德人佔領，半島北部卻是近代史上文藝復興發源的重鎮
- (C) 曾受路易拿破崙統治而激發當地民族意識，終於在 19 世紀後期完成國家的統一
- (D) 第一次世界大戰時，因加入同盟國陣營而成為戰敗國。

6. 右表是某個帝國的政治發展演變情形，由表中可觀察出此帝國應是下列何者？

- (A) 拜占庭帝國
- (B) 德意志帝國
- (C) 阿拉伯帝國
- (D) 鄂圖曼土耳其帝國。

時間	政治發展演變
十三世紀	興起於安納托利亞高原
十六世紀	領土橫跨歐亞非三洲，掌控巴爾幹半島
十九世紀	因英、法、俄的侵略而衰弱
二十世紀	參與第一次世界大戰戰敗，帝國瓦解


7. 20 世紀初，有一位政治人物提出以下的主張：「希望使世界適合人類生存和安居樂業，所有愛好和平的國家都能獲得正義的保證，依照自己的生活方式生活，決定自己的制度，並得到世界其他民族的公平待遇，不致受到暴力和損人利己的侵略。」請問：下列哪些事件受到此主張的影響？

- (甲) 朝鮮「三一運動」
  - (乙) 台灣議會設置請願運動
  - (丙) 希臘成為巴爾幹半島第一個獨立的國家
  - (丁) 西來庵事件
  - (戊) 中國「五四運動」
  - (己) 波利瓦帶領拉丁美洲獨立建國
- (A) 甲乙丙丁戊己
  - (B) 甲乙丁戊己
  - (C) 甲乙丙戊
  - (D) 甲乙戊。



桃園市立自強國民中學 107 學年度第二學期第一次段考 9 年級歷史科試題 5-2

8. 某位作家經常在作品中抒發對工業革命後，社會貧富不均、階級差別加劇的不滿。如其中一個角色說：「我希望冬天趕快來…肚子餓了可以用水充飢呀…雪可以用牙齒吱吱地嚼，可是水就不行。」請問：這樣的寫作風格較符合下列哪種文風？  
(A)文藝復興 (B)浪漫主義 (C)方言文學 (D)寫實主義。
9. 一篇發表於〈科學〉期刊的研究指出「距今四百四十萬年前的一名女性『先人』骨骸顯示，人類並非從類似黑猩猩的祖先演化而來，而是一位被暱稱為『雅蒂』(Ardi)的始祖地猿可能是已知最早的人類遠祖。雅蒂的骨骸於 1992 年在某國東北部的大裂谷發現，1994 年被確定為新人種。研究人員提出包括人類、大猩猩、黑猩猩與紅毛猩猩都屬類人猿。」發現雅蒂的地點，是 19 世紀歐洲對非洲侵略中少數的獨立國。請問：該國是指何國？  
(A)衣索比亞 (B)獅子山 (C)委內瑞拉 (D)摩洛哥。
10. 「20 世紀初，英、德兩國展開激烈的海上軍備競賽，英國開始製造一種新型的無畏戰鬥艦，德國一得知此消息後，立刻修改《海軍法案》，把原計畫修建的大軍艦一律改為製造無畏戰鬥艦。英國政府更決定，德國每製造一艘船艦，英國就要添造兩艘。從 1883 至 1908 年，英國海軍軍費增加 3 倍，德國則增加 9 倍。俄、法、奧各國也展開瘋狂的陸軍競賽……。」請問：上述引文發生的原因為何？  
(A)地理大發現後，各國為競爭海外殖民地數量，因此加強軍事實力  
(B)各國為報復義和團隨意殺害歐洲傳教士，準備動員八國聯軍  
(C)三國同盟和三國協約展開軍備競賽  
(D)各國擴張軍備，聯合對抗日漸坐大的共產勢力。
11. 第 31 屆夏季奧林匹克運動會，在右圖中的甲國舉行，有 206 個國家參與賽事，為歷史新高。台灣舉重女將許淑淨也在女子 53 公斤級勇奪金牌，為台灣爭光。請問：來自世界各地的運動迷在當地會聽到居民以何種語言交談？  
(A)法語 (B)葡萄牙語 (C)西班牙語 (D)義大利語。
12. 第一次世界大戰期間，有位記者訪問了四位士兵的心路歷程。請問：何人來自美國？  
(A)馬克：「由於我軍未能即時攻陷巴黎，西線陷入壕溝戰。」  
(B)菲迪：「我國王儲被殺，對方不同意最後通牒，我只好宣戰。」  
(C)洛夫：「我國為了支援同是斯拉夫民族的塞爾維亞而參戰。」  
(D)史蒂芬：「我國船隻被對方潛艇擊沉，政府決定加入戰爭。」
13. 右圖為一個政治漫畫「大橋的缺口」，漫畫家把國際聯盟比喻為一座大橋，大橋最關鍵的一塊磚頭卻空缺了，藉以諷刺哪一國發起國際聯盟，但自己卻沒有加入，造成國際聯盟聲威下滑？  
(A)英 (B)美 (C)中 (D)法。
14. 「當調查團到達東北奉天時，當地中國人皆表示日軍是非法占領，日本卻宣稱行動是維持該區和平，……隔年，調查報告書出爐，否認滿洲國合法地位，並要求日本將其交還中國，否則進一步實行經濟制裁，但制裁手段窒礙難行，日本更宣布退出此國際組織……。」根據內容，請問：下列相關敘述，何者錯誤？  
(A)背景應是中國軍閥割據地方時期 (B)文中的調查團應是國際聯盟所派出  
(C)文中日本行動很可能是指九一八事變 (D)此國際組織因缺乏軍事制裁能力，因此功能不彰。
15. 某書的簡介如下：「書中描寫一場革命結束了長達三百多年的沙皇專制統治，成立臨時政府，但在八個月之後，布爾什維克黨的革命又推翻了曇花一現的臨時政府。」此書最可能是下列何者？  
(A)1789 年法蘭西的革命 (B)1871 年德意志的崛起 (C)1917 年變動的俄羅斯 (D)1949 年共產中國誕生。
16. 齊小理老師請同學用精簡的話語介紹佛洛伊德的學術貢獻，下列哪一句話最適切？  
(A)發現萬有引力定律，奠定近代科學的基礎  
(B)研究人類群體行為，提出重要的社會理論  
(C)探索人的意識狀態，建構系統的心理學說  
(D)重新解釋物質運動，改變傳統的時空觀念。





17. 閱讀以下兩段資料：

資料一：當時，最普遍的工作就是家庭幫傭，幾十萬名婦女從事這種工作；也有許多婦女在紡織工廠工作，最糟糕的是許多婦女必須從事苦力活，按件計酬，沒有保障。

資料二：我原本在別人家中幫傭，每天從上午6點做到晚上9點，極為厭惡這種工作。後來一家軍火工廠招工，我前往應徵，負責製作彈藥引信，一天工作12小時，薪水是原本的兩倍半。

請問：這兩段資料最適當的主題為何？

- (A) 第一次世界大戰前後的婦女就業狀況 (B) 19世紀不同地區的婦女地位探討  
(C) 新帝國主義擴張對婦女的影響 (D) 共產政權建立，人民生活改善。

18. 2008年，次級房貸所引起的風暴重創各國金融體系，令人不禁害怕金融海嘯是否會造成經濟大恐慌的歷史重演。請問：經濟大恐慌發生在下列哪一時代？

- (A) 一戰時 (B) 戰間期 (C) 二戰時 (D) 二戰之後。

19. 承上題：下列何者是美國舒緩經濟蕭條、失業率攀升的方式？

- (A) 提高關稅 (B) 提高基本薪資 (C) 發放消費券刺激消費 (D) 推動大型公共工程。

20. 小宇最近看的歷史傳記電影中，描述男主角從政府機構中辭職，也不讓他的孩子讀公立學校，甚至也開始學習使用織布機，自己做衣服。由於不願意繳稅，被政府逮捕他也不畏懼，仍堅持理想。請問：下列何者最有可能是這部電影的時空背景？

- (A) 1920年代，台灣 (B) 1920年代，印度 (C) 1950年代，朝鮮 (D) 1950年代，土耳其。

21. 第一次世界大戰後，美國不簽署《凡爾賽條約》的主要背景為何？

- (A) 美國提倡門戶開放政策 (B) 條約內容不符合公平正義原則  
(C) 國內盛行孤立主義 (D) 經濟大恐慌發生。

22. 1920年，美國在第一次世界大戰後，首度舉行總統大選，由哈定當選第29任總統。請問：依當時政治氛圍，哈定的競選主張最有可能是下列何者？

- (A) 美國目前最迫切的是解決失業問題，我將推行「新政」改革  
(B) 日本偷襲行動永遠留下不名譽的罪名，我們必獲得最後勝利  
(C) 參加第一次世界大戰非明智之舉，我主張回復常態，不捲入歐洲事務  
(D) 美國要扮演世界警察的角色，因此我們必須在國際聯盟中取得主導的地位。

23. 19世紀和20世紀，不只是政治潮流的改變，繪畫的風格也產生不同的技巧和風格，下列敘述何者正確？

- (A) 19世紀的畫風受非洲雕刻藝術的影響，20世紀的畫風則受相機出現的衝擊  
(B) 立體派的著名畫家為畢卡索，印象派代表有莫內等人  
(C) 兩個畫派都是注重寫實，請求逼真實際  
(D) 立體派以視覺捕捉光線和色彩，印象派用簡單圖形表現。

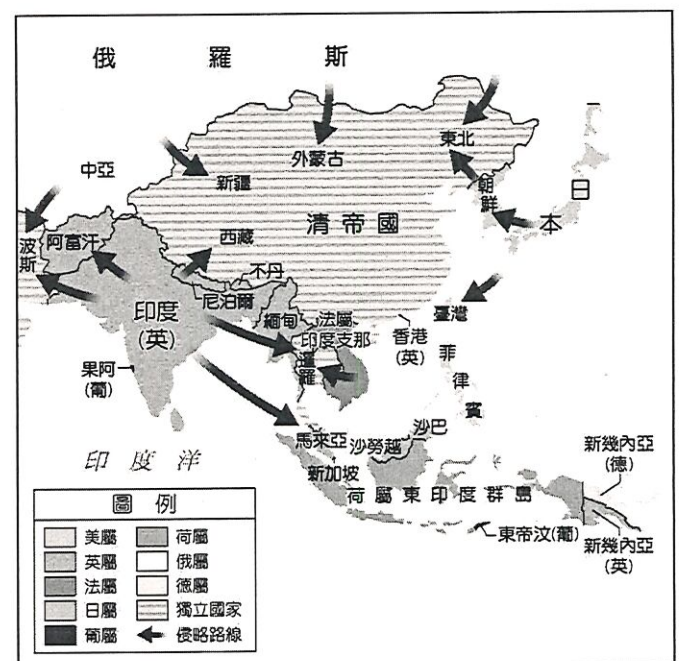
24. 同學們討論一張19世紀後期的亞洲地圖，如右圖：

請問下列何人對圖片的見解正確？

- (A) 甲：英法聯軍使中國失去藩屬越南及緬甸  
(B) 乙：荷蘭佔領印尼群島與臺灣作為殖民  
(C) 丙：日本和俄國共同競爭中國東北的利益  
(D) 丁：美國提出門羅宣言使中國免於瓜分。

25. 關於第一次世界大戰後所召開的「巴黎和會」，何者正確？

- (甲) 參加國：所有參戰國  
(乙) 主要掌控者：克里蒙梭、邱吉爾、威爾遜，合稱「三巨頭」  
(丙) 指導原則：十四點原則  
(丁) 成就：成立「共產國際」是較正面的成就。  
(A) 甲乙丙 (B) 乙丙 (C) 乙丁 (D) 丙。





桃園市立自強國民中學 107 學年度第二學期第一次段考 9 年級歷史科試題 5-4

- 26.「和世界先進國家相較起來，我們至少落後了五十年至一百年以上。現實要求我們應當在十年內跑完這一段長距離。」說這話的人認為國家應該要推行計劃經濟，全力發展國防與重工業建設。請問：下列哪位人物最有可能有此主張？  
(A)史達林 (B)俾斯麥 (C)明治天皇 (D)凱末爾。
- 27.雷馬克的著名作品《西線無戰事》一書，描述德國在西線戰事中的戰敗事蹟。在納粹興起之後，這本書因為描寫德國不光榮的過去，使得此書被焚毀，且雷馬克亦成為通緝犯。請問：雷馬克的這本書應該是以哪一場戰爭為背景？  
(A)拿破崙戰爭 (B)普法戰爭 (C)第一次世界大戰 (D)第二次世界大戰。

二、題組 23 題，每題 2 分

(一)大仁閱讀某本回憶錄：「戰爭爆發那年，我才10歲，剛開始民族主義高漲，大家對勝利充滿期待；但當國家面臨困境後，打仗的熱情逐漸消退。13歲時，戰事尚未結束，國內已接連發生兩次革命，先是推翻沙皇統治，成立臨時政府，後來，臨時政府也控制不住局面，布爾什維克黨發動革命，建立新政權，立即推行了許多新政策。之後，我們的日子變得非常難過，政府每週只配發兩小塊麵包。到了冬天，住在首都莫斯科的我們，沒有電燈、沒有水、沒有暖氣，天氣嚴寒，我們只得把書架和房間的夾板拆下燒火取暖。」

- 28.上文所描述的戰爭應是下列何者？  
(A)第一次世界大戰 (B)日俄戰爭 (C)第二次世界大戰 (D)普法戰爭。
- 29.上文中「布爾什維克黨」成功建立新政權，是哪場革命？  
(A)七月革命 (B)二月革命 (C)十月革命 (D)清教徒革命。

(二)有「歐洲耶路撒冷」之稱的城市塞拉耶佛，有著它的美麗與哀愁。

- 30.在塞拉耶佛舊城區路面，有一東西文化相遇線，城市風貌多元。請問歷史上哪一個政權未曾統治過巴爾幹地區？  
(A)阿拉伯帝國 (B)拜占庭帝國 (C)亞歷山大帝國 (D)鄂圖曼土耳其帝國。
- 31.2014年6月28日塞城市政府舉辦音樂會，紀念百年前改變歷史的一天，主要曲目包括舒伯特的《第8號交響曲》「未完成」與布拉姆斯的《命運之歌》。請問：1914年此地發生何事？  
(A)普法戰爭，法王拿破崙三世兵敗被俘 (B)希臘獨立建國  
(C)奧匈帝國王儲遇害，引爆第一次世界大戰 (D)拿破崙戰敗後，列強在此召開會議討論歐洲局勢。

(三)18世紀的啟蒙運動開啟了凡事強調理性與普世的原則，「天賦人權」、「主權在民」、「言論自由」等思想價值在各地流行；而「民族主義」者，更主張一個民族建立一個國家，以增進民族利益。請問：

- 32.他出生於委內瑞拉，帶領委內瑞拉、哥倫比亞、厄瓜多、祕魯和玻利維亞五國先後從殖民奴役中獨立出來。他的理想為統一整個拉丁美洲，建立一個免於殖民、奴役、團結且平等的國度。請問：「他」應是下列何人？  
(A)玻利瓦 (B)加富爾 (C)德川家康 (D)加里波底。
- 33.承上題，上述國家是利用什麼機會進行獨立運動？  
(A)美國獨立運動 (B)拿破崙入侵西班牙、葡萄牙 (C)普法戰爭 (D)第一次世界大戰。
- 34.拉丁美洲國家的獨立運動，因受到哪些國家的支持，而紛紛成立新國家？  
(A)西班牙、義大利 (B)德國、葡萄牙 (C)美國、義大利 (D)英國、美國。
- 35.當時文藝的發展，何者重視地方民俗，強調悠久且優越的民族傳統，亦有助於民族主義的發展？  
(A)立體派 (B)印象派 (C)浪漫主義 (D)寫實主義。

(四)19世紀有不少民族國家建立，其中又以德意志和義大利的建國最具代表性。請問：

- 36.西元2015年，美國時代雜誌風雲人物為德國總理梅克爾，她帶領歐洲脫離連串的債務危機，並迎接百萬敘利亞的難民進入歐洲。請問：從古至今德國這片土地上曾有不同的發展階段：(甲)神聖羅馬帝國 (乙)日耳曼邦聯 (丙)東法蘭克王國 (丁)德意志帝國。依照時間先後順序排列何者正確？  
(A)丙乙甲丁 (B)乙甲丙丁 (C)乙丁丙甲 (D)丙甲乙丁。

【背面尚有試題】



37.當時干預兩地完成統一的強國是哪兩個國家？

- (A)普魯士、奧地利 (B)俄國、奧地利 (C)英國、法國 (D)奧地利、法國。

38.為促進日耳曼地區的工商業發展，於是有人倡議成立一個經濟上的統一組織，以減少邦與邦之間的內部貿易競爭。這個組織為何？

- (A)關稅同盟 (B)日耳曼邦聯 (C)萊茵邦聯 (D)歐盟。

39.領導薩丁尼亞，完成義大利建國統一大業的國王是誰？

- (A)威廉一世 (B)克里蒙梭 (C)斐迪南 (D)伊曼紐二世。

40.義大利建國三傑中，何者扮演靈魂的角色，以「恢復古羅馬光榮」為號召，喚起民族意識？

- (A)加富爾 (B)加里波底 (C)馬志尼 (D)伊曼紐二世。

(五)日本第125代天皇-明仁天皇今年已85歲，由於年事已高、身體健康有恙，近年萌生退意，後續將由何人接班，引發各方揣測。回顧歷史，天皇信仰源於神話《古事記》與《日本書紀》，是日本最高神祇天照大神的後裔，一直流傳至今。關於日本歷史發展，試回答下列問題：

41.17~18世紀位於東亞的日本實施鎖國政策，中國清世宗則實施禁教，之後兩國皆只各開放何處與外國進行通商？

- (A)廣島、泉州 (B)馬關、上海  
(C)京都、天津 (D)長崎、廣州。

42.1853年，某國率領軍艦到日本江戶灣，企圖用武力威脅當時的幕府開放通商，後來果然得逞，因為船身是黑色的，所以日本人稱為「黑船事件」，請問：「某國」應是指下列哪一國？

- (A)德國 (B)法國 (C)英國 (D)美國。

43.西元1868年，日本第122代天皇-明治天皇實施西化運動，日本國力大增，由原本的被侵略國轉為帝國主義國家，向外侵略他國。西元1874年藉由原住民殺人事件攻打台灣，與清朝簽訂北京專約，之後併吞何地？

- (A)朝鮮 (B)山東 (C)琉球 (D)台灣。

44.1885年日本思想家福澤諭吉曾提出「脫亞論」，認為日本不是亞洲的國家，而應該是歐洲的國家；日本有義務教化亞洲落後的國家，中國更是日本首先應該教化的對象。請問：「脫亞論」與當時的哪個學說相似？

- (A)民主主義 (B)十四點原則 (C)社會主義 (D)社會達爾文主義。

(六)右圖是第一次世界大戰前夕歐洲形勢圖。請回答下列問題：

45.大戰的導火線爆發於哪一組國家的衝突？

- (A)甲己 (B)乙辛  
(C)乙丙 (D)甲辛。

46.大戰期間，哪一國發生革命而退出戰場？

- (A)甲 (B)丙 (C)戊 (D)壬。

47.因為哪一國實施「無限制潛艇政策」導致美國參戰？

- (A)甲 (B)乙 (C)丙 (D)戊。

48.中國參加第一次世界大戰時，是正值中國哪一時期？

- (A)軍閥統治 (B)北伐時期  
(C)十年建設 (D)八年抗戰。

49.一戰之後所舉辦的巴黎和會有所謂的三巨頭。除了美國是其一之外，其餘兩大巨頭應為右圖中哪兩個國家？

- (A)乙、丙 (B)戊、己 (C)甲、壬 (D)丙、庚。

50.右為一戰後歐洲某畫報，諷刺皇室政權瓦解，請問：這景況出現在圖中哪些國家？

- (A)甲乙丙壬 (B)乙丙辛己 (C)丙戊庚辛 (D)甲戊己壬。

