

桃園市立自強國中 107 學年度下學期八年級第一次定期考查歷史科題目卷 P4-1

請讀完下文才開始作答

1. 本學科試題二張四面，交卷時只須交答案卡。
2. 每題都有 A、B、C、D 四個選項，其中只有一個選項是正確的，請將正確答案選出。
3. 作答時必須使用 2B 黑色鉛筆，將正確答案劃記在答案卡上，否則不予計分。
4. 答案卡上劃記必須正確，答案塗改須擦拭乾淨，若劃記錯誤或不清楚影響電腦讀卡判讀，將不予計分。
5. 本試題卷共有選擇題 50 題，每題 2 分，共 100 分。

一、選擇題：

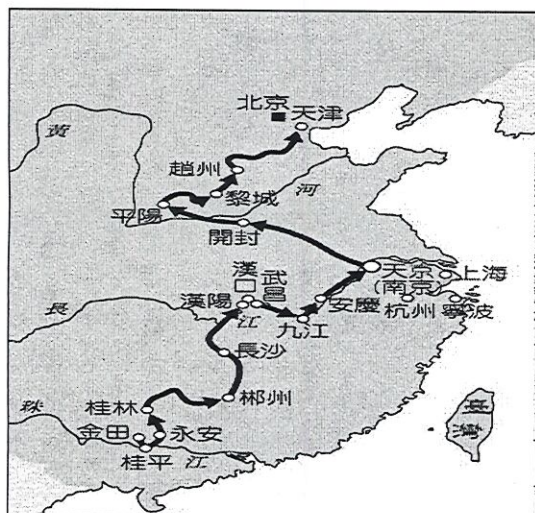
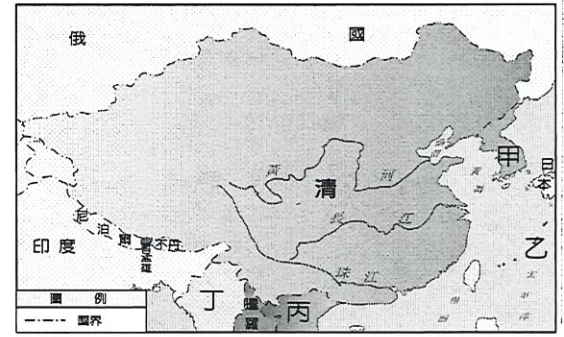
1. () 鴉片戰爭是清末西方勢力入侵的第一場戰役，請問：此戰役發生的主要原因為何？(A)讓中國見識西方的船堅砲利 (B)為擴張在亞洲的領土疆界 (C)為保障在中國的貿易利益 (D)為介入皇位繼承宮廷政爭。
2. () 清朝立國以來，首都第一次淪陷是在哪一場戰爭？(A)鴉片戰爭 (B)英法聯軍 (C)中法戰爭 (D)甲午戰爭。
3. () 清末，中國受到內憂外患侵擾之際，在北方的俄國也蠢蠢欲動，趁機蠶食鯨吞中國。下列有關俄國侵略的敘述，何者正確？(A)因調停中國與英法衝突有功，簽訂中俄《天津條約》 (B)利用勘定國界方式併吞中國東北土地 (C)中國穩住烏蘇里江以東土地 (D)《璦琿條約》是中國失去土地最多的條約。
4. () 結束清末課程後，八年 3 班歷史小劇場開演，韶霆在歷史劇中扮演某位人物，他的部分台詞如下：「天下多男人，多是兄弟之輩；天下多女子，盡是姐妹之群，、、、，我是上帝的次子，來到世間建立平等社會」。請問：韶霆應扮演下列哪位歷史人物？(A)曾國藩 (B)洪秀全 (C)康有為 (D)左宗棠。
5. () 鴉片戰爭前，外商不能與中國官方往來，只能透過中國商人合組的某個民間機構進行交易，這個民間機構應是下列何者？(A)洋行 (B)公行 (C)市舶司 (D)行會。
6. () 如果你是清末的讀書人，看到外國人憑著武力入侵中國，所以希望能從事外交工作來盡一己之力，請問可以進入何處培養外語能力？(A)廣方言館 (B)武備學堂 (C)福州船政局 (D)輪船招商局。
7. () 太平天國於清末起事時，在短時間內便吸引大批貧窮的民眾加入，並在中國許多地區建立根據地，使清軍無力抵抗。請問：太平天國當時能吸引民眾加入的主要原因為何？(A)基督教思想助人得救 (B)保存儒家傳統文化與精神 (C)真正落實兩性平等 (D)公有共享的理想。
8. () 附圖是電影中光緒皇帝與慈禧太后的對話。請問：太后提及的「改革」最可能是指下列何者？(A)戊戌變法 (B)自強運動 (C)門戶開放 (D)大化革新。



9. () 某本歷史書中有一段話如下：「清朝將臺灣、澎湖、遼東半島一起割讓給日本，但因為遼東半島有三國聯合干預，最後中國以巨款將其贖回……。」請問：這裡提到的三國是指哪些國家？(A)俄、德、法 (B)英、美、法 (C)英、德、法 (D)俄、德、英。
10. () 「八股文」取士開始於明朝，但長期壓抑了讀書人思想，影響日後中國發展甚為深遠。請問：廢除八股文取士的提議最早在清末哪一位帝王的改革中提出？(A)道光皇帝 (B)咸豐皇帝 (C)同治皇帝 (D)光緒皇帝。
11. () 北洋艦隊是清廷建立的一支現代化海軍武力，曾被評比為世界第八，亞洲第一。其中定遠號是清廷向德國訂做的一艘巨型鐵甲戰鬥軍艦，早年曾赴日本訪問，讓日本深受震撼。請問：北洋艦隊成立於清末哪一場改革運動期間？(A)立憲運動 (B)庚子後的新政 (C)戊戌變法 (D)自強運動。
12. () 承上題，北洋艦隊的定遠號卻在光緒 20 年的一場對外戰役受到重創，並於隔年 2 月因嚴重受損而自沉。請問：這場對外戰役是指下列哪一場戰爭？(A)甲午戰爭 (B)鴉片戰爭 (C)英法聯軍 (D)中法戰爭。
13. () 多賢與志效參觀臺灣最大的海運公司「陽明海運公司」，發現「陽明海運公司」創立於清同治年間(西元 1872 年)，其前身為清朝改革設施中的「輪船招商局」。由此公司的歷史可聯想當時清朝應是遭遇何種刺激才開始改革並逐步走向現代化？(A)鴉片戰爭 (B)英法聯軍 (C)中法戰爭 (D)甲午戰爭。
14. () 曾國藩組訓的「湘軍」，紀律嚴明，向心力強，主要是以什麼作為號召，吸引知識分子加入以對抗「太平軍」？(A)敬拜上帝 (B)仇洋反教 (C)維護傳統文化 (D)主張土地私有制。
15. () 英法聯軍之役又被稱為第二次鴉片戰爭，主要是因為英國在鴉片戰爭中並未完全取得其所想要的權利，因此，藉機又發動第二次的戰爭。英法聯軍之役發生後，中國又簽訂不平等條約。以下條約的簽訂，哪些是與英法聯軍之役有關？(甲)《南京條約》(乙)《天津條約》(丙)《北京條約》(丁)《璦琿條約》(戊)《馬關條約》(A)甲乙丙 (B)乙丙丁 (C)丙丁戊 (D)乙丙戊。
16. () 「六三禁煙節」的由來，是為了紀念道光 20 年主導廣州「虎門銷煙」的哪一位人物？(A)林則徐 (B)曾國藩 (C)康有為 (D)李鴻章。

尚 有 試 題

17. () 從清末到民初，中國知識分子面對西方勢力入侵的衝擊，曾發起多次救國運動。若以「戊戌變法」為例，它屬於以下哪個層面的改革？ (A) 器物層面 (B) 思想層面 (C) 制度層面 (D) 文化層面。
18. () 歷史這門學科，可以經由對因果關係的分析、歸納，訓練我們的邏輯思考能力。請將下列清末的各項史事按照因果關係順序排列，何者正確？ (甲) 康梁上書 (乙) 百日維新 (丙) 甲午戰爭 (丁) 戊戌政變。
(A) 丙丁甲乙 (B) 丙甲乙丁 (C) 甲乙丙丁 (D) 甲丙乙丁。
19. () 中國在自強運動期間面臨日趨嚴重的外患威脅，列強虎視眈眈的以中國的藩屬為目標，藉由各種事端的發生來搶占中國的藩屬，使中國在此期間逐漸喪失其宗主國的地位。圖中哪兩個國家因「中法戰爭」變成外國的藩屬？
(A) 甲、乙 (B) 乙、丙 (C) 丙、丁 (D) 甲、丁。
20. () 承上題，下列有關侵略國與被侵略的藩屬配對，何者正確？
(A) 俄國——朝鮮 (B) 日本——越南 (C) 法國——琉球 (D) 英國——緬甸。
21. () 馬克思曾評論一場發生在十九世紀的戰爭：「英、法兩國不是為了英、法，而是為了俄國打仗。俄國從中國奪取一塊相當於德、法兩國面積的土地和一條與多瑙河一樣長的河流。、、、俄國從中漁翁得利、、、。」請問：馬克思所指的是哪一場戰爭？ (A) 鴉片戰爭 (B) 英法聯軍 (C) 中法戰爭 (D) 甲午戰爭。
22. () 西元 1907 年，來自台灣的林獻堂在日本遇見梁啟超，兩人因言語不通只能以筆代口，梁啟超因感嘆而寫下了「本是同根，今成異國，滄桑之感，諒有同情。」請問：梁啟超的感嘆「本是同根，今成異國」是因哪一條約的簽定所造成的事實？ (A) 《南京條約》 (B) 《天津條約》 (C) 《馬關條約》 (D) 《璦琿條約》。
23. () 附圖是清末某軍隊的進攻路線圖，關於這支軍隊的各項分析，下列哪些項目是正確的？ (甲) 曾占領南京定為首都 (乙) 軍事行動始於咸豐皇帝 (丙) 此軍隊的領袖是洪秀全 (丁) 此軍隊為淮軍 (戊) 此軍隊的宗教信仰為基督教
(A) 甲乙丙 (B) 乙丙丁 (C) 甲丙戊 (D) 乙丁戊。



24. () 清末時期，許多居住在中國內地的人，第一次見到西方人後多感驚奇與惶恐，直呼「洋鬼子」。這些西方人能進入中國內地旅行，是因為哪個條約的關係？
(A) 《南京條約》 (B) 《天津條約》 (C) 《馬關條約》 (D) 《璦琿條約》。
25. () 現今中國最高學府「北京大學」，其前身為京師大學堂，是清末哪場改革中所設立？
(A) 自強運動 (B) 百日維新 (C) 庚子後新政 (D) 立憲運動。
26. () 中國長期以來，自認為自己是世界的中心，將來華交涉的國家視為「蠻夷之邦」，因此，對於對外通商並不重視，引發中外對於外交與貿易上的觀念歧異。為了改善與中國的通商關係，英國曾經在乾隆皇帝壽誕時派遣哪位使者來華祝壽？ (A) 利瑪竇 (B) 阿美士德 (C) 馬加爾尼 (D) 馬偕。
27. () 下圖呈現清朝後期，政府允許外國傳教士在華活動範圍逐漸改變的情形。造成轉變的原因，最可能是下列何者？
(A) 中國經濟重心由沿海轉向內地。 (B) 太平天國的傳教影響
(C) 清朝接受美國的門戶開放政策 (D) 清朝對外條約的簽訂。

傳教士僅能在廣州的指定區域活動

傳教士可以在上海等通商口岸傳教

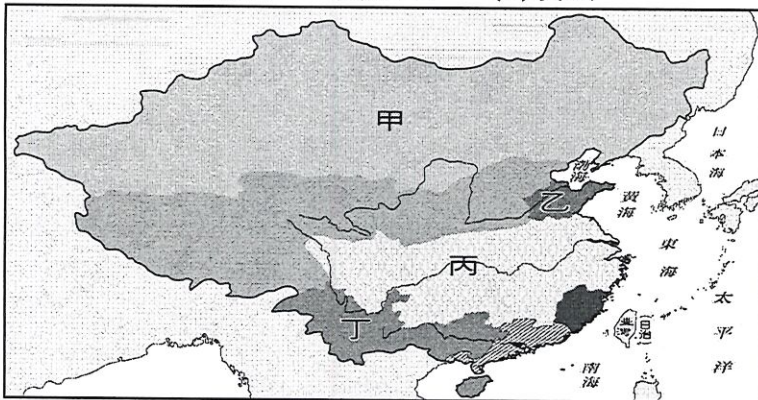
傳教士可以到中國內地遊歷、傳教

尚存試題

28. () 國家可用關稅來防止外國貨物的傾銷，以保護自己的產業。但中國在哪場戰爭後，卻失去此一控制機制，使得當時國內工商業遭受嚴重傷害？ (A)鴉片戰爭 (B)英法聯軍 (C)中法戰爭 (D)甲午戰爭。
29. () 小芬近日要繳交一份歷史報告，她蒐集的資料內容有：「危機重重的瓜分風潮」、「臺灣民主國的成立與發展」、「三國干涉還遼」、「戊戌變法」。請問：小芬要寫的報告主題應該為何？
(A)俄國的侵略野心與企圖 (B)太平天國的演變 (C)甲午戰後的影響 (D)美國與門戶開放政策。
30. () 某個外國旅人在 20 世紀初來中國旅行，他的日記上寫著：「沿著長江邊，各國工廠掛滿著他們國家的國旗，讓我忘了身在何國。」這種現象最早出現於哪場戰爭後？ (A)鴉片戰爭 (B)英法聯軍 (C)中法戰爭 (D)甲午戰爭。
31. () 英國是從下列哪兩個條約分別取得香港與九龍司，作為對中國貿易的根據地？
(A)南京條約、北京條約 (B)瓊瑋條約、天津條約 (C)天津條約、北京條約 (D)南京條約、瓊瑋條約。
32. () 美仙到中國遊覽時，在上海的博物館中看到一面遭蟲蛀的工部局機構旗幟，這面旗幟上標有歐美多國國旗，並曾在 1845~1943 年間在上海飄揚。請問，該機構能在上海開辦與下列哪一次戰爭有關？
(A)鴉片戰爭 (B)英法聯軍 (C)牡丹社事件 (D)中法戰爭。



33. () 自強運動期間，官員在各地籌辦鐵路，卻有人認為築鐵路會破壞龍脈，甚至某地區發生嚴重旱災，怪罪電線「桿」架設過多所導致的，由此可推斷下列哪項是自強運動失敗的主因？ (A)忽視西方的政治制度與思想觀念 (B)守舊派人士的攻擊 (C)政策缺乏完整規畫 (D)改革重心偏向軍事與經濟。
34. () 玲玲閱讀中國人物傳記，書中提到「清末有位重要的政治人物，他經歷平定太平天國的戰役，參與自強運動，同時在甲午戰爭後代表中國與日本簽訂和約」。請問：此人應該是誰？
(A)李鴻章 (B)曾國藩 (C)左宗棠 (D)奕訢。
35. () 附圖為清末列強在中國所劃分的勢力範圍。請問：圖中丙區應為何國之勢力所在？
(A)俄國 (B)德國 (C)法國 (D)英國。



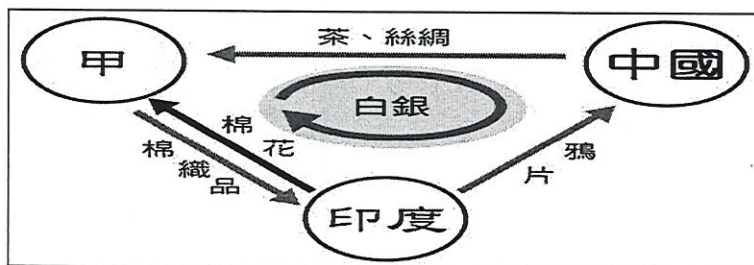
36. () 承上題，因哪一國提出「門戶開放政策」，因而暫緩了此一瓜分危機？
(A)英國 (B)日本 (C)俄國 (D)美國。
37. () 郭董想拍一部以清末自強運動為背景的电影，下列何者是適合出現的橋段？
(A)設廣方言館，以中國文化陶冶人才 (B)派遣幼童到日本留學，是官方派遣學生出國留學的開始
(C)許多國家首都已有中國派遣的外交官 (D)此時期提倡廢八股文。
38. () 英國駐華公使布魯斯曾說：「此機構為中國政府準備容許其高層官員與外國使節直接交往的明證，這是防範誤會發生最好的保證。」這代表一項體制上的變革，儘管該機構在編制、職權、法定地位各方面均有不盡如人意之處，但其重要性仍不容置疑。請問：此一機構為下列何者？
(A)北京同文館 (B)輪船招商局 (C)江南製造局 (D)總理各國事務衙門。
39. () 湯姆是 18 世紀的荷蘭商人，他對當時各國的貿易規定有所埋怨，曾說：「日本只能在長崎貿易，中國也只有開放一個港口對外通商，真是太麻煩了！」中國當時開放的通商口岸應為下列何者？
(A)上海 (B)福州 (C)廈門 (D)廣州。
40. () 自強運動和戊戌變法都是受到對外戰爭失敗且割地賠款的刺激而產生的，兩者因果配對何者正確？
(A)甲午戰爭→自強運動，中法戰爭→戊戌變法 (B)英法聯軍→自強運動，甲午戰爭→戊戌變法
(C)英法聯軍→自強運動，鴉片戰爭→戊戌變法 (D)鴉片戰爭→自強運動，甲午戰爭→戊戌變法。
41. () 歷史老師希望大家可以理解自強運動的精神所在，他應該會用哪句話來解釋自強運動？
(A)天下太平，有田同耕 (B)人盡其才，物盡其用 (C)師夷長技以制夷 (D)改革制度重用漢人。

桃園市立自強國中 107 學年度下學期八年級第一次定期考查歷史科題目卷 P4-4

42. () 英國金融時報分析了中國、日本和韓國的歷史教科書，發現針對同一件史事，此三國的教科書分別有下列不同的敘述重點，請問：這件史事應該是何事？ (A)鴉片戰爭 (B)英法聯軍 (C)牡丹社事件 (D)甲午戰爭。

中國的教科書	強調日本軍隊打敗了清朝軍隊，後續簽訂的條約是 20 世紀日本帝國主義啟動的跳板。
日本的教科書	描述日本出兵是對清朝派軍的適當回應，並指出兩國都「尋求將朝鮮半島作為一個海外市場」。
韓國的教科書	將本國描述成一個被夾在兩個大國之間的無辜旁觀者，而且特別容易受到中、日力量平衡變化的傷害。

43. () 「圓明園」是清朝歷經 150 多年不斷營造出來的皇家宮苑，匯集明、清兩代的園林之美，也融合西洋的建築風格，規模宏大，曾被西方在華傳教士讚美是世界上最美的藝術建築，卻因哪場戰役被焚毀，園中貴重文物也大量外流？ (A)鴉片戰爭 (B)第一次英法聯軍 (C)第二次英法聯軍 (D)甲午戰爭。
44. () 承上題，中國官方想要舉行「圓明園」文物特展，選在遺址的所在地舉行。請問：上述特展應該在哪個城市舉行最為恰當？ (A)北京 (B)南京 (C)上海 (D)廣州。
45. () 附圖是西元 19 世紀前期甲國與中國的三角貿易關係，箭頭所示代表輸出的商品。圖中的甲國應是下列哪一個國家？ (A)英國 (B)法國 (C)俄國 (D)荷蘭。



46. () 史特龍是清末來中國的英國傳教士，某日他打傷中國人霍小甲，霍小甲一狀告到官府，但官員卻表示無法依中國法律將史特龍治罪。以上這種情況是由於英國人在華享有何種特權？ (A)片面最惠國待遇 (B)宗教自主權 (C)領事裁判權 (D)協定關稅。
47. () 老曾在某篇文章中看到「焚毀孔廟、聖庫、天朝田畝制、男女平等」等字句，這篇文章討論的主題應是什麼？ (A)鴉片戰爭與中國命運 (B)太平天國的興亡 (C)清末俄國對中國的壓迫 (D)戊戌變法的革新
48. () 有一份清代皇室成員的手稿，內容寫著：「西方國家不僅軍隊訓練嚴謹，而且槍炮的威力驚人，我們若不力圖革新振作，學習西方船堅炮利的技術，國家的滅亡之日將至……。」請問：這應該是下列何人的手稿？ (A)曾國藩 (B)洪秀全 (C)李鴻章 (D)奕訢。
49. () 下列是幾位外國人在租界區吹噓自己國家在中國的「豐功偉業」。請問：甲、乙、丙、丁依序應該是何國人？
 甲：我們國家最先以武力打開中國閉關自守局面；也聯合其他國家二次對中國用兵，還從圓明園中掠奪大量寶物。
 乙：我們國家最仁慈了！要不是我們，也許早在 19 世紀末中國就被瓜分。
 丙：我們國家速度快！以傳教士在山東被殺，強行租借膠州灣，首開列強強行租借港灣的第一。
 丁：我們國家不用一兵一卒就取得中國廣大土地。
 (A)英國、美國、法國、俄國 (B)英國、美國、德國、俄國
 (C)法國、俄國、美國、德國 (D)法國、英國、俄國、美國。
50. () 歷史老師上課時，在黑板上畫了一張如附圖的形勢圖，請從圖中的內容判斷，老師最有可能在講解哪個事件？ (A)英法聯軍 (B)中法戰爭 (C)鴉片戰爭 (D)甲午戰爭。

