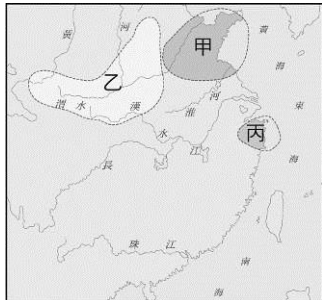


九年級社會科(歷史地理公民)1-6冊 補考題庫

歷史科

一、選擇

1. () 十七世紀，鄭成功、鄭經父子先後來到臺灣，建立政權。當時他們除實施墾殖外，亦採行下列何種方法維持財政？
(A)實施公有共享制度 (B)與原住民交換貨物 (C)對外拓展海上貿易 (D)引進西方開礦制度
2. () 在某文學作品中提到：「陳先生在警察的鼓吹下，乘坐火車到臺北參觀博覽會。會場中，他與人發生衝突，怒斥：『什麼產業臺灣的躍進！這不過是你們東洋人的躍進，若是臺灣人的子弟，恐怕連寸進都不能！』」由上述內容推斷，陳先生的身分最可能是下列何者？ (A)隨鄭氏軍隊來臺的明代文人 (B)荷蘭東印度公司在臺的翻譯 (C)清初奉派來臺就任的官員 (D)日本統治下的臺灣讀書人。
3. () 阿欣完成了臺灣史報告，她將報告的關鍵詞設定為「報禁」、「美麗島事件」、「耕者有其田」等，依此推斷，該報告的主題最可能是下列何者？ (A)戒嚴時期的社會面貌 (B)日治時期的民主運動 (C)韓戰時期的外交衝擊 (D)抗戰時期的國家政策。
4. () 從圖中新石器文化的分布來看，顯示中國文化的起源有何特色？ (A)呈現東西分區發展的情形 (B)呈現分區多元發展的情形 (C)以黃河流域為核心向外擴散 (D)呈現南北二元發展的情形。



5. () 下圖是唐代的仕女圖，從圖中可以看出唐代婦女受西域人士影響，出現袒胸薄紗式的妝扮，有別於傳統漢人婦女的打扮。請問：造成此種穿著風格改變的時代因素為何？ (A)使節出使西域，打通絲路交通 (B)和親頻繁，許多婦女遠嫁西域 (C)唐代社會富庶，人民生活奢靡 (D)兼容胡漢風貌，社會風氣開放。



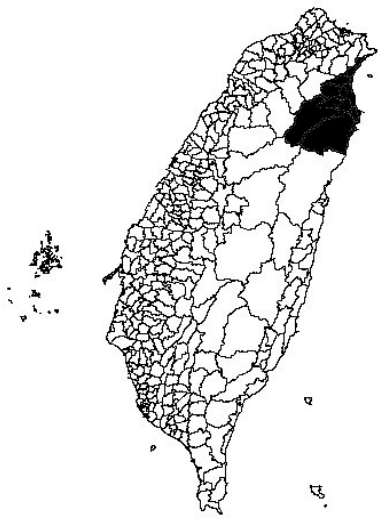
6. () 有一本小說，內容描述戰爭時期的學校生活，當時首都由南京遷到重慶，敵人則在原首都另立政權。書中主角隨政府撤退至西南後方，最後響應政府的號召而投筆從戎。這部小說的創作背景應是下列何者？ (A)民國 15~17 年間國民革命軍北伐 (B)民國 23~25 年間中共「長征」 (C)民國 26~34 年間對日抗戰 (D)民國 39~42 年間韓戰衝突。
7. () () 中國歷史上某一時期，曾有教授和大學生主張以口語化的新文學來取代舊式古典文學，並有意識的反對許多傳統觀念與習俗，將男女個人從傳統束縛中解放出來。這樣的主張應出現於下列何時？ (A)自強運動 (B)百日維新 (C)黃金十年 (D)新文化運動。
8. () 「贖罪券……對煉獄裡的靈魂毫無功效，教會所施的懲處僅能及於活人……基督徒凡真心悔改，就已從神得到恩赦，完全與贖罪券無關，因此無需贖罪券。」這段敘述在歷史上造成何種重大影響？ (A)促成理性主義的興起 (B)揭開宗教改革的序幕 (C)掀起十字軍東征熱潮 (D)奠定多神信仰的基礎。
9. () 拿破崙是十九世紀初最具影響力的人物之一，他曾編訂法典，將自由、平等思想傳播到歐洲地區，但他的侵略行動也激起了各地的民族主義風潮。當時促成他崛起的主要背景為何？ (A)光榮革命後，君主立憲內閣形成，人民期望效法英國政體 (B)路易十四後，戰爭不斷民生困苦，富國強兵成為全民目標 (C)法國革命後，內政混亂外敵侵逼，給予強人領導的機會 (D)工業革命後，貧富懸殊階級對立，要求改革的呼聲高漲。
10. () 小柔在看一部關於十九世紀後期國際局勢的紀錄片，片中主要探討阿根廷、祕魯的鐵路工程被英國掌控、土耳其關稅由歐洲列強組成的委員會管理、中國領土被外國劃分為不同租借區等情節。下列何者最可能是這部紀錄片的主題？ (A)民族主義的沒落 (B)國際結盟的政策 (C)帝國主義的擴張 (D)區域統合的實行。

解答 1. C 2. D 3. A 4. B 5. D 6. C 7. D 8. B 9. C 10. C


地理科

一、選擇

1. () 下列哪一種作物耐寒、耐旱，生長期短，是青藏高原的主要作物，也是藏族的主要糧食？ (A)小米 (B)玉米 (C)青稞 (D)高粱。
2. () 附圖是臺灣各鄉鎮的行政區圖。請問：圖中塗黑的行政區是下列哪個縣市？ (A)屏東縣 (B)彰化縣 (C)宜蘭縣 (D)花蓮縣。



3. () 全球氣候可依緯度分成熱帶、溫帶及寒帶氣候，其中哪一洲會同時出現此三種氣候？ (A)非洲 (B)歐洲 (C)美洲 (D)大洋洲。
4. () 紀存希全家前年搬到臺北市居住，最可能是因臺北市擁有哪項足以吸引存希全家移入的「拉力」？ (A)交通擁擠 (B)地價低廉 (C)就業機會多 (D)空氣品質好。
5. () 附圖是下列哪個組織的旗幟？ (A)聯合國 (B)歐洲聯盟 (C)東南亞國協 (D)亞太經濟合作會議。



6. () 下列哪些工業屬於「高科技工業」？(甲)紡織工業 (乙)食品加工業 (丙)資訊工業 (丁)鋼鐵工業 (戊)生物科技工業 (A)甲丁 (B)乙丙 (C)丙戊 (D)丁戊。
7. () 臺灣的國家公園，唯一以維護戰役史蹟、文化資產等為主要設立目的的國家公園，最可能位於臺灣哪一區域？ (A)北部區域 (B)中部區域 (C)東部區域 (D)金馬地區。
8. () 十六世紀時歐洲人開始殖民中南美洲，也帶來傳染病使原住民人數不斷減少，為了維持墾殖所需勞力，便從哪個地區輸入勞動力？ (A)亞洲 (B)歐洲 (C)非洲 (D)澳洲。
9. () 中南美洲部分地區屬終年高溫多雨的熱帶雨林氣候區。請問：下列哪個地形區是世界上面積最大的熱帶雨林區？ (A)西印度群島 (B)安地斯山區 (C)亞馬孫盆地 (D)巴西高原。
10. () 「非洲許多地區的居民仍維持傳統的生活方式……。」引句中的「傳統生活方式」可能是指下列何者？(甲)熱帶栽培業 (乙)採集、漁獵 (丙)開採礦產 (丁)游耕、游牧 (A)甲乙 (B)甲丙 (C)乙丁 (D)丙丁。

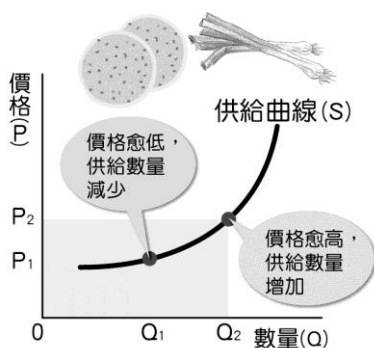
答案

1.C 2.C 3.C 4.C 5.B 6.C 7.D 8.C 9.C 10.C

自強國中 公民科九年級補考題庫

一、選擇

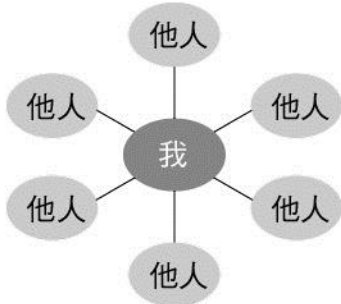
1. () 阿嘉與友子結婚後，下列是他們婚姻生活所發生的事情，何項符合性別平等？ (A)他們的孩子姓氏，由夫妻雙方約定 (B)阿嘉下班後，翹著二郎腿，等著吃晚餐 (C)阿嘉要求友子在家相夫教子，而他負責出外工作賺錢 (D)阿嘉認為「不孝有三，無後為大」，所以一定要生個兒子，繼承香火。
2. () 圖1為「供給曲線圖」，此圖的意義為：「在其他條件不變之下，商品價格上漲，供給量增加；商品價格下跌，供給量減少。因此當價格為P2時，供給量為Q2；當價格下跌為P1時，供給量減少至Q1。」下列敘述何者可用「供給法則」來解釋？ (A)當便利商店舉辦咖啡第二杯半價促銷活動時，消費者願意多購買咖啡飲用 (B)新型流感疫情來勢洶洶，口罩價格上漲，業者加緊趕工製造 (C)國際紙漿價格上漲，消費者到大賣場採買，預先囤積衛生紙 (D)文湖線捷運開通後，附近地價上漲，民眾抱怨臺北居大不易，買不起房子



▲圖1 供給曲線圖

3. () 依據我國相關法令判斷，下列何種行為已經構成性騷擾？ (A)小明和女朋友相互牽著手一起散步 (B)小華一直對同學說黃色笑話，讓對方有不舒服的感覺 (C)醫生因看診需要而使用聽診器接觸病患胸部 (D)國中生小葉與女同學在廁所發生性行為。
4. () 小華到印度自助旅行一個月，每天都會將所見所聞拍照留念，並上傳到臉書與朋友分享。在某一天的發文裡，小華寫到：「我真的覺得印度人很不衛生，恆河看起來汙染非常嚴重，為什麼還是有那麼多人在裡面沐浴？」上述小華的發文違反下列何項文化的內涵？ (A)社會正義 (B)生命倫理 (C)文化創新 (D)多元文化
5. () 一個人在生活中往往具備不同的身分；每一個身分都有社會所期望的行為表現。下列四張圖，何者最符合上述說明的意涵？

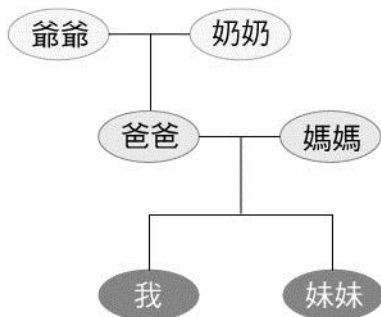
(A)



(B)



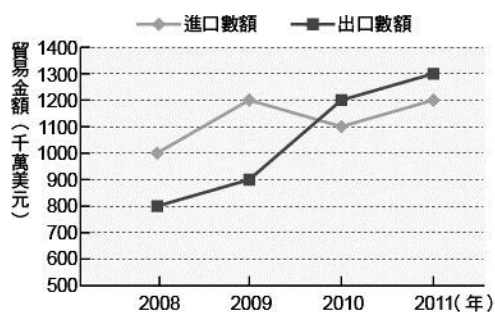
(C)



(D)

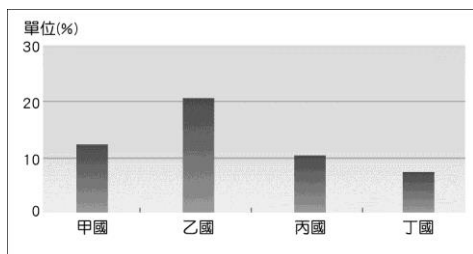


6. () 下列何者是以原鄉名稱做為地名，顯示出社區居民的地緣關係？ (A)范屋 (B)同安村 (C)許厝港 (D)劉厝埔。
7. () 圖1為甲國在西元2008年至2011年進出口貿易的年度資料。根據圖中內容判斷，甲國在哪一年的貿易開始產生順差？ (A)2008年 (B)2009年 (C)2010年 (D)2011年



▲圖1 西元2008年至2011年甲國進出口貿易年度資料

8. () 請依據下圖，分析下列各選項的敘述何者正確？ (A)老年人口比率最高的國家是甲國 (B)老年人口最多的是乙國 (C)老人的安養與照顧已是各國都須關注的課題 (D)各國老年人口增加的原因，主要是生育率上升。



9. () 日前政府修訂《性別工作平等法》，針對雇主未給予育嬰留職停薪的受雇者恢復原職位處以重罰外，並公布姓名。請問：該法的修正除了對當事人工作權益的保障以外，還有助於解決何項問題？ (A)生育率太低 (B)老人安養照顧 (C)勞動力不足 (D)人口性別比失調。
10. () 右表是我國近兩次人口與家庭普查的部分資料，從資料來推斷，下列敘述何者正確？ (A)我國的單親家戶比率下降 (B)社會對單親家戶存有偏見 (C)配偶死亡是現今形成單親家戶的主要原因 (D)離婚率的提高是現今家庭所面臨的新挑戰。

項目	年代	
	民國89年	民國99年
單親家戶總數(萬戶)	37.4	55.5
因離婚或未婚(%)	48.3	59.6
因配偶死亡或其他(%)	51.7	40.4

11. 自強國中 公民科 九年級補考題庫考試卷 ___年 ___班 座號：___ 姓名：_____

12. 一、選擇：

13. 1.A 2.B 3.B 4.D 5.D 6. B 7.C 8.C 9.A 10.D