

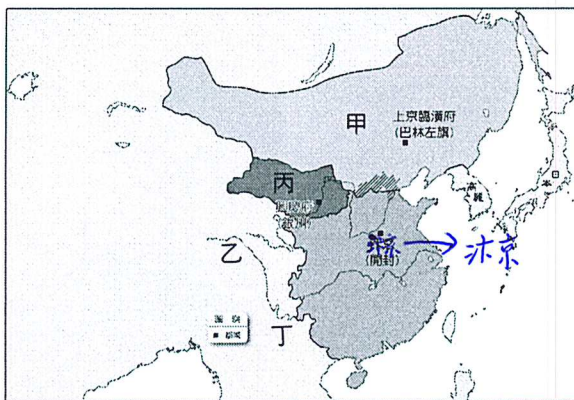
桃園市立自強國中一〇七學年度第一學期第三次定期考查八年級歷史科試題卷 P.1

請讀完下文才開始作答：

1. 本學科試題二張四面，交卷時只需交答案卡。
2. 每題都有A、B、C、D四個選項，其中只有一個選項是正確的，請將正確答案選出。
3. 作答時必須使用2B黑色鉛筆，將正確答案劃記在答案卡上，否則不予計分。
4. 答案卡上必須劃記正確，答案塗改須擦拭乾淨，若劃記錯誤或不清楚影響電腦讀卡判讀，將不予計分。
5. 本試題卷只有一部分：一、單一選擇題，1-50題，每題2分，共100分。

一、單選題(共 50 題，一題 2 分，總分 100 分)

1. () 「他為了避免『黃袍加身』的事情重演，於是開始削弱禁軍將領的權力，要求禁軍將領們解甲歸田，安享晚年，許多禁軍將領因此紛紛告老還鄉。」上述的「他」指的是下列何者？
(A)宋太祖 (B)元世祖 (C)明太祖 (D)清世祖。
2. () 宋初為解決唐末以來藩鎮割據的問題，實施「強幹弱枝」政策，雖然能夠控制地方，集權中央，但也產生下列哪一項流弊？ (A)宗室相殘 (B)土地兼併 (C)外戚專權 (D)國防不振。
3. () 宋真宗時遼國大舉入侵中國，雙方最後以簽訂「澶淵之盟」結束戰爭。關於此盟約的敘述，下列何者正確？
(A)宋開始每年給遼國歲幣維持和平 (B)宋向遼國稱臣，為遼國的藩屬國
(C)中國首開以公主下嫁鄰國的先例 (D)中國因此失去了對燕雲十六州的控制權。
4. () 北宋學者程頤曾上書宋仁宗，提到：「國家財政入不敷出，又需維持百萬軍隊，加上強敵環伺，我為此深感憂慮。」程頤的憂慮，顯現出宋代自開國以來面臨下列哪一種問題？
(A)廣築運河導致民窮財盡 (B)地方分權造成藩鎮割據
(C)商業不振以致稅收短少 (D)外族威脅致使國勢衰頹。
5. () 歷史老師在課堂上詢問：「北宋中期推動變法的原因有哪些？」以下哪一位同學的答案錯誤？
(A)若文：在外患長期威脅下，軍隊人數不斷增加 (B)小詩：政府進行大型建設，過度役使民力
(C)華華：官員數量不斷上升，達到兩萬多人 (D)珊珊：戰爭與歲幣支出，成為國家財政上的負擔。
6. () 宋神宗時，任用王安石推行變法改革，變法失敗後，對當時政局產生何種不利的影響？
(A)朝臣紛爭加劇，政治紊亂 (B)帝位爭奪激烈，政局不穩
(C)造成外戚專權，朝政敗壞 (D)導致宦官亂政，國勢衰微。
7. () 北宋初年逐漸興起，控制今日陝西、甘肅、寧夏等省分，曾向宋稱臣並獲得歲幣的是左下附圖一中哪一國家？
(A)甲 (B)乙 (C)丙 (D)丁。



附圖一



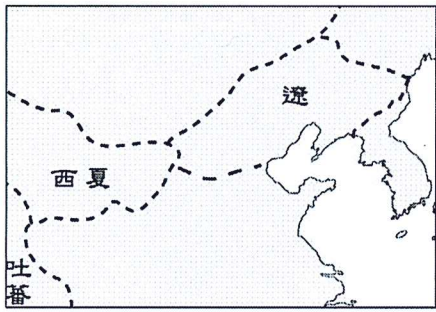
附圖二

8. () 寶哥喜歡到處旅遊並且拍攝各地的建築與風景，記錄旅遊點滴。他曾拍攝一張照片如右上附圖二，此建築上寫著「山陝會館」，請問這建築與何者有關？ (A)科舉的出現 (B)景教的東傳 (C)佛教的普及 (D)商幫的形成。
9. () 北宋某位君主說道：「現今我們的局勢如此危殆，尤其是北方從開國初期就一直困擾著我們的民族，我們倒不如聯合東北的新興民族來消滅此一民族，豈不更好！」請問：這番話的主要政策為何？
(A)聯金滅遼 (B)聯蒙古滅金 (C)聯西夏滅金 (D)聯蒙古滅遼。
10. () 關於永嘉之禍與靖康之禍的比較，下列敘述何者正確？
(A)兩者均使國家領土往南遷移，定都現今南京市 (B)兩者均使皇帝被外族所擄，國家滅亡
(C)兩者均令愛國之士致力北伐，終至收復北方 (D)兩者結束後新即位的君主，均有賢能的宰相輔政。

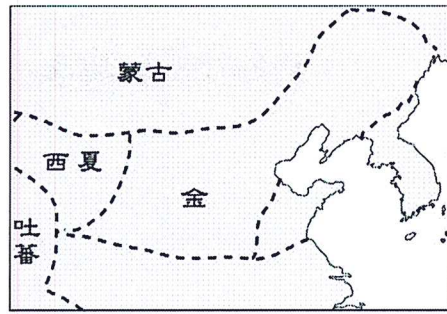
試題尚未結束！

桃園市立自強國中一〇七學年度第一學期第三次定期考查八年級歷史科試題卷 P.2

11. () 從圖一演變成圖二與哪一歷史事件有關？(A)靖康之禍 (B)黃巢之亂 (C)永嘉之禍 (D)靖難之變。



▲圖一



▲圖二

12. () 關於北宋和南宋的比較，下列敘述何者正確？
 (A)北宋的開國君主是宋高宗，南宋則是宋太祖 (B)北宋與南宋皆因外族入侵而滅亡
 (C)北宋國策重文輕武，南宋則是重武輕文 (D)北宋與南宋均有大臣提倡大規模的變法。
13. () 南宋初建時，面對金人一再地威脅，朝廷內出現主戰與主兩派不同意見，宋高宗最後採行哪一項政策？
 (A)聯合蒙古，夾攻金人 (B)停止北伐，宋金議和 (C)鼓勵通婚，融合族群 (D)下詔北伐，收復汴京。
14. () 承軒與宏宇是元朝人，承軒居住在江南一帶，而阿宇居住在大都。某年兩人一齊參加進士科考試，承軒考的是左榜，題目較難、錄取率較低；阿宇考的是右榜，題目較易、錄取率較高。請問：承軒最可能屬於哪一階層的人？ (A)色目人 (B)南人 (C)女真人 (D)契丹人。
15. () 元朝實施種族制度，請將四階級由上至下排列？
 (A)蒙古人、色目人、漢人、南人 (B)蒙古人、漢人、南人、色目人
 (C)色目人、蒙古人、南人、漢人 (D)漢人、南人、蒙古人、色目人。
16. () 關於成吉思汗鐵木真成就的敘述，下列何者錯誤？
 (A)建蒙古國 (B)滅西夏 (C)開始西征 (D)滅南宋，建立元朝。
17. () 元朝結束北宋以來的分裂局勢，但統治中國僅九十年之久。下列有關元朝滅亡原因的探討何者有誤？
 (A)外族入侵 (B)財政紊亂 (C)災荒連年 (D)帝位繼承之爭不斷。
18. () 唐代與宋代的國際貿易、國內經濟都很發達。關於這兩個時期商業發展的比較，下列敘述何者正確？
 (A)都有設立市舶司 (B)都實施坊市分離制度 (C)貿易路線都僅有陸路貿易 (D)兩朝都開始使用紙幣。
19. () 關於北宋商業發展的情形，下列敘述何者錯誤？ (A)城內、城外各種店鋪林立 (B)人們可在晚上出外逛夜市
 (C)商人開始使用飛錢、寶鈔等紙幣進行貿易 (D)坊市分離制度的取消促進商業繁榮。
20. () 成成到故宮博物院參觀，發現故宮博物院中有一幅名畫「清明上河圖」，這幅畫作的主要題材應該是下列何者？
 (A)唐朝的胡漢文化交流 (B)元朝多元文化的內涵 (C)北宋時期的城市生活 (D)南宋時期的田園景致。
21. () 元朝廣設某機構，主要是提供信使、官員歇息或換馬的處所；不但便於政府的統治，也加速經貿的往來。請問：這是哪一類機構？ (A)驛站 (B)領事館 (C)會館 (D)市舶司。
22. () 以下是中國某朝代首都的簡介：「這是一座依計畫興建的城市，城中可見基督教教堂、伊斯蘭教清真寺及佛教寺廟。朝廷聘用色目人擔任財政官員，並推行全國性紙幣政策，加上各地物資的集中，讓這座城市成為金融經濟中心。」上述城市最可能是指下列何者？ (A)東漢洛陽 (B)唐代長安 (C)北宋汴京 (D)元代大都。
23. () 宋朝平民受教育與當官的機會較前朝增加，社會階層的流動也較為頻繁。請問：下列何項並非其原因？
 (A)開科取士的名額增加 (B)印刷術發達，使書籍流通普及
 (C)重視武將的拔擢，平民可藉戰功而當官 (D)科舉及第後可得到官職，薪俸優厚。
24. () 朱熹談道：「所謂致知在格物者，言欲致吾之知，在即物而窮其理也……是以大學始教，必使學者即凡天下之物，莫不因其知其理而益窮之，以求至乎其極。」請問：關於朱熹的敘述下列何者錯誤？
 (A)提倡「格物致知」的求學之道，為理學之集大成者 (B)將理學發展成更有系統的思想體系
 (C)以《老子》、《莊子》、《易經》三書作為理論依據 (D)所著之《四書集注》為元朝科舉考試的定本。
25. () 《資治通鑑》此書對於歷代的治亂興衰有深刻描述，且取材豐富，考證精詳。關於這本書的敘述下列何者正確？
 (A)作者為司馬遷 (B)記載從黃帝到漢武帝的歷史 (C)是中國第一部編年體通史 (D)此書完成於西漢。

試題尚未結束！

桃園市立自強國中一〇七學年度第一學期第三次定期考查八年級歷史科試題卷 P.3

26. () 某文獻詳載宋元時期的科技成就，內文可能出現以下哪一項敘述？
(A)火藥自唐末開始用於戰爭，在元朝是常見的武器，後由阿拉伯人傳至歐洲
(B)宋人沈括著有《天工開物》這本科技著作，介紹當代農業、手工業的進展
(C)指南針在宋朝普遍用於航海，後由蒙古人傳到歐洲
(D)北宋畢昇發明活字版印刷術，使書籍的流通更加普及，後由蒙古人傳到歐洲。
27. () 大寶論及某位歷史人物時說道：「他在歷史上有兩種截然不同的形象，對百姓來說他是個親民、愛民的好皇帝，不但致力於懲處貪官汙吏，還減輕人民的賦稅；但對官員來說，他卻是位嚴厲的君主，不但任意誅殺功臣，而且還設立錦衣衛監視臣子的一言一行。」大寶所談論的應該是下列哪位君主的事蹟？
(A)宋太祖 (B)元世祖 (C)明太祖 (D)明成祖。
28. () 所謂黨爭指的是「官員黨派之間因意見或理念不同而引起的爭執」，中國歷史上的黨爭，是國家政局逐漸敗壞的因素之一。下列各朝與黨爭的配對，何者正確？
(A)明朝：東林黨爭 (B)唐朝：新舊之爭 (C)東漢：牛李黨爭 (D)宋朝：黨錮之禍。
29. () 明朝建立之後，國家所面臨的重要外患有哪一些？(甲)蒙古 (乙)契丹 (丙)女真 (丁)倭寇 (戊)党項
(A)甲乙丙 (B)甲丙丁 (C)乙丙丁 (D)乙丁戊。
30. () 明熹宗時魏忠賢權力甚大，朝臣見到他竟跪地高呼「九千歲」。各府州縣到處為他建生祠，凡不建祠或入祠不拜者皆可能會被處死。請問：諸如魏忠賢等宦官干政弄權的情形，可追溯自何人在位時寵信宦官，並令其主持東廠之故？ (A)明太祖 (B)明成祖 (C)明神宗 (D)明思宗。
31. () 「當敵人步步進逼時，皇帝已經走投無路，他寫下遺詔：『朕自登極十七年，內地三陷，逆賊直逼京師。雖朕德薄匪躬，上千天咎，然皆諸臣誤朕也。』後來明朝皇帝在景山的一棵樹上，上吊自殺了。」請問：遺詔上提到的「逆賊」，是指當時攻陷北京的何人？ (A)張獻忠 (B)吳三桂 (C)清世祖 (D)李自成。
32. () 葉華介紹一位中國歷史人物：「他認為變法改革是解決當時財政問題及國防危機的主要途徑，於是他丈量田地、改變賦役制度、規定力役與田賦合併，按畝徵銀，並重用抗倭寇的名將主持西北邊防。」這位人物應是下列何人？ (A)商鞅 (B)王莽 (C)王安石 (D)張居正。
33. () 下圖為 2005 年某博物館的宣傳海報，下列何者最可能是圖中所指「偉大的海上探險」所帶來的影響之一？
(A)引發探險風氣，延續歐洲海外拓殖熱潮 (B)貿易管道暢通，中國白銀大量流入歐洲
(C)中國聲威遠播，奠定華人移居東南亞基礎 (D)肅清倭寇的勢力，東南沿海因此得以安定。



34. () 老師在課堂說道：「滿清入關後，有許多內憂外患有待解決，使清初的政局不太穩定。」老師請學生舉例當時清朝有哪些問題待解決，下列哪個答案不正確？ (A)三藩之亂 (B)宦官亂政 (C)鄭氏父子 (D)南明勢力。
35. () 「□□以後，清廷因為頻繁對外用兵，加上人口增加、土地不足，引發人民不滿，造成國內動亂不斷興起，使國勢步入中衰。」上述□□指的是下列哪位君主？ (A)順治 (B)康熙 (C)雍正 (D)乾隆。
36. () 「他曾率領八旗子弟征戰於白山黑水之間，受到部眾擁戴，最後統一女真各部族，建國號『大金』，並開啟了與明王朝間的權力爭戰。」上文所述為下列何者？ (A)成吉思汗 (B)忽必烈 (C)努爾哈齊 (D)皇太極。
37. () 明代中期正值西方國家展開新航路的探險，歐洲人陸續東來並在亞洲建立貿易據點，以下哪一組配對正確？
(A)葡萄牙—澳門 (B)西班牙—越南 (C)荷蘭—印度 (D)英國—台灣。

試題尚未結束！

桃園市立自強國中一〇七學年度第一學期第三次定期考查八年級歷史科試題卷 P.4

38. () 由於滿清的統治得宜，清初即有康雍乾盛世的出現。請問：這三位皇帝的帝號依序為何？
(A)清太祖、清太宗、清世祖 (B)清聖祖、清世宗、清高宗
(C)清太宗、清世祖、清聖祖 (D)清世祖、清聖祖、清高宗。
39. () 滿清曾宣布要禮葬明思宗帝后、重用投降的明朝官員，但另一方面又殘酷地鎮壓抗清民眾、嚴禁漢人立盟結社。此種治術使清朝國祚較同為外族創建的元朝要長久。請問：清初採取的治術為何？
(A)將與明朝有關的人、事、物一律消滅 (B)實施差別待遇的種族政策，打壓漢人
(C)對漢人恩威並重、懷柔與高壓並行 (D)完全信任漢人，將國家大事交給漢人處理。
40. () 有關明清時期的科舉制度與社會發展，以下哪一項內容有誤？
(A)科舉以四書與五經的內容命題 (B)考生必須寫八股文，這種格式可自由發揮個人的見解
(C)經由科舉而取得功名的士人，得享有司法及賦役等特權，其生活儀制與服飾異於庶民
(D)士紳身分沒有世襲，會經由科舉考試而有所升降。
41. () 明朝政府的對外活動，僅限於各國使節的來華朝貢。請問：下列敘述何者錯誤？
(A)各國須接受中國的冊封，才能與中國通商 (B)「朝貢」是將與之貿易者視為平等往來的國家
(C)朝貢貿易至清末即被迫面對國際強權的挑戰 (D)「朝貢貿易」反映明朝天朝上國的心態。
42. () 明初與清初的統治者，都面臨來自東南沿海的威脅。明代初年，東南沿海一帶海盜為患；而清代初期，則有臺灣島上鄭氏政權抗清的行動。兩者面對的問題雖有差異，但明太祖與清聖祖都選擇了相同的處理方式。此一「處理方式」應為下列何者？ (A)開港通商 (B)移民實邊(充實、開發邊遠地) (C)開山撫番 (D)實施海禁。
43. () 「隨著人口增加、農工進步，加上大運河的疏通、漕運便利，以及白銀的輸入，商業相當發達。一時商業市鎮紛紛興起，尤以江南市鎮成長最快。江南地區不僅有稻米、蠶桑、棉花等農產品，還出現多種手工業，如盛澤鎮的絲織業，景德鎮的瓷器，松江的棉布業等。」這段資料是描述何時的工商業情形？
(A)兩漢時期 (B)隋唐時期 (C)宋元時期 (D)明清時期。
44. () 明清時代的通俗文學，以小說的成就最高。請問：下列四大名著中，哪一本小說不是明朝人所著的？
(A)羅貫中《三國演義》 (B)施耐庵《水滸傳》 (C)吳承恩《西遊記》 (D)曹雪芹《紅樓夢》。
45. () 承上題，請將四大名著依依故事內容的朝代先後排列順序？
(A)《三國演義》、《西遊記》、《水滸傳》、《紅樓夢》
(B)《水滸傳》、《西遊記》、《紅樓夢》、《三國演義》
(C)《西遊記》、《紅樓夢》、《三國演義》、《水滸傳》
(D)《紅樓夢》、《三國演義》、《西遊記》、《水滸傳》。
46. () 十七、十八世紀的歐洲正處於科學、工業革命的時代，不管是思想或是科技方面，都有極大的進展。但中國卻在此時中斷與西方的往來，失去吸收新知的機會。請問：這與下列何位君主實行禁教有關？
(A)清世宗 (B)清高宗 (C)清世祖 (D)清聖祖。
47. () 關於明太祖與明成祖的比較，下列何者正確？
(A)明太祖以「清君側、靖內難」為號召反元，明成祖則以打敗異族的「民族革命」為名發動靖難之變
(B)明太祖定都今南京，明成祖則遷都北京
(C)明太祖修築長城防止北方外患，明成祖則疏通運河以利南北交通
(D)明太祖重用宦官擔任內外要職，明成祖則分封諸王而導致骨肉相殘。
48. () 明神宗年間，某位傳教士來到中國，他學習中國語言、讀儒家的經典、穿戴儒服儒冠，明神宗准許他在北京設立據點傳教。請問：此位傳教士是誰，屬於哪個教派？
(A)馬偕；基督教長老教會 (B)徐光啟；伊斯蘭教 (C)利瑪竇；天主教耶穌會 (D)玄奘；佛教。
49. () 中國歷史上許多朝代會將宗室和功臣分封地方，屏障中央，但也易引發亂事。請問：下列亂事中何者不屬於宗室之亂？ (A)西周管蔡之亂 (B)西晉八王之亂 (C)明代靖難之變 (D)清代三藩之亂。
50. () 明代中期正值西方國家展開新航路的探險，陸續來到東方與中國貿易，請問下列何者並非是此事的影響？
(A)白銀大量流入中國 (B)番薯、玉米、馬鈴薯傳入中國 (C)早熟稻傳入中國 (D)西方傳教士來華傳教。

試題結束，謝謝作答！