

請讀完下文才開始作答


1. 本試題共計二張四面，交卷時只須交答案卡。
2. 每題都有 A、B、C、D 四個選項，其中只有一個是正確的，請將正確答案選出。
3. 作答時必須使用 2B 黑色鉛筆，將正確答案劃記在答案卡上，否則不予計分。
4. 答案卡上劃記必須正確，答案塗改須擦拭乾淨，若劃記錯誤或不清楚影響電腦讀卡判讀，將不予計分。
5. 本試題卷共有 50 題，總分 100 分，分為：一、單選題，第 1~40 題，每題 2 分，共 80 分；  
二、題組題，第 41~50 題，每題 2 分，共 20 分。

一、選擇題：每題 2 分，共 80 分

1. ( ) 清朝統治臺灣兩百多年，可分成前後兩期。請問：清領後期是從何時開始？ (A) 臺灣開港通商後 (B) 牡丹社事件後 (C) 臺灣建省後 (D) 廢除渡臺禁令後。
2. ( ) 附表是臺灣人口統計表，從康熙到嘉慶年間人口總數大量增加的主要原因是下列何者？

年代	人口總數
康熙 22 年 (1683 年)	33,640
乾隆 29 年 (1764 年)	666,210
乾隆 47 年 (1782 年)	912,920
嘉慶 16 年 (1811 年)	1,944,737

- (A) 醫療進步，出生率大增 (B) 中國大陸人口大量移民臺灣
- (C) 政治清明，社會安定無動亂 (D) 經濟富庶，工商業繁榮。
3. ( ) 清朝統治時期，來自中國大陸的漢人以何者來發展宗族組織，凝聚族群的力量？ (A) 經濟利益 (B) 同姓關係 (C) 風俗習慣 (D) 原鄉情誼。
4. ( ) 1860 年代以後，臺灣政治經濟重心逐漸由南部轉移至北部，其主要原因為何？  
(A) 南部米糖生產減少，經濟蕭條 (B) 南部未開放對外的通商口岸，導致發展落後  
(C) 北部由於臺灣建省，而成為政治中心 (D) 北部出口茶與樟腦，帶動城鎮興起。
5. ( ) 清代臺灣社會出現「有唐山公，無唐山媽」現象的主因為何？  
(A) 漢番隔離政策漢人娶妻不易 (B) 傳統禮教不願女子外出登山  
(C) 因無生產風險男子壽命較高 (D) 渡臺禁令導致性別比例失衡。
6. ( ) 附圖是歷史課堂上，同學們討論臺灣史上的某一民變。根據同學們的討論內容判斷，這是指哪一民變事件？



是清康熙時期臺灣大規模的民變，領導者自羅漢門率眾攻陷臺灣府城，自稱「中興王」，建國號「大明」。

受此民變影響，平亂後，臺灣增設彰化縣、淡水廳。


- (A) 林爽文事件 (B) 郭懷一事件 (C) 朱一貴事件 (D) 戴潮春事件。
7. ( ) 清代移民渡海來臺往往會祈求祖先與神明的庇佑，下列何者是移民不分祖籍、共同供奉的神明？  
(A) 媽祖娘娘 (B) 三山國王 (C) 開漳聖王 (D) 保生大帝。
8. ( ) 對於十九世紀客家移民創作的渡臺悲歌：「勸君切莫過臺灣，臺灣恰似鬼門關，千個人去無人轉，知生知死都是難。」我們可以如何解讀？  
(A) 移民來臺後多遺棄原鄉妻小，因此做歌勸人莫讓子弟來臺  
(B) 橫渡臺灣海峽的風險太高，漢人移民始終無法有效克服  
(C) 臺灣人生活奢靡，為避免子弟受影響，所以勸其不要來臺  
(D) 漢人來臺漸多，整體開發趨近飽和，易討生活的榮景不再。
9. ( ) 清領前期，各種械鬥事件頻繁，而今彰化縣和美鎮地名的由來，就是希望大家和睦相處，不要再有所爭鬥。請問：當時械鬥事件頻傳，可能為下列何種因素？ (A) 爭奪土地、水源，商業利益 (B) 為了反清復明，結義起事 (C) 爭奪土地，漢番衝突頻傳 (D) 仇洋反教情緒高漲。
10. ( ) 清領時期臺灣民間大規模的械鬥很多，其中以閩、粵械鬥與漳、泉械鬥較為頻繁。請問：此類械鬥是以下列何者來區分彼此？ (A) 職業 (B) 祖籍 (C) 姓氏 (D) 定居地點。

【尚有試題】

11. ( ) (甲)吏治不良、軍紀不佳(乙)政府公權力不彰(丙)官員貪汙腐敗(丁)社會中族群複雜，女多於男(戊)會黨林立。以上哪些是清領臺灣前期暴力事件頻傳的原因？

(A)甲乙丁戊 (B)乙丙丁戊 (C)甲乙丙戊 (D)甲乙丙丁。

12. ( ) 附圖是曉華在書上看到的臺灣歷史演變圖，其中「甲」的發生，使清朝政府對臺灣的治理態度轉變。請問：「甲」為下列何者？



(A)甲午戰爭 (B)英法聯軍 (C)牡丹社事件 (D)中法戰爭。

13. ( ) 臺南市有一座廟宇，是雍正 7 年由潮州籍官員率粵東商民捐建，祭祀其原鄉的神明，為臺灣現存最完整的廣東式建築。請問：這座廟宇應為下列何者？ (A)奉祀保生大帝的保安宮 (B)供奉開漳聖王的惠濟宮 (C)供奉媽祖的朝天宮 (D)供奉三山國王的三山國王廟。

14. ( ) 下列何者最能顯示出臺灣由移墾社會轉型為本土社會的特質？ (A)由不同姓氏間的械鬥轉為不同職業間的械鬥 (B)由祭祀唐山祖轉為祭祀開臺祖 (C)對外貿易量大幅增加 (D)由於環境衛生的改善，死亡率大幅降低。

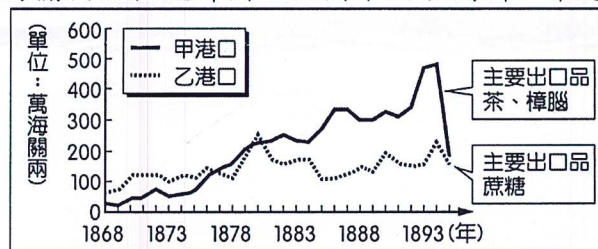
15. ( ) 資料記載：「某人，自幼聰慧不凡，二十三歲考中秀才，三十歲中舉人，三十七歲中進士。他也是臺灣第一位以臺灣本籍赴京考中的進士，所以大家又稱他為開臺進士。」上文描述的應為何人？

(A)郭懷一 (B)戴潮春 (C)沈光文 (D)鄭用錫。

16. ( ) 清同治末年，中日簽訂專約，條約中記載：「茲以臺灣生番曾將日本國屬民等妄為加害，日本國本意唯番是問，遂遣兵往彼，向該生番等詰責……日本國此次所辦，原為保民義舉……」請問：此約間接承認何地的人民為日本臣民？ (A)臺灣 (B)琉球 (C)越南 (D)澎湖。

17. ( ) 清領時期，先民經常藉由祭祀活動的「宗族組織」來凝聚族群力量。下列關於「唐山祖」和「開臺祖」宗族組織的敘述，何者正確？ (A)唐山祖指的是來臺的第一代祖先 (B)祭拜唐山祖的宗族成員彼此一定有血緣關係 (C)組成這兩種宗族組織的分子不一定同姓 (D)祭拜開臺祖的宗族成員彼此有血緣關係。

18. ( ) 附圖為臺灣某時期兩大港口的海關出口值統計圖。由圖中內容判斷，甲港口最可能位於臺灣何處？



(A)北部 (B)中部 (C)南部 (D)東部。

19. ( ) 「臺灣在戰後再度進入國際貿易市場，海關、領事館等機構正式出現。不僅各國商人可以到通商口岸做買賣，西洋傳教士也能自由進出傳教，馬偕牧師即為著名代表之一。」上述現象發生於臺灣哪一時期？

(A)荷蘭統治時期 (B)鄭氏統治時期 (C)清朝統治前期 (D)清朝統治後期。

20. ( ) 有關臺灣早期移民的敘述，下列何者錯誤？ (A)客家移民來臺後大多選擇居住在平原一帶 (B)移居臺灣的漢人主要是來自閩、粵兩省 (C)移民者的原鄉大多因人口過多，謀生不易，所以只好向海外移民 (D)現在臺灣的閩南人大多來自漳州、泉州等地。

21. ( ) (甲)朱一貴事件(乙)戴潮春事件(丙)林爽文事件，上述清領時期的民變，若按事件發生的時間先後排列，下列何者正確？ (A)甲丙乙 (B)甲乙丙 (C)丙甲乙 (D)丙乙甲。

22. ( ) 下列敘述：(甲)教育機構日益增加(乙)進士、舉人的人數大增(丙)會黨林立，哪些可看出清領時期，臺灣在文教方面已有迅速的發展？ (A)甲乙丙 (B)甲丙 (C)甲乙 (D)乙丙。

23. ( ) 清朝統治臺灣初期，曾明令禁止男子攜眷來臺，其後清廷為了積極建設，取消該項限制。此項禁令的取消，對日後臺灣發展帶來什麼樣的影響？ (A)人口擴增，拓墾加速 (B)族群械鬥，日趨激烈 (C)性別失衡，男多於女 (D)漢人活動範圍受限制。

24. ( ) 清代臺灣社會有「三年一小反，五年一大亂」之說法，其中發生在乾隆年間，亂事平定後，乾隆皇帝為了嘉許諸羅縣城民眾在事件中堅守不降的忠義精神，將諸羅改名為「嘉義」，上文所述為哪一事件？

(A)林爽文事件 (B)戴潮春事件 (C)朱一貴事件 (D)郭懷一事件。

25. ( ) 念祖在清領時期渡海來臺開墾，他的祖籍為漳州府。請問：(甲)開漳聖王(乙)保生大帝(丙)三山國王(丁)媽祖(戊)土地公，上列哪些神明可能是他主要信仰的對象？ (A)甲丙戊 (B)乙丁戊 (C)甲丁戊 (D)丙丁戊。

【尚有試題】

26. ( )皓霖在書上看見一段描述：「1884 年 4 月，外國軍艦駛向基隆，清廷相當重視此事，派劉銘傳來臺督辦軍務。8 月外軍開始攻擊，雙方開戰……10 月又分兵攻打淡水，彼此交戰不休……此後清廷更加注意臺灣的地位。」這應是描寫下列哪一場戰爭？ (A)英法聯軍 (B)中法戰爭 (C)甲午戰爭 (D)日軍侵臺。
27. ( )某位學子敘述：「我們學校在臺北城裡，隔壁就是西學堂，離電報學堂還有一段路。學校裡上的都是漢文、閩南語，還有官話。畢業以後，我就可以回家鄉做官。」這樣的情節，最可能是發生在哪一時期？ (A)1670 年鄭經治臺時期 (B)1874 年沈葆楨治臺時期 (C)1890 年劉銘傳治臺時期 (D)1919 年日本統治時期。
28. ( )附表是臺灣三個不同時期對外貿易的主要進出口貨物，依所處時代先後順序排列，下列何者正確？

時代	出口商品	進口商品
甲	稻米、蔗糖	藥材、紡織品
乙	糖、樟腦、茶	鴉片、紡織品
丙	蔗糖、鹿皮	軍用物資、布料

- (A)乙丙甲 (B)乙甲丙 (C)丙甲乙 (D)丙乙甲。
29. ( )恆春古城的一個角落，有位白髮老人在撫琴低唱：「自從海上起了風波，敵寇就排山倒海的來威迫……驚動滿清，也開啟了臺灣海防歷史的先河。」文中老人吟唱的內容，是在述說恆春當地哪一項歷史事實？ (A)康熙年間的施琅攻臺 (B)咸豐年間的英法聯軍之役 (C)同治年間的日軍侵臺事件 (D)光緒年間的中法戰爭。
30. ( )上歷史課時，同學們在討論臺灣開港通商後所造成的社會風貌。請問：下列哪幾位同學的說法正確？

甲生說：「臺灣開港後，基督教第一次來到臺灣傳教。」
乙生說：「臺灣社會依舊封閉，鮮少見到外國人在臺灣活動。」
丙生說：「外商紛紛來臺設立商行，以從事貿易謀利。」
丁生說：「傳教士來臺後，除了建造教堂、傳播福音外，也成立西式學校，對臺灣的教育發展具有正面貢獻。」

- (A)甲乙 (B)乙丙 (C)甲丙 (D)丙丁。
31. ( )(甲)修築北、中、南三條通往東部的道路(乙)實施劃界封山政策(丙)設立「撫墾局」管理原住民。請問：上述清領時期對臺灣原住民的政策，按照實施時間的先後順序排列，下列何者正確？ (A)甲乙丙 (B)丙乙甲 (C)乙甲丙 (D)甲丙乙。
32. ( )曜嘉是生活在清領時期的臺灣人，他心繫科舉，希望能藉由科舉金榜題名。為了能廣泛學習，他選擇了學風較為自由的教育機構來準備考試。他選擇的應是下列何種教育機構？ (A)儒學 (B)書院 (C)社學 (D)義學。
33. ( )有關臺灣開港後，商品往來情形的敘述，下列何者正確？ (A)進口商品以香料為大宗，主要來自英國 (B)出口商品以糖最多 (C)樟腦產於中、北部，多由淡水出口 (D)茶的主產地在臺灣南部，由安平、打狗出口。
34. ( )清領時期完全由政府創辦，屬公立學校的是下列何者？ (A)府學 (B)書院 (C)義學 (D)私塾。
35. ( )位於臺北的二二八和平公園中，陳列著臺灣最早的火車頭「騰雲號」，它令我們緬懷清末對臺灣近代化貢獻最大的哪一位巡撫？ (A)邵友濂 (B)沈葆楨 (C)丁日昌 (D)劉銘傳。
36. ( )(甲)臺灣建省(乙)施琅攻臺(丙)中法戰爭(丁)臺灣開港通商(戊)牡丹社事件。上述有關臺灣歷史大事，若按照先後順序排列，下列何者正確？ (A)甲乙丙丁戊 (B)乙丙丁戊甲 (C)乙丁丙甲戊 (D)乙丁戊丙甲。
37. ( )觀光大使伯俊如果想要拍攝以劉銘傳治臺政績為主題的宣傳影片，他應該介紹下列哪一個古蹟？ (A)打狗英國領事館 (B)基隆二沙灣炮臺 (C)淡水女學堂 (D)臺南億載金城。
38. ( )重大事件的發生，常會對當地的歷史造成深遠的影響。下列事件跟造成的影響配對，哪些敘述正確？

	事件	影響		事件	影響
(甲)	牡丹社事件	臺灣開港通商	(丁)	英法聯軍	西方文化再度引進臺灣
(乙)	朱一貴事件	臺灣增設臺北府	(戊)	戴潮春事件	清朝積極治臺
(丙)	中法戰爭	臺灣建省	(己)	渡臺禁令的頒布	臺灣男女比例失衡

- (A)甲丙丁 (B)甲丙己 (C)乙丁戊 (D)丙丁己。
39. ( )以下關於清領前期臺灣文教風氣的發展，何者敘述錯誤？ (A)原住民的教育完全不受重視 (B)文教風氣愈來愈興盛 (C)儒學可提供學子準備科舉考試 (D)義學是教育貧寒子弟的學校。
40. ( )林爺爺打開臺灣地圖，對孫女睿蕎介紹了幾個臺灣歷史上的古地名。請問：有關這些古地名與今日地名的配對，下列何者錯誤？ (A)雞籠--基隆 (B)大稻埕--台北市萬華區 (C)打狗--高雄 (D)後山--臺灣東部。

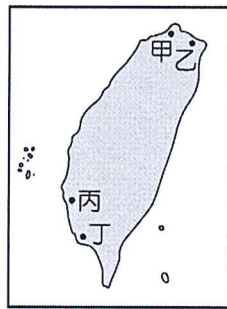
二、題組題：每題 2 分，共 20 分

(一) 臺南新樓醫院成立已經一百多年，這家由「臺灣醫療宣教之父」所創立的西醫院，為臺灣帶來西方先進的醫療技術。新樓醫院在慶祝生日的同時，也會特別追念當年這位貢獻良多的醫師。請問：

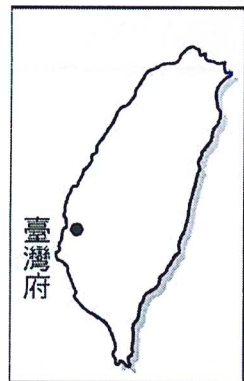
- ( ) 41. 這位醫師是指下列何人？ (A)馬偕 (B)韋麻郎 (C)利瑪竇 (D)馬雅各。  
 ( ) 42. 承上題，這位醫師對臺灣有何具體貢獻？ (A)首創盲人教育 (B)建立臺灣第一間西醫醫館 (C)開辦牛津學堂 (D)設立臺灣第一間女子學校。

(二) 「用了這筆錢，我們在當地建立了這所學堂，並取名為『牛津學堂』。在回憶此事時，『我』仍對家鄉朋友的慷慨捐助，感到感謝與欣悅。」這是出自某位傳教士回憶錄的內文，請根據上文敘述，回答下列問題：

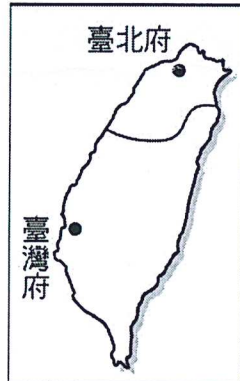
- ( ) 43. 上文中的『我』是指下列何人？ (A)馬雅各 (B)韋麻郎 (C)馬偕 (D)甘為霖。  
 ( ) 44. 清領時期，傳教士可到臺灣設立學堂，主要是因為下列哪一事件的發生？ (A)牡丹社事件 (B)英法聯軍 (C)渡臺禁令的廢除 (D)中法戰爭。  
 ( ) 45. 若是想要參觀文中所述的「牛津學堂」，應該到附圖中的哪一地方？ (A)甲 (B)乙 (C)丙 (D)丁。



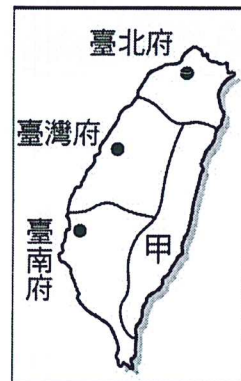
(三) 下圖是十七至十九世紀的臺灣行政區演變圖。請問：



圖(一)



圖(二)



圖(三)

- ( ) 46. 由圖(一)演變成圖(二)，是下列哪一個國家侵略臺灣而間接造成的？  
 (A)西班牙 (B)日本 (C)法國 (D)荷蘭。  
 ( ) 47. 圖(二)行政區的增設與何人有關？ (A)沈葆楨 (B)林爽文 (C)朱一貴 (D)劉銘傳。  
 ( ) 48. 在哪一事件後，行政區劃由圖(二)演變為圖(三)？  
 (A)英法聯軍之役 (B)牡丹社事件 (C)中法戰爭 (D)甲午戰爭。  
 ( ) 49. 圖(三)當中「甲」行政區的名稱為何？ (A)噶瑪蘭廳 (B)花蓮縣 (C)卑南廳 (D)臺東直隸州。  
 ( ) 50. 請由圖(一)到圖(三)判斷出：臺北、臺中、臺南三大都市，在清代設「府」的先後順序，正確者為何？  
 (A)臺北→臺中→臺南 (B)臺南→臺中→臺北 (C)臺中→臺北→臺南 (D)臺南→臺北→臺中。

【試題結束】