

九年__班 座號____ 姓名：_____

一、單選題：

- () 1. 誕生在美索不達米亞平原的文明是西亞最古老的文明。請問：這個平原在發展上有下列哪一缺點，造成政權不斷更替？
(A) 地勢平坦 (B) 土壤貧瘠 (C) 人口稀少 (D) 河流乾枯
- () 2. 許多大帝國皆擁有遼闊的版圖。請問：史上第一個橫跨歐、亞、非三大洲的帝國為何？
(A) 巴比倫帝國 (B) 阿拉伯帝國 (C) 波斯帝國 (D) 拜占庭王國
- () 3. A 君信奉的宗教提倡善惡二元論，相信宇宙間存在善惡兩股勢力的對立。請問：他最有可能是哪個宗教的信徒？
(A) 猶太教 (B) 祆教 (C) 婆羅門教 (D) 印度教
- () 4. 古埃及人為了掌握季節的變化與氾濫的關係，發展出哪些精密技術？
(A) 水利、醫學 (B) 太陽曆、測量 (C) 測量、水利 (D) 太陽曆、農耕
- () 5. 下列哪一項文化成就及發展與古埃及人無關？
(A) 金字塔 (B) 木乃伊 (C) 一神信仰 (D) 測量學
- () 6. 老師在講解課程時，輔以附圖的圖表讓同學更加了解。請問：老師講解內容應為以下何者？



- (A) 婆羅門教教義 (B) 猶太教教義 (C) 木乃伊緣起 (D) 帕德嫩神廟
- () 7. 埃及對哪一個神的崇拜，代表著他們相信靈魂的永恆性與循環再生？
(A) 太陽神 (B) 婆羅門神 (C) 法老 (D) 尼羅河神
- () 8. 楊教授在講述埃及文明的特色時，曾經提到過埃及是「尼羅河的贈禮」，楊教授的論點基礎為下列何者？
(A) 認為埃及法老王是尼羅河的象徵，故有此說 (B) 因尼羅河定期氾濫帶來肥沃土壤，使埃及發展出進步安定的農業文明 (C) 尼羅河形成天然屏障，保護埃及免受異族侵擾 (D) 尼羅河內豐富的水生物，足以養活埃及境內所有的人口
- () 9. 波希戰爭之後，希臘陷入內戰，最後由哪個王國統一半島？
(A) 麥錫尼 (B) 斯巴達 (C) 奧林匹亞 (D) 馬其頓
- () 10. 在希臘人的宗教觀上，下列哪項是其最重要的特質？
(A) 國王是上帝在世間的代理人 (B) 人神同質的多神信仰 (C) 死後輪迴 (D) 死後復活
- () 11. 希臘史學家修昔底德：「《伯羅奔尼撒戰爭史》這部歷史著作讀起來可能無法引人入勝，因為書中缺少虛構的故事。我所描述的事件不是我親自看見的，就是我從那些親自看見這些事情的人那裡聽到後，經過我仔細考核過了。」這部戰爭史即為古希臘內戰史實。請問：這本書的記載主要是以下哪兩個集團間的戰爭？
(A) 馬其頓、雅典 (B) 馬其頓、斯巴達 (C) 雅典、斯巴達 (D) 邁錫尼、特洛伊
- () 12. 羅馬文明的歷史依序可以分為哪三個時代？
(A) 共和、王政、專制 (B) 王政、共和、帝國 (C) 王政、帝國、共和 (D) 共和、專制、帝國
- () 13. 聖索菲亞大教堂現今是個博物館，館內的收藏主要是希臘正教與伊斯蘭教的文物，為哪兩個政權的統治作見證？
(A) 羅馬帝國、阿拉伯帝國 (B) 西羅馬帝國、東羅馬帝國 (C) 東羅馬帝國、鄂圖曼帝國 (D) 神聖羅馬帝國、鄂圖曼帝國
- () 14. 歐洲行會組織的出現，使得商人與工人的勢力更加團結，也能謀取更多權益。請問：行會組織最早出現於哪一時期？
(A) 上古歐洲 (B) 中古歐洲 (C) 羅馬共和時期 (D) 雅典城邦時期
- () 15. 小婷看到一個歷史敘述：「我以法國的諸侯身分入主英國，並擁有『征服者』的名號。」請問：這個人物為下列何者？
(A) 威廉 (B) 路易 (C) 亨利 (D) 瑪莉
- () 16. 在啟蒙思潮時期，亞當斯密提出「一隻看不見的手」，認為在經濟市場中，供給與需求會自己決定價格。請問：亞當斯密在經濟上如何主張？
(A) 政府完全控制 (B) 政府進行計畫經濟 (C) 政府自由放任 (D) 政府有計畫、條件性干預
- () 17. 下列有關啟蒙運動時期的學者和其提出重要的理論配對，何者正確？
(A) 孟德斯鳩 - 天賦人權 (B) 伏爾泰 - 三權分立 (C) 盧梭 - 主權在民 (D) 洛克 - 言論自由
- () 18. 啟蒙思想影響歐洲許多君主的觀念，他們認為為人民謀幸福，必須以強制手段從事改革。下列哪位統治者的施政

符合上述的情形？

(A) 路易十四 (B) 查理一世 (C) 彼得一世 (D) 凱薩琳二世

() 19. 某書籍記錄以下史實：「女皇和伏爾泰、狄德羅等法國啟蒙思想家交往密切，並在 1767 年夏天召集新法典起草委員會會議，宣佈女皇的訓令，主張開明專制、嚴厲的法治主義、法律面前人人平等。」請問：這位女皇是誰？

(A) 伊莉莎白二世 (B) 瑪麗 (C) 凱薩琳二世 (D) 伊莎貝拉

() 20. 下列是某文章的部分內容。根據內容判斷，這個國家是以下何者？

由於選舉權與選區的限制，使得下議院也只能代表少數富人的意見。因此自 1832 年起，國會通過數次的改革法案，放寬選舉權限制等措施，使更多人可以參與政治。

(A) 美國 (B) 法國 (C) 俄國 (D) 英國

() 21. 猶太教、基督教與伊斯蘭教等世界三大宗教的主要聖地皆位於何處？

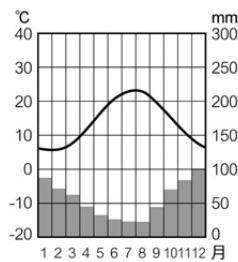
(A) 耶路撒冷 (B) 麥加 (C) 伊斯坦堡 (D) 麥地那

() 22. 日前丹麥《日德蘭郵報》刊出一系列如附圖充滿嘲諷意味的漫畫，引起了軒然大波，造成被嘲諷的對象相當不滿，



甚至揚言追殺該漫畫家。不滿被嘲諷的對象為下列何者？

(A) 佛教僧侶 (B) 基督徒 (C) 穆斯林 (D) 猶太人



() 23. 附圖的氣候類型分布於西亞哪些地區？

(A) 紅海、波斯灣沿岸 (B) 地中海、紅海沿岸 (C) 黑海、地中海沿岸 (D) 黑海、紅海沿岸

() 24. 下列何者是歐洲與非洲往來的重要管道？

(A) 阿爾卑斯山山谷 (B) 地中海海域 (C) 大西洋 (D) 絲路

() 25. 西元 79 年，義大利南部維蘇威火山爆發，吞沒了古羅馬龐貝城，當地之所以有火山活動的原因為何？

(A) 位於板塊張裂處 (B) 位於板塊交界擠壓處 (C) 位於中洋脊上方 (D) 海底礦產蘊藏豐富

() 26. 梵蒂岡是世界面積最小的國家，但卻是無形世界中力量最大的國家，有「神的國度」之稱，是全世界約 10 億教徒的精神歸屬。梵蒂岡是哪個宗教的聖地？

(A) 伊斯蘭教 (B) 印度教 (C) 基督教 (D) 天主教

() 27. 西元 79 年，維蘇威火山的爆發將龐貝古城掩埋，而半島西南側西西里島上的埃特納火山在二十世紀也不斷噴發，這些現象和下列何者關係最密切？

(A) 冰河地形發達 (B) 石灰岩遍布 (C) 板塊擠壓碰撞 (D) 河川侵蝕劇烈

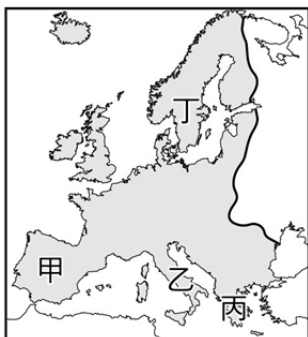
() 28. 受盛行風向吹拂的影響，荷蘭的風車亦多朝向哪一方位以獲得足夠的風力？

(A) 東方 (B) 西方 (C) 南方 (D) 北方

() 29. 西歐早期奠定其海外貿易與殖民的天然優勢，不包括下列哪項條件？

(A) 海岸線綿長 (B) 疆域多半島 (C) 西濱大西洋 (D) 東臨太平洋

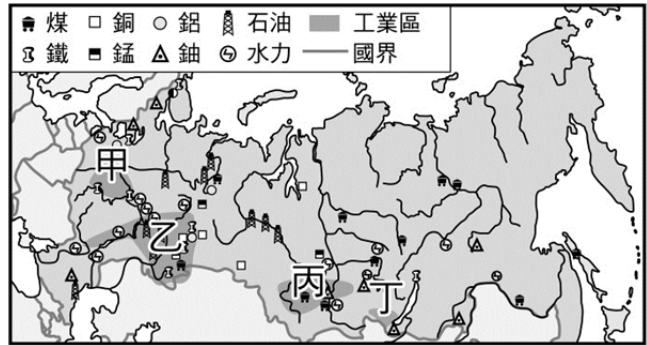
() 30. 國際知名的丹麥籍導演曾說：「季節的輪替影響了『斯堪地那維亞人』的思考與生活方式。寒冷與溫暖、黑暗與光明、憂鬱與希望，永無止盡的交替作用，形成了我們文化的基礎。」他所謂的「斯堪地那維亞人」應該是生活在附圖中的



何處？

(A) 甲 (B) 乙 (C) 丙 (D) 丁

- ()31. 石灰岩地形與鐘乳石洞的景觀，主要分布於東歐何處？
 (A) 歐洲大平原 (B) 喀爾巴阡山 (C) 巴爾幹半島 (D) 阿爾卑斯山
- ()32. 東歐區域內國家眾多、族群、文化雜異，但二次大戰後長期被視為一整體區域的原因為何？
 (A) 屬同一地形區 (B) 同屬過渡氣候帶 (C) 地理位置相同 (D) 政治意識型態接近
- ()33. 東歐位於內陸，全境屬溫帶大陸性氣候，但受到什麼因素影響，其年降水量由西向東減少？
 (A) 地形 (B) 西風 (C) 洋流 (D) 緯度
- ()34. 多瑙河與萊茵河是歐洲最重要的兩條河流，然而多瑙河雖然河流的長度較長，航運價值卻不如萊茵河來得高，這應該是多瑙河哪項缺點所導致的結果？
 (A) 冬季易結冰 (B) 出口方向不佳 (C) 水量季節變化大 (D) 洪患頻繁
- ()35. 俄羅斯的資源很豐富，適合工業的發展，如附圖，其自然資源不但可供內需，更可外銷，為俄羅斯賺進不少外匯。



俄羅斯的工業區中，哪個工業區範圍內，礦物資源最為豐富？

- (A) 甲 (B) 乙 (C) 丙 (D) 丁
- ()36. 附圖是俄羅斯鐵路分布圖，西伯利亞東北大半部相對較稀疏，其原因可能為下列何者？



- (A) 多古褶曲山脈 (B) 林礦資源貧乏 (C) 氣候較為酷寒 (D) 地震活動頻繁
- ()37. 位於北美洲美國與加拿大之間的五大湖，其形成的主要成因為何？
 (A) 冰河侵蝕 (B) 火山噴發淤積 (C) 斷層陷落 (D) 山崩淤積
- ()38. 快訊：「北美洲中部受到強烈的龍捲風侵襲，有幾處民宅受到毀壞……。」推測這則報導最有可能是發生在什麼季節？
 (A) 春夏交替 (B) 夏秋交替 (C) 秋冬交替 (D) 四季皆有
- ()39. 美國境內哪個地區位於環太平洋火山地震帶上，火山活動活躍，容易出現地震活動，常造成生命財產的損失？
 (A) 美國東部 (B) 美國西部 (C) 美國南部 (D) 美國北部
- ()40. 美國常被稱為是「民族的大熔爐」，這句話反映出下列哪項事實？
 (A) 美國接受來自世界各地的難民 (B) 美國是各國移民的熱門地點 (C) 美國具有多元的文化 (D) 美國文化深深影響各國文化
- ()41. 「復習功課與欣賞電視節目」之間的抉擇是屬於下列哪一種概念？
 (A) 負擔能力原則 (B) 受益原則 (C) 投資報酬 (D) 機會成本
- ()42. 阿奇今年剛退伍，在四處投遞履歷表之後，獲得了四個工作機會，由附表可知，甲工作的薪水為何？

工作	機會成本(元)
甲	30,000
乙	35,000
丙	35,000
丁	35,000

- (A) 30,000 元 (B) 35,000 元 (C) 65,000 元 (D) 105,000 元
- ()43. 為因應週休二日，小華的學校提供了下列幾項活動，若一人只能參加一項，則哪項對小華而言所付出的代價最小？

	直排輪	扯鈴	跆拳道	游泳
小華的成就感	70	85	75	60

- (A) 直排輪 (B) 扯鈴 (C) 跆拳道 (D) 游泳
- ()44. 俗諺說：「上帝是公平的，每人的一天都只有二十四小時。」對於這句話，班上四位同學分別以經濟學的觀點提出不同的見解。下列哪一位的說法最正確？

(A) 阿櫻：「時間是屬於可再生的自然資源。」 (B) 阿木：「因時間有限，所以我們要做機會成本最低的選擇。」 (C) 小川：「如付出相同的時間，每人所得到的報酬也應相同。」 (D) 大月：「時間有限的情況下必須有所選擇，所以我們要選擇滿足程度最小的那個選項。」

() 45. 我們通常在進行選擇行為時，會選擇機會成本最低者，若是機會成本一樣時，我們通常會做哪一個選擇？

(A) 排除滿足感較高者 (B) 選擇代價較高者 (C) 個人偏好度較高者 (D) 選擇最不易達成者

() 46. 小華每天放學回家，總會做些家事，他心想：如果我可以盡本分、做家事，父母就不用為家事操煩，也可以多花些心力在他們的工作上。上述小華的想法符合哪種經濟學的概念？

(A) 供需法則 (B) 分散風險 (C) 機會成本 (D) 比較利益

() 47. 志明在某機構發放的宣傳手冊中看到以下訊息：「您只要拿起電話撥 1950 四個號碼，這個電話就會直接轉接到當地縣（市）政府消費者服務中心，即可迅速獲得服務，歡迎多加利用。」根據上述內容判斷，志明拿到的宣傳手冊最可能是哪一機構所發放的？

(A) 董氏基金會 (B) 勵馨基金會 (C) 行政院消費者保護處 (D) 經濟建設委員會

() 48. 「麵包師傅」生產「麵包」來賣，在生產過程中「麵包師傅」及「麵包」分別屬於下列何種組合？

(A) 自然資源、資本 (B) 資本、產品 (C) 人力資源、產品 (D) 人力資源、自然資源

() 49. 張老闆自己開了一家紡織公司，由於公司訂單增加，所以他打算添購一臺機器增加生產。根據上述，張老闆是打算增加哪項生產要素？

(A) 自然資源 (B) 人力資源 (C) 企業才能 (D) 資本

() 50. 俗話說：「殺頭生意有人做，賠錢買賣沒人要。」這句話的意思是指就個人利益而言，生產者從事生產工作所追求的目標為何？

(A) 總成本最大 (B) 總產量最大 (C) 總利潤最大 (D) 總供給最大

() 51. 小平利用剩餘的錢，替剛出生的兒子在銀行存了一筆教育基金，以供將來求學之用，由上述可看出貨幣具有何種特色？

(A) 普遍被人們接受 (B) 具有儲存價值 (C) 數量雖多但有限 (D) 容易被細分

() 52. 附圖為早期人類進行交易時所採用的方式。圖中人物是採用下列何種方式來完成彼此的交易？



(A) 貨幣 (B) 紙鈔 (C) 以物易物 (D) 交易媒介

() 53. 近年來，臺灣的許多公司逐漸將生產線外移到中國或東南亞，這類將生產線外移的主因，可用哪一種經濟學觀點說明？

(A) 比較利益法則 (B) 需求法則 (C) 供給法則 (D) 負擔能力原則

() 54. 根據報導：「外資大量流入臺灣，是我國外匯存底再推新高的主因，截至目前為止，外匯存底累積為 2,500 億美元。」外資大量流入臺灣會導致什麼現象？

(A) 新臺幣升值 (B) 新臺幣貶值 (C) 美元升值 (D) 歐元升值

() 55. 去年甲國對乙國的出口總額為 300 億美元，進口總額為 400 億美元。上述現象顯示去年甲國對乙國的貿易呈現下列何種情況？

(A) 貿易平衡 (B) 貿易出超 (C) 貿易順差 (D) 貿易逆差

() 56. 臺灣的資源有限、市場狹小，要加強競爭能力，維持經濟發展，應採取何種策略？

(A) 擴大消費能力 (B) 保護本國產業 (C) 管制貿易進口 (D) 開放自由貿易

() 57. 下列四位受僱者，何人的表現具有正確的工作倫理？

(A) 老陳經常與同事為了搶客戶而爭吵 (B) 美鳳利用工作之餘的時間進修，加強專業能力 (C) 阿譽總是不滿現狀，經常在臉書上留言罵老闆 (D) 小楓認為薪水太少，決定帶領同事一起向老闆施壓

() 58. 臺積電文教基金會致力社區總體營造及文化藝術推廣，持續舉辦「臺積心築藝術季」，這樣的行為是哪種精神的具體表現？

(A) 企業回饋社會 (B) 企業獲取利潤 (C) 企業培育人才 (D) 企業公共關係

() 59. 當我們在選購商品時，應考慮到其對於生態環境的影響與衝擊，並選擇對環境傷害較少、甚至有利的商品。上述消費觀念我們稱之為何？

(A) 綠色消費 (B) 現金消費 (C) 網路消費 (D) 跨國消費

()60. 各國簽署《巴黎協議》共同對抗全球暖化，阿寶為了貢獻自己的心力，減緩全球暖化，提出如附圖的行動方案報告，其中何者最無助於改善此問題？



(A) 甲 (B) 乙 (C) 丙 (D) 丁

1. 答案：A
2. 答案：C
3. 答案：B
4. 答案：B
5. 答案：C
6. 答案：C
7. 答案：D
8. 答案：B
9. 答案：D
10. 答案：B
11. 答案：C
12. 答案：B
13. 答案：C
14. 答案：B
15. 答案：A
16. 答案：C
17. 答案：C
18. 答案：D
19. 答案：C
20. 答案：D
21. 答案：A
22. 答案：C
23. 答案：C
24. 答案：B
25. 答案：B
26. 答案：D
27. 答案：C
28. 答案：B
29. 答案：D
30. 答案：D
31. 答案：C
32. 答案：D
33. 答案：B
34. 答案：B
35. 答案：B
36. 答案：C
37. 答案：A
38. 答案：A
39. 答案：B
40. 答案：C

41. 答案：D
42. 答案：B
43. 答案：B
44. 答案：B
45. 答案：C
46. 答案：C
47. 答案：C
48. 答案：C
49. 答案：D
50. 答案：C
51. 答案：B
52. 答案：C
53. 答案：A
54. 答案：A
55. 答案：D
56. 答案：D
57. 答案：B
58. 答案：A
59. 答案：A
60. 答案：C