





一、單一選擇題 (一題 2 分)

請讀完下文才開始作答。

1. 本學科試題二張四面，交卷時只須交答案卡 (卷)。
2. 每題都有 A、B、C、D 四個選項，其中只有一個選項是正確的，請將正確答案選出。
3. 作答時必須使用 2B 黑色鉛筆，將正確答案劃記在答案卡上，否則不予計分。
4. 答案卡上劃記必須正確，答案塗改須擦拭乾淨，若劃記錯誤或不清楚影響電腦讀卡判讀，將不予計分。
5. 本試題卷分為三部份：一、選擇題，1~20 題，每題 2 分；二、整合題，21~43 題，每題 2 分，三、是非題：44~50 題，每題 2 分。滿分 100 分
6. 本學科試題應答時間為 45 分鐘，考試途中如有問題，請舉手發問。

1. ( ) 王先生打算賣有機蔬菜，朋友建議他可以在各種通路鋪貨，哪一個朋友建議的通路是「無形市場」？





- |  |   |  |   |
|--|---|--|---|
| <br>小芬：百貨公司的超級市場很適合這種商品。<br>(A) | <br>小珊：在捷運出入口開專賣店，可吸引上班族目光。<br>(B) | <br>小文：利用網路販售，可以節省租金成本。<br>(C) | <br>小蕙：可在傳統市場擺攤，試試消費者的接受程度。<br>(D) |
|--|---|--|---|

2. ( ) 2013 年，巴西幣貶值，幣值創四年來低點，連帶影響該國的進出口貿易。若其他條件不變的情況下，此幣值波動對巴西咖啡產業造成的影響，下列何者正確？(A)巴西為出口國，此種波動有利咖啡出口(B)巴西為出口國，此種波動不利咖啡出口(C)巴西為進口國，此種波動有利咖啡進口(D)巴西為進口國，此種波動不利咖啡進口

3. ( ) 以下為某個購物場景。根據內容判斷，價格是由何者決定？(A)政府(B)消費者(C)生產者(D)消費者與生產者共同決定



4. ( ) 下列為四位同學對比較利益法則的理解，何者觀念正確？

- |   |   |  |  |
|---|---|--|--|
| <br>小芬：每個國家只進口本國具比較利益的产品。<br>(A) | <br>小珊：價格低多買即是符合比較利益法則。<br>(B) | <br>小文：比較利益法則是分工的基礎。<br>(C) | <br>小蕙：比較利益法則運用的是絕對優勢。<br>(D) |
|---|---|--|--|

5. ( ) 「買方市場」是指買賣時的價格經常決定於買方，消費者有較大的議價空間。下列哪個情形稱之為「買方市場」？(A)供不應求 (B)供過於求 (C)價格上漲 (D)市場均衡

6. ( ) 幾個朋友聚在一起聊天，分享日常生活，下列何人提及的行為能夠賺取外匯？

- |   |  |  |  |
|---|--|--|--|
| (A)  去年我賣到中東的虱目魚賺了不少錢。 | (B)  我在超市買了西班牙進口的橄欖油。 | (C)  去日本時，我喜歡採購當地的土產。 | (D)  我每個週末一定會光顧夜市的臭豆腐攤。 |
|---|--|--|--|

7. ( ) 花媽請柚子跟橘子利用週末打掃家中環境，已知兩人擦一輪窗戶或掃一次地所需的時間如附表，請問：根據比較利益原則，兩人應該如何分工比較有利？(A)柚子掃地、橘子擦窗戶 (B)柚子擦窗戶、橘子掃地 (C)兩人先一起擦窗戶，接著一起掃地 (D)兩人的工作效率相同，如何分工都沒有差異。

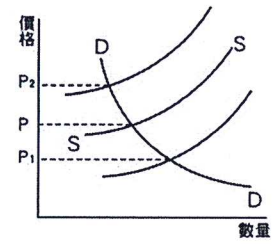
人物	擦窗戶一輪	掃地一次
柚子	1 小時	45 分鐘
橘子	1.5 小時	1 小時

【背面還有試題，請繼續作答】

8. ( ) 日前衛福部食藥署驗出部分從中國進口的大闸蟹戴奧辛超標,使得大闸蟹供應量大減。下圖中,DD為大闸蟹的需求曲線,SS為大闸蟹的供給曲線,假設其他條件不變,此時大闸蟹的價格會做何變化? (A) $P \rightarrow P_1$  (B) $P \rightarrow P_2$  (C) $P_2 \rightarrow P_1$  (D)不變。

9. ( ) 各國間貨幣兌換的比率稱為「匯率」,匯率的變動對經濟活動與國際貿易都會產生影響,以下的相關敘述何者正確? (A)如果澳幣對新臺幣匯率1:22,代表新臺幣的幣值較高 (B)當新臺幣升值的時候,家電進口商的成本也會跟著提升 (C)當美元對新臺幣貶值時,去美國旅遊的花費會降低 (D)一個國家的幣值愈低,代表經濟條件也愈差。

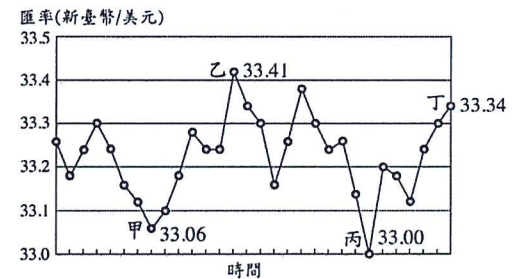
10. ( ) 假如現今的匯率為美金:新臺幣=1:30,而公仔模型價格是美金20元,則根據附圖內容,下列敘述何者正確? (A)當美金貶值,不利老闆進口商品 (B)當美金升值,有利老闆進口商品 (C)若依購買當時匯率計算,公仔價格為新臺幣720元 (D)若依現今匯率計算,公仔價格為新臺幣720元。



11. ( ) 下表為四個國家一年來的進、出口資料。根據內容判斷,哪一個國家該年出現「貿易逆差」? (A)甲國(B)乙國(C)丙國(D)丁國。

	甲國	乙國	丙國	丁國
出口項目(種)	288	760	450	899
進口項目(種)	355	1000	300	763
出口總值(億美金)	263	650	163	798
進口總值(億美金)	440	612	140	687

12. ( ) 吉祥公司定期以新臺幣兌換美元後,向美國進口價值一千美元的原料,附圖是該公司的兌換紀錄,圖中顯示在不同的時間點以1美元兌換新臺幣的比率。僅根據圖中內容判斷,若以新臺幣為衡量單位,甲、乙、丙、丁四個時間點,何者的進貨成本最高? (A)甲(B)乙(C)丙(D)丁。



13. ( ) 有四個留學生聚在一起分享自己國內的狀況,哪一位同學的國家面臨通貨膨脹的現象?

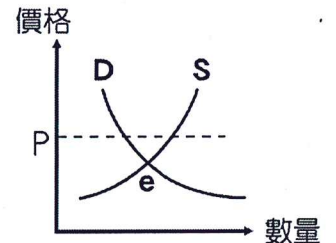
(A) 才半天的時間,所有的食物價格就漲了5倍。 (Lily)

(B) 短短1個月,政府的財經政策卻變了3次。 (Mike)

(C) 這幾年來,物價幾乎沒什麼波動。 (Jim)

(D) 我們沒有私有財產,通常都是政府主導經濟活動。 (Alan)

14. ( ) 附圖中,e點代表市場均衡的狀況,而目前小戚店內霜淇淋的價格為P,則小戚應該如何做,才能達到市場均衡? (A)將霜淇淋價格提高(B)舉辦買一送一的活動(C)增加霜淇淋的產量(D)購入雙倍的霜淇淋原料。



15. ( ) 喜歡吸收知識與關心各國財經局勢的班長知雲,靈機一動想跟大家分享今日的報紙標題:「2017年10月美國聯準會決定拋售債券,『貨幣寬鬆時代』正式結束了!」,內文的分析認為,此舉將導致美金升值。而關於此政策的影響,下列敘述何者正確? (A)新台幣貶值,有利外國人來台觀光 (B)新台幣貶值,有利國人出國至他國旅遊 (C)新台幣貶值,不利於我國產品的出口 (D)新台幣貶值,有利進口更多外國商品。

16. ( ) 颱風過後,家庭主婦到市場買菜常會抱怨說:「錢變薄了。」她們言下之意為何? (A)青菜需求量增加,錢不夠用(B)貨幣升值,青菜品質下降(C)降低伐木數量以節省紙張,所以紙鈔變薄(D)供給量減少,菜價上漲,相同的錢能買到的青菜數量減少。

17. ( ) 小嘉與小俊想用陶土捏製碗盤,附表為他們所能做出的數量,若小嘉在製作陶碗上具有絕對利益,但依比較利益法則,他卻負責生產盤子。根據上述內容判斷,附表中的甲、乙最可能為下列何者? (A)甲:7,乙:5 (B)甲:7,乙:2 (C)甲:5,乙:5 (D)甲:5,乙:2

	陶碗	盤子
小嘉	6	乙
小俊	甲	3

單位:個/小時

18. ( ) 墨西哥發生大地震,各種資源紛紛湧入受災地區,以下是記者小澄在當地所看到的景象:(甲)醫療單位提供藥品給傷者使用;(乙)小孩吃著紅十字會所贈送的點心;(丙)年輕人到商店搶購日用品;(丁)老人們排隊領取慈善團體所發給的礦泉水。上述哪一種資源取得的方式,具有市場經濟制度的特色? (A)甲(B)乙(C)丙(D)丁

19. ( ) 在自由競爭的市場中，若有必要政府會適度介入市場以保障經濟弱勢者權益，例如我國為保障勞工工作權益，勞動部經行政院核定於2018年元旦起，勞工每月基本工資調整為2萬2000元，每小時基本工資調整為140元。請問：上述政府的經濟作為與下列何者相同？(甲)高速公路通行費 (乙)股市的漲停板 (丙)國際原油價格 (丁)銀行的房貸利率 (A)甲乙(B)乙丁(C)甲丁(D)乙丙。
20. ( ) 小威為了要買最新的遊戲軟體，將存了很久的撲滿打破，這些銅板算一算總共有兩千多，於是小威拿了一千元的硬幣到店裡付錢，雖然都是零錢，使用起來很不方便，但老闆還是願意收下的主要原因是什麼？(A)硬幣本身的價值很高(B)硬幣可以儲存起來變成古董(C)硬幣設計精美，惹人喜愛(D)硬幣也是法定貨幣，不得拒絕顧客支付。

## 二、題組 (一題 2 分)

- (一) 南美洲國家委內瑞拉，因內亂戰爭以及政府貪污，導致國內通貨膨脹嚴重失控，委內瑞拉政府為了試圖扭轉局勢，嚴格控制貨幣，並於2016年12月廢除舊鈔，改用新面額的貨幣，委國國內卻因此現金短缺更嚴重，醫藥與民生物資也極度缺乏，境內街道上隨處可見在垃圾堆裡翻找食物的民眾，今年七月該國的通貨膨脹率高達82700%。
21. ( ) 文中所描述的委國情形，較符合下列哪一項經濟趨勢？(A)物價下跌，貨幣升值 (B)物價上漲，貨幣升值 (C)物價下跌，貨幣貶值 (D)物價上漲，貨幣貶值。
22. ( ) 根據中文描述的委國經濟狀況判斷，會出現下列幾項狀況？(甲)老闆惜售商品 (乙)儲蓄意願降低(丙)人民對本國貨幣的信心增加(丁)該國治安因物價升高逐漸好轉，犯罪率降低 (戊)對領固定薪水的人而言，對生活帶來不利影響 (A)甲丙丁(B)甲乙戊(C)乙丙戊(D)甲丙戊。
23. ( ) 在我國則是由中央銀行負責謹慎地控制貨幣數量，下列哪一條新聞與中央銀行的任務相符？(A)匯市爆量，力守30關卡 (B)APEC會議由張忠謀出席(C)臺灣銀行推出導盲犬認同卡(D)油價凍漲到年底
24. ( ) 恩宇與永萍兩人去委內瑞拉自助旅行，雖知道該國通膨嚴重，但沒想到物價竟漲幅如此之高，決定用信用卡購物。下列關於信用卡之各項敘述，何者正確？(A)屬於實質貨幣的一種(B)發揮價值儲存的功能(C)延遲支付花費的工具(D)政府以法令強制規定其具有價值。
25. ( ) 一卷衛生紙要 260 萬玻利瓦 (約合新台幣 12 元)、一公斤紅蘿蔔要 300 萬玻利瓦 (約合新台幣 13.8 元)，上述顯示貨幣的何種功能？(A)交易媒介(B)價值儲存(C)價值衡量(D)債務清償
26. ( ) 由於嚴重的通膨危機，過去一段時間委內瑞拉民眾大量購買比特幣避險，從今年六月起，該國比特幣每周交易量已經上升了一倍之多。請問：下列有關比特幣的說法，何者正確？(A)本身具有一定價值，又稱為「商品貨幣」(B)可作為交易媒介，但不具備價值儲存的功能(C)又稱為「法定貨幣」，由委內瑞拉政府負責發行(D)和信用卡一樣，都是「塑膠貨幣」的一種

(二) 2018年3月22日美國總統唐納·川普宣布對從中國進口的商品徵收關稅，以「懲罰中國偷竊美國智慧財產和商業秘密」，涉及商品總計達600億美元。中國商務部其後作出反制措施向128種美國進口商品徵稅，其中包括美國向中國出口最多的貨品大豆 美中貿易大戰持續升級，如今由於雙方都不讓步，正陷入僵局。而身為世界最大航太製造商的波音表示，它正扮演和事佬的角色，並致力在中國大陸投資。對波音來說，大陸市場十分重要，未來20年間，它可望與中國做總價高達1兆美元的生意。波音民用飛機集團(BCA)行銷副總裁廷賽斯說，波音已在韓國濟州島舉行的亞太航空公司協會年會中向美中雙方強調「互利」的論點。

27. ( ) 除了直接出口到中國的飛機可能被加徵關稅，波音還面臨美國對中國以外國家的貿易新政策——比如美國對歐盟、墨西哥和加拿大的鋼鐵徵收25%關稅，對鋁徵收10%關稅。根據內容判斷，文中所指不利波音產品競爭力的原因，最可能是下列何者？(A)生產要素不足(B)商品售價變高(C)區域統合瓦解(D)勞動所得增加。
28. ( ) 波音是美國最大的出口商，有80%的產品都銷往國外。請問：下列哪一國的產品與波音同為具比較利益的商品？(A)德國的雙B汽車(B)紐西蘭的厚奶茶(C)日本的香蕉(D)台灣的小米手機
29. ( ) 美國前財政部長鮑爾森表示，如果不解決美、中分歧，世界恐將出現「經濟鐵幕」，並建議中國應該開放市場，上述說法顯示目前中國的經濟政策偏向於哪一種經濟制度？(A)市場經濟—價格由消費者決定(B)計畫經濟—政府沒有嚴格控制市場價格(C)市場經濟—生產者要因應市場變化調整生產活動(D)計畫經濟—經濟決策權由政府支配。
30. ( ) 川普政府要求中國，立即將對美貿易順差3750億美元大砍1000億美元。這表示中、美的貿易情形為(A)美國從中國買入貨品的總額，大於把貨品賣到中國的總額(B)美國從中國買入貨品的總額，小於把貨品賣到中國的總額(C)進出口金額相等(D)從美國出口到中國貨品的總額大於從中國進口貨品的總額
31. ( ) 波音公司的做法是將研究總部設在本國，可是零組件在中國製造、出貨，利用兩地的優勢布局企業。請問：下列敘述何者正確？(甲)美國的研發能力優於中國(乙)與美國相較，中國在提供基層勞力上享有比較利益(丙)此種布局可提升產品價格的競爭力(丁)研發中心設在美國是考量機會成本較高的因素(A)甲乙丙(B)甲乙丁(C)甲丙丁(D)乙丙丁。
32. ( ) 中國商務部其後聲明指出，「美國違反世界貿易組織規則，發動了迄今為止經濟史上規模最大的貿易戰」。各國加入WTO後，對國內經濟可能會有什麼影響？(A)更能保護國內傳統產業(B)進口擴增，導致產品價格上升(C)面臨國際產品的強烈競爭(D)人民更愛用國貨

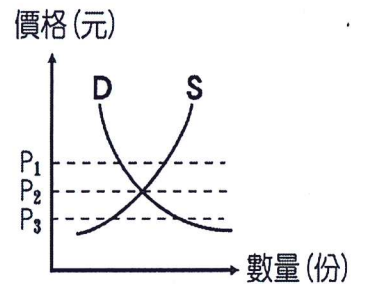
【背面還有試題，請繼續作答】

33. ( ) 中國民航界業內人士林智傑表示，中國是全球最大飛機市場，一旦徵稅政策落地，將對波音飛機訂單產生較大影響。「如果失去這一市場，裁員可能會成為波音度過難關的一個選項。」就經濟學角度來看，裁員屬於下圖經濟活動循環簡圖中哪一部分的減少？(A)商品需求(B)商品供給(C)生產要素需求(D)生產要素供給
34. ( ) 波音在去年有30%業務都直接來自大陸買主，因此針對中國客戶，正加緊在舟山建美國以外的第一座737飛機製造廠，而工廠可望在明年初開張。請問：波音將這座737飛機製造廠就近設在中國，主要的考量為？(A)增加中國國內的就業與投資(B)使各地消費者的選擇增加(C)提升中國的產業競爭力(D)降低生產成本。
35. ( ) 波音期望，在未來20年間，737飛機製造廠能賣數千架新飛機給中國。可增加的是屬於哪一個部分？(A)消費支出(B)生產成本(C)所得收入(D)銷貨收入

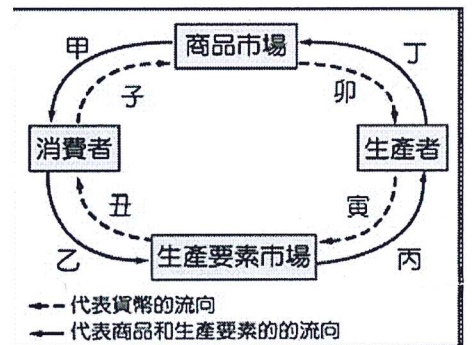
(三)今年底即將舉行縣市長與議員選舉，戰火遍地開花，國民黨高雄市長候選人韓國瑜參選後，從一碗滷肉飯、一瓶礦泉水、北漂、到「貨賣得出去，人進得來，高雄發大財」等口號，掀起「韓流」，造勢晚會頻出現支持民眾人手1支國旗，旗海飄揚景象引人注目。台中的旗幟業者也受到韓流嘉惠，訂單大增，業績成長2成，日夜趕工，搶賺選舉財

36. ( ) 依文章內容判斷，此時國旗的價格最有可能發生右圖中的何種變化？(A)移往P1方向 (B)移往P3方向(C)維持在P2(D)無法預測。

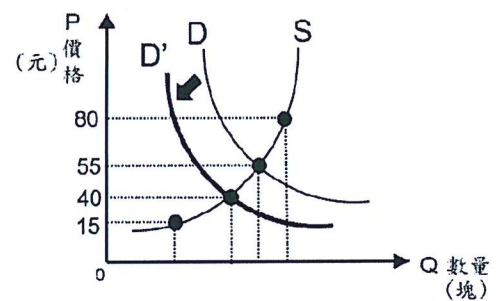
37. ( ) 韓國瑜在雲林時就遇到兩位農民下跪陳情，指出因今年因氣候較穩定，高麗菜種植順利菜價在11月初就開始崩跌，請問：此時高麗菜的價格最有可能落在右圖中的哪一區？(A)P1到P2(B)P2到P3(C)維持在P2(D)無法預測。



38. ( ) 浩恩在韓國瑜競選總部打工，每天可領1,000元的薪資。上述的1,000元對浩恩而言，屬於經濟活動循環簡圖中的哪一項？(A)子(B)丑(C)寅(D)卯
39. ( ) 承上題：浩恩將打工所得拿去買蜂蜜檸檬飲料犒賞自己，這是屬於右圖中的哪一部分？(A)甲子(B)乙丑(C)丙寅(D)丁卯



40. ( ) 關於旗幟店的各項敘述，何者正確？(A)旗幟店的老闆為商品市場的需求者(B)依據市場形體有無區分是屬於有形市場(C)造成國旗搶購的主要原因來自於需求法則(D)交易方式是採取「以物易物」的方式來完成的。
41. ( ) 年輕人北漂的主要原因是北部工作機會多，薪資也較高，這是屬於右圖中的哪一部分？(A)甲子(B)乙丑(C)丙寅(D)丁卯
42. ( ) 韓國瑜公開說：「東西賣得出去、人進得來，高雄發大財」，他表示要以在北農的經驗將高雄農產品外銷到各國，請問：外銷出去的商品是以何種工具做交易？(A)使用信用卡(B)使用外匯(C)以物易物(D)支付新臺幣



43. ( ) 就經濟學角度來看選舉旗幟的市場供需狀況(如右圖)，選後出現熱潮衰退的現象(原需求曲線D移動至D')，店家為搶救生意被迫調整價格。根據圖中訊息，判斷下列敘述何者正確？(A)當價格調整為40元時，市場供不應求(B)當價格調整為15元時，引發通貨膨脹。(C)當價格調整為55元時，達到市場均衡 (D)當價格調整為80元時，市場供過於求

三、是非題

44. ( ) 各國應該生產機會成本較高的商品。(A)○(B)×
45. ( ) 農曆新年將至，民眾可到各地中央銀行換新鈔(A)○(B)×
46. ( ) 我國與中國在2010年簽署兩岸經濟合作架構協議(ECFA)。(A)○(B)×
47. ( ) 通貨膨脹是指某樣商品在短時間內暴漲的情形(A)○(B)×
48. ( ) 小雲向哥哥借1萬元作為網路開店的基金，待有盈餘時再還哥哥1萬個一元，哥哥雖無奈也得收下。這是因為新台幣具有無限法償功能(A)○(B)×
49. ( ) 台灣目前具優勢的產業為勞力密集型產業 (A)○(B)×
50. ( ) 世界貿易組織是以促進國際間貿易自由化為宗旨。(A)○(B)×

【試題結束】