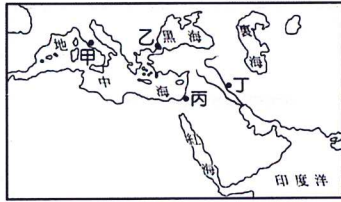


桃園市立自強國中107學年度上學期九年級第二次定期考查歷史科題目卷 P4-1

請讀完下文才開始作答

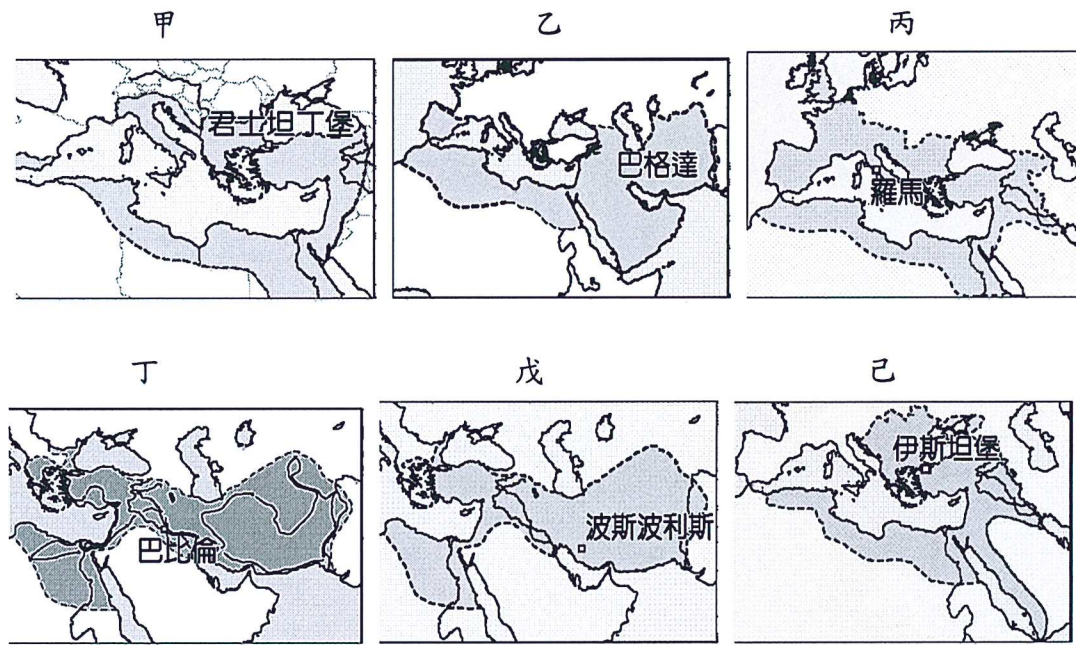
1. 本學科試題二張四面，交卷時只須交答案卡。
2. 每題都有 A、B、C、D 四個選項，其中只有一個選項是正確的，請將正確答案選出。
3. 作答時必須使用 2B 黑色鉛筆，將正確答案劃記在答案卡上，否則不予計分。
4. 答案卡上劃記必須正確，答案塗改須擦拭乾淨，若劃記錯誤或不清楚影響電腦讀卡判讀，將不予計分。
5. 本試題卷共有 50 題題目（選擇題共 40 題，題組題共 10 題），每題 2 分，總共 100 分。

一、選擇題：


1. () 西元五世紀起，歐洲進入中世紀時期。請問：哪一史事的發生為歐洲中世紀時期揭開了序幕？
(A) 西羅馬帝國滅亡 (B) 東羅馬帝國滅亡 (C) 阿拉伯人的入侵 (D) 十字軍東征結束。
2. () 歷史老師在黑板上寫了諸多宗教名稱：(甲) 婆羅門教 (乙) 猶太教 (丙) 佛教 (丁) 基督教 (戊) 道教 (己) 伊斯蘭教。
請問：上述宗教中，哪些屬於一神信仰？ (A) 甲丙己 (B) 乙丁戊 (C) 乙丁己 (D) 甲乙丁。
3. () 某位國王在位時致力推廣拉丁文與基督教，並在西元 800 年被加冕為「羅馬人的皇帝」。他積極擴張領土，幾乎統一了西歐。然而，帝國卻在他死後逐漸分崩離析，最後帝國一分為三。這位被加冕的國王應該是下列何者？
(A) 君士坦丁 (B) 查士丁尼 (C) 鄂圖一世 (D) 查理曼。
4. () 電影《騎士出任務》在西班牙格拉那達著名的阿爾罕布拉宮拍攝，其中某宮殿是一座具有伊斯蘭色彩的文化博物館，該建築利用植物為主題圖案的拱門以及水池做裝飾，使其中庭迴廊的外觀豪華而耀眼。請問：這個基督教世界中少見的伊斯蘭建築，應與哪一政權有關？
(A) 阿拉伯帝國 (B) 拜占庭帝國 (C) 鄂圖曼土耳其帝國 (D) 塞爾柱土耳其帝國。
5. () 「路是人走出來的」這句話常常會運用在安慰遭逢困頓的朋友身上。同樣的，歷史上的地理大發現也是因為要跟東方進行貿易，卻遭遇到以下哪一組人馬阻礙而使得人們從海上另尋新航路？ (A) 義大利、神聖羅馬帝國商人 (B) 義大利、鄂圖曼土耳其商人 (C) 義大利、印度商人 (D) 鄂圖曼土耳其、蒙古商人。
6. () 電視新聞常常報導某某企業子女結成連理，使得雙方事業版圖更加擴大。而歷史上，統治階級也常常有類似事件發生。請問：以下哪個國家即是因為雙方結婚而形成新的國家？
(A) 英國 (B) 法國 (C) 西班牙 (D) 葡萄牙。
7. () 這個地方是伊斯蘭教、基督教、猶太教共同的聖地，前往該地朝聖的路徑若被阻撓，往往會引發衝突。
上文介紹的「這個地方」應位於右圖中何處？
(A) 甲 (B) 乙 (C) 丙 (D) 丁。

8. () 隨著歐洲城市的復甦和人文主義的發展，傳統基督教信仰的內涵和羅馬教會的威望，愈來愈不能滿足社會大眾的需求，終於在西元 16 世紀初，發生了宗教改革運動。請問：面對新教的攻擊，舊教也開始改革，因而創立了「耶穌會」，替舊教爭取到不少信徒。請問：「耶穌會」創立者是誰？
(A) 羅耀拉 (B) 喀爾文 (C) 亨利八世 (D) 馬丁路德。
9. () 浩浩到南美洲的秘魯旅遊，導遊介紹馬丘比丘遺址時說：「印第安原住民曾在此地建立輝煌的文明與帝國，但如今已不復存在。」上述文明應是指下列何者？ (A) 馬雅 (B) 印加 (C) 奧爾梅克 (D) 阿茲提克 文明。
10. () 小明若想從「阿拉丁和神燈」、「阿里巴巴與四十大盜」、「辛巴達歷險記」這些故事了解古代巴格達的社會風俗民情，他應該到圖書館借閱下列哪一本書？ (A) 天方夜譚 (B) 暮光之城 (C) 伊索寓言 (D) 格林童話。
11. () 承上題，此書其中有一則「阿里巴巴和四十大盜」，講述阿里巴巴運用智慧打敗沙漠盜賊和巫師，最後贏得財富和美女的故事。信奉伊斯蘭教的阿里巴巴，我們可以如何稱呼他？
(A) 阿拉 (B) 婆羅門 (C) 伊斯蘭 (D) 穆斯林。
12. () 歐洲局勢由「地中海時代」轉變為「大西洋時代」的關鍵為下列何者？
(A) 十字軍東征 (B) 文藝復興運動 (C) 地理大發現 (D) 黑死病的傳播。
13. () 拜占庭帝國對歷史的貢獻，下列哪些是「正確」的？甲：保存古希臘、羅馬典籍；乙：抵抗亞洲勢力的入侵，屏障西歐；丙：將其文化傳入北非地區，對該地的宗教文化產生重大影響；丁：其保存的古典文獻，對日後的歐洲啟蒙運動有重要的貢獻；戊：帝國的強盛深刻影響斯拉夫民族的學習與仿效。
(A) 甲乙丁 (B) 甲乙丙 (C) 甲乙戊 (D) 乙丙丁。
14. () 中世紀歐洲書籍主要是以牛皮為紙，慢慢書寫出來，但某事件之後，印刷術傳入西方，使得歐洲書籍可以大量印刷，對教育文化事業有所助益。上文中的某事件應是下列何者？
(A) 十字軍東征 (B) 地理大發現 (C) 絲路的開通 (D) 蒙古西征。
15. () 中國有一大堆「不愛江山只愛美女」的帝王，而這位英國國王不只愛江山也愛美人，為了婚姻問題和教宗鬧翻，自行成立英國國教派。上文中的這位國王應是下列何者？
(A) 威廉一世 (B) 查理曼 (C) 亨利八世 (D) 詹姆士二世。

桃園市立自強國中107學年度上學期九年級第二次定期考查歷史科題目卷 P4-2

16. ()世界史上曾出現過數個橫跨歐、亞、非三洲的帝國，以下分別是這些帝國的疆域圖，請按照這些帝國建立的時間先後順序加以排列，下列何者正確？ (A)甲乙丙戊己丁 (B)戊乙己丙丁甲 (C)乙丁戊甲丙己 (D)戊丁丙甲乙己。



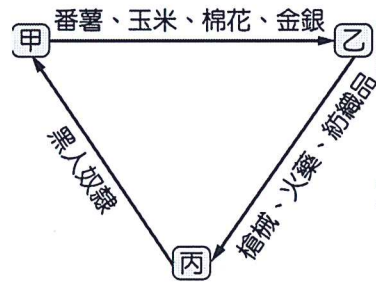
17. ()西元 1453 年義大利地區有一份號外如附圖。請問：這是哪一民族所為？ (A)塞爾柱土耳其人 (B)鄂圖曼土耳其人 (C)阿拉伯人 (D)斯拉夫。



18. ()下列何人提出「九十五條論綱」，主張每個人都可以憑藉閱讀聖經直接與上帝溝通，不需要依賴教會神職人員的引導？ (A)馬丁路德 (B)喀爾文 (C)亨利八世 (D)羅耀拉。
19. ()就讀歷史系的美美對西洋史的帝王特別感興趣，並寫了有關神聖羅馬帝國首位皇帝的報告。請問：美美的報告應是下列何人？(A)鄂圖一世 (B)君士坦丁 (C)查理曼 (D)亨利八世。
20. ()阿拉伯商人活躍於世界各地，因而也促成各地的文化交流，請問：透過阿拉伯人而傳播的文化，不包括下列哪個？ (A)中國火藥 (B)中國造紙術 (C)印度的數字系統 (D)阿拉伯的股份公司。
21. ()中世紀的歐洲出現許多政權：甲、拜占庭帝國；乙、查理曼帝國；丙、西哥德王國；丁、神聖羅馬帝國。其中由日耳曼民族所建立的國家有哪些？ (A)甲乙丙 (B)甲乙丁 (C)乙丙丁 (D)甲丙丁。
22. ()宗教革命後，產生了許多新教的教派，但並非所有的新教派別都可以和平相處。例如：在英國的清教徒便因為受到迫害，於是搭乘五月花號移民至美洲，成為美洲的新住民。清教徒屬於下列哪個新教派別的團體？ (A)路德教派 (B)喀爾文教派 (C)英格蘭教派 (D)天主教派。
23. ()亞倫上網查有關中世紀西歐社會生活的特色，下列哪些是正確的？(甲)基督教信仰是他們的生活重心(乙)西歐的農民在莊園制度下，必須辛苦耕種，向地主繳納穀物(丙)所需物資大多透過商業活動取得(丁)到教會附設的學校學習希臘文 (A)甲乙 (B)乙丙 (C)丙丁 (D)甲丁。
24. ()十六世紀，某探險家環遊世界時，在太平洋上行駛了 90 多天，船員因為缺乏糧食，只能以皮革、木屑和老鼠充饑。當船隊抵達今日的菲律賓時，卻又捲入當地的內戰，這名探險家不幸受傷而亡。請問：此人是下列何者？ (A)狄亞士 (B)達伽馬 (C)哥倫布 (D)麥哲倫。
25. ()在小如居住的社區公共綠地中豎立著一座雕刻作品大衛像，在老師介紹到文藝復興時期的藝術家時，小如才知道原來他們社區中的大衛像是屬於文藝復興時期的作品。請問大衛像是下列何人的作品？ (A)米開朗基羅 (B)達文西 (C)喬托 (D)拉斐爾。
26. ()市民階級的形成，是近代歐洲歷史發展的重要推動力量。請問：市民階級的形成，主要與下列哪一件事情有關？(A)莊園經濟的形成 (B)大學制度的建立 (C)商業貿易的復甦 (D)伊斯蘭教的創立。

尚 有 試 題

27. () 純純找到一份論文，內容標題如下：「制定法典」「西征收復失土」「興建聖索菲亞教堂」。請問：這篇論文應該是以何人作為研究對象？ (A) 鄂圖一世 (B) 查理曼 (C) 查士丁尼 (D) 亨利八世。
28. () 林琳趁空閒時與朋友自助旅行前往義大利度假，旅遊中觀賞許多經典的藝術作品，令她大開眼界。林琳看了許多藝術品之後，發現文藝復興的作品有一項特點。依據你的判斷，應該是哪一項？ (A) 著重人物情感的表達 (B) 以抽象的線條與圖案表達訴求 (C) 強調五官的平面感 (D) 著重山水留白的感受。
29. () 附圖為某時期歐洲國家對外貿易示意圖，當時這種海外拓殖的風潮，成為主導近代世界的力量。請問：附圖中的「甲」最有可能是下列哪一地區？ (A) 美洲 (B) 亞洲 (C) 非洲 (D) 歐洲。



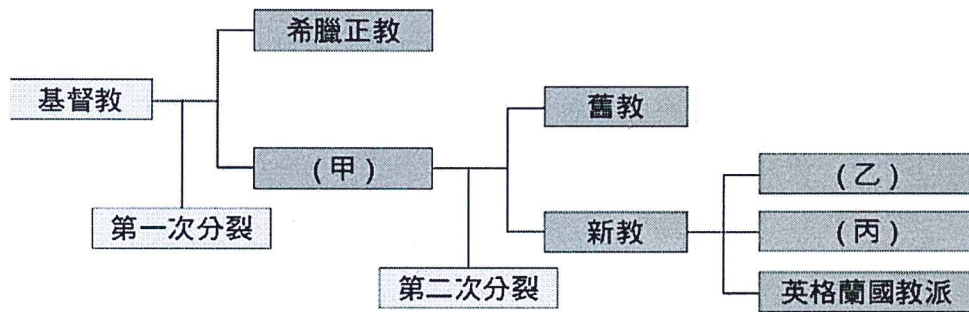
30. () 中國西周與中世紀西歐的封建制度同樣是建立在土地的分封基礎上，兩者不同處在於西周是以血緣為依據，而西歐是以何種關係為依據？ (A) 宗教 (B) 階級 (C) 種族 (D) 契約。
31. () 原本只是地圖上不起眼的小國，但是因為位置面向大西洋，王室中又有人率先推動航海技術的發展，鼓勵、資助狄亞士、達伽馬等人發現通往東方的新航線，因此一度成為遼闊的殖民帝國。請問：上述的內容應該是指哪個國家？ (A) 英國 (B) 法國 (C) 西班牙 (D) 葡萄牙。
32. () 詹姆士生活於中世紀後期的歐洲人，在佛羅倫斯開了一家香料店，由於所販賣的香料價格過於便宜，是別家的三分之一，有人便跑來警告他，要他加入當地同業的商業組織，並且依照組織公定的價格賣香料，否則就不准他開店。請問：這種同業組織在當時稱為什麼？ (A) 教會 (B) 商幫 (C) 洋行 (D) 行會。
33. () 上歷史課時，老師播放了電影「聖女貞德」，片中描述少女貞德毅然從軍，最後遭英軍處死的故事。請問：該片的時代背景為何？ (A) 十字軍東征 (B) 英法百年戰爭 (C) 亞歷山大東征 (D) 蒙古西征。
34. () 承翰整理法蘭克王國與拜占庭帝國的差異並製成表格，哪些是正確的？

國 家	法蘭克王國	拜占庭帝國
(甲)著名君王	查理曼	查士丁尼
(乙)最大疆域	今日西歐大部分地區	跨歐、亞、非三洲
(丙)通行文字	希臘文	拉丁文
(丁)宗教領袖	羅馬教宗	拜占庭皇帝

- (A) 甲乙丙 (B) 乙丙丁 (C) 甲乙丁 (D) 甲丙丁。
35. () 曉玲隨著友人到清真寺做禮拜，看到伊斯蘭教教徒人手一本《古蘭經》。請問：在中世紀時，透過《古蘭經》的誦讀，使哪一語文成為當時伊斯蘭教世界的通用語？ (A) 希臘語 (B) 拉丁語 (C) 土耳其語 (D) 阿拉伯語。
36. () 西洋史有一位學者在其著作中坦率說：『我不想變成上帝，或者居住在永恆之中，或者把天地抱在懷裡。關於人的那種光榮對我而言夠了，我自己是凡人，我只要凡人的幸福。』請問：這位學者最有可能是誰？ (A) 中世紀時期－查士丁尼 (B) 中世紀時期－查理曼 (C) 文藝復興時期－佩脫拉克 (D) 宗教改革時期－馬丁路德。
37. () 「在他的著作中，希望君王要以史事為鑑，主張君王應揚棄基督教倫理，以追求政治上的利益。」這應是對何人的描述？ (A) 薄伽丘 (B) 佩脫拉克 (C) 莎士比亞 (D) 馬基維利。
38. () 西元 15 世紀時，歐洲封建制度瓦解，王權逐漸提高。其組成不同於過去歐洲由許多民族組成的帝國，也與中世紀歐洲封建王國有別。請問：哪一國家不是西元 15 世紀後歐洲較早出現王權提高的國家？ (A) 英國 (B) 德國 (C) 法國 (D) 西班牙。
39. () 母語教學是當前臺灣極力推廣的教學內容，在小學階段多半都設有母語教學的課程。請問：在西方歷史上的哪一個時期，各地區興起以方言來從事創作？ (A) 地理大發現 (B) 文藝復興 (C) 宗教改革 (D) 科學革命。
40. () 中世紀後期，西歐在經濟上出現重大的改變，逐漸由封閉轉變為開放的型態。造成中世紀後期商業日漸復甦，主要原因為何？ (A) 農業技術與工具改良，帶動人口成長與商業的發展 (B) 因基督教信仰而鼓勵發展工商業 (C) 十字軍東征使東方對西方商品產生需求 (D) 蒙古西征打通東、西方的遠程貿易路線。

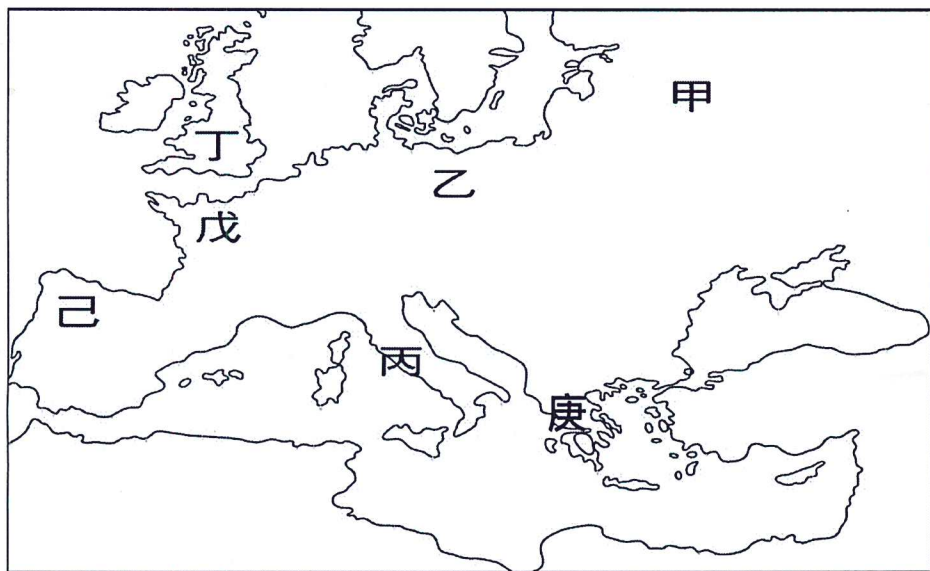
二、題組題：

【一】下圖為基督教演變示意圖。請問：



41. () 請問圖中的「甲」是指下列何者？ (A) 東正教 (B) 天主教 (C) 路德教派 (D) 喀爾文教派。
42. () 造成基督教教會第一次分裂的主要原因為何？ (A) 教會斂財引起爭議 (B) 為爭奪宗教領導權 (C) 海外傳教相互競爭 (D) 文藝復興蓬勃發展。
43. () 基督教第二次分裂在哪一世紀？ (A) 十五世紀 (B) 十六世紀 (C) 十七世紀 (D) 十八世紀。

【二】下圖為歐洲地圖。請以代號回答下列問題：



44. () 最早尋找新航路的兩個國家皆位於圖中何處？ (A) 甲 (B) 丁 (C) 戊 (D) 己。
45. () 薄伽丘是文藝復興重要文學家，請問其故鄉位於何處？ (A) 甲 (B) 乙 (C) 丙 (D) 丁。
46. () 中世紀日耳曼民族所建立的法蘭克王國所在位置，應在圖中何處？ (A) 乙 (B) 丙 (C) 丁 (D) 戊。
47. () 圖中哪兩處曾出現伊斯蘭政權？ (A) 丙、己 (B) 丁、庚 (C) 丙、庚 (D) 己、庚。

【三】電影《達文西密碼》提到聖殿騎士團是一群為了保護耶穌後裔而存在的一個組織，但其實歷史上的聖殿騎士團出現在 11 世紀，成立最初是為了保護前來聖地朝聖的教徒不被異教徒侵擾，而由信仰虔誠的法國騎士所組成，12 世紀時得到教宗的支持，在西亞地區進行軍事活動。請問：

48. () 文中的異教徒是指下列哪個民族？
(A) 日耳曼人 (B) 阿拉伯人 (C) 塞爾柱土耳其人 (D) 鄂圖曼土耳其人。
49. () 由聖殿騎士團的出現與發展可推測，其命運與下列哪一歷史事件密切相關？
(A) 日耳曼南遷 (B) 十字軍東征 (C) 阿拉伯人擴張領土 (D) 查士丁尼收復失土。
50. () 此軍事活動的爆發，是因為哪兩個宗教的對抗所導致？
(A) 伊斯蘭教、猶太教 (B) 伊斯蘭教、基督教 (C) 基督教、猶太教 (D) 祆教、伊斯蘭教。

❖ 試題結束 ❖