

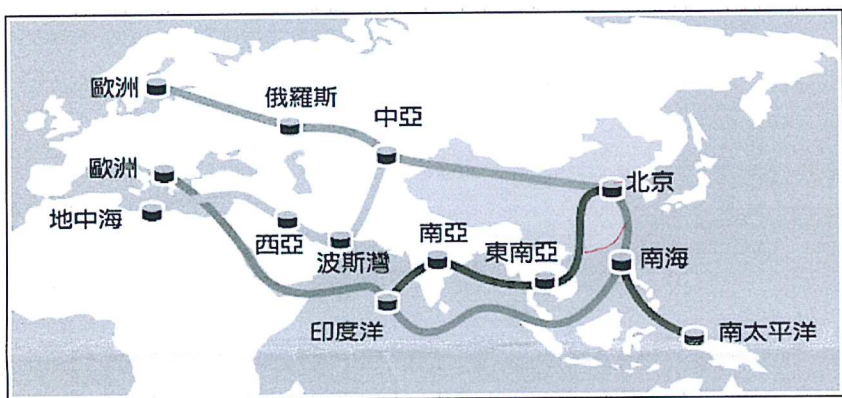
請讀完下文才開始作答：

- 1.本學科試題二張三面，交卷時只須交答案卡。
- 2.每題都有 A、B、C、D 四個選項，其中只有一個選項是正確的，請將正確答案選出。
- 3.作答時須用 2B 黑色鉛筆將正確答案劃記在答案卡，否則不予計分。
- 4.答案卡上劃記必須正確，答案塗改須擦拭乾淨，若劃記錯誤或不清楚影響電腦讀卡判讀，將不予計分。
- 5.本試題卷分為兩部份：一、單一選擇題，1~29 題，每題 2.5 分，共 72.5 分；二、題組，30~40 題，每題 2.5 分，共 27.5 分。滿分 100 分。
- 6.本學科試題應答時間為 45 分鐘，考試途中如有問題，請舉手發問。

一、單一選擇題 (每題2.5分 共29題)

()1. 由中國主導的「絲綢之路經濟帶」包含陸上的三條路線以及海上絲路簡稱一帶一路，下圖為此經濟帶的示意圖，中亞與西亞亦包含在此區中，關於中亞與西亞的敘述，下列何者錯誤？


「一帶一路」路線圖



- (A) 中亞位於俄羅斯與中國之間
- (B) 中亞位處海上絲路中繼站
- (C) 海上路線可經由紅海通至地中海
- (D) 此經濟帶貫穿歐亞非三洲

()2. 西亞地區的緯度位置與台灣相近，皆有北回歸線通過。振宇到阿拉伯地區旅遊，發現當地生活方式明顯與台灣不同，並在旅遊日記本畫上他的想法如下圖，造成此種差異的原因為何？

西亞房屋



西亞人民服飾



- (A) 地形崎嶇
- (B) 沙漠氣候
- (C) 政府政策
- (D) 礦產豐富

()3. 鹹海曾為世界第四大湖泊，如今面積縮減為原本的百分之十，造成鹹海逐漸枯竭的原因與何種產業有關？
(A) 海水淡化 (B) 種植棉花 (C) 石化工業 (D) 觀光業

()4. 聖岳每次出國遊玩都會帶回許多當地特產做紀念，下列何項不是聖岳參加豪華西亞旅行團，所帶回的紀念品？
(A) 死海海泥面膜 (B) 金字塔模型
(C) 杜拜塔鑰匙圈 (D) 波斯地毯

()5. 下表是楷維的歐洲旅遊札記，其中關於歐洲各區特殊的地形楷維皆有詳細的紀錄，但下列哪一個地點的描述可能有錯誤？

甲、歐洲南部受到板塊擠壓，多火山。義大利龐貝古城是著名的火山遺址……

乙、今日搭郵輪徜徉愛琴海，沿海的谷灣式海岸，港灣眾多……

丙、終於來到挪威欣賞壯闊的峽灣，大自然的力量真是太神奇了……

丁、阿爾卑斯山有許多壯麗的U型谷，可惜阻礙了歐洲南北交通……

- (A) 甲
- (B) 乙
- (C) 丙
- (D) 丁

()6. 歐盟成立之後，南歐為歐洲其他區域之農產品供應中心，其中西班牙、義大利等國被稱為「西北歐的大菜園」、「歐洲果園」。由此判斷，南歐具有下列哪些優勢？
甲、夏季多雨。乙、生長季長。丙、全年無乾季。丁、交通便利。

- (A) 甲乙
- (B) 乙丙
- (C) 甲丁
- (D) 乙丁

()7. 下表為 2013 年歐洲部分國家的人口國際遷移統計表，其中社會增加率為負的國家位於歐洲哪一個區域？

國家	移入人口 (單位:千人)	移出口 (單位:千人)
德國	693	259
西班牙	281	532
捷克	30	26
挪威	68	27

- (A) 西歐
- (B) 東歐
- (C) 南歐
- (D) 北歐

()8. 下列哪一組國家並非歐盟的會員國？

- (A) 挪威、瑞士
- (B) 西班牙、葡萄牙
- (C) 法國、德國
- (D) 荷蘭、義大利

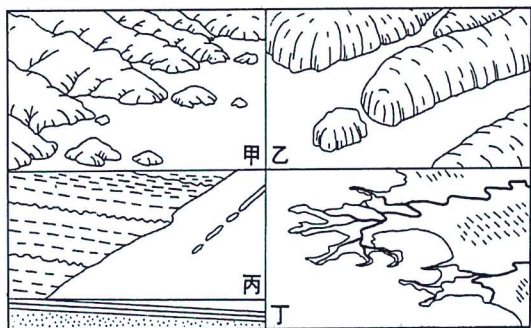
()9. 下列關於西亞灌溉農業的敘述，何者正確？

- (A)地中海東岸利用冬季降雨發展農業
- (B)阿拉伯高原開發雪水做為灌溉水源
- (C)伊朗高原建設渠道引河水灌溉農田
- (D)兩河流域挖掘坎井以減少水分蒸發

()10. 西亞某個地形區因為缺乏天然屏障，自古以來有許多民族在此入侵、融合並留下古文明，包含蘇美人、亞述人、巴比倫人等，其中蘇美人的語言中有許多運河、堤壩、水池、渠道的詞彙，充分顯示此區的地理特色，根據上述，此地理區應為下列何者？

- (A)安納托利亞高原 (B)美索不達米亞平原
- (C)阿拉伯高原 (D)伊朗高原

()11. 「在這個自然景觀美不勝收的北歐國家，順著寬敞的水道一路深入內陸，四周高山矗立，不時可見壯麗的瀑布傾瀉而下，一旦錯過，就等於白來了這個國家。」上述中的水道為峽灣，最可能指右圖哪種地形？



- (A)甲
- (B)乙
- (C)丙
- (D)丁

()12. 下圖是麗文報名的旅行團行程，根據行程判斷，他應該前往何地旅遊？

1. 參觀高第建築-聖家堂
2. 參加番茄節
3. 欣賞熱情佛朗明哥舞
4. 品嚐美味海鮮燉飯

- (A)葡萄牙 (B)西班牙 (C)義大利 (D)希臘

()13. 西亞女性及部份男性自古以來有畫眼影的習慣。眼影最早應用於保護眼睛不受某些眼類疾病外，也是預防、免除太陽強光的好方法，此種習慣源於西亞高溫乾燥、陽光炙熱之特色，造成此區氣候特色的原因為何？

- (A)沿岸涼流流經 (B)地勢低窪
- (C)位居內陸 (D)副熱帶高氣壓籠罩


()14. 右圖為烏茲別克的國徽，圖中左右兩側的農作物為烏茲別克最主要之出口產品，此國栽種農作物所使用的水源為何？



- (A)約旦河 (B)幼發拉底河 (C)底格里斯河 (D)阿母河

()15. 下圖為西亞地區某國的灌溉技術，水通過細孔以小流量送至作物的根部，在乾燥地區盛行此方法可避免土壤鹽鹼化，最先使用此技術的國家為何？

- (A)伊拉克 (B)伊朗 (C)土耳其 (D)以色列



()16. 右圖為布基尼，是一種包覆全身的泳裝，身體部分形似潛水衣，但頭部以貼合的彈性布料包覆，達到遮掩頭髮及頸部的效果。為澳洲設計師札內蒂 (Aheda Zanetti) 於2004年設計，令信仰某種宗教的女性能在戲水、游泳時仍能遵守宗教戒律。該宗教為何？



- (A)伊斯蘭教 (B)天主教 (C)基督教 (D)猶太教

()17. 因蘇聯統治，早期中亞地區之重工業較為發達，至今持續發展重工業所面臨的問題不包含下列何者？

- (A)設備老舊 (B)資金不足
- (C)生產效率不彰 (D)缺乏礦產

()18. 西亞地區民族種類多，其中『○○族』是一個生活於西亞地區的游牧民族，主要分布在土耳其、敘利亞、伊拉克、伊朗四國境內，過去曾發生伊拉克海珊政權為了控制油田，對於該民族展開不人道的民族滅絕的軍事行動。請問，『○○族』是指下列哪一種民族？

- (A)貝都因人 (B)猶太人 (C)庫德族人 (D)土耳其人。

()19. 下圖為清真認證圖，起源於伊斯蘭教法，針對穆斯林日常生活食用或碰觸身體的產品，必須符合伊斯蘭教義，即為「清真 (Halal)」，若玉米田食品工廠取得此認證後，此工廠生產的食品需求量在哪國可能最少？



- (A)哈薩克 (B)烏茲別克 (C)伊拉克 (D)以色列

()20. 「此國氣候乾燥，2003年與他國簽定能源運輸管道合作計畫，辛勤的工人們在機器隆隆作響的石油井旁邊，望著縱橫交錯的管線跨越國境一路向東而去，將源源不斷的黑金流向那『世界工廠』。」請問：此一景象最可能在形容下列哪一個國家？

- (A)沙烏地阿拉伯 (B)約旦 (C)哈薩克 (D)科威特。

()21. 以色列的建國，引起阿拉伯世界譁然，兩個陣營間前前後後發生了五次中東戰爭 (以阿戰爭)。下列造成征戰的原因中，何者正確？【甲】爭奪油田開採權 【乙】宗教的不同 【丙】猶太人與阿拉伯人的種族差異 【丁】巴基斯坦的領土爭議 【戊】約旦河的水源爭議。

- (A)甲乙丙 (B)乙丙丁 (C)乙丙戊 (D)甲丙丁。

()22. 西亞為世界重要產油區，主要產區在哪裡？
 (A)波斯灣 (B)紅海 (C)裏海 (D)死海。

()23. 在頁岩油巨量增產的情況下，美國極可能於2018年底超越俄羅斯，成為全球最大產油國，使得某一國際組織不得不調整市場策略，試圖延長會員國的石油減產行動，以平穩油價。此組織應為下列何者？
 (A)EU (B)OPEC (C)APEC (D)ASEAN

()24. 西亞部分地區受板塊影響，地震頻繁，包含伊朗、伊拉克、土耳其等國都曾發生大地震損失慘重，下列哪一個地形區較少發生地震？
 (A)安納托利亞高原(B)伊朗高原
 (C)阿拉伯高原(D)阿富汗高原

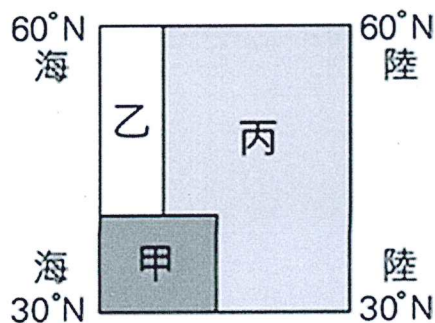
()25. 歐洲聯盟成立至今超過二十年，會員國的合作面向廣泛。關於歐盟的運作，下列敘述何者有誤？
 (A)總部設在比利時布魯塞爾
 (B)勞力打破國界限制自由流通
 (C)免關稅以利貨物互通有無
 (D)會員國皆使用共同貨幣

()26. 教廷因其具備何項特殊條件，第二次世界大戰期間，德軍及英美聯軍皆未入其內，使其免受戰火波及？
 (A)文明最早起源地 (B)天主教精神中心所在
 (C)藝術文物品典藏眾多 (D)世界面積最小的國家。

()27. 小S前往米蘭參加時尚週時，非常喜愛該國，回國後對該國進行深度的調查，下列關於小S搜尋到的資料，何者最可能錯誤？
 (A)北部的波河平原土壤肥沃
 (B)汽車、大理石業發達
 (C)水都威尼斯為著名觀光城市
 (D)此國位於伊比利半島

()28. 下列對於歐洲人口與經濟特色的敘述，何者正確？
 (A)鼓勵生育政策奏效，各國出生率明顯上升
 (B)平均壽命長，人口老化嚴重
 (C)東半部地區國民所得普遍最高
 (D)西半部地區，過去受共產主義影響。

()29. 下圖為歐洲氣候分布簡圖，關於甲、乙、丙三種氣候的敘述何者正確？
 (A)甲受北大西洋暖流影響
 (B)乙受西風影響雨量多
 (C)丙的雨季為冬季
 (D)乙年溫差比丙大



二、題組(30~40題，每題2.5分):

◎下表為橄欖產量的世界排名，請回答下列問題:

排名	國家(地區)	產量(噸)
—	世界	17,317,089
1	西班牙	6,222,100
2	義大利	3,429,771
3	希臘	2,444,230
4	土耳其	1,075,854
5	突尼西亞	998,000

()30. 古代在奧運會項目獲勝者的獎品是橄欖枝編成的花環以及榮譽，而奧運發源國為下列何者？
 (A)葡萄牙(B)西班牙(C)義大利(D)希臘

()31. 橄欖為地中海最主要之農作物，為適應當地氣候，具有典型的耐旱構造，特點是葉子小、表皮厚、具有革質等。由此判斷，當地之氣候特色為何？
 (A)全年高溫多雨 (B)全年高溫少雨
 (C)雨季和生長季不能配合 (D)年溫差大

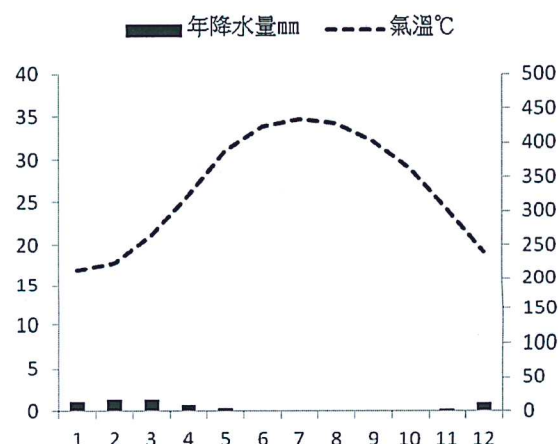
◎下表為2015年歐洲國家接納難民數量的前五名國家，難民大多來自於西亞、北非等地，請回答下列問題:

國家	國家難民比例(占歐洲總難民數)
德國	29%
瑞典	12.9%
義大利	7%
英國	6.7%
奧地利	6%

()32. 根據上表判斷，下列敘述何者錯誤？
 (A)表中無東歐國家 (B)瑞典位於西歐
 (C)難民來源國離南歐最近 (D)義大利位於南歐

()33. 近年來西亞的難民，主要因伊斯蘭國(IS)等武裝團體的攻擊而逃往歐洲，根據地緣關係，大多經由「海路」抵達歐洲大陸，多數難民需藉由下列何種水域抵達歐洲？
 (A)紅海 (B)波羅地海 (C)北海 (D)地中海

◎根據下圖氣溫及雨量資料判斷，請回答下列問題:



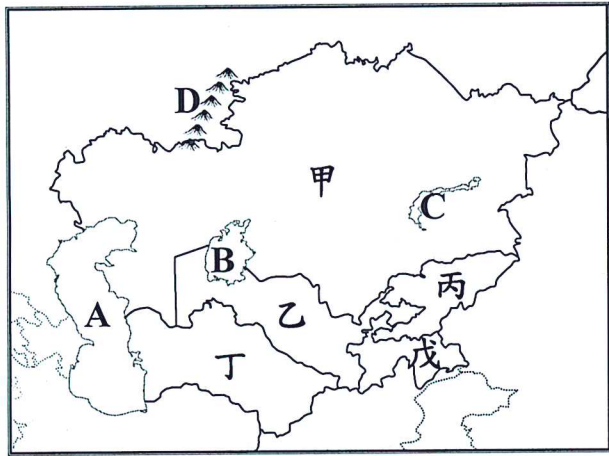
()34. 上圖應屬於何種氣候類型？

- (A)熱帶沙漠 (B)寒帶氣候
(C)溫帶沙漠(D)溫帶地中海型氣候。

()35. 若在此氣候條件下發展農業，主要生產的農作物為何？

- (A)棉花、椰棗 (B)香料、咖啡
(C)葡萄、橄欖 (D)可可、椰子。

◎下圖為中亞分區圖，甲~戊為國家，A~D 為地形區，請根據圖中代號回答問題。



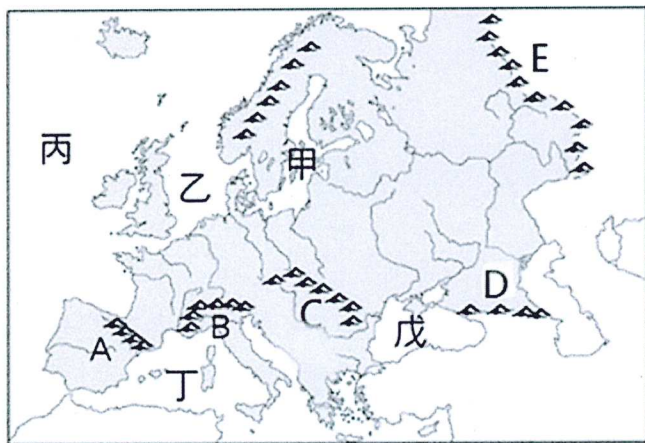
()36. 中亞哪些國家的地勢偏高？

- (A)甲、乙 (B)丙、戊 (C)乙、丁 (D)甲、丁

()37. 石油及天然氣豐富的裏海位於圖中何處？

- (A)A處 (B)B處 (C)C處 (D)D處。

◎下圖為歐洲的山脈與水域分布，請根據圖中代號回答問題



()38關於圖中山脈的配對，何者正確？

- (A)A-烏拉山 (B)B-庇里牛斯山
(C)D-高加索山 (D)E-阿爾卑斯山

()39關於圖中海域名稱的配對，何者錯誤？

- (A)甲、波羅的海(B)乙、北海(C)丁、地中海(D)戊、裏海

()40高大的山脈常成為鄰近區域的明確分界，B為歐洲哪兩大分區的分界線？

- (A)北歐、西歐 (B)北歐、東歐
(C)西歐、南歐 (D)南歐、東歐。

本試題到此結束~請再仔細檢查畫卡是否有誤，祝大家考試順利!!