

考試範圍：BOOK3 冊 L1~L2 (讀卡)

請讀完下文才開始作答。

- 1.本學科試題為兩張三面，交卷時只須交答案卡(卷)。
- 2.每題都有 A、B、C、D 四個選項，其中只有一個選項是正確的，請將正確答案選出。
- 3.作答時必須使用 **2B** 黑色鉛筆，將正確答案劃記在答案卡上面，否則不予計分。
- 4.答案卡上劃記必須正確，答案塗改須擦拭乾淨，若劃記錯誤或不清楚影響電腦讀卡判讀，將不予計分。
- 5.本試題卷分為兩部分：一、選擇題，1~13 每題 3 分，共 39 分；二、題組題，14~30，每題 3 分，共 51 分
三、配合題，31~35，每題 2 分，共 10 分。

一、單選題(每題三分)

- () 1. 比恩打開地理課本，發現中國東、西部地區的山脈走向有明顯的不同。請問：造成中國東半部山脈的走向，是下列哪兩大板塊擠壓的結果？(A)歐亞板塊、菲律賓海板塊(B)歐亞板塊、印澳板塊(C)太平洋板塊、印澳板塊(D)太平洋板塊、歐亞板塊。
- () 2. 中國近幾年來積極在其緣海填海造「島」，爭奪海上強權的野心不言而喻，卻引發周圍國家菲律賓、越南及汶萊等國的不滿及外交關係之緊張。請問：根據上文描述，中國最可能在下列哪一個緣海填海造「島」？
(A) 渤海 (B) 黃海 (C) 東海 (D) 南海。
- () 3. 中國古代有張騫往西域打通古代著名的「絲路」，也有鄭和下西洋至非洲沿海附近使中國聲威遠播。請問：上述的歷史成就，是因中國疆域具有下列何項優越的地理條件？ (A)氣候溫和，人口數世界第一 (B)東臨太平洋，西北深入歐亞大陸 (C)形狀完整有如一隻金雞，面積世界前幾名 (D)鄰國眾多，北方的國界線很長且缺乏天然地形屏障。
- () 4. 南唐亡國之君李煜以「問君能有幾多愁，恰似一江春水向東流」來寄情對亡國的思念。請問：「恰似一江春水向東流」的地理現象與下列哪項因素有關？ (A)位居中緯度，氣候溫和 (B)地勢西高東低，面向海洋 (C)國土面積廣大，資源豐富 (D)地形複雜，多高原和山地
- () 5. 「中國疆域廣大，是(甲)世界面積第四的國家；根據全球時區畫分，中國最東與最西時差應為(乙)4 個小時，但中國為管理方便，統一以位居國土中央的(丙)上海時間為標準；大部分國土位居中緯度，由北而南依序分別為(丁)熱帶、副熱帶、溫帶、寒帶氣候區。」文中描述「正確」的項目有哪幾項？
(A)甲乙 (B)乙丙 (C)乙丁 (D)甲丙。
- () 6. 「青藏高原素有『亞洲水塔』之稱，近年來，中國在流經青藏高原的各大河流積極建造大壩，已引起這些河流中下游地區許多亞洲國家的批評甚至咒罵，更成為中國與印度的主要爭執點。部分政治家擔心將來可能引發「水戰」。請問：下列何者最可能是上文所述的亞洲國家之一？(A)印度尼西亞 (B)巴基斯坦 (C)越南 (D)哈薩克。
- () 7. 來自上海市的江程早前往浙江(東南丘陵地形區)參加現在炙手可熱的歌唱節目「中國好聲音」，一路過關斬將終於獲得了在北京市的鳥巢參加決賽的資格！若江程早都是坐火車前往比賽會場，依照文章判斷，江程早從家鄉前往參加歌唱節目及決賽的行駛方向依序為何？
(A) 往南；往北 (B) 往北；往南 (C) 往西；往北 (D) 往東；往北
- () 8. 住在倫敦(0°)的儀文和住在中國重慶(105°E)的叔晶是好友，如果儀文想在 10 月 18 日凌晨的第一時間發簡訊祝叔晶生日快樂，那麼他應於倫敦的什麼時間發簡訊呢？(A)4 點 (B)6 點 (C)8 點 (D)10 點
- () 9. 右圖為中國某一種地理區劃分示意圖，請問：該地圖分區的依據或指標為下列哪一項？
(A) 地勢高低 (B) 雨量多寡 (C) 經濟發展 (D) 氣溫高低。
- () 10. 北京時間 2013 年 6 月 11 日 17 時 38 分，中國在甘肅省酒泉發射「神舟十號」太空梭，將三名太空人送上太空，並於北京時間 2013 年 6 月 26 日 8 時 7 分返回地球，選擇中國境內最為平坦的高原成功著陸，在本次飛行任務中，從天宮一號太空站通過視頻通訊對地面中小學生進行空間授課，這次任務受到了全球各大媒體的關注。請根據上文回答下列問題：當時住在臺灣的太空迷阿翔也同步收看太空梭發射的現場轉播，請問：阿翔打開電視收看轉播的時間為何？
(A) 6 月 11 日 8 時 38 分 (B) 6 月 11 日 16 時 38 分 (C) 6 月 11 日 17 時 38 分 (D) 6 月 11 日 18 時 38 分
- () 11. 右圖為中國三大地區圖。請問：下列何者為圖中乙、丙兩地區間的分界線？
a.秦嶺 b.淮河 c.大興安嶺 d.太行山 (A)ab (B)bc (C)ac (D)cd。



- () 12. 少年偵探隊執行特別任務，其位置分別如下：柯南(60°E , 10°S)、步美(175°W , 43°N)、元太(110°E , 30°N)、光彥(23.5°W , 53°S)。請問：四人中何者位在中國境內？
 (A) 柯南 (B) 步美 (C) 元太 (D) 光彥

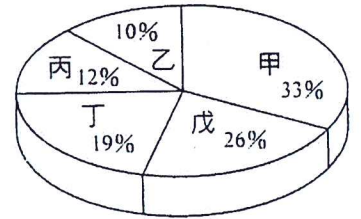
- () 13. 成兩老師請同學對中國位置作簡單介紹，以下是四位同學對中國的簡要描述，請問：哪一位同學的敘述完全正確？

- (A) 醇胺：中國為世界面積最大的國家，東西跨五個時區
 (B) 崧折：中國由南往北分別有熱帶、溫帶、寒帶氣候
 (C) 瑜桀：中國位於歐亞大陸東南部，東側臨印度洋
 (D) 亞齊：中國東部沿海地區因為交通方便，成為目前經濟最活躍的地帶

二、題組題(每題三分)

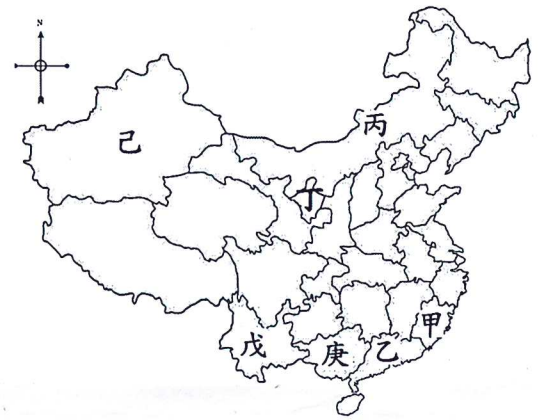
【一】右圖為中國地形面積比例圖，請問：

- () 14. 請問右圖為何種統計圖的形式 (A) 點子圖 (B) 直方圖 (C) 剖面圖 (D) 圓餅圖。
 () 15. 圖中戊代表的地形應是：(A) 山地 (B) 高原 (C) 盆地 (D) 丘陵。
 () 16. 上地理課時，斯瑜可藉此圖資料說明下列哪一項事實？
 (A) 中國地勢西高東低 (B) 中國面積廣大 (C) 中國地形種類複雜 (D) 暖溼海洋水氣可深入中國內陸。
 () 17. 依圖中百分比來判斷，甲和丁最有可能是哪兩種地形？
 (A) 山地和高原 (B) 山地和盆地 (C) 盆地和高原 (D) 丘陵和平原。



【二】右圖為中國行政區簡圖，甲~庚代表行政區位置，請問：

- () 18. 「此地區位於中國西北地區、內蒙古高原的南方、黃河中游，古為西夏地方，自唐宋以來，就和阿拉伯世界交往頻繁，形成多樣的伊斯蘭教風格，是研究中國伊斯蘭文化的活博物館。此區人口有 487 萬人，有回、漢、滿等民族，並以回族為其中人數最多的族群。」文中描述的地區應位於圖中何地？(A) 甲 (B) 乙 (C) 丙 (D) 丁。
 () 19. 中國在少數民族居住的區域成立了自治區，請問：下列何者“不是”自治區？(A) 乙 (B) 丙 (C) 丁 (D) 庚。
 () 20. 距離台灣最近，以台灣海峽相隔的行政區是：(A) 甲 (B) 乙 (C) 戊 (D) 庚。
 () 21. 下列關於中國自治區的敘述，何者正確？(A) 多為漢族自治治理 (B) 隸屬於省之下 (C) 主要在邊疆地區且少數民族聚集 (D) 能建立自治區的專屬貨幣
 () 22. 圖中乙區附近有港、澳兩地區因特殊的社會與經濟制度，故特別設置了一種省級行政區。請問：此種行政區的名稱為何？(A) 省 (B) 自治區 (C) 直轄市 (D) 特別行政區



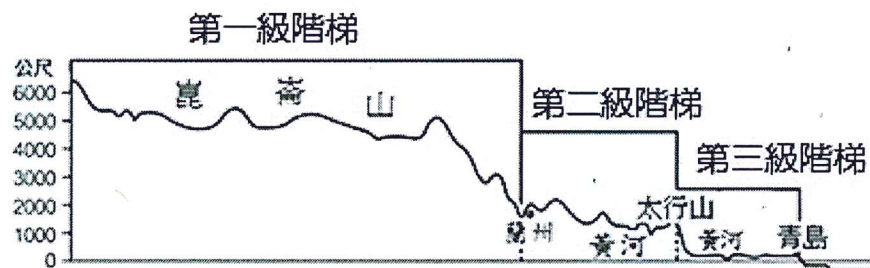
【三】億城利用暑假前往中國四大高原考察兼旅遊(四大高原的位置如下圖)，並在日記中寫下沿途所見聞。請問：

- () 23. 「抵達某高原後，開始出現頭暈想吐等高山症症狀，所幸吸了點氧氣並休息了一下，就恢復正常了。」這天億城應是到達哪一個高原？(A) 甲 (B) 乙 (C) 丙 (D) 丁。
 () 24. 億城抵達乙高原後，發現該地區的表面崎嶇不平、溝壑縱橫，請問其造成其崎嶇的因素為何？(A) 風力侵蝕 (B) 雨水溶蝕 (C) 風力堆積 (D) 流水侵蝕。
 () 25. 「這裡有一望無際平坦遼闊的草原，策馬奔馳其中，享受風吹草低見牛羊的草原風情。」這天億城應是到達哪一個高原？(A) 甲 (B) 乙 (C) 丙 (D) 丁。
 () 26. 中國的高原分布在第幾級階梯？(A) 第一、二級階梯 (B) 第二、三級階梯 (C) 第一、三級階梯 (D) 第一、二、三級階梯

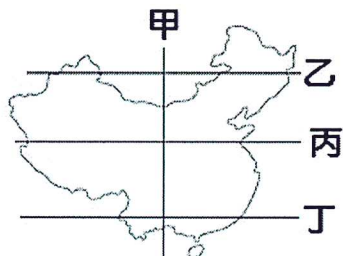


《尚有試題，請繼續作答》

【四】下圖為中國的地形剖面圖。請問：



- () 27. 由圖中的地勢高低起伏型態，可知這樣的地勢走向對中國的影響「不包括」下列何者？(A)傳統上東西向水運較發達(B)人工運河多呈南北向修築(C)利於太平洋暖溼氣流深入內地(D)北部人口稀疏，南部人口密集。
- () 28. 下列哪一個地形區，“不會”出現在此剖面圖中？(A)青藏高原(B)黃土高原(C)四川盆地(D)華北平原。
- () 29. 此剖面圖是沿著右圖中哪一條剖面線所畫出來的圖？(A)甲(B)乙(C)丙(D)丁。



- () 30. 哪一階梯的人口較多且產業較發達呢？(A)第一階梯 (B)第二階梯 (C)第三階梯

三、配合題(每題兩分)

【一】下列是中國幾座重要的山脈，請根據題目選出最適當的代號。

- A. 喜馬拉雅山 B. 天山
C. 秦嶺 D. 大興安嶺

AB 太行山

- () 31. 中國與印度的天然國界。
() 32. 塔里木盆地和準噶爾盆地的界山
() 33. 黃土高原和華北平原的界山。

【二】下列是中國的四大盆地的配對，請將正確的答案填入適當的空格中。

- A. 準噶爾盆地 B. 塔里木盆地
C. 柴達木盆地 D. 四川盆地

- () 34. 中國最大沙漠--塔克拉瑪干沙漠。
() 35. 中國緯度最低的盆地，因物產豐饒被稱為天府之國。

〈試題結束，請再次檢查〉