

請讀完下文才開始作答。

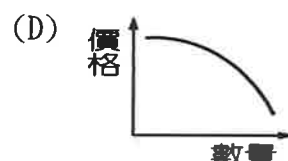


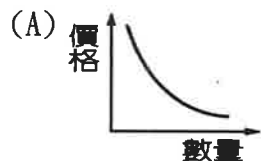
1. 本學科試題二張四面，交卷時只須交答案卡。
2. 每題都有 A、B、C、D 四個選項，其中只有一個選項是正確的，請將正確答案選出。試題答錯，不扣分。
3. 作答時必須使用 2B 黑色鉛筆，將正確答案劃記在答案卡上，否則不予計分。
4. 答案卡上劃記必須正確，答案塗改須擦拭乾淨，若劃記錯誤或不清楚影響電腦讀卡判讀，將不予計分。
5. 本試題卷分為兩部份：一、選擇題，1~35 題，每題 2 分，共 70 分；二、整合題，36~45 題，每題 3 分，共 30 分。
6. 本學科試題應答時間為 45 分鐘，考試途中如有問題，請舉手發問。

一、選擇題(每題 2 分)

- (D) 1. 下列何者屬於機會成本的經濟概念？(A)行行出狀元 (B)沒魚，蝦也好 (C)水能載舟，亦能覆舟 (D)魚與熊掌不可兼得。
- (D) 2. 美國佛羅里達州立大學的心理學家 Roy Baumeister 長年研究，有人為了省錢而減少娛樂活動與進修機會，不只對心理不健康，也可能流失成長的機會，反而是因小失大。請問上述研究說明何種概念？(A)生產成本 (B)需求法則 (C)供給法則 (D)機會成本
- (B) 3. 因為資源有限，而人類欲望又無窮，為了獲得最大的滿足，必須有所取捨，於是在經濟學上就產生何種問題？(A)生產 (B)選擇 (C)競爭 (D)消費。
- (A) 4. 消費者服務專線？(A)1950 (B)1990 (C)113 (D)165。
- (C) 5. 秉臻每月薪水 6 萬元，每年可再加 3 個月獎金。但為了自己的明星夢，她打算遠赴韓國接受藝人培訓，估算三年完成登上舞台，培訓費一年需要花費 50 萬元。若是從金錢上來估算，赴韓培訓三年的機會成本是多少？(A) 240 萬元 (B) 270 萬元 (C) 420 萬元 (D) 170 萬元。
- (C) 6. 經濟生活的開始，是因為資源的「稀少性」，使得我們必須以最有效率的方式來運用資源，而對於資源「稀少性」的解釋，下列敘述何者正確？(A)「稀少」即是貧窮 (B) 郭台銘擁有上千億的財產，不會面臨「稀少」的

- (B) 13. 因小豬下痢疫情影響，導致毛豬批發價格及豬肉價格持續上漲；政府主動調查冷凍肉類業者是否涉及「聯合調漲豬肉價格案」，請問政府主動調查豬肉價格案之法律依據為何？ (A)《民法》 (B)《公平交易法》 (C)《消費者保護法》 (D)《食品安全衛生管理法》。

- (A) 14. 台中新開發的一區塊，四周圍房子都還沒蓋好，但獨棟的健身中心已經先完工營業，每堂課 42 元低價搶市，每堂課都吸引爆滿人潮，還有不少人在排隊預約，業者定位為社區運動中心，原本預料只有 10 公里以內的人會來，沒想到 20 公里外的住戶都來了。請問：對於上述健身中心課程的需求，可以用下列哪一個圖形解釋？



- (A) 15. 彥龍最近升官三級，薪水也隨之漲了一倍，請問彥龍家消費型態將呈現下列哪些趨向？(甲)生活必需品的消費占所得比例將逐漸減少(乙)個人、家庭消費隨所得增加而提高(丙)家庭用於休閒、旅遊的比例逐漸上升(丁)家庭用於食物支出占所得比例逐漸上升 (A)甲乙丙 (B)甲乙丁 (C)甲丙丁 (D)乙丙丁。

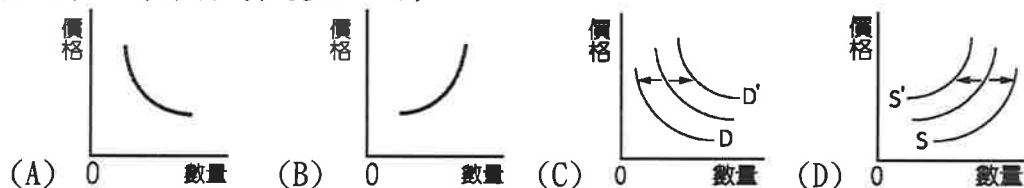
- (D) 16. 若平想在自強國中對面開一家美髮店(可霧之家)，她準備了許多開店事宜(甲)吹風機(乙)冷氣機(丙)美髮設計師(丁)業績獎金(戊)設計師的剪刀。以上哪些屬於生產要素中的「資本」？(A)甲乙丙 (B)甲丙戊 (C)丙丁戊 (D)甲乙戊。

- (A) 17. 右表是美食餐廳「饗食天堂」的費用一覽表，此種價差的情形，是利用經濟學的何種概念？(A)需求法則 (B)供給法則 (C)量能原則 (D)外部成本。

	時間	費用(每人)
周一至周五	11:00~14:00	699 元
晚餐及假日	11:00~22:00	799 元

- (D) 18. 每周日傍晚加油站人潮多寡，就可知當晚 12 點油價調整策略。請問：上述人潮行為主要是受到哪一項因素的影響？(A)個人偏好 (B)所得高低 (C)商品價格 (D)預期心

- (C) 25. HTC 宏達電日前和 Google 共同宣布簽署協議，宏達電獲得 11 億美元的現金，同時也將智慧產權非專屬授權給 Google，手機部門 2000 名員工也一併移轉至 Google。Google 此舉是為了和蘋果抗衡，更著眼未來 AR/VR 與 AI 的發展。從商業公司的角度而言，下列何項說明最適合？(A)Google 此舉就是消費行為 (B)Google 獲得 HTC 智慧產權，節省自然資源成本 (C)Google 結盟 HTC 就是一項投資，將加強生產技術提升 (D)HTC 未來在 AI 領域將獲得重大發展。
- (B) 26. 承上題，Google 承接宏達電 2000 名員工，主要是獲取宏達電何種生產要素？(A)土地 (B)勞動 (C)資本 (D)企業才能。
- (D) 27. 以廠商（生產者）的立場而言，假設其他條件不變，該廠商之商品在市場上價格的變化，將引發廠商對該商品的生產數量。請問：上述這種關係，若以「數學語言」來描述之，則下列何者是正確的描述？(A)需求線上任兩點之間的滑動現象 (B)需求線向右或向左的平移現象 (C)供給線向右或向左的平移現象 (D)供給線上任兩點之間的滑動現象。
- (C) 28. 「需求量的變動」，是指某種一般「商品價格的變動」引發了消費者對該商品需求數量的變動；而「需求的變動」，則是指某些「商品價格以外的因素」之影響。若依上述分析，屈臣氏今年 6 月與超人氣廢物界天王蛋黃哥和馬來貘合作，推出「耍廢哲學家」集點活動後，創下驚人換購表現與業績成長，下列何圖最能反映出這種現象？（箭頭代表變化方向）



- (D) 29. 蘋果手機「iPhone X」一支售價超過台幣 3 萬元，許多人認為訂價太高恐影響買氣，不過《華爾街日報》卻認為，現在蘋果的做法是在測試有閒、有錢階級買奢侈品的成效，那這樣的消費行為被稱為什麼？(A)機會成

二、整合題(每題 3 分)

1. 明星主廚--詹姆士

主廚詹姆士在鏡頭前，賣力地為觀眾示範料理的作法。廚齡逾 20 年的他，擅長日、義、法式料理。2006 年，他走出廚房進入電視圈，成為烹飪節目的常駐主廚，深受婆婆媽媽喜愛。

目前他的事業版圖，除了國內餐飲業、電視節目、代言、出書外，甚至跨足中國，一個月營業額收入總數約 300 萬元，他說自己個性保守，加上曾面臨投資、創業失敗的經驗，他相信努力賺錢，是我唯一的理財方式。

從國中開始就在餐廳幫忙的詹姆士說「我不做外面賣的（常見）食物，只做有創意、好吃的食物。」詹姆士烹飪，習慣綜合各方口味，加上自身創意，融合成獨特的料理，他說，「如果每家店賣的都一樣，客戶就會找最低價的來吃，但如果我賣的跟大家不一樣，想吃的人，只能來我這裡吃，還會呼朋引伴，找人一起來吃，生意自然就會好起來，根本不用急。」

詹姆士處理自己的金錢保守，經營店鋪亦是如此，他為店鋪準備一筆在突發狀況下可挪用的「緊急預備金」，以 2 個月的進貨、人事、水電租金…等總成本總額計算，以 160 萬元當標準水位，當作緊急預備金，以防緊急事件上演，讓他措手不及。（為保障當事人個資，以上數字均變造過）（本文擷取自商業週刊 2015. 5. 23）

- (A) 36. 詹姆士每月 300 萬元的營業額，這在經濟學上又稱為？ (A) 銷貨收入 (B) 利潤 (C) 銷售量 (D) 生產成本。
- (D) 37. 詹姆士跨足中國出書、主持、餐飲等行為稱為？ (A) 消費行為 (B) 旅遊 (C) 儲蓄 (D) 投資。
- (D) 38. 詹姆士的「緊急預備金」可以被視為？ (A) 租金 (B) 利息 (C) 薪資 (D) 資本。
- (B) 39. 從文中判斷，詹姆士每個月利潤收入是多少？ (A) 160 萬元 (B) 220 萬元 (C) 300 萬元 (D) 460 萬元。
- (D) 40. 「我不做外面賣的（常見）食物，只做有創意、好吃的食物，想吃的人，只能來我這裡吃，還會呼朋引伴，找人一起來吃，生意自然就會好起來」文中詹姆士充分展現何種生產要素？ (A) 土地 (B) 勞動 (C) 資本 (D) 企業才能。