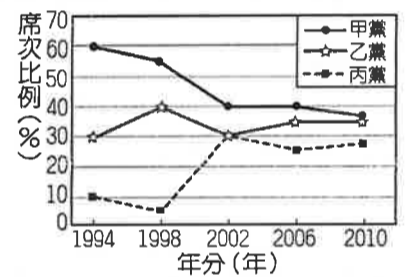


請讀完下文才開始作答。

1. 本學科試題二張四面，交卷時只須交答案卡（卷）。
2. 每題都有 A、B、C、D 四個選項，其中只有一個選項是正確的，請將正確答案選出。
3. 作答時必須使用 2B 黑色鉛筆，將正確答案劃記在答案卡上，否則不予計分。
4. 答案卡上劃記必須正確，答案塗改須擦拭乾淨，若劃記錯誤或不清楚影響電腦讀卡判讀，將不予計分。
5. 本試題卷分為兩部份：一、選擇題，1~10 題，每題 2 分，共 20 分；二、題組題，21~50 題，每題 2 分，共 80 分


一、單選題：

- () 1. 新聞報導：「航空城反迫遷聯盟等團體發起大遊行，提出包括『拒絕黑箱工程、還我公民參與』等訴求，希望政府規畫舉辦聽證會，澈底檢視航空城計畫案。」上述內容是在說明下列何種概念？(A)定期選舉(B)政治參與(C)公民投票(D)政黨輪替。
- () 2. 某黨主席在一場選舉活動中，為該黨候選人李晨拉票的發言內容如下：「李晨已多次連任，具有豐富的經驗，相信他一定能為大家好好的監督政府，請各位選民繼續給他連任的機會。」李晨所參選的公職人員最可能是下列何者？(A)市長(B)鎮長(C)監察委員(D)市議員。
- () 3. 琦琦姐妹三人決定參選公職人員，根據附圖中對話，下列哪一個組合符合三人的選擇？(A)直轄市議員、村長、鎮民代表(B)立法委員、市長、鎮長(C)鎮長、直轄市山地原住民區長、里長(D)立法委員、縣長、直轄市山地原住民區代表。
- () 4. 我國政府為減少選務經費的支出，並節省選民為了投票而花費的時間，可能會合併某些公職人員選舉於同日舉行。若某年同日舉行二項公職人員選舉，小剛進了投票所後，依法共領取了三張選票，下列何者最可能是此次選舉所產生的公職人員？(A)縣長、縣議員 (B)總統、立法委員 (C)立法委員、立法院院長 (D)直轄市市長、直轄市市議員。
- () 5. 大龍國為內閣制國家，附圖顯示該國 1994~2010 年各政黨在國會所占席次比例的變化。根據圖中內容判斷，下列何者最符合大龍國的情況？(A)該國在 1998 年發生政黨輪替的現象(B)該國政黨型態的發展趨向於多黨制(C)1994 年起由政黨合作組成聯合政府(D)乙黨與丙黨在 1994 年組成聯合政府。
- () 6. 某政黨推薦的民意代表成立選民服務處並張貼公告：「星期一、三、五晚間 7:00~9:00 法律諮詢時間，歡迎選民多多利用。」政黨成立服務處的主要功能為何？(A)推荐候選人參與選舉(B)組織政府與制定政策(C)監督政府的施政(D)服務選民爭取認同。

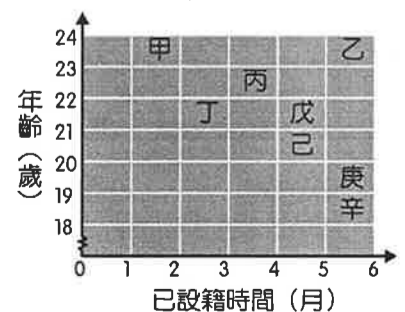


規畫	規畫內容
甲	參選民意代表，爭取為民服務的機會
乙	把握投票的機會，積極參與政黨活動
丙	希望在政黨支持下，參選直轄市市長
丁	憑藉累積良好人脈與聲望，參選鄉長

- () 7. 熱衷於政治活動的華欣，對未來的規畫如附表所示。若僅從年齡資格判斷，當華欣年滿 26 歲時，他尚未具備表中何項規畫所須的條件？(A)甲 (B)乙 (C)丙 (D)丁。
- () 8. 依據相關法律對於合格候選人的各項規定，下列哪位可以參選 103 年的臺北市市長選舉？



- () 9. 對於即將舉辦的民意代表選舉，八位年輕人心中各有支持的理想候選人，附圖是他們在投票日當天的投票資格示意圖。由圖中資訊判斷，下列哪一組人皆能參與投票？〔100. 北北基〕(A)甲、乙 (B)丙、丁 (C)戊、己 (D)庚、辛。



背面尚有試題

- () 10. 幾位朋友正在討論即將到來的立委選舉(如附圖),由對話中的反對論點可知,應是基於下列何種原因?(A)政黨票比例高於5%才能成為執政黨
(B)政黨票將影響區域立委的席次(C)19號政黨較難獲得不分區立委席次
(D)19號政黨票會得到5%的支持。



二、題組：每題 2 分、共 80 分

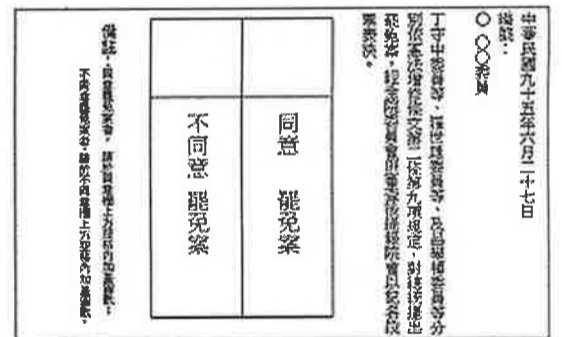
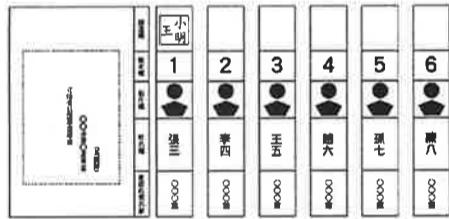
(一) 2018 九合一地方選舉即將舉行,各政黨開始布局各地方的選舉策略。桃園市長鄭文燦施政滿意度逐年攀升,展現尋求連任企圖心,國民黨桃園市黨部也積極備戰,由黨部選對小組召開委員會議,會中決議 12 月 12 日前完成初選登記,12 月初就會發出初選公告,目標明年 2 月 10 日前完成市長人選提名。前桃園縣長吳志揚上回對戰鄭文燦雖落選,現為不分區立委身分,吳在中壢老家設置立委服務處,持續為民服務,在桃園各 13 行政區也有秘書幫忙跑場,2 年多來並無與地方脫節,實力仍不容小覷,此次將配合黨部作業規畫,回鍋競逐桃園市長。

- () 11. 國民黨桃園市黨部的作法是落實政黨的何項功能?(A)匯集民意與服務選民(B)推薦候選人參與選舉(C)監督政府(D)教育民眾增進民主認知。
() 12. 在公職人員選舉資格的規定中,候選人須設籍於該選區多久以上?(A)3 個月(B)4 個月(C)5 個月(D)6 個月。
() 13. 各政黨透過黨內初選派出候選人,這些候選人仍須具備法定資格才能參選,這屬於哪一項選舉原則的規定?(A)直接原則(B)普通原則(C)無記名原則(D)平等原則。
() 14. 呈上題,這些選舉原則是規定於哪一項法律中?(A)《憲法》(B)《人民團體法》(C)《公民投票法》(D)《公職人員選舉罷免法》。
() 15. 吳志揚先生的不分區立委是由下列哪一種性質的選票按比例產生的?

(A) (B)



(C) (D)



- () 16. 吳志揚先生今年若想參加桃園市長選舉,下列幾個必備要件有幾個正確?(甲)被褫奪公權(乙)今年30歲(丙)居住桃園市滿4個月(丁)宣告監護尚未撤銷(A)1項(B)2項(C)3項(D)4項
() 17. 住在桃園市復興區的宣藍,今年正好可以參選,但尚未達到鄉(鎮、市)長候選人的年齡參選資格。請問:他要參加的公職人員選舉應為下列何者?(A)區民代表(B)直轄市市長(C)縣(市)長(D)總統、副總統。
() 18. 呈上題,宣藍去投票時,將會領到幾張選票?(A)2張(B)3張(C)4張(D)5張
() 19. 在候選人登記參選之後,接下來的選舉流程,下列何者正確?(A)投票→開票、計票→競選活動→公告結果(B)公告結果→競選活動→投票→開票、計票(C)競選活動→公告結果→投票→開票、計票(D)競選活動→投票→開票、計票→公告結果。
() 20. 上文所敘述的選舉過程是依據何項法律的規定?(A)《憲法》(B)《人民團體法》(C)《總統副總統選舉罷免法》(D)《公職人員選舉罷免法》。

(二) 2016 年 1 月 16 日,我國合併舉行第 14 任總統、副總統與第 9 屆立法委員選舉。選舉結果由民主進步黨的蔡英文、陳建仁當選,蔡英文並成為我國首位女性總統。媒體報導分析,年輕世代為這次大選的關鍵因素,由於選民對過去中國國民黨的施政效能感到失望,以及對兩岸政策的疑慮,終於導致 2016 年的政黨輪替。而此次立委當選人的平均年齡下降至 49.9 歲,也誕生了最年輕的立委當選人,國會年輕化成為此次選舉結果的特色之一。請回答下列問題:

- () 21. 選民對於原本執政的中國國民黨的兩岸政策有疑慮，因而藉由投票表達意見，支持民主進步黨的政見，希望能有所改變。上述行為發揮了選舉的何種功能？(A)選出公職人員(B)影響政府政策(C)展現責任政治(D)合法取得政權。
- () 22. 由於選民對過去中國國民黨的施政效能感到失望，因此以選票決定執政黨的去留，讓政府對其施政負起責任。上述現象凸顯出選舉的何種功能？(A)選出公職人員(B)影響政府政策(C)展現責任政治(D)合法取得政權。
- () 23. 民主進步黨的蔡英文憑藉民意的支持，打贏選戰而當選總統，任命官員組織政府。上述情況凸顯出選舉的何種功能？(A)選出公職人員(B)影響政府政策(C)展現責任政治(D)合法取得政權。
- () 24. 人民透過選舉，依據候選人的政見與表現等，投票選出我國的總統副總統，發揮了選舉的何種功能？(A)選出公職人員(B)影響政府政策(C)展現責任政治(D)合法取得政權。
- () 25. 新聞報導：「中國國民黨主席表示，該黨雖然在總統大選敗選，但一定會善盡監督之責，找回民眾的信任。國民黨將會再起，浴火重生，為臺灣開出一條路。此外，國民黨會提前布局西元 2018 年的選舉，要從基層培養政黨人才，讓他們有參與競爭的機會。」根據上文判斷，中國國民黨應扮演下列何種角色？(A)執政黨(B)在野黨(C)組織政府(D)就施政得失對人民負責。
- () 26. 3 名總統候選人分別在其戶籍所在地的投票所，不透過他人，親手投下神聖的一票。請問：以上敘述顯示選舉的何項原則？(A)無記名(B)平等(C)普通(D)直接。
- () 27. 不能攜帶有攝影功能的手機進入投票所，最主要是根據下列何種選舉原則？(A)普通(B)平等(C)直接(D)無記名。
- () 28. 上文中所指最年輕的立委當選人，他的年齡起碼達幾歲以上？(A)20 歲(B)23 歲(C)26 歲(D)30 歲。
- () 29. 立法委員選舉採用「單一選區兩票制」，這是指下列何種方式？(A)選民在一個選區裡可以投票選出兩位立法委員(B)選民在全國各縣市的每一個選區都可以投兩個政黨票(C)一個選區只選出一位立法委員；選民一票選人，一票選政黨(D)候選人在一個選區裡只要獲得兩票以上即可當選。
- () 30. 每次總統大選，總統參選人的政黨都動用最大資源極力輔選，希望能獲得最後勝利。請問：綜上所述，政黨組成最主要的目的應為下列何者？(A)取得民心(B)遊行示威(C)監督政府(D)贏得選舉。
- () 31. 投票日當天，紀恩帶著戶口名簿到了投票所，卻發現沒有帶齊該有的證件與物品，只好回家拿取。要投票時，最主要應該攜帶下列哪些物品？(甲)學生證 (乙)身分證 (丙)投票通知單 (丁)印章(A)甲乙丙(B)甲乙丁(C)乙丙丁(D)甲乙丙丁。
- () 32. 此次選舉受到國內外關注，在法國念書的瑪喬，特地搭機返國參與投票，瑪喬由於不符合法律設籍期間規定，因此只具有上述兩項選舉之一的投票權。請問：他設戶籍於選舉區最可能達幾個月？(A)3個月(B)5個月(C)6個月(D)8個月。
- () 33. 在開票時，姍姍在旁觀看，看到選務工作人員一一解說無效票的原因，下列各種選票中有幾張無效票？(A)1 張(B)2 張(C)3 張(D)4 張



王美霞	
1	2
朱立倫	蔡英文

	⊗
2	1

	⊗
2	1

- () 34. 根據上文判斷，投票所進行開票後，由【甲】公告選舉結果，【甲】應為下列何者？(A)總統(B)大法官(C)立法院(D)中央選舉委員會。
- (三) 2017. 9. 25 德國大選 梅克爾 (Angela Merkel) 如預期，以 33.1% 得票率擊退各個對手；勁敵舒爾茲 (Martin Schulz) 的社民黨 (SPD)，以 20% 辛苦緊追在後，表現超出預期的還有自民黨 (FDP) 與綠黨，分別以 10.5%、9.5% 得票率，排名在 AfD 後面。本屆德國大選後，該國罕見地出現了組閣談判長時間無法正式啟動的局面。從今年 9 月 24 日大選日至今，先後經歷聯盟黨、自民黨和綠黨三黨試探性談判破裂，再到社民黨主席舒爾茲「收回成命」宣布該黨願意在不設前提的條件下與聯盟黨展開談判，德國聯邦政府處於由上一屆內閣繼續履行看守政府職能的「懸浮狀態」已近三個月。
- () 35. 由上文中可判斷，德國的政黨型態屬於下列何者？(A)一黨專政(B)一黨獨大(C)兩黨制(D)多黨制。
- () 36. 關於德國的政黨型態，下列敘述何者正確？(A)各政黨往往尋求互相合作，組成聯合政府(B)由主要的兩政黨輪流執政(C)執政黨不允許其他反對黨存在(D)缺乏在野黨監督政府施政。
- () 37. 德國的政黨型態，其優點為下列何者？(A)政府權力集中(B)政策連貫效率高(C)政治安定(D)可以反映社會多元民意。
- () 38. 下列哪一個國家的政黨型態與德國相同？(A)美國(B)新加坡(C)義大利(D)中華民國。

桃園市立自強國民中學 106 學年度第一學期第 3 次定期考查 8 年級公民科試卷 P4

(四) 台灣健康空氣行動聯盟為改變「一個天空兩個台灣」! 17 日發動反空汙抗暖化大遊行! 中部五縣市首長、國民黨副主席郝龍斌及藍、綠立委及縣市議員等, 不分藍綠總動員, 一起加入反空汙爭好氣行列, 吸引約 4500 人參加; 並以台灣「NO COAL」向政府及世界表達台灣人民要求「無煤家園」保健康的訴求。環團批政府這幾年推動減量, 卻永遠趕不上汙染速度, 要求政府強力改善大型工業固定汙染源排放問題, 還給南部民眾應有的呼吸權。

- () 39. 上述這些團體傳達訴求時, 還可以採行下列哪些方式? (甲)遊說(乙)宣傳(丙)陳情(丁)杯葛(A)甲乙丙 (B)甲丙丁 (C)乙丁 (D)丙丁
- () 40. 台灣健康空氣行動聯盟、環保團體, 這些團體可以稱之為何者? (A)壓力團體(B)政黨團體(C)營利團體 (D)義務團體
- () 41. 民間團體除藉由遊行方式向政府表達訴求外, 還可經由下列哪種方式向政府施壓, 以達成其目的? (A)策劃推翻政權的活動 (B)推派候選人參選 (C)支持相同理念的政黨 (D)向相關政府官員賄賂
- () 42. 由於無法認同執政黨的施政理念, 一群黨員決定重新籌組另一個新政黨。若以我國為例, 成立政黨須向哪一個機關申請備案? (A)國防部(B)法務部(C)內政部(D)勞動部。
- () 43. 國民黨主席吳敦義及時代力量主席黃國昌等人也到場相挺。請問政黨與這些民間團體的互動關係為下列何者? (A)政黨為勝選會尋求這些團體的支持(B)這些民間團體會與政黨保持距離(C)執政黨必須靠這些團體支持才能實現政策(D)這些團體必須與政黨合作才能贏得選舉。

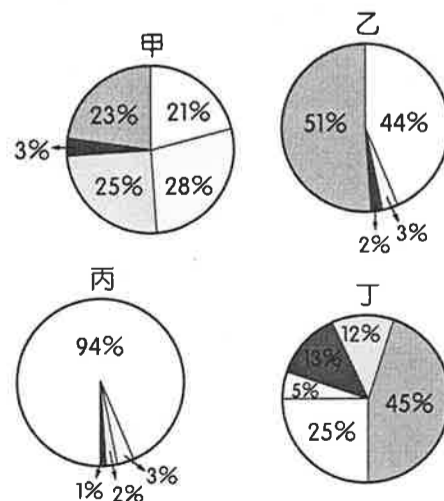
(五) 立法院朝野黨團 12 月 8 日重啟公投法修正協商, 國民黨團與時代力量黨團天未亮就到議場外排隊遞交變更議程, 對此, 國民黨團書記長林為洲表示, 「沒有要檔公投法」, 而是要凸顯無論一例一休或促轉條例, 民進黨以橫行霸道方式強渡關山。勞工團體也在勞動部前場外抗議一例一休修法。

- () 44. 在野黨黨員提議, 在政策的制定上, 應抱持多數尊重少數的態度, 並進行協商與溝通。此黨員的建議可說明哪一項政黨政治運作原則的重要性? (A)尊重包容不同政黨(B)依法組黨打擊對手(C)合理使用公共資源 (D)公平競爭獲取執政。
- () 45. 立法院院會期間, 各政黨成員因各有主張而爭吵不斷, 還發生肢體衝撞, 甚至互搶麥克風或霸占主席臺, 導致議事停擺、法案大塞車。上述現象顯示各政黨應加強下列何種運作原則? (A)依法組成、公平競爭 (B)國家優先、人民第一 (C)服從多數、尊重少數 (D)和平溝通、理性協商。
- () 46. 有關公投法修改通過的條文中, 下列有幾項敘述正確? (甲)公投年齡下修為 18 歲(乙)設籍下降為 4 個月 (丙)通過門檻為同意票數多於不同意票數 (丁)同意票達投票權人總額 1/4。(A)1 項(B)2 項(C)3 項(D)4 項
- () 47. 雖然人民以選舉方式委託公職人員治理國家, 但人民仍可以公民投票督促政府的施政, 此即為何種理念的實踐? (A)五權分立(B)均權制度(C)政黨政治(D)主權在民。

(六) 附表為美國三屆總統大選各政黨的得票率, 請根據此表回答下列問題:

	2004 年	2008 年	2012 年
美國共和黨	50.7%	45.90%	47.19%
美國民主黨	48.3%	52.75%	51.06%
美國自由黨	0.33%	0.42%	0.99%
美國憲法黨	0.11%	0.15%	0.09%
美國綠黨	0.09%	0.12%	0.36%
其他	0.47%	0.66%	0.31%

- () 49. 由表中這三屆大選結果的統計可推論出下列何事? (A)沒有一個政黨得票率曾經超過 50%(B)民眾無法充分參與政治事務(C)各政黨易因意見衝突降低行政效率 (D)小黨無法取得執政機會。
- () 50. 美國的政黨型態應較接近右列何者?
(A)甲(B)乙(C)丙(D)丁



試題結束, 請再檢查