

請讀完下文才開始作答。

1. 本學科試題為兩張四面，交卷時只須交答案卡(卷)。
2. 每題都有 A、B、C、D 四個選項，其中只有一個選項是正確的，請將正確答案選出。
3. 作答時必須使用 2B 黑色鉛筆，將正確答案劃記在答案卡上面，否則不予計分。
4. 答案卡上劃記必須正確，答案塗改須擦拭乾淨，若劃記錯誤或不清楚影響電腦讀卡判讀，將不予計分。
5. 本試題卷分為兩部分：一、選擇題，1~24 每題 2.5 分；二、題組題，25~40，每題 2.5 分，總分 100 分。

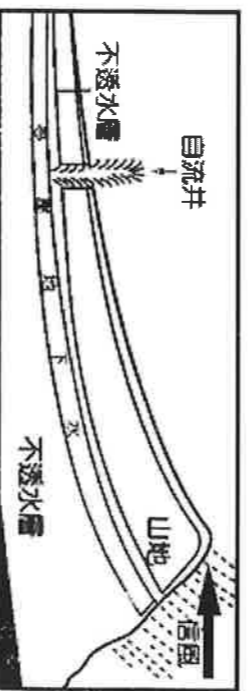
一、單選題(每題 2.5 分)

- ( ) 1. 下表比較資料，何者**正確**? (A)甲 (B)乙 (C)丙 (D)丁。

農業類型	(甲)耕作	(乙)集約度	(丙)氣候區	(丁)作物
游耕	勞力	較低	乾燥	小麥、棉花...
熱帶栽培業	機械化	較高	濕熱	咖啡、香蕉...

- ( ) 2. 右圖為水井示意圖，請問此種水井主要分布在下列哪一地區？

- (A) 供應埃及及尼羅河地區的灌溉水源  
 (B) 西非栽種咖啡、可可等作物的灌溉水井  
 (C) 澳洲牧羊業的主要供水井  
 (D) 剛果河下游多瀑布、急流而形成此種自流井

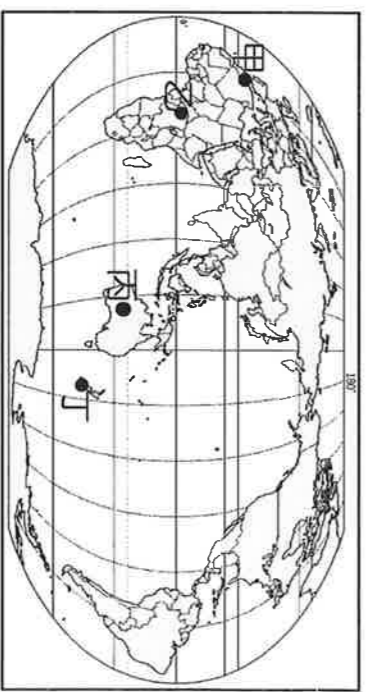


- ( ) 3. 亞斯文高壩對埃及產生重大的影響有：(甲)連接大西洋與印度洋的航運 (乙)土壤沃度降低(丙)農耕面積擴大 (丁)造成尼羅河三角洲的面積擴增，**正確**的是： (A)甲乙 (B)乙丙 (C)丙丁 (D)甲丁
- ( ) 4. 「澳洲統計局公布 2014 年 1 月貿易順差擴大至 14.3 億澳元，拜  出貨量攀升之賜...。」文中描述的  較**不可能**是下列何項？ (A)羊毛 (B)鐵砂 (C)牛肉 (D)可可
- ( ) 5.

背包客須知



- (1) 開車時須注意此交通標誌
- (2) 時區：世界標準時間加 8~10 小時
- (3) 官方語言：英語
- (4) 必玩之活動：酒莊體驗、大自然冒險、衝浪....
- (5) 必買伴手禮：綿羊油、昆士蘭豆、羊毛製品

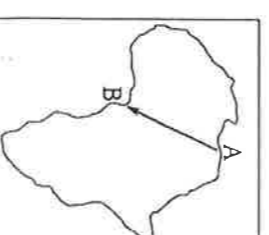
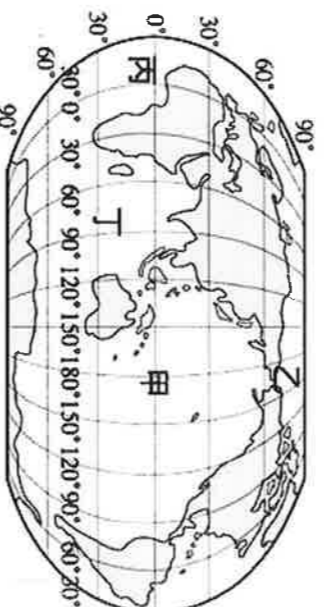


文中敘述的旅遊地區應是右圖中何地？

- (A)甲 (B)乙 (C)丙 (D)丁

- ( ) 6. 「茉莉花革命」指發生於 2010 年末至 2011 年初的北非突尼西亞反政府示威，導致政權倒台的事件，因茉莉花是其國花而得名。茉莉花革命對北部非洲及中東產生了極大的影響，其示威抗議的模式亦受一些國家的民眾所效法（如阿爾及利亞、埃及等），導致反政府的示威浪潮在一個月內席捲整個北部非洲及中東地區。」關於上文內容所述「北非地區」的人文景觀為何？(A)為非洲國家數最多的區域 (B)因歐洲殖民背景、主要語言為英語 (C)因撒哈拉沙漠阻隔、居民大多為黑人 (D)居民多信奉伊斯蘭教

- ( ) 7. 「非洲是全球最貧窮的大洲，根據聯合國在 2009 年發表的人類發展報告，人類發展指數排名最低的 24 個國家中，其中有 22 個都是非洲國家」。上文敘述可突顯非洲多數國家的貧窮落後，下列何者不是非洲多數國家貧窮的主因？(A)嚴重乾旱，糧食不足 (B)缺乏天然港灣，對外交通不便 (C)內戰衝突不斷，國內政治不穩 (D)巨大的外債，經濟負擔沉重。
- ( ) 8. 「中共展開和非洲的全面交往後，雙方的貿易由 1990 年十億美元，成長到 2010 年時超過一千兩百億美元，去年更高達兩千億美元，成長速度驚人，雙邊貿易總額不僅在 2002 年及 2006 年分別跨過英國和法國這兩個與非洲有殖民淵源的歐洲強權，更在 2009 年超越美國，讓中國成為非洲第一大貿易國。」請問：下列何者不是中國大陸自非洲進口的國家特色產品？  
 (A)南非的葡萄酒 (B)迦納的可可  
 (C)奈及利亞的石油 (D)哥倫比亞的咖啡
- ( ) 9. 「蘇伊士運河全長約 160 多公里，是世界兩洲之間的大型人工運河，1869 年完工後，縮短此兩洲之間的航程，往來更省時便捷，在國際海運上占有重要地位。」上文所述的運河縮短圖中哪兩大海洋的航程？  
 (A)甲乙 (B)乙丙 (C)丙丁 (D)甲丁



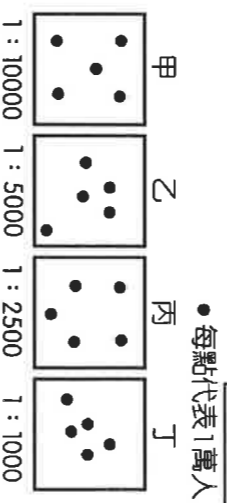
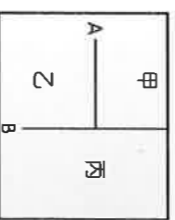
- ( ) 10. 玉結參加橫越非洲的越野拉力賽，其比賽路線如右圖所示，將從 A 點出發抵達 B 點。請問：他沿途感受到的環境變化，何者正確？ (A)年雨量逐漸減少 (B)日均溫逐漸降低 (C)日夜溫差逐漸增大 (D)植被景觀逐漸複雜。
- ( ) 11. 澳洲曾為英國殖民地，因此為大英國協成員國之一，但近年來積極發展與鄰近國家的貿易關係，下列何者是由澳洲積極參與的貿易組織？ (A)APEC (B)OPEC (C)EU (D)NAFTA
- ( ) 12. 以下是四位同學對埃及地區的地理現象描述，請問：哪一位同學的敘述完全正確？(A)詩艇：尼羅河供應埃及地區可種植的灌溉水源(B)恩熙：蘇伊士運河為溝通紅海與地中海的重要水道 (C)彥梁：亞斯文高壩的修築為尼羅河三角洲帶來更多肥沃土壤 (D)綠星：埃及地區為氣候宜人的地中海型氣候
- ( ) 13. 全球氣候異常的現象，需透過國際會議的合作，要求各國共同來減少相關汙染。請問：在加拿大所簽署的《蒙特婁議定書》，最主要為因應何種環境議題？  
 (A)臭氧層破洞 (B)溫室效應 (C)沙塵暴現象 (D)聖嬰現象。
- ( ) 14. 水資源問題為近年來備受關注的議題，尤其在下列哪一個氣候區內更加受到當地重視？  
 (A)溫帶季風氣候 (B)溫帶海洋氣候 (C)熱帶雨林氣候 (D)熱帶沙漠氣候。
- ( ) 15. 從步行到馬車、汽車，而後加入輪船及飛機的變化中，交通工具的快速發展，造成了下列何種影響？  
 (A)區域間互動減少 (B)空間的距離拉近 (C)發展本土化經濟 (D)往來時間的縮短
- ( ) 16. 全球暖化的過程中將會引發氣候異常，造成嚴重的影響。請問：乾旱所帶來的影響中不包括下列何者？  
 (A)沙漠面積廣大 (B)南極臭氧破洞 (C)引發森林大火 (D)導致糧食短缺。
- ( ) 17. 明漢的爸爸最愛的是德國製寶士汽車，媽媽最愛的是韓劇「來自星星的你」，哥哥最愛的是美國 NIKE 球鞋，而明漢最愛的則是西班牙足球隊，從阿明一家人的生活中，可以發現這是現代社會的哪一種現象？  
 (A)工業化 (B)自動化 (C)全球化 (D)都市化。
- ( ) 18. 南非的開普敦(位於非洲的西南角)在 6 月分於當地進行世界風箏大賽時，當時受到盛行風向的影響，翱翔於天際的風箏多飛往何方？(A)東方 (B)西方 (C)南方 (D)北方。
- ( ) 19. 科學家提出警訊：「2100 年臺北、臺南、屏東等地區將可能沒入海中。」請問：這和下列何種環境議題的關聯性最大？(A)水資源問題 (B)沙塵暴現象 (C)生態系統失衡 (D)氣候變遷
- ( ) 20. 祥瑞參加非洲知識大挑戰活動，挑戰者必須先找出正確的項目，才能進行闖關活動，下列是祥瑞抽到的題目內容，請問祥瑞欲求挑戰成功必須選擇哪些項目？ (A)甲乙 (B)乙丙 (C)甲丙 (D)甲丁

甲	<u>曼德拉</u> 當選南非第一任黑人總統，使存在已久的種族隔離政策宣告解除。
乙	金字塔矗立在市區和沙漠的交界處，天氣好的時候，在 <u>開普敦</u> 即可望見金字塔的尖頂。
丙	位於撒哈拉沙漠南緣的 <u>查德湖</u> ，因為人類灌溉需求增加，加上全球氣候急遽變遷，導致面積縮小。
丁	好望角是非洲著名的景點，也是印度洋與太平洋交會處。

- ( ) 21. 澳洲與紐西蘭過去同為英國殖民地，是兩個地理位置鄰近的國家。下表為澳洲與紐西蘭的地理特徵比較，請選出敘述完全正確的選項。

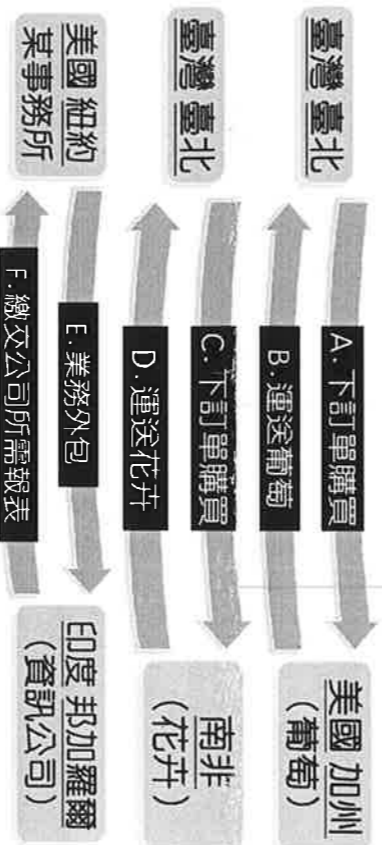
	(A)	(B)	(C)	(D)
	首都	出口商品	地形主體	原住民
澳洲	雪梨	農牧礦產	平原	印地安人
紐西蘭	威靈頓	農牧產品	山地	毛利人

- ( ) 22. 非洲的自然環境受到當地絕對位置的分布而有不同，下列有關經緯度位置及當地氣候類型的配對，何者最為正確？  
 (A) 赤道—熱帶雨林氣候；回歸線—熱帶草原氣候 (B) 赤道—熱帶雨林氣候；北極圈—熱帶草原氣候 (C) 赤道—熱帶草原氣候；回歸線—熱帶沙漠氣候 (D) 赤道—熱帶雨林氣候；回歸線—熱帶沙漠氣候。
- ( ) 23. 附圖為大洋洲的簡圖，其中甲、乙、丙分別代表密克羅尼西亞、美拉尼西亞及玻里尼西亞三大群島，而A、B代表其分界線。請問：A界線與下列哪一條線相符？  
 (A) 赤道 (B) 本初經線 (C) 國際換日線 (D) 北回歸線。
- ( ) 24. 人口密度的高低，影響自然環境的利用程度。請問：附圖中哪一個地區，最容易產生因自然環境過度利用而造成環境變遷？  
 (A) 甲 (B) 乙 (C) 丙 (D) 丁。



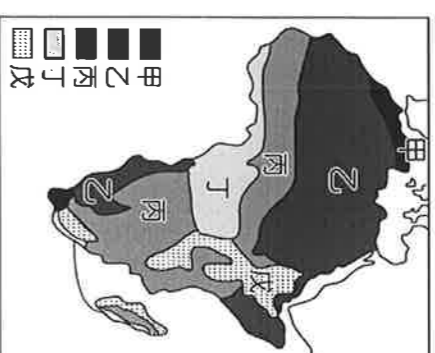
## 二、題組題(每題2.5分)

- (一) 目前國際間的貨物交流，已無國界之分，在臺灣可以買到加州葡萄、南非花卉、荷蘭木屐，請問：



- ( ) 25. 附圖中的A、C，以何種方式下訂單最快速且便利？  
 (A) 電報 (B) 網路 (C) 郵寄 (D) 飛鴿傳書。
- ( ) 26. 附圖中的D，南非花卉運至臺灣最適合的交通方式為  
 (A) 空運 (B) 海運 (C) 陸運 (D) 網路。
- ( ) 27. 附圖中的F，印度邦加羅爾可以接下美國事務所的業務，主要原因為  
 (A) 印度科技人員會說英語且薪資較低 (B) 美國科技人員大量移民至印度 (C) 美、印雙方政府訂下合作契約 (D) 印度土地租金便宜，美國紛紛到印度設廠。
- (二) 兩極地區的環境變遷為目前重要的環保課題，已經對地球的自然環境造成不可磨滅的影響。請問：
- ( ) 28. 北極地區的自然環境變遷主要受到下列何者現象的影響最為明顯？ (A) 臭氧層破洞 (B) 溫室效應 (C) 資訊革命 (D) 航海交通。
- ( ) 29. 北極地區雖然人煙稀少，然而交通地位卻日趨重要，該地區目前為歐、亞、非三洲何種交通方式的最短路徑？ (A) 海運 (B) 空運 (C) 公路 (D) 鐵路。
- ( ) 30. 椰秀到北極地區從事觀光活動時，在哪一個季節前往當地見到永夜的機會最大？ (A) 春季 (B) 夏季 (C) 秋季 (D) 冬季。

(三)附圖為非洲的氣候區圖，請回答下列問題：



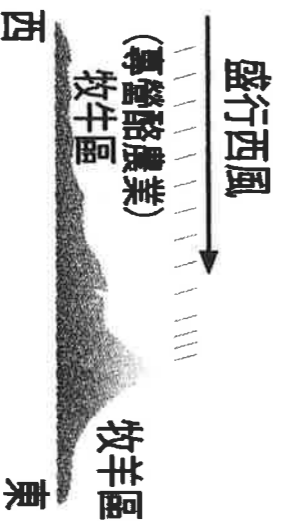
- ( ) 31. 圖中哪一個氣候區的氣候特徵，受地形影響最大？  
 (A)乙 (B)丙 (C)丁 (D)戊。
- ( ) 32. 圖中哪一氣候區夏季乾熱，冬季暖溼、日照充足氣候宜人？  
 (A)甲 (B)乙 (C)丙 (D)丁。
- ( ) 33. 某人自圖上丁區走到甲區，途中他經過地區的氣候特徵有何變化？  
 (A)終年有雨→夏雨為主→冬雨為主→終年少雨 (B)終年少雨→夏雨為主→冬雨為主→終年有雨 (C)終年有雨→夏雨為主→終年少雨→冬雨為主 (D)終年少雨→夏雨為主→終年有雨→冬雨為主。
- ( ) 34. 援軍參加非洲野生動物之旅，在一望無際的大草原上見識到難得一見的動物遷徙景觀，讓他大呼過癮。請問：這些動物主要棲息於圖中哪一區？  
 (A)甲 (B)乙 (C)丙 (D)丁。

(四)目前全球有三大區域性經濟組織，請回答下列問題：

- ( ) 35. 就台灣的位置來看，臺灣應加入哪個區域性經濟組織？  
 (A)歐盟 (B)北美自由貿易協定 (C)聯合國 (D)東南亞國協
- ( ) 36. 墨西哥加入北美自由貿易協定主要提供何種工業區位的生產要素？  
 (A)原料 (B)動力 (C)勞工 (D)市場。
- ( ) 37. 根據外電報導，某國際組織不斷有新國家加入，其成員國增加到28國，該成員間取消關稅，並使用統一貨幣。具上所述，代表該國際組織的徽章為何？



(五)下圖為某國家的土地利用示意圖。請問：



- ( ) 38. 根據圖中資訊判斷，這應該是哪一個國家？ (A)澳洲 (B)南非 (C)埃及 (D)紐西蘭。
- ( ) 39. 該國牧羊區和牧牛區的空間分布，主要是以何種自然條件為區分依據？(A)地形(B)氣溫(C)雨量(D)土壤。
- ( ) 40. 下表對於某國家北島和南島的地理特徵比較，何者錯誤？

	(A)	(B)	(C)	(D)
	地形景觀	年均溫	人口	盛行風
北島	火山	較低	較多	西風
南島	冰河	較高	較少	西風