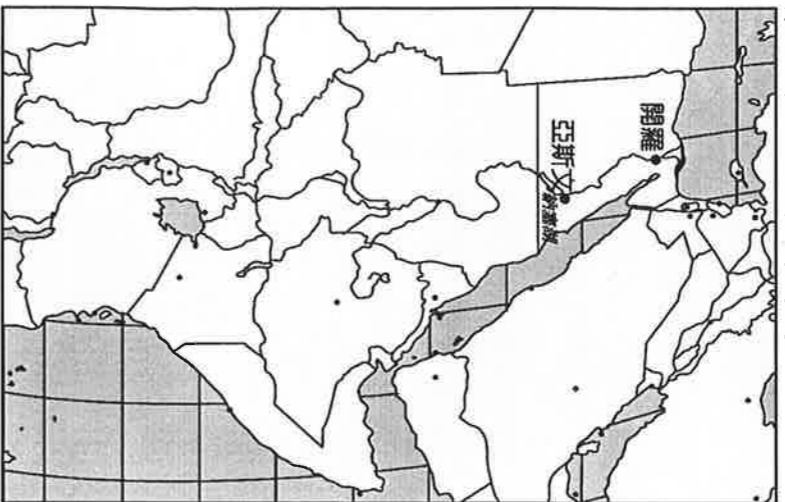


1. 本試題共1張2面，交卷時只須交答案卡。
2. 每題都有A、B、C、D四個選項，其中只有一個是正確的。試題答錯不扣分。
3. 本試題卷為單一選擇題。共40題，每題2.5分；全部共100分。

### 一、題組題

(共40題, 每題2.5分, 滿分100分)

#### 題組A 請依圖A回答下列問題



圖A

1. 亞斯文高壩周圍地區最常見的經濟作物是  
(A) 葡萄 (B) 咖啡 (C) 棉花 (D) 可可
2. 亞斯文高壩是下列哪條河流的水利工程  
(A) 剛果河 (B) 尼羅河 (C) 多瑙河 (D) 亞馬孫河
3. 亞斯文高壩周圍地區最盛行的宗教是  
(A) 天主教 (B) 佛教 (C) 伊斯蘭教 (D) 東正教
4. 亞斯文高壩夏季水位高是因為  
(A) 下游是熱帶雨林 (B) 上游是熱帶莽原  
(C) 上游是熱帶沙漠 (D) 下游是熱帶沙漠氣候
5. 地中海位於亞斯文高壩何方  
(A) 東 (B) 西 (C) 南 (D) 北
6. 阿拉伯半島位於亞斯文高壩何方  
(A) 東 (B) 西 (C) 南 (D) 北
7. 最靠近亞斯文高壩的緯度線是  
(A) 北極圈 (B) 北回歸線 (C) 赤道 (D) 南迴歸線
8. 因為興建亞斯文高壩而遷移的古蹟是  
(A) 馬丘比丘 (B) 泰姬瑪哈陵 (C) 雪梨歌劇院  
(D) 阿布辛貝神廟
9. 亞斯文高壩的位置是過去哪種古老文明的遺址  
(A) 古埃及 (B) 古羅馬 (C) 印加 (D) 馬雅文明

#### 題組B 請依圖B回答下列問題

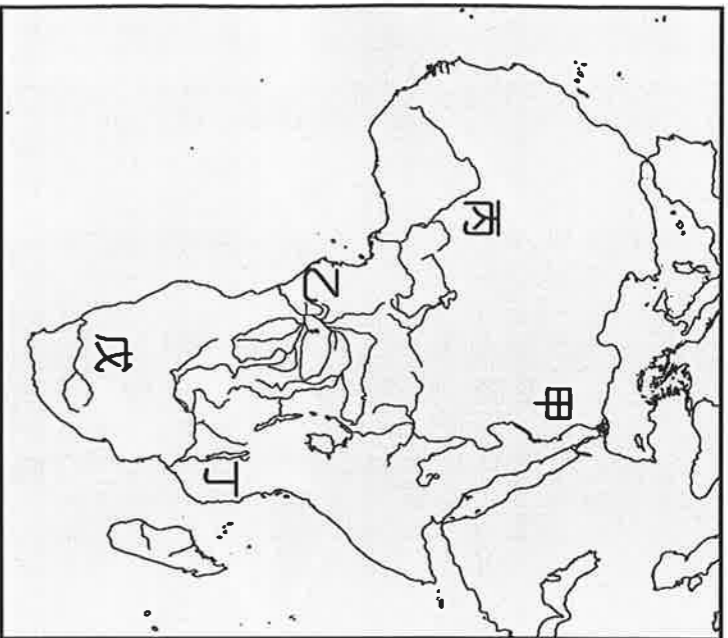


圖B

10. 請問圖B的國家是  
(A) 澳洲 (B) 紐西蘭 (C) 南極洲 (D) 吐瓦魯
11. 熱帶沙漠分布的區域是  
(A) 乙 (B) 丙 (C) 丁 (D) 己
12. 溫帶地中海型氣候分布的區域是  
(A) 乙 (B) 丙 (C) 丁 (D) 戊
13. 溫帶海洋性氣候分布的區域是  
(A) 乙 (B) 丙 (C) 丁 (D) 己
14. 丙區最常見的水利設施是  
(A) 坎井 (B) 自流井 (C) 運河
15. 丙區常見的水利設施主要是因應哪種畜牧業的需求  
(A) 袋鼠 (B) 綿羊 (C) 乳牛 (D) 雞
16. 乙丙兩區的分界是  
(A) 大分水嶺 (B) 東非高原 (C) 橫斷山脈  
(D) 國際換日線
17. 穿越圖B的經緯線是  
(A) 北回歸線 (B) 赤道 (C) 南回歸線 (D) 南極圈
18. 圖B中人口最多的區域是  
(A) 乙 (B) 丙 (C) 丁 (D) 己
19. 乙區的降雨主要因為面迎  
(A) 西風 (B) 東南信風 (C) 西北季風 (D) 東北季風
20. 己區的降雨主要因為面迎  
(A) 西風 (B) 東南信風 (C) 西北季風 (D) 東北季風
21. 圖B地區主要的農作物是  
(A) 茶 (B) 咖啡 (C) 小麥 (D) 稻米
22. 由圖B地區發起的國際組織是  
(A) APEC (B) OPEC (C) EU  
(D) WTO

背面還有試題

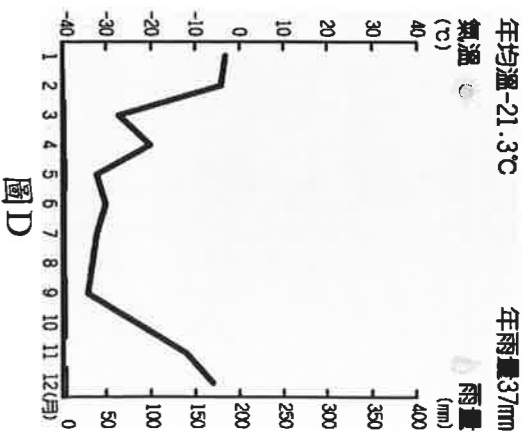
題組C 請依圖C回答下列問題



圖C

23. 圖C地區中，最靠近葡萄生產地的是  
(A) 甲 (B) 乙 (C) 丁 (D) 戊
24. 圖C地區中，年雨量最多的是  
(A) 甲 (B) 乙 (C) 丁 (D) 戊
25. 圖C地區中，斷層地形最明顯的是  
(A) 甲 (B) 乙 (C) 丁 (D) 戊
26. 圖C地區中，阿拉伯人比率最高的是  
(A) 甲 (B) 乙 (C) 丁 (D) 戊
27. 下列何種作物在乙區種植最難成功  
(A) 可可 (B) 咖啡 (C) 甘蔗 (D) 小麥
28. 不斷縮小的查德湖位於撒哈拉沙漠的南部邊緣  
請問查德湖應該位於乙地的何方  
(A) 北方 (B) 東方 (C) 南方 (D) 西方
29. 以查德湖不斷縮小的事實推斷查德湖周圍地區  
常常發生的天然災害是  
(A) 水災 (B) 旱災 (C) 風災 (D) 寒害
30. 查德湖縮小帶來的危機不包括  
(A) 生態破壞 (B) 織荒嚴重 (C) 古蹟遷移  
(D) 經濟惡化
31. 圖C地區中，歷史記載最早有農業發展的區域是  
(A) 甲 (B) 丙 (C) 丁 (D) 戊

題組D 請依圖D回答下列問題



圖D

32. 圖D的氣候出現於下列何地  
(A) 澳洲 (B) 紐西蘭 (C) 非洲 (D) 南極洲
33. 圖D的氣候景觀是  
(A) 凍原 (B) 沙漠 (C) 雨林 (D) 莽原
34. 可以適應圖D氣候的物種是  
(A) 綿羊 (B) 無尾熊 (C) 企鵝 (D) 長頸鹿
35. 7月時圖D地區的景象是  
(A) 多雨 (B) 永晝 (C) 永夜 (D) 沙塵暴
36. 在圖D地區研究的科學問題最不適合的是  
(A) 天文觀測 (B) 氣候變遷  
(C) 北極熊數量改變 (D) 極光觀測

題組E 請依圖E回答下列問題



圖E

37. 圖E中，甲丁兩洲包圍的高緯度海域是  
(A) 北極海 (B) 地中海 (C) 太平洋  
(D) 大西洋
38. 在圖E中，看不到的國家是  
(A) 加拿大 (B) 奈及利亞 (C) 紐西蘭 (D) 中國
39. 圖E中，人口自然增加率最高的洲是  
(A) 甲 (B) 乙 (C) 丙 (D) 丁
40. 圖E中，看不到的經緯線是  
(A) 赤道 (B) 南回歸線 (C) 國際換日線  
(D) 南極圈

試題結束