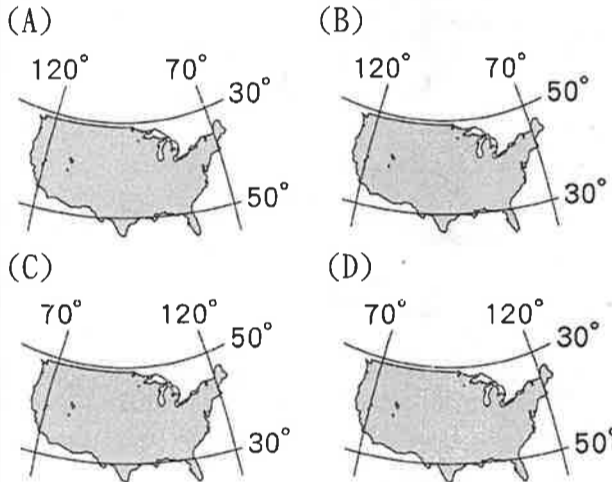


試題說明：

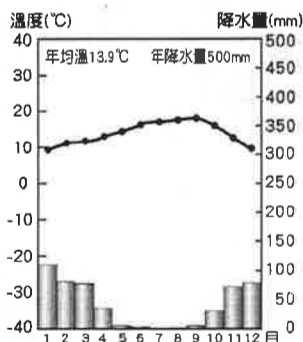
1. 本學科試題為兩張三面，交卷時只須交答案卡(卷)。
2. 每題都有 A、B、C、D 四個選項，其中只有一個選項是正確的，請將正確答案選出。
3. 作答時必須使用 2B 黑色鉛筆，將正確答案劃記在答案卡上面，否則不予計分。
4. 本試題卷分為兩部分：一、單選題，1~12 題，每題 2.5 分，共 30 分；二、題組題，13~40 題，每題 2.5 分，共 70 分。

一、單選題，1~12 題，每題 2.5 分，共 30 分。

1. ( ) 萊茵河是歐洲航運價值最大的河川，聖倫羅斯河則是北美洲航運價值極高的河川。兩條河川的高航運價值與下列哪項關係最密切？ (A) 河流長度 (B) 流量豐富 (C) 流向出口 (D) 流域面積。
2. ( ) 美國與加拿大邊境的五大湖區林礦資源豐富，交通便利，工業發達。請問：這五座大湖的成因為何？ (A) 溶蝕作用 (B) 風蝕作用 (C) 火山作用 (D) 冰蝕作用。
3. ( ) 若以文化特色區分，美洲可分為「盎格魯美洲」與「拉丁美洲」，下列哪些國家位於盎格魯美洲？ (甲) 美國 (乙) 巴西 (丙) 墨西哥 (丁) 加拿大 (A) 甲乙 (B) 甲丁 (C) 乙丙 (D) 丙丁。
4. ( ) 美國面積遼闊，關於其經緯度位置標示，下列何者正確？



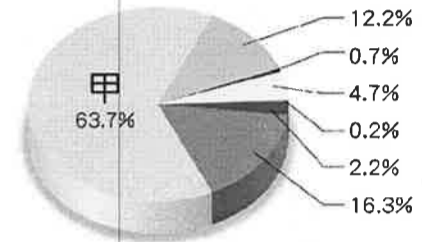
5. ( ) 附圖為北美洲某地的氣候圖。依據圖中資料研判，該地最可能位於下列何處？ (A) 美國西南部沿岸 (B) 美國東南部沿岸 (C) 加拿大西部沿岸 (D) 加拿大東部沿岸。



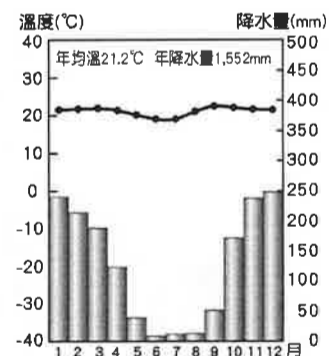
6. ( ) 傑米趁著假期開飛機橫越美國，一路風景美不勝收，他先從沿岸平原與低緩山地出發，再越過大平原，最後飛過高聳山地並結束旅程。傑米行進的方向應是下列何者？ (A) 由西向東 (B) 由東向西 (C) 由北向南 (D) 由南向北。
7. ( ) 加入歐盟後的東歐各國，以低廉的勞力等優勢，吸引各國前往投資，成為歐盟的「組裝基地」，如臺灣的鴻海集團即在捷克設廠。同樣的情形亦發生在北美自由貿易區，為打進北美市場，鴻海應選擇下列哪個國家為廠址所在？ (A) 美國 (B) 巴拿馬 (C) 墨西哥 (D) 加拿大。
8. ( ) 美國中部平原地形平坦，多種植小麥、玉米等作物，農田面積十分廣大，收穫的農產品以供應市

場為主。上述的農業屬於哪種經營方式？ (A) 滴灌農業 (B) 熱帶栽培業 (C) 商業性農業 (D) 自給自足性農業。

9. ( ) 附圖為美國人口組成比例圖。請問：圖中甲族群，其祖先來自下列哪洲？ (A) 歐洲 (B) 亞洲 (C) 非洲 (D) 大洋洲。



10. ( ) 電影<白鯨傳奇：怒海之心>描述西元 1820 年一艘捕鯨船在南太平洋遭到抹香鯨攻擊的始末。該船的航行日記如下：「從美國東北角的家鄉出發後，順著(甲)福克蘭寒流向東航行，後又順著加那利涼流與東北信風南下，越過赤道後，沿著(乙)阿拉斯加暖流南下，經過南美洲最南端，受到強勁(丙)東風的影響，費力地穿越麥哲倫海峽，之後才順著(丁)祕魯涼流，到達太平洋東南漁場，卻不幸遭到鯨魚衝撞，最後僅二人獲救。」日記中所描述的情節，何處最為合理？ (A) 甲 (B) 乙 (C) 丙 (D) 丁。
11. ( ) 附圖為巴西首都巴西利亞的氣候圖。關於此氣候圖的敘述，下列何者正確？ (A) 夏雨冬乾的熱帶莽原氣候 (B) 夏乾冬雨的溫帶地中海型氣候 (C) 多雨的熱帶雨林氣候 (D) 適合發展農、牧的草原氣候。



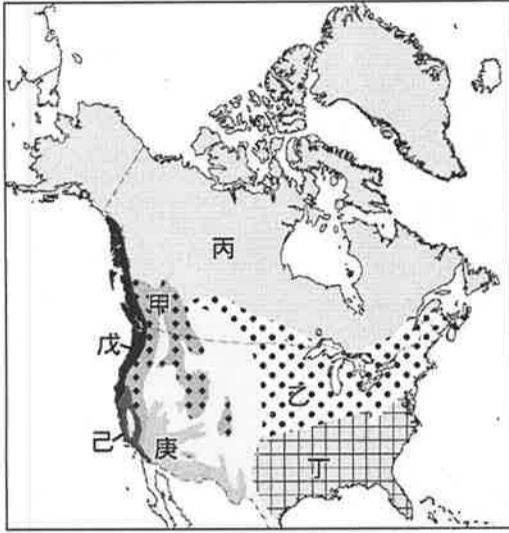
12. ( ) 中南美洲的經濟發展以農、礦業為主，在主要的農礦業和生產國配對上何項不正確？ (A) 銀—智利 (B) 甘蔗—古巴 (C) 咖啡—巴西 (D) 石油—委內瑞拉。

二、題組題，13~40題，每題2.5分，共70分。

西元2011年，美國遭受了上百起的龍捲風襲擊，造成數百人死亡，以阿拉巴馬、密西西比、田納西、阿肯色等州的災情最為嚴重。請問：

13. ( ) 北美洲最容易發生龍捲風的地區主要為何處？  
 (A) 太平洋沿岸 (B) 落磯山區  
 (C) 大平原中南部 (D) 五大湖區。
14. ( ) 北美洲最容易發生龍捲風的季節為何？  
 (A) 冬、春之交 (B) 春、夏之交  
 (C) 夏、秋之交 (D) 秋、冬之交。

附圖為北美洲氣候圖。請回答下列問題：



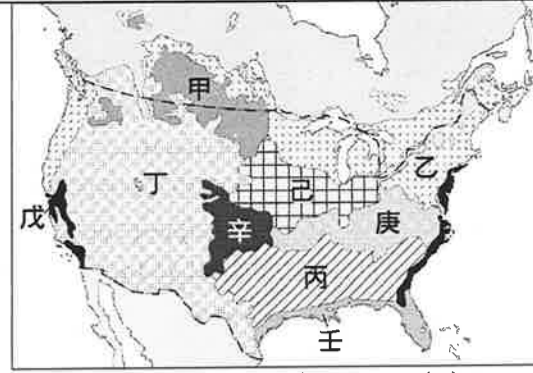
15. ( ) 珍珠想要趁著暑假出國旅行，並且想看到永晝的景觀，請問：她應該前往何處？ (A) 甲 (B) 乙  
 (C) 丙 (D) 戊。
16. ( ) 大衛到美國加利福尼亞州旅行時，看到一整片的葡萄果園。請問：他當時的位置最可能位於何處？  
 (A) 丙 (B) 丁 (C) 戊 (D) 己。
17. ( ) 承上題，大衛亦在日記中描述了當地的所見所聞。請問：其中何者錯誤？ (A) 夏季乾燥，冬季多雨  
 (B) 沿岸暖流經水溫較高 (C) 一年四季溫差不大 (D) 農業依賴灌溉系統。
18. ( ) 下列何者為「庚」區氣候類型的形成主因？ (A) 高壓籠罩 (B) 深居內陸 (C) 地勢高聳 (D) 居背風坡。

附圖為美國研究中的「文化分區」，代表族群、文化、產業與地理景觀的綜合。請問：



19. ( ) 美國的畜牧帶主要分布於圖上哪個文化區？ (A) 空曠1/4 (B) 迪西區 (C) 麵包籃區 (D) 新英格蘭區。
20. ( ) 矽谷為全球高科技重鎮，分布於圖上哪個文化區？  
 (A) 空曠1/4 (B) 沿海區 (C) 麵包籃區 (D) 新英格蘭區。
21. ( ) 五大湖區因靠近煤、鐵等原料產地，發展成重要的工業帶。分布於圖上哪兩個文化區鄰近五大湖區？ (A) 空曠1/4、沿海區 (B) 沿海區、鑄造廠區 (C) 鑄造廠區、麵包籃區 (D) 迪西區、鑄造廠區。

附圖為北美洲農、牧業分布圖。請問：



22. ( ) 圖中哪兩個地區是小麥帶？ (A) 甲、乙 (B) 甲、辛 (C) 丙、壬 (D) 丁、戊。
23. ( ) 美國是世界最大的棉花出口國，其棉花主要產於圖中何處？ (A) 甲 (B) 乙 (C) 丙 (D) 丁。
24. ( ) 酪農業具有明顯的市場區位特點，通常分布在大都市附近，依此推斷北美最大的酪農帶，主要分布在附圖中哪個地點附近？ (A) 甲 (B) 乙 (C) 丙 (D) 丁。

近年美國經濟狀況不佳，失業率一路攀升，貧富差距擴大，於是《Adbusters》雜誌以斗大的標題號召人們在西元2011年9月17日現身全美經濟重鎮——華爾街，抗議金融大亨的掠奪與貪婪，引來千人參與，並引發其他美國城市、亞洲的香港、臺北、東京等地民眾響應。請問下列問題：



25. ( ) 華爾街是一條位於美國紐約市下曼哈頓的狹窄街道，是橫跨紐約曼哈頓的金融中心。「攻占華爾街」的行動，最初主要位在附圖中哪個地點？ (A) 甲 (B) 乙 (C) 丙 (D) 丁。
26. ( ) 在「占領」運動的影響下，部分人士在美西的港口進行大罷工，這使得美國對亞洲的商品出口受到影響，其中參與人數最多的是位在舊金山灣區的奧克蘭，其位置應在圖中哪個地點附近？ (A) 甲 (B) 乙 (C) 丙 (D) 丁。

附表為西元2017年某國家基本資料的介紹。請問：

■面積：	835.8 萬 km <sup>2</sup> ，全球排名第5
■人口：	2 億 699 萬人，全球排名第5
■主要語言：	葡萄牙語
■主要出口項目：	黃豆、鐵礦、原油、生鮮及冷凍肉、蔗糖、油渣餅、化學木漿、咖啡、玉黍蜀及冷凍牛肉等

27. ( ) 表中列出的主要農產品項目中，何者為中南美洲的原生作物？ (A) 咖啡 (B) 黃豆 (C) 甘蔗 (D) 玉米。
28. ( ) 由該國主要出口項目可以推知，該國經濟發展具有下列何種特色？ (A) 農作物量少種類多 (B) 受國際市場影響極大 (C) 農場規模小且零碎 (D) 工業產值居中南美洲末座。

附圖為中南美洲氣候圖。請問：



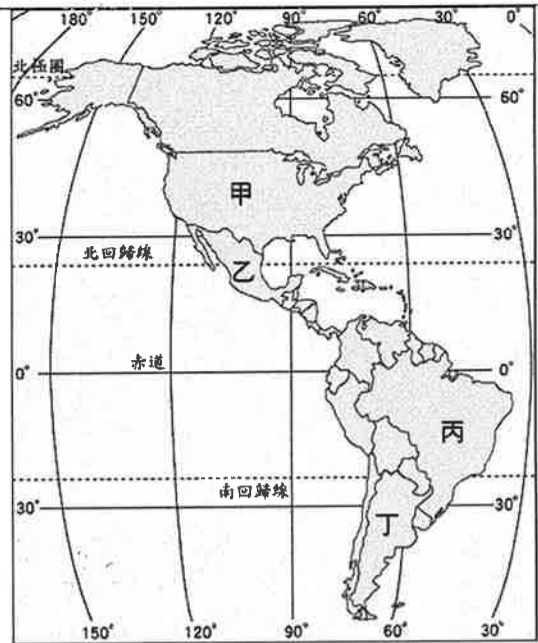
29. ( ) 安地斯山脈是世界上最長的山脈，其分布位置大致與圖中的哪個氣候區相符？ (A)乙 (B)丙 (C)丁 (D)己。
30. ( ) 圖中何地的氣候受西風影響，終年有雨，與西歐地區相似？ (A)甲 (B)丙 (C)戊 (D)己。
31. ( ) 近年來在新聞或氣象播報時常聽見「聖嬰現象」與「反聖嬰現象」，其主要是與圖中C洋流的水溫高低相關。請問：C洋流的名稱為何？ (A)加利福尼亞涼流 (B)秘魯涼流 (C)巴西暖流 (D)福克蘭寒流。
32. ( ) 西元2004年台灣超級馬拉松選手林義傑挑戰亞馬孫叢林超馬，榮獲第二名。請問：參賽地點最可能是圖中何處？ (A)甲 (B)乙 (C)丁 (D)戊。
33. ( ) 住在台灣的小明利用暑假探訪南美洲，旅遊期間正值當地的乾季，請問：他是到圖中的哪一地區？ (A)甲 (B)乙 (C)戊 (D)己。

附表為西元2015年各國都市化程度比較表。請問：

國家	都市人口比例 (%)
委內瑞拉	89
烏拉圭	95
阿根廷	92
智利	90
巴西	86
美國	82
英國	83

34. ( ) 表中位於南美洲的國家有幾個？ (A)3個 (B)4個 (C)5個 (D)6個。
35. ( ) 中南美洲都市人口比例偏高的主要因素為下列何者？ (A)國家經濟發達 (B)政府鼓勵移民 (C)鄉村十分貧困 (D)都市國宅數量多。
36. ( ) 中南美洲貧富差距懸殊，區域發展失衡嚴重。表中哪個國家的政府，曾利用遷都的方式，以促進內陸開發，期望縮小區域差距？ (A)巴西 (B)智利 (C)阿根廷 (D)委內瑞拉。

附圖為美洲國家的政區圖。請回答下列問題：



37. ( ) 圖中哪個國家是南美洲唯一傳承葡萄牙文化、語言的國家？ (A)甲 (B)乙 (C)丙 (D)丁。
38. ( ) 丁國有著肥沃的土壤，豐茂的草原，良好的氣候，使其成為「南美穀倉」。請問：該國的農牧活動主要集中在於哪個地方？ (A)巴西高原 (B)彭巴草原 (C)安地斯山脈 (D)巴塔哥尼亞高原。

附圖是中南美洲國家簡圖，請依此圖回答下列各題：



39. ( ) 溝通大西洋與太平洋的重要交通孔道—巴拿馬運河位於哪個國家？ (A)甲 (B)乙 (C)丙 (D)丁。
40. ( ) 為「北美自由貿易區」的會員國之一，且以產銀礦著名於世的是哪個國家？ (A)甲 (B)乙 (C)丙 (D)丁。