

桃園市中壢區自強國中 106 學年度第 1 學期九年級地理科第二次定期考查試卷

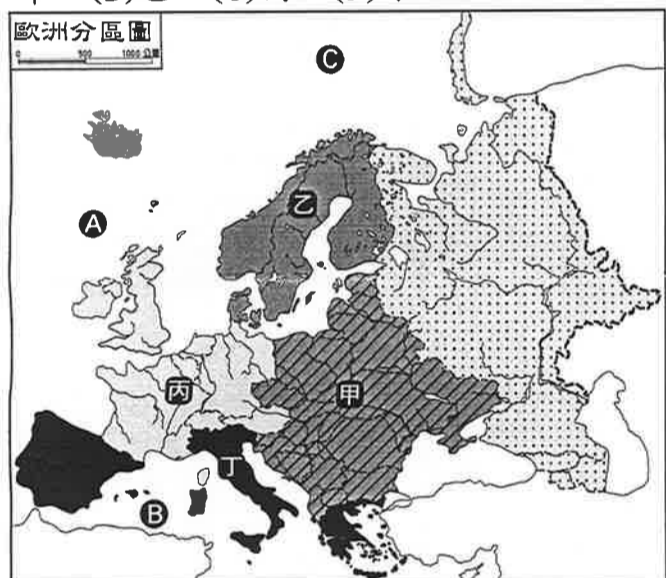
班級： 座號： 姓名：

請讀完下文才開始作答。


1. 本試題共二張三面，交卷時只須交答案卡。
2. 每題都有A、B、C、D四個選項，其中只有一個是正確的。試題答錯不扣分。
3. 本試題卷為單一選擇題。共 40 題，每題 2.5 分；全部共 100 分。

命題範圍：九上第 3 課~第 4 課

1. 「由於霧氣瀰漫，這裡被稱為『霧都』，但它可是世界主要金融中心之一，……」請問：這個都市指的是(A)鹿特丹 (B)巴黎 (C)倫敦 (D)阿姆斯特丹
2. 「歐俄地區大部分屬於溫帶大陸性氣候，愈往東部受到來自□□□水氣的影響愈少，因此雨量愈少、年溫差也愈大。」上列敘述中的□□□應該是指哪個海域？(A)大西洋 (B)北極海 (C)太平洋 (D)地中海。
3. 下圖中哪一地區因為經濟發達，國民平均所得較高，在生育、教育、醫療、失業與養老各方面都有完善的福利制度，號稱「從出生到死亡全程照顧」？(A)甲 (B)乙 (C)丙 (D)丁。



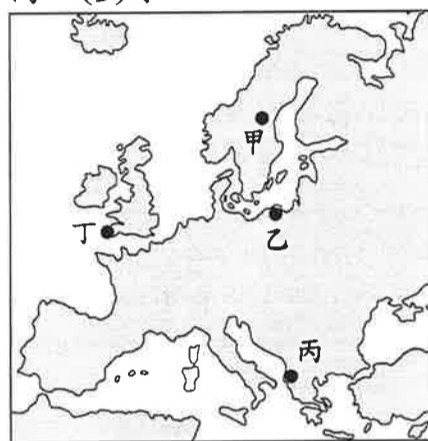
4. 北歐緯度較高，氣候較涼爽，但因下列哪些因素影響，造成北歐西側沿海地區，氣候較同緯度其他地區溫暖溼潤？(甲)冰河作用 (乙)北大西洋暖流 (丙)西風 (丁)地形，正確的是 (A)甲乙 (B)甲丁 (C)乙丙 (D)丙丁。
5. 花輪到西歐某個國家旅遊，下圖是他在旅遊日記中描繪的當地景觀，請問：花輪應該是下列哪個國家旅遊？(A)芬蘭 (B)荷蘭 (C)義大利 (D)波蘭



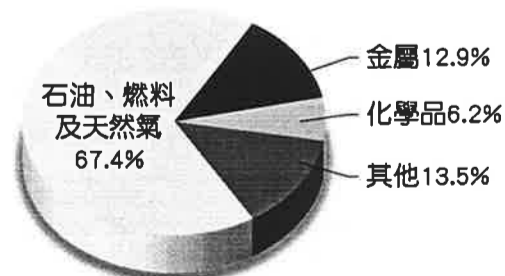
6. 「這個國家有免費的能源，許多家庭依賴地熱取暖，打開水龍頭就可以用溫泉洗澡，也利用地熱、泉水發展溫室農業。」請問：上文敘述的國家是下列何者？

(A)挪威 (B)芬蘭 (C)瑞典 (D)冰島。

7. 承上題，該國是開發地熱發電較早的國家，廉價的電力帶動□□工業的發展，請問：□□工業最有可能是 (A)紡織 (B)煉鋁 (C)石化 (D)成衣
8. 下列有關目前東歐各國的敘述，何者正確？(A)實施計畫經濟 (B)以發展軍事工業為主 (C)各國皆已成為歐盟會員 (D)工資較低廉為其優勢條件。
9. 俄羅斯面積廣大，□□□□將俄羅斯分為歐俄地區與西伯利亞地區，請問：□□□□最可能是指下列何者？(A)烏拉山 (B)高加索山 (C)喀爾巴阡山 (D)斯堪地那維亞山。
10. 石灰岩地形因溶蝕作用形成峰林、石柱、石筍、鐘乳石等奇岩怪石，這種地形因為最早在某地的喀斯特高原進行有系統的研究，因此又稱為喀斯特地形，請問：某地最有可能在圖中何處？(A)甲 (B)乙 (C)丙 (D)丁。



11. 俄羅斯的人口分布極不平均，請問：西伯利亞地區的人口分布，與下列何者最相符？(A)鐵路沿線 (B)河川沿岸 (C)森林分布 (D)鐵礦分布。
12. 俄羅斯西伯利亞地區的河川航運價值不高，主要原因「不包括」下列何者？(A)出口方向不佳 (B)冬季結冰期長 (C)流域內人口不多 (D)多屬內流河，河川長度不長。
13. 東歐的北部是屬於歐洲大平原的範圍，南部則是山地與平原交錯，破碎的地形也影響到人文的發展，請問：東歐的地形以下列哪一座山脈分成南、北兩大部分？(A)阿爾卑斯山 (B)庇里牛斯山 (C)喀爾巴阡山 (D)斯堪地那維亞山。
14. 下圖是俄羅斯出口物品比例圖，由圖中資料判斷，俄羅斯的經濟可能會有下列何種問題？(A)易受國際市場價格波動影響 (B)動力來源缺乏 (C)工業原料不足 (D)勞力成本較高。



15. 導遊在遊船上介紹著：「這條河川發源於阿爾卑斯山，流經瑞士、法國、德國與荷蘭等國家，總長度約 1,300 多公里，是歐洲航運價值最高的河川。」請問：

桃園市中壢區自強國中 106 學年度第 1 學期九年級地理科第二次定期考查試卷

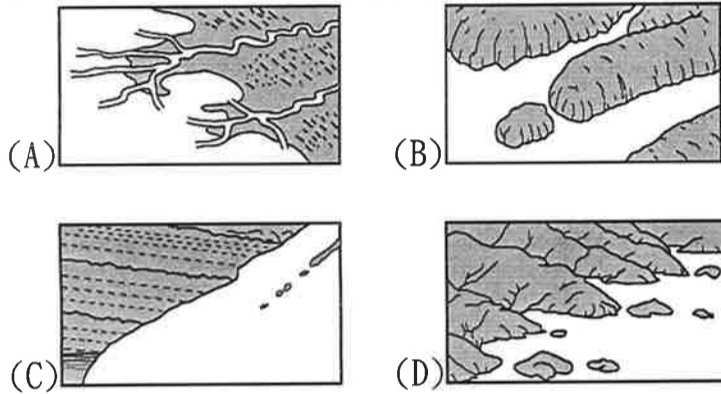
班級： 座號： 姓名：

導遊正在介紹哪一條河川？ (A)萊因河 (B)多瑙河 (C)塞納河 (D)泰晤士河

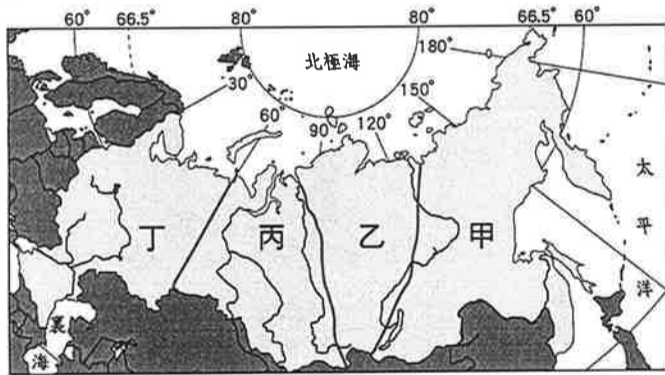
16. 法國東南部的蔚藍海岸氣候宜人，燦爛的陽光和湛藍的海水令人嚮往，這裡也是坎城電影節的舉辦地點，每年一度的金棕櫚獎就在此頒獎，請問：此地的氣候類型為下列何者？ (A)高地氣候 (B)溫帶海洋性氣候 (C)溫帶大陸性氣候 (D)溫帶地中海型

17. 西伯利亞鐵路是世界最長的鐵路，全長 9,288 公里，它連接首都和太平洋岸的符拉迪沃斯托克，穿越山脈，在西伯利亞的針葉林和大草原上延伸著，是許多人想體驗的鐵道之旅。請問：上中的首都是指下列何地？ (A)巴黎 (B)倫敦 (C)莫斯科 (D)布達佩斯。

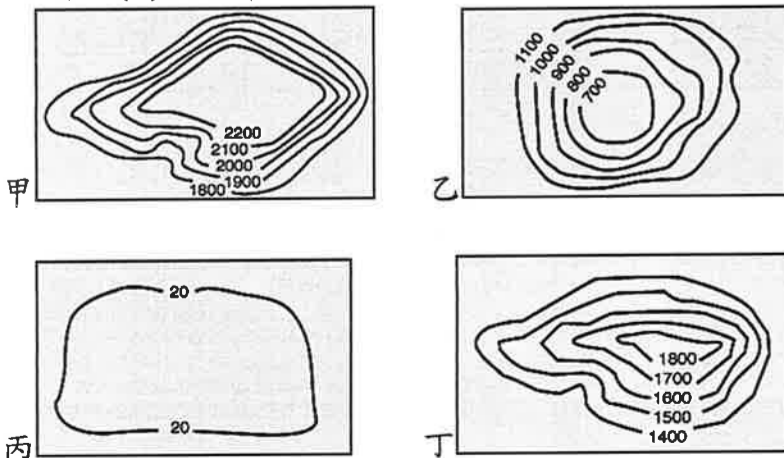
18. 挪威有世界級的貨運船隊，航運業發達，除了因為有不凍港之外，還與下列哪種海岸地形有關？



19. 「俄羅斯某地區發生芮氏規模 6.4 的地震，是否會引發海嘯正在密切觀察中，……」請問：該地震最可能發生在下圖中哪個地形區？ (A)甲 (B)乙 (C)丙 (D)丁



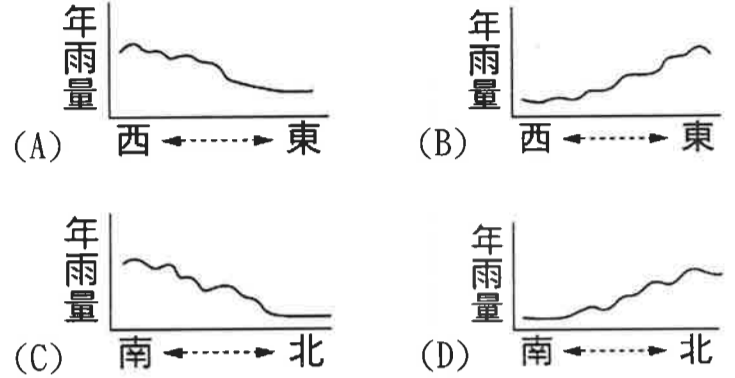
20. 西伯利亞地區的地形由西向東依序可用下列哪一張等高線地形圖表示？(A)丙乙丁 (B)丙甲丁 (C)甲乙丙 (D)乙丁甲



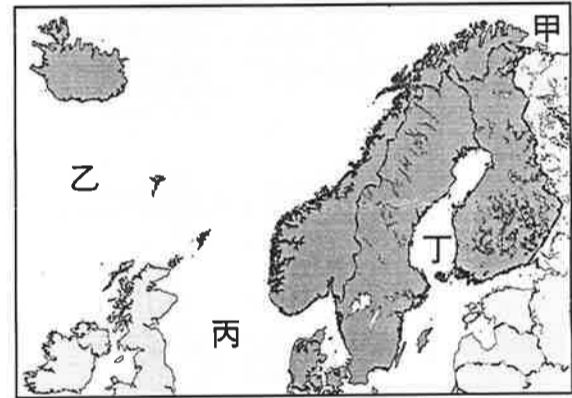
21. 德國蘊藏豐富煤礦，是世界的工業大國，請問：德國發展工業的基礎，除豐富的煤礦以外，與下列哪一個因素關係最密切？ (A)殖民地廣 (B)水運便利 (C)勞力充足 (D)工資低廉。

22. 北歐有許多 U 型谷地，沿海的峽灣地形發達，這些特徵都與下列何種地形作用有關？ (A)風力作用 (B)冰河作用 (C)溶蝕作用 (D)斷層作用。

23. 下列哪一張圖最適合用來表示東歐的年雨量分布變化？



24. 英國與挪威利用石油收入來發展高科技產業，帶動經濟持續成長，請問：兩國的油田位在下圖中何處海域？ (A)甲 (B)乙 (C)丙 (D)丁。



25. ○○打造出可以浮在水面的「漂浮屋」，這種房屋能隨著水位升高而上升，等到河水消退後，房屋又會回到原位，○○的首都甚至還出現了全球最大的漂浮屋社區，請問：○○最有可能是下列哪個國家？ (A)法國 (B)英國 (C)荷蘭 (D)德國。

26. 俄羅斯是全世界面積最大的國家，領土橫跨歐、亞兩洲，境內多達 11 個時區。請問：這與俄羅斯的哪一項地理特徵關係最大？ (A)南北所跨緯度大 (B)地勢起伏太大 (C)森林分布廣 (D)東西橫跨距離長。

27. 「坐擁阿爾卑斯山的湖光山色，滑雪場地吸引許多愛好滑雪人士前來大展身手，勞力士錶顯示出精密工業的製作水準。」。上列敘述是指下列哪個國家？ (A)丹麥 (B)奧地利 (C)荷蘭 (D)瑞士。

28. 為了提升多瑙河的航運功能，在多瑙河上游興建運河與哪一條河川連接，而使多瑙河的水運可直通至大西洋？ (A)萊因河 (B)泰晤士河 (C)塞納河 (D)聶伯河。

29. 歐洲人重視環保，西歐國家因地理環境條件適合風力發電，所以採用風力發電的比例高於其他地區，請問：西歐國家適合風力發電的地理條件為何？ (A)

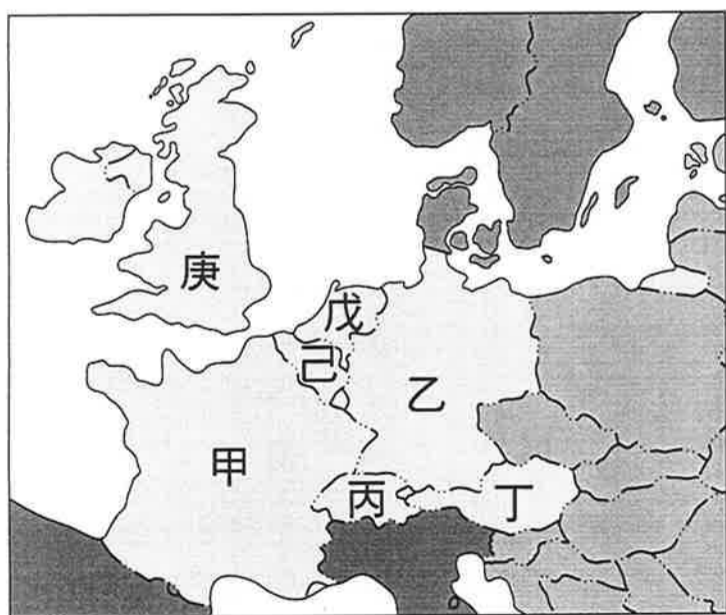
桃園市中壢區自強國中 106 學年度第 1 學期九年級地理科第二次定期考查試卷

班級： 座號： 姓名：

- 有暖流經過 (B)位於中緯度西風帶 (C)終年受副熱帶高氣壓籠罩 (D)地處板塊交界處
30. 由俄羅斯的自然環境如地形、氣候條件來看，最有利於從事農業的地區應該是下列何者？ (A)歐俄平原 (B)西伯利亞平原 (C)西伯利亞高原 (D)西伯利亞山地。
31. 下列哪一個地區族群與宗教複雜，紛爭不斷，而有「歐洲火藥庫」之稱？ (A)斯堪地那維亞半島 (B)伊比利半島 (C)義大利半島 (D)巴爾幹半島。
32. 「該地區的氣候大多屬於溫帶大陸性氣候，年溫差大，降雨集中夏季，……」，上述地區最可能位於下圖中的何處？ (A)甲 (B)乙 (C)丙 (D)丁。



下圖是西歐各國簡圖，請回答 33~36 題：

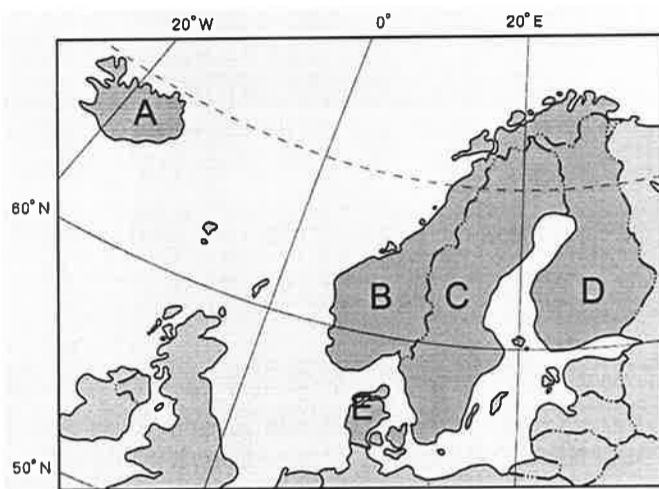


33. 這個國家音樂氣息濃厚，是著名音樂家莫札特的出生地，該國首都更有「音樂之都」之稱。請問：此國家位於圖中何處？ (A)甲 (B)丁 (C)丙 (D)己。
34. 「早期利用本寧山附近的礦產提供動力來源，發展工業……」指的是圖中哪個國家？ (A)甲 (B)乙 (C)庚 (D)戊
35. 歐盟總部所在地的國家是 (A)甲 (B)戊 (C)己

(D)丁。

36. 「時尚產業全球著名，又有艾菲爾鐵塔、羅浮宮等觀光勝地，觀光業十分發達。」上述指的是哪個國家？ (A)甲 (B)乙 (C)庚 (D)戊

下圖是北歐各國簡圖，請回答 37~40 題：



37. 當地湖泊眾多，因而有「千湖國」之稱的國家是 (A)A (B)B (C)C (D)D
38. 臺灣位於板塊接觸帶，溫泉多，很多人喜歡以泡溫泉為休閒活動，北歐也有個「溫泉島國」，前往該國旅遊時也可以安排泡溫泉的行程，請問：該國位於圖中何處？ (A)A (B)B (C)C (D)D
39. 下列哪個國家的畜牧業發達，肉品和乳品就近外銷輸往歐洲各國，有「歐洲牧場」之稱？ (A)A (B)E (C)B (D)D
40. 「蘊藏優質鐵礦，汽車工業發達，『VOLVO』(富豪)汽車聞名於世。」上列敘述是指哪個國家？ (A)A (B)B (C)C (D)D