

請讀完下文才開始作答：

- 1.本學科試題二張三面，交卷時只須交答案卡。
- 2.每題都有A、B、C、D四個選項，其中只有一個選項是正確的，請將正確答案選出。
- 3.作答時須用2B黑色鉛筆將正確答案劃記在答案卡，否則不予計分。
- 4.答案卡上劃記必須正確，答案塗改須擦拭乾淨，若劃記錯誤或不清楚影響電腦讀卡判讀，將不予計分。
- 5.本試題卷分為兩部份：一、單一選擇題，1~16題，每題3分，共48分；二、題組，17~30題，每題3分，共42分。31~35題，每題2分。
- 6.本學科試題應答時間為45分鐘，考試途中如有問題，請舉手發問。

一、單一選擇題 (每題3分 共16題)

()1. 下列哪一個地理區，並非位於季風亞洲的範圍，不屬於季風氣候區？

- (A)朝鮮半島 (B)菲律賓群島 (C)中南半島 (C)東印度群島

()2. 下圖為世界部分地區的板塊分布情形，請問從圖中推斷下列哪一個國家較不容易發生地震災害：



- (A)日本 (B)印尼 (C)尼泊爾 (D)越南

()3. 便利商店推出「東北亞週」活動，只要與東北亞有關的食品，通通可以得到半價優惠。廷偉購買下列哪一項商品，並不會得到折扣？

- (A)泡菜 (B)札幌味噌拉麵 (C)鮭魚壽司(D)阿薩姆紅茶

()4. 柏翰到印度參加童軍海外大露營，考量到住在帳篷裡的舒適度，不要下雨也不要酷熱，露營活動最可能在下述何時舉辦？

- (A)聖誕節(B)清明節(C)端午節(D)中秋節

()5. 郁瑄是跨海來台的外籍勞工，平常的工作就是推老爺爺到公園曬太陽，在6/17日穆斯林開齋節這天，郁瑄特地向雇主請假到大安森林公園參加開齋節慶祝活動，請問她最可能來自下列何國？

- (A)印尼 (B)越南 (C)泰國 (D)緬甸

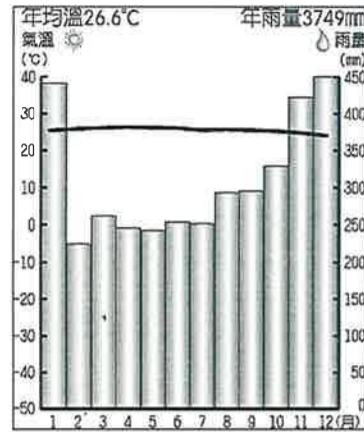
()6. 彥程與老婆到蜜月勝地-馬爾地夫旅遊，下列何者最可能是他們在當地的旅遊體驗？

- (A)與魚尾獅地標拍照(B)參觀雙子星大樓
(C)搭小船逛水上市場(D)珊瑚礁海域浮淺

()7. 承上題，彥程選擇馬爾地夫度蜜月的原因是因為該國面臨嚴重的環境威脅，未來恐有滅國的危機，該國最大的環境問題為何？

- (A)颱風侵襲 (B)廢水汙染 (C)土壤鹽鹼化(D)海平面上升

()8. 下圖為某國氣候圖，根據資訊判斷某國為下列何者？

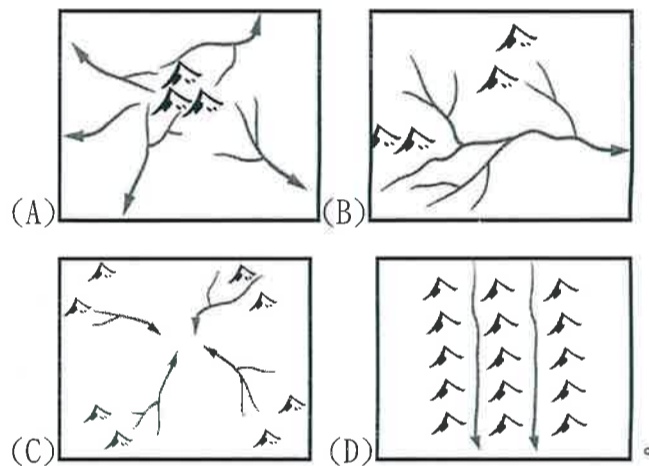


- (A)北韓(B)新加坡(C)印度(D)菲律賓

()9. 熱帶栽培業盛行於東南亞地區，是當地的重要產業。關於熱帶栽培業的特色，何者正確？

- (A)粗放式農業 (B)以種植糧食作物為主
(C)為出口導向的產業 (D)作物多樣化可降低風險。

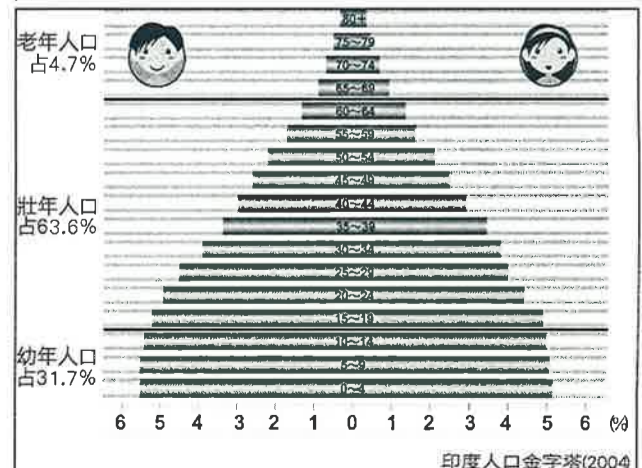
()10. 在中南半島上最常看到的水系類型為何？



()11. 日本與台灣在自然環境上有許多相似處，請問以下關於台、日之間的比較，錯誤的有？

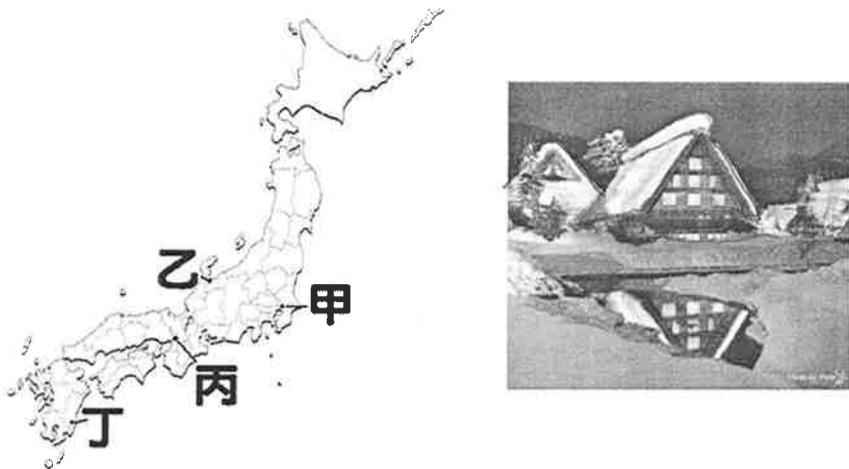
- (甲)地形比例均為山多平原少
(乙)均為季風氣候區，季風風向相同
(丙)火山、溫泉為常見的自然景觀
(丁)平原均位在島嶼西半部。
(A)乙丙 (B)丙丁 (C)甲乙 (D)乙丁。

()12. 下圖為印度人口金字塔圖。從圖中可觀察出下列哪一項人口特徵？



- (A)出生率高(B)死亡率低(C)人力資源不足(D)高齡化。

()13. 右下圖為日本的合掌村，為世界文化遺產之一。因為此地冬季降雪豐富，故將屋頂設計成60度斜角的三角形，並鋪蓋茅草，利用屋頂的斜度排雪。請問合掌村應位於下方日本地圖中的哪一個地區？



(A)甲 (B)乙 (C)丙 (D)丁。

()14. 南亞的宗教色彩相當明顯，而各國家之間的國際關係也受到宗教的影響。下列為南亞各主要國家的宗教的信仰人口比例(%)，表中丁國應該是下列哪一個國家？

國家	印度教	伊斯蘭	佛教	基督教	其他
甲	80	11	1	2	6
乙	2	95	—	2	1
丙	12	87	—	—	1
丁	—	8	70	8	14

(A)巴基斯坦 (B)印度 (C)斯里蘭卡 (D)孟加拉。

()15. 巴基斯坦和孟加拉分別位在印度大平原兩端。巴基斯坦盛產小麥，孟加拉盛產稻米和黃麻，影響兩國農業發展不同的主要因素為何？

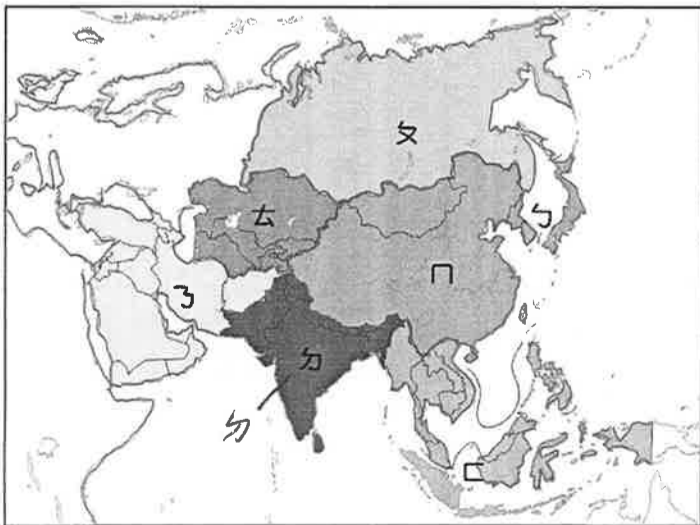
(A)氣溫 (B)雨量 (C)土壤 (D)地形。

()16. 下列哪一個都市並非「港埠型都市」？

(A)首爾(B)雅加達(C)馬尼拉(D)新加坡

二、題組(17~30題，每題3分，31~31題，每題2分):

◎下圖為亞洲分區的示意圖，請參考圖中資訊回答問題：




()17. 關於各分區的名稱，下列何者配對錯誤？

(A)ㄅ-東北亞 (B)ㄆ-南亞
(C)ㄇ-東亞 (D) ㄏ-中亞

()18. ㄅ區和歐洲的分界線為下列何者？

(A)喜馬拉雅山 (B)烏拉山
(C)太白山脈 (D)橫斷山脈

()19. 右圖為亞洲某區域組織的代表旗幟，請問該區域組織的原始會員國位於哪個分區內？



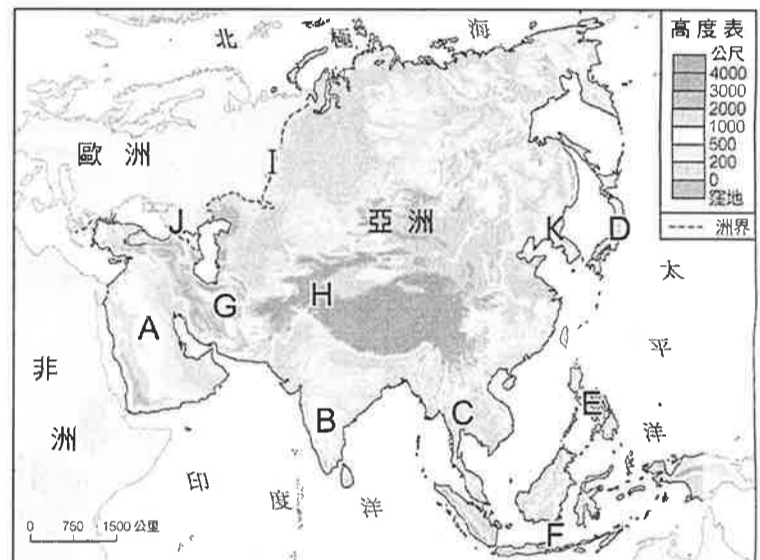
(A)ㄅ (B)ㄆ (C)ㄇ (D)ㄏ

()20. 承上題，該組織為了加強與周邊國家的經貿往來，推出該組織加三的合作方案，即與中國、日本及韓國合作，日、韓等合作夥伴位於圖中何處？

(A)ㄅ(B)ㄆ(C)ㄇ(D)ㄏ

◎美國總統川普和北韓領導人金正恩於本月12日終於在新加坡會面，請回答下列問題：

()21. 川普和金正恩共同發表聯合聲明表示，北韓將致力完成朝鮮半島的去核化，且兩國將合力營造朝鮮半島持久、穩定的和平。朝鮮半島位於下圖中何處？



(A)K (B)D (C)C (D)B

()22. 未來北韓經濟潛力龐大，下列何者為北韓經濟發展的兩大優勢？

(A)科技發達、農業興盛 (B)平原廣大、廉價勞力
(C)礦產充足、廉價勞力 (D)礦產充足、科技發達

()23. 但「錢進北韓」也潛藏風險，經濟學家幾乎不知道北韓經濟的運作方式，因此鮮少有外國廠商敢投資北韓。此現象與下列何項北韓的制度最有關係？

(A)扶植大型財團(B)推動文化產業
(C)研發核子武器(D)實施共產主義

()24. 在川金會前，北韓領導人金正恩和南韓總統文在寅早在4月27日於停戰線的非軍事區展開歷史性會談，此會談地點應為下列何處？

(A)首爾(B)釜山(C)板門店(D)平壤

◎下圖為東南亞國家簡圖，請回答下列問題：



()25. 川普和金正恩各自搭機前往新加坡會面，新加坡位於圖中何處？

(A)甲(B)乙(C)丙(D)丁

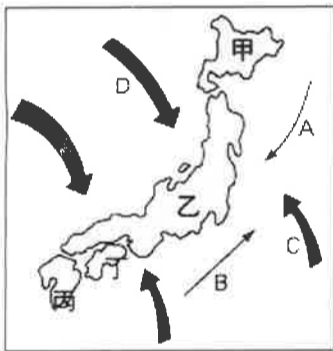
()26. 傳統文字與歲時習俗深受中國影響的越南，位於圖中何處？

(A)甲(B)乙(C)丙(D)丁

()27. 汶萊因發現石油而致富。除汶萊外，東南亞另外兩個主要產油國為下列何者？

(A)甲丁(B)丙己(C)乙戊(D)丙丁

◎下圖為日本島嶼、風向與洋流分布，請回答下列問題



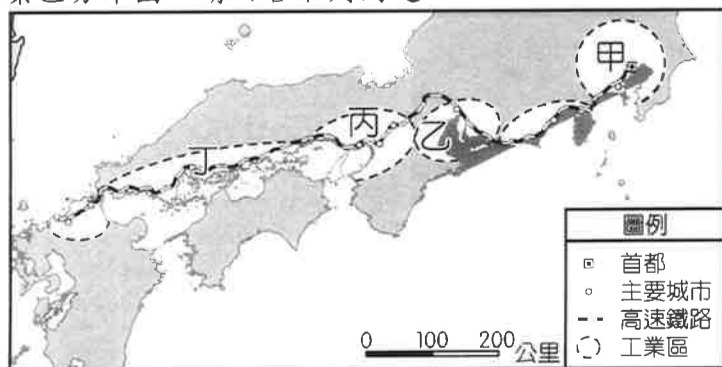
()28. 關於島嶼名稱的配對，下列何者正確？

(A)甲-本州(B)乙-四國(C)丙-九州(D)丁-北海道

()29. 日本氣候主要受到季風與洋流的影響，圖中哪兩者為日本帶來暖濕氣流的夏季季風與暖流？

(A)A、C (B)A、D (C)B、C (D)B、D。

◎日本為亞洲工業大國，其工業產品行銷各地，下圖為日本工業區分布圖，請回答下列問題：



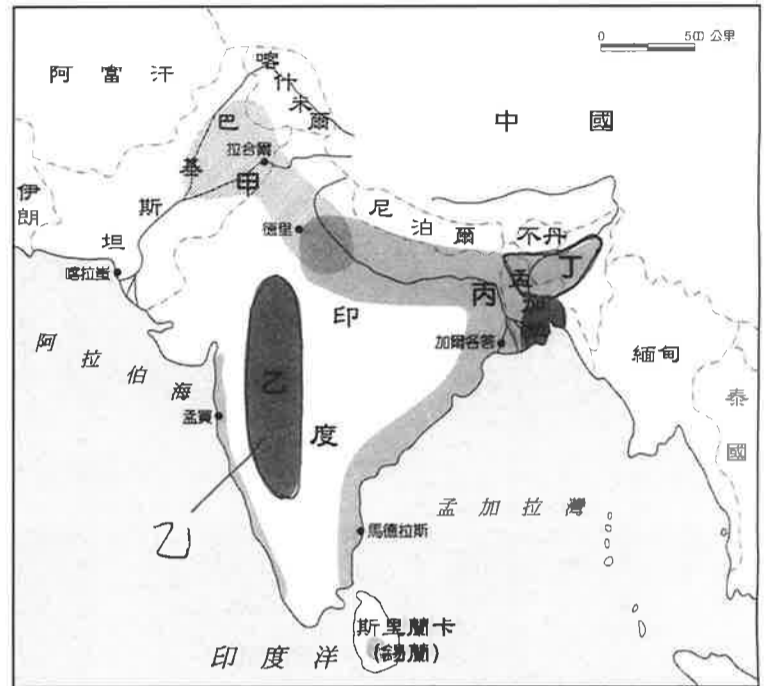
()30. 關於圖中日本工業區的敘述，何者正確？

- (A)主要工業區多分布於日本海沿岸
- (B)日本多發展勞力密集型的加工出口業
- (C)甲是京濱工業區，日本最大的工業區
- (D)工業區緊鄰港口，屬原料區位。

()31. 日本工業產品行銷全球，台灣也有許多人特別出國購買日本電器產品，足見日本工業之水準，請問下列何者不是日本工業的優勢？

- (A)高素質勞工眾多 (B)礦產原料豐富
- (C)海運運輸方便 (D)製造技術先進。

◎印度位於亞洲南部，地形景觀及氣候性質特色十分明顯，形成各不同的區域發展特色。下圖為印度半島的簡圖，請問：



()32. 印度曾被英國殖民，英式下午茶文化中的紅茶產地主要位於圖中何處？

(A)甲 (B)乙 (C)丙 (D)丁。

()33. 位於恆河出海口，為地勢低平的三角洲，夏季容易發生嚴重水災的國家為下列何者？

- (A)孟加拉 (B)斯里蘭卡
- (C)印度 (D)巴基斯坦。

()34. 印度半島上的塔爾沙漠降雨量最少，位於圖中何處？

(A)甲 (B)乙 (C)丙 (D)丁。

()35. 圖中「丁」區為印度半島降雨較多地區，請問：影響其降雨分布的主要影響因素為何？

- (A)地勢高低、緯度高低
- (B)季風風向、地勢高低
- (C)洋流流向、季風風向
- (D)季風風向、緯度高低。

本試題到此結束~請再仔細檢查畫卡是否有誤，祝大家考試順利!!