

桃園縣立自強國中106學年度第二學期第一次段考八年級地理科試卷


八年____班 座號：____ 姓名：_____

請讀完下文才開始作答。

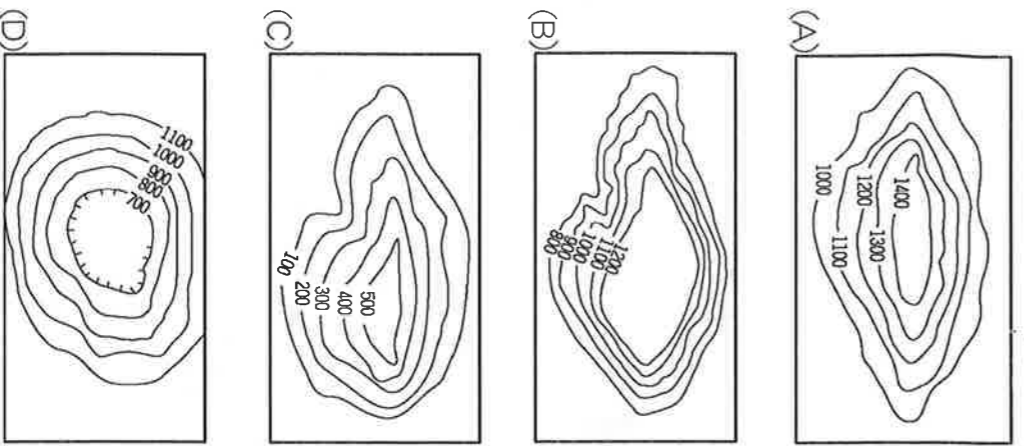
1. 本學科試題二張四面，交卷時只須交答案卡。2. 每題都有A、B、C、D四個選項，其中只有一個選項是正確的，請將正確答案選出。
3. 作答時必須使用2B 黑色鉛筆，將正確答案劃記在答案卡上，否則不予計分。4. 答案卡上劃記必須正確，答案塗改須擦拭乾淨，若劃記錯誤或不清楚影響電腦讀卡判讀，將不予計分。
5. 本試題卷分為兩部分：一、選擇題，1~25題，每題2.5分，共62.5分；二、題組題，26~40題，每題2.5分，共37.5分。滿分為100分。

一、選擇：(每題 2.5 分，共 62.5 分)

1. () 附圖為華南地區著名的峰林景觀，吸引大批遊客前往旅遊。請問：造成此現象的作用力為何？
 (A)雨水的溶蝕 (B)風力的侵蝕
 (C)海水的侵蝕 (D)火山噴發作用。



2. () 雲南省境內約有 1,100 多個「壩子」，而壩子的耕地更占全省耕地面積的三分之一以上，為人口集中的精華區。請問：該精華區的地形種類為何？



3. () 長江流域諸城，每到夏季時炎熱無比，有「火爐」之稱，請問主要受什麼影響？
 (A)地形 (B)緯度 (C)季風 (D)洋流。
4. () 華南地區梅雨季為 5~6 月，而華中地區則為 6~7

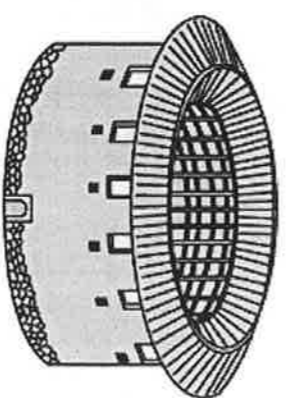
- 月。請問，造成華中梅雨季節晚於華南的主因為何？
 (A)華中雨量較華南少，梅雨不易生成
 (B)華中盆地居多，水氣充沛，梅雨較遲發生
 (C)滯留鋒面由南方逐漸往北方推移
 (D)華中地區易受颱風侵襲，影響梅雨形成。

5. () 附表為長江沿岸三個主要都市的[]月均溫資料。從表中可以發現重慶市的氣溫比其他二個都市高，造成此現象的主要因素為何？ (A)重慶位於熱帶地區 (B)北方高山阻擋冷風南下 (C)距海遙遠，缺乏海洋調節 (D)冬季盛行東南季風。


| 都市 | 一月均溫(°C) |
|----|----------|
| 重慶 | 7.6°C |
| 武漢 | 4.3°C |
| 上海 | 3.7°C |

6. () 下列哪組俗諺與地區的配對完全正確？
 (A)魚米之鄉—雲貴高原 (B)天府之國—成都平原
 (C)八山一水一分田—珠江三角洲 (D)湖廣熟，天下足—長江三角洲。

7. () 附圖為中國某地傳統建築的示意圖。下列對該建築的敘述何者符合事實？
 (A)為了防止水患而設計 (B)建築風格深受歐洲殖民影響
 (C)有助於防禦盜匪 (D)此種建築形式稱為窯洞。



8. () 阿信到中國旅行，順手素描了幾幅當地景觀圖，請問由圖中特殊的交通工具來判斷，何地最可能是他旅遊的地點？ (A)甲 (B)乙 (C)丙 (D)丁。



9.() 阿信接著旅行到福建省沿海，畫出了附圖中這幅素描，請問此類型海岸的成因為何？ (A)受地質構造斷層陷落而成 (B)河流挾帶泥沙至出海口堆積而成 (C)珊瑚蟲死亡後遺骸堆積而成 (D)沿海山谷受海水淹沒而成。



10.() 雲南省昆明市氣候冬暖夏涼，有「春城」之譽，下列哪項為昆明夏季涼爽的主因？ (A)地勢較高 (B)盆地地形 (C)為寒帶氣候 (D)南有高山屏障。

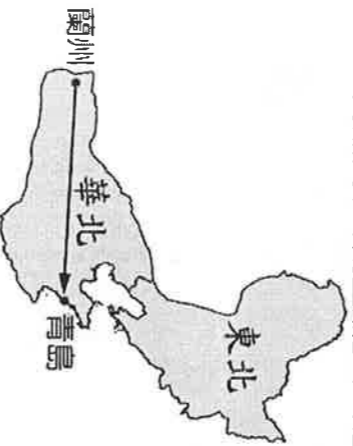
11.() 農作物收穫次數的多寡和該地區緯度的分布有關。依此判斷，下列哪個中國地理區的作物收穫次數可能最多？ (A)華北平原 (B)東北平原 (C)珠江三角洲 (D)長江三角洲。

12.() 若將長江流域三大盆地自上游往下游排列，正確的順序是下列哪項？

- (A)鄱陽盆地→四川盆地→兩湖盆地
- (B)兩湖盆地→四川盆地→鄱陽盆地
- (C)四川盆地→鄱陽盆地→兩湖盆地
- (D)四川盆地→兩湖盆地→鄱陽盆地。

13.() 華北地區的自然環境各地不同，若依附圖中箭頭方向判斷，則代表的變化最可能為下列何者？

- (A)地勢漸高(B)雨量漸多(C)溫差漸大(D)牧業漸盛。



14.() 清朝末年時，華北因為水旱災頻繁，糧食短缺而發生民變。請問：該地區水旱災多為下列哪一原因所致？

- (A)霾害劇烈 (B)沙塵暴災情嚴重
- (C)年雨量變率大 (D)冷暖鋒面交會。

15.() 東北地區為中國較早形成的重工業地帶，「遼中南工業區」更與山東半島、華北平原形成了「環渤海經濟圈」。請問此經濟圈與「珠三角」、「長三角」經濟圈相比，最明顯的區位優勢為何？(A)市場 (B)原料 (C)勞工 (D)交通。

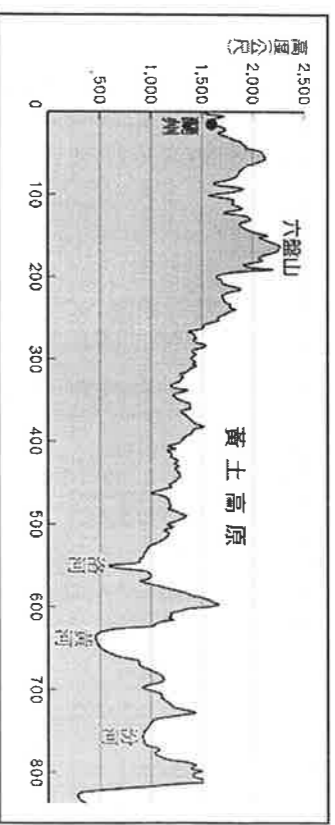
16.() 天津為華北最重要的港口都市，控制了下列哪一條河流的樞紐，因此有利於對內水運交通的便利性？

- (A)黃河 (B)海河 (C)長江 (D)淮河。

17.() 靜香到中國旅遊，在華北參觀了早期漢唐時期的古都長安城。請問：靜香是到了下列哪一座城市？

- (A)西安 (B)天津 (C)北京 (D)瀋陽。

18.() 東北平原的農業景觀和季風亞洲其他地區略有不同，請問：該地區發達的機械化耕作和下列哪些因素的關係最大？(甲)黑土肥沃 (乙)地勢平坦 (丙)農業人口少 (丁)礦產豐富 (A)甲乙 (B)甲丁 (C)乙丙 (D)丙丁。



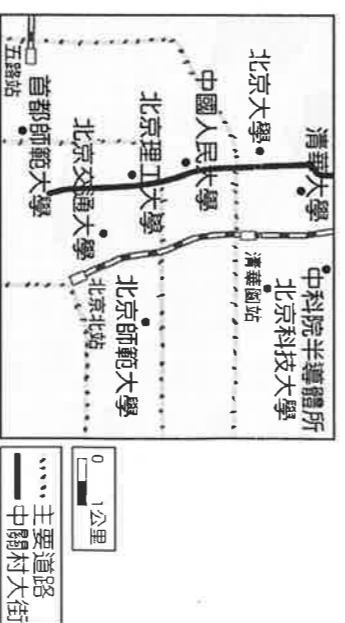
19.() 上圖為黃土高原的地形剖面圖，受流水侵蝕影響，形成千溝萬壑、崎嶇不平的地貌。請問這是受黃土高原本身何種特性所影響？ (A)風力堆積，質地鬆軟 (B)開發礦產，地層崩落 (C)人口密集，廣鑿窯洞 (D)年溫差大，土壤脆弱。

20.() 黃河為中國的第二大河，素有中國的「能源流域」之稱。請問：下列對黃河流域的能源分布何者正確？

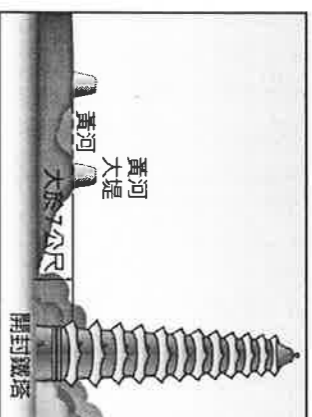
- (A)上游：石油 (B)中游：煤礦
- (C)下游：水力 (D)出海口：鐵礦。

21.() 中國近年來開始致力於產業活動的升級與轉型，東北地區因面臨許多問題，目前正積極發展高科技工業，以下有幾項是他們所面臨的困境？(甲)平原狹小、腹地不足 (乙)礦產資源枯竭 (丙)無對外海港 (丁)國營事業效率低落 (戊)工廠設備老舊。(A)兩項 (B)三項(C)四項 (D)五項

22.() 中國經濟改革後，北京西北郊的中關村發展為高科技園區(如附圖)，有「中國矽谷」之稱。中關村逐漸發展成高科技重鎮之可能原因，不包括下列何者？ (A)礦產豐富 (B)人才眾多 (C)政府政策 (D)交通便利。

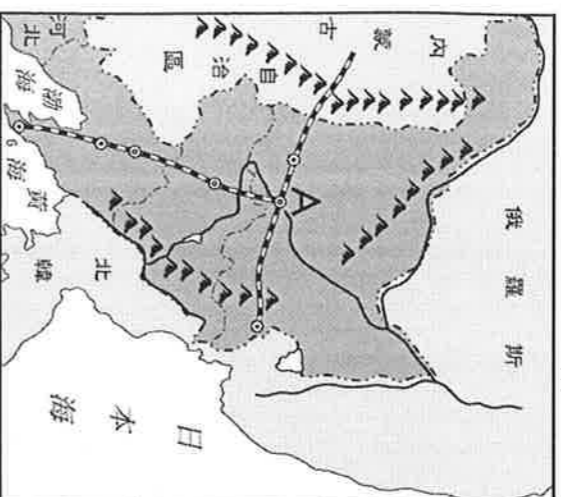


23.() 中國華北有世界少見的地上「懸河」景觀，如附圖所示，這和當地的什麼特性關係最大？ (A)河川含沙量大 (B)上游圍湖造田 (C)石灰岩伏流侵蝕 (D)堤防加固工程。



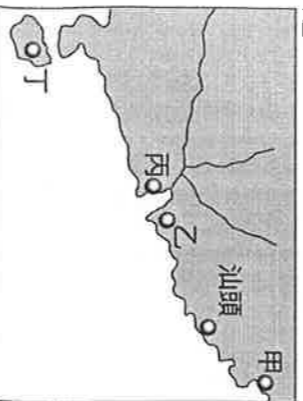
24.() 在黃河下游地區加固大堤工程，主要是用來改善下列哪一種環境問題？ (A)沙塵暴 (B)旱災頻傳 (C)水土流失 (D)河水氾濫。

25.() 上海市的發展是建立於中國「T」字形交通的中點；而東北亦有如附圖所示的「T」字形的鐵路網。請問：東北T字鐵路網的交會點「A」地，應是下列哪個都市？
(A)大連 (B)長春 (C)瀋陽 (D)哈爾濱。



二、題組：(每個答案 2.5 分，共 37.5 分)

* 中國在西元 1978 年實施改革開放政策，在沿海設立五個經濟特區，以促進經濟的發展。如附圖所示，請問第 26~29 題：



- 26.() 經濟特區為中國發展的先驅，早期將經濟特區設在福建、廣東等地的考量為何？ (A)氣候暖濕 (B)民族多元 (C)橋樑眾多 (D)技術進步。
- 27.() 下列哪個地區並非中國在沿海設置經濟特區的地點？ (A)汕頭 (B)廈門 (C)喀什 (D)珠海。
- 28.() 深圳經濟特區因為距離香港最近，大量吸收了來自香港的工業發展基礎，而成為重要工業都市，請問附圖中哪個為深圳？ (A)甲 (B)乙 (C)丙 (D)丁。
- 29.() 下列關於經濟特區的特色敘述中，何者錯誤？
(A)以出口為導向 (B)提供資金供外商運用 (C)提供優惠條款吸引外商 (D)希望引進外來技術促進中國工業升級。

* 長江三峽大壩對於沿岸地區的影響，不論是生態、聚落、水文、航運等，影響都相當深遠。請問第30~31題。

30.() 請問三峽大壩所在位置為附圖中哪個地理區？
(A)甲 (B)乙 (C)丙 (D)丁。



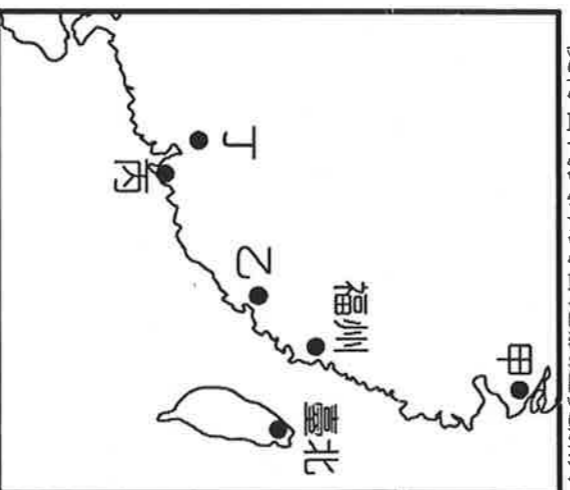
31.() 三峽大壩完工後，對於航運上的影響相當明顯，如來自於東海的貨輪即可藉由該河道順利深入哪一座城市，對於中國西部的開發助益甚大？ (A)廣州 (B)西安 (C)武漢 (D)重慶。

* 聯結上海與洋山港的跨海大橋已經通車，洋山港將正式啟用，可以供國際大型貨櫃輪作業，使得上海港的航運規模大幅提升。洋山港位於杭州灣出口，預計到 2020 年時可達到現在香港的規模。請問第32~33題：

32.() 為連結上海、洋山港兩地之間的交通，因此興建了跨海大橋連結兩地，並以該海域為名。其名稱應該為何？
(A)南海大橋 (B)東海大橋 (C)黃海大橋 (D)渤海大橋。

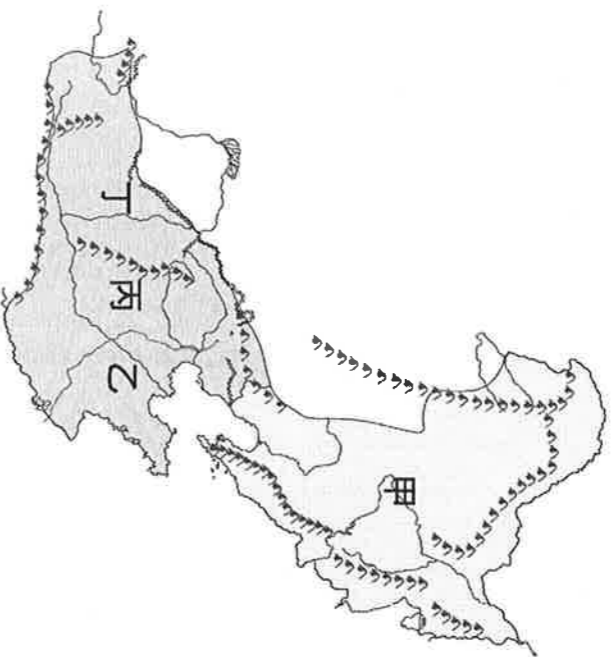
33.() 上海為中國繁榮的城市指標象徵，其地理條件優越，吸引各大企業財團爭相進駐。但其優勢不包括下列何者？ (A)位於熱帶，適合栽培經濟作物
(B)都市化程度高，居民消費能力強
(C)腹地廣大，串連長江沿岸
(D)江海交會口，位置優越。

* 香港在 2012 年 9 月 1 日起，針對臺灣民眾實施免簽證措施，使得台灣民眾到香港旅遊更加方便。請問第34~35題：



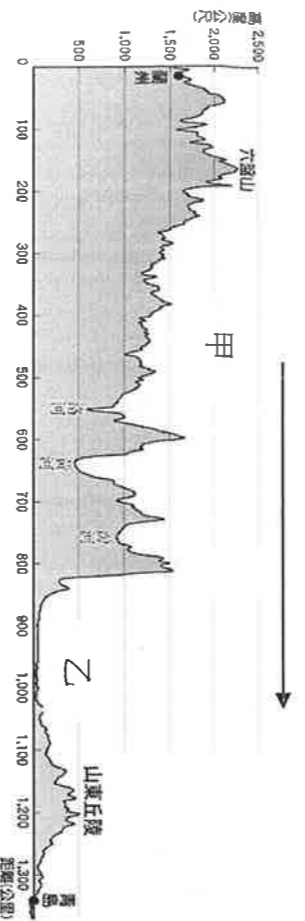
- 34.() 香港的位置應為以下何者？
(A)甲 (B)乙 (C)丙 (D)丁。
- 35.() 下列有關香港和澳門的敘述，哪一項是正確的？
(A)香港位於珠江口西側；澳門位於珠江口東側
(B)香港曾由法國管轄；澳門曾由葡萄牙管轄
(C)香港工商業鼎盛，是世界著名的國際金融中心；澳門長期以來靠觀光及博奕業收入維持其經濟
(D)香港北側緊鄰珠海經濟特區；澳門北側緊鄰深圳經濟特區。

*附圖為中國北部區域的簡圖，其中甲~丁代表地形區。請依據圖中資訊回答第 36~38 題：



36. () 此區主要由黃河、海河及淮河共同沖積的分布區，土壤肥沃，是中國北方的糧倉。此區應位於圖中何地？
 (A)甲 (B)乙 (C)丙 (D)丁。
37. ()「甲」區形勢優越，俗稱「山環水繞」，下列哪座山脈並不環繞於「甲」區？
 (A)秦嶺 (B)長白山 (C)大興安嶺 (D)小興安嶺。
38. () 若欲改善黃河的水質，降低其泥沙含量，應該於下列哪個地區加強水土保持工程，減低泥沙含量？
 (A)甲 (B)乙 (C)丙 (D)丁。

*附圖為中國華北地區地形剖面圖，請問第39~40題：



39. () 根據圖中地形起伏判斷，圖中的箭頭方向應朝向何處？ (A)東方 (B)西方 (C)南方 (D)北方。
40. () 請問甲乙分界應為哪座山脈？
 (A)秦嶺 (B)南嶺 (C)燕山 (D)太行山。

試題結束，請檢查。