

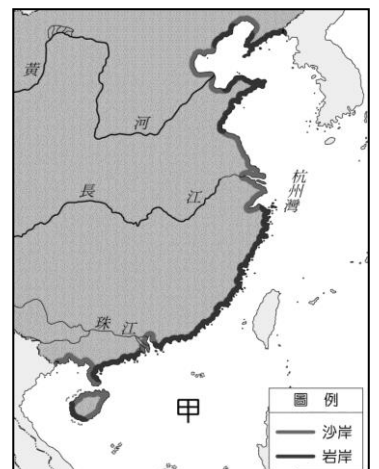
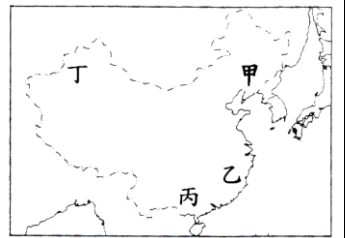
考試範圍：BOOK3 冊 L1~L2 (讀卡)

請讀完下文才開始作答。

- 1.本學科試題為兩張四面，交卷時只須交答案卡(卷)。
- 2.每題都有 A、B、C、D 四個選項，其中只有一個選項是正確的，請將正確答案選出。
- 3.作答時必須使用 **2B 黑色鉛筆**，將正確答案劃記在答案卡上面，否則不予計分。
- 4.答案卡上劃記必須正確，答案塗改須擦拭乾淨，若劃記錯誤或不清楚影響電腦讀卡判讀，將不予計分。
- 5.本試題卷分為兩部分：一、選擇題，1~16 每題 2 分，共 32 分；二、題組題，17~50，每題 2 分，共 68 分。

### 一、單選題(每題兩分)

- ( ) 1. 「中國疆域廣大，是(甲)世界面積最大的國家；根據全球時區畫分，中國最東與最西時差應為(乙)4 個小時，但中國為管理方便，統一以位居國土中央的(丙)重慶時間為標準；大部分國土位居中緯度，由北而南依序分別為(丁)熱帶、副熱帶、溫帶氣候區。」文中描述「正確」的項目有幾項？  
(A)1 項 (B)2 項 (C)3 項 (D)4 項。
- ( ) 2. 「嶺南丘陵的龍勝梯田最高處約 880 公尺，最低處約 380 公尺，規模磅礴壯觀，被譽為「世界梯田之冠」。請問，此梯田景觀應位於右圖中何地？(A)甲 (B)乙 (C)丙 (D)丁。
- ( ) 3. 「中國在 8 月 26 日宣布蛟龍號潛艇在深達 3759 公尺的海底，插上中國國旗，公開向印尼、馬來西亞等國家宣示主權。」請問，此新聞內容提及的海域應是：(A)黃海 (B)東海 (C)南海 (D)北海。
- ( ) 4. 「中國有高度達 8,000 公尺以上的珠穆朗瑪峰，也有低於海平面的吐魯番窪地」，由以上敘述可知，中國領土具有下列哪個特徵？(A)面積廣大 (B)位居中緯度 (C)跨越經度大 (D)地表起伏大
- ( ) 5. 住臺南市七股區的止威為了協助父母所賴以維生的養殖漁業進行產業升級與轉型，準備自費前往中國沿海與家鄉較類似的環境區域進行參觀與考察，請問：他到中國哪一個地區的沿海考察所獲得的成果最為豐碩與實用？  
(A)東南丘陵 (B)山東半島 (C)遼東半島 (D)長江中下游平原
- ( ) 6. 少年偵探隊執行特別任務，其位置分別如下：育臻( $60^{\circ}\text{E}$ ,  $10^{\circ}\text{S}$ )、嘉玲( $175^{\circ}\text{W}$ ,  $43^{\circ}\text{N}$ )、力沙( $110^{\circ}\text{E}$ ,  $30^{\circ}\text{N}$ )、承威( $23.5^{\circ}\text{W}$ ,  $53^{\circ}\text{S}$ )。請問：四人中何者位在中國境內？(A)育臻 (B)嘉玲 (C)力沙 (D)承威
- ( ) 7. 當準噶爾盆地還是滿天星斗的黑夜時，黑龍江已經撒滿了陽光；當海南島春光明媚、百花盛開時，黑龍江省還是漫天飛雪、天寒地凍。請問：當準噶爾盆地還是滿天星斗的黑夜時，黑龍江已經撒滿了陽光，主要和下列哪一個原因最相關？(A)面海背陸的相對位置 (B)跨越經度範圍大 (C)跨越緯度範圍大 (D)地勢西高東低，呈三級階梯。
- ( ) 8. 承上題，請問：當海南島春光明媚、百花盛開時，黑龍江省還是漫天飛雪、天寒地凍，主要和下列哪一個原因最相關？(A)跨越經度範圍大 (B)面海背陸的相對位置 (C)跨越緯度範圍大 (D)地勢西高東低，呈三級階梯。
- ( ) 9. 中國網路名人胡延平在其微博發表一篇中國順口溜的貼文：「沒糧可收的雲南人，沒水可喝的四川人，沒藥可治的山西人，獻血獻身的河南人，貓鼠通吃的廣東人，手機殘廢的新疆人，頂風冒雪的海南人，灰頭土臉的北京人……」。其中「沒糧可收的雲南人」主要和當地屬於下列哪一種地形，土壤貧瘠所導致？(A)冰河 (B)沙漠 (C)風積 (D)石灰岩。
- ( ) 10. 宜文想要解釋中國主要河川流向多為由西向東流的原因，則他以下列何者來說明最適合？(A)中國年降水量分布圖 (B)中國地勢三級階梯示意圖 (C)中國五大地形面積比例圖 (D)中國三大氣候類型分布圖。
- ( ) 11. 「地動儀」是中國古代用來觀測地震的儀器，其上有八條含著銅球的龍，龍頭分別朝著八方位，哪個方向發生地震，該方向的銅球就會從龍嘴掉落至下方銅蟾蜍的口中。如果將地動儀設置於河南洛陽，當西南方銅球掉落，則它所感應到發生地震的城市可能是下列何者？(A)重慶 (B)上海 (C)武漢 (D)天津。
- ( ) 12. 中國海岸線綿長，依構成物質分為岩岸與沙岸，中國的海岸大致以杭州灣為界，以北多沙岸分布，然而有部分地區卻屬於岩岸。請問：下列哪些為「岩岸」？(甲)山東半島 (乙)遼東半島 (丙)黃河口 (丁)長江口 (A)甲乙 (B)甲丙 (C)乙丙 (D)甲丁
- ( ) 13. 承上題，「甲」海域附近的海岸性質為岩岸多於沙岸，請問沙岸分布的地區主要與何種因素有關？(A)丘陵分布 (B)河川堆積 (C)斷層陷落 (D)風力侵蝕



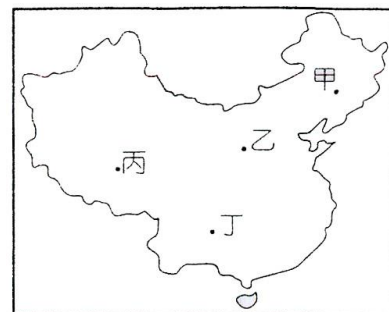
- ( ) 14. 右圖為中國的特殊運輸方式，請問該圖位於哪一種地形區？  
 (A)雲貴高原 (B)青藏高原 (C)黃河中下游 (D)橫斷山脈
- ( ) 15. 何者是沙漠地區必不可少的交通運輸工具，有著「沙漠之舟」的美稱？  
 (A)馬 (B)羊皮筏 (C)犛牛 (D)駱駝
- ( ) 16. 下列哪種牲畜，毛皮厚而長，耐寒力特強，且善於爬山負重，是藏北高原當地的重要役畜，有「高原之舟」之稱？ (A)馬 (B)羊 (C)犛牛 (D)駱駝。



## 二、題組題(每題兩分)

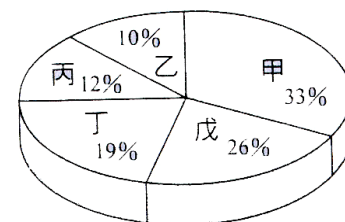
【一】右圖為中國簡圖，甲~丁代表地形區，請問：

- ( ) 17. 「此地區形成於 240 萬年前，是風吹來堆積而成，由水切雕成溝谷縱橫，支離破碎的地形。幾千年來，人民在風來黃沙漫天，雨來地去一塊的土地上耕作生活……。」請問：文中描述的地區位於圖中何地？ (A)甲 (B)乙 (C)丙 (D)丁。
- ( ) 18. 「徐霞客是世界最早的石灰岩地貌考察先驅，他親自進入地下六、七十個岩洞，對其複雜的結構、大小、成因、特徵，都有詳細的記錄，開創了中國地理學實地考察研究的新方向。」請問，圖中何處應是文中徐霞客地理實察的地區？ (A)甲 (B)乙 (C)丙 (D)丁。



【二】右圖為中國地形面積比例圖，請問：

- ( ) 19. 請問右圖為何種統計圖的形式 (A)點子圖 (B)圓餅圖 (C)剖面圖 (D)直方圖。
- ( ) 20. 圖中乙代表的地形應是： (A)山地 (B)高原 (C)盆地 (D)丘陵。
- ( ) 21. 上地理課時，卓靈可藉此圖資料說明下列哪一項事實？  
 (A)中國地勢西高東低 (B)中國面積廣大 (C)中國地形種類複雜 (D)暖溼海洋水氣可深入中國內陸。
- ( ) 22. 依圖中百分比來判斷，甲和戊最有可能是哪兩種地形？  
 (A)山地和高原 (B)山地和平原 (C)盆地和高原 (D)丘陵和高原。



【三】右圖為中國三大地區簡圖，甲~丙代表三大地區，請問：

- ( ) 23. 圖中三大地區的分界線「不包括」下列何者？  
 (A)大興安嶺 (B)長江 (C)秦嶺 (D)淮河。
- ( ) 24. 陸上鄰國最多的地區是：(A)甲 (B)乙 (C)丙。
- ( ) 25. 圖中 d 與 e 的連線為中國重要的地理分界，請問此界線 d 應為下列何者？  
 (A)秦嶺 (B)喜馬拉雅山 (C)大興安嶺 (D)太行山。
- ( ) 26. 哪一區因受氣候條件影響，居民大多以麵食為主，成就了「山東饅頭、北京餡餅、天津狗不理包子」等著名美食，請就前面敘述來判斷該地位置？(A)甲 (B)乙 (C)丙。

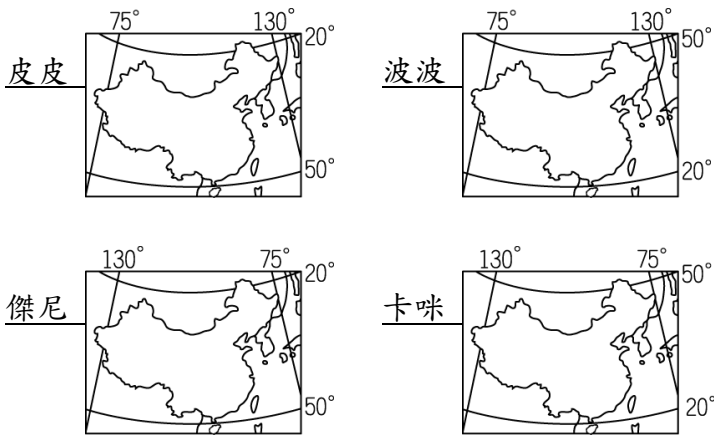


【四】右圖為中國行政區簡圖，甲~庚代表行政區位置，請問：

- ( ) 27. 「此地區位於中國西北地區、內蒙古高原的南方、黃河中游，古為西夏地方，自唐宋以來，就和阿拉伯世界交往頻繁，形成多樣的伊斯蘭教風格，是研究中國伊斯蘭文化的活博物館。此區人口有 487 萬人，有回、漢、滿等民族，並以回族為其中人數最多的族群。」文中描述的地區應位於圖中何地？ (A)甲 (B)乙 (C)丙 (D)丁。
- ( ) 28. 中國在少數民族居住的區域成立了自治區，請問：下列何者「不是」自治區？ (A)丙 (B)丁 (C)戊 (D)己。
- ( ) 29. 距離台灣最近，以台灣海峽相隔的行政區是： (A)甲 (B)乙 (C)戊 (D)庚。
- ( ) 30. 下列關於中國自治區的敘述，何者正確？ (A)多為漢族自治治理 (B)隸屬於省之下 (C)是各少數民族聚居的地方 (D)不能保有民族文化
- ( ) 31. 圖中乙區有港澳兩地因特殊的社會與經濟制度，故特別設置了一種省級行政區。請問：此種行政區的名稱為何？ (A)省 (B)自治區 (C)直轄市 (D)特別行政區



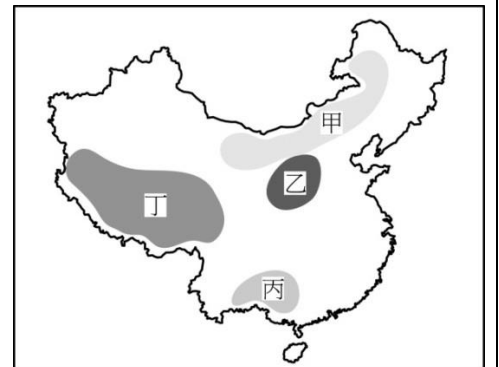
【五】皮皮、波波、傑尼和卡咪分別繪製中國的經緯度位置圖（如下面四圖所示）。請問：



- ( ) 32. 哪一個人畫的圖最為正確？(A)皮皮 (B)波波 (C)傑尼 (D)卡咪。  
 ( ) 33. 若根據所在的緯度判斷，中國應該沒有哪一個氣候帶？(A)熱帶 (B)副熱帶 (C)溫帶 (D)寒帶。

【六】宜安利用暑假前往中國四大高原考察兼旅遊（四大高原的位置如下圖），並在日記中寫下沿途所見聞。請問：

- ( ) 34. 「抵達某高原後，開始出現頭暈想吐等高山症症狀，所幸吸了點氧氣並休息了一下，就恢復正常了。」這天宜安應是到達哪一個高原？(A)甲 (B)乙 (C)丙 (D)丁。  
 ( ) 35. 宜安抵達乙高原後，發現該地區的表面崎嶇不平、溝壑縱橫，請問其造成其崎嶇的因素為何？(A)風力侵蝕 (B)雨水溶蝕 (C)風力堆積 (D)河川侵蝕。  
 ( ) 36. 「這裡有一望無際平坦遼闊的草原，策馬奔馳其中，享受風吹草低見牛羊的草原風情。」這天宜安應是到達哪一個高原？(A)甲 (B)乙 (C)丙 (D)丁。  
 ( ) 37. 中國的高原主要分布在第幾級階梯？(A)第一、二級階梯 (B)第二、三級階梯 (C)第一、三級階梯 (D)第一、二、三級階梯



【七】菲律賓針對中國於 2013 年向位於海牙的國際仲裁庭提出 15 項訴求，這項菲律賓對中國的仲裁案，常設仲裁法院於台北時間 2016 年 7 月 12 日公布仲裁結果，稱中國大陸在 9 段線範圍內主張的歷史權利沒有法律依據，而南沙群島的所有海上地物，均為礁岩，包括太平島在內。仲裁庭還裁定中國在該海域的填海造陸給環境造成了不可挽回的損失，並要求中國政府停止在該海域的活動。請問：

- ( ) 38. 該仲裁案主要是針對哪一個海域所以引起的國際紛爭？(A)黃海 (B)東海 (C)南海 (D)巴士海峽。  
 ( ) 39. 中國宣稱擁有該海域 90% 的主權，並展開許多人工建設，此舉引起周邊國家的強烈關注，中國這些行為對哪些國家的權益影響較小？(A)越南 (B)汶萊 (C)印度 (D)馬來西亞。

【八】圖 1 是中國地勢三級階梯示意圖，請依圖回答下列問題。

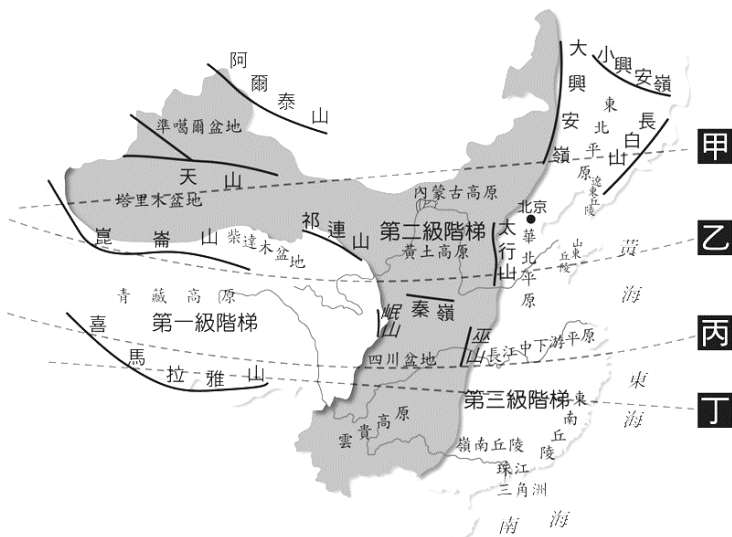


圖 1

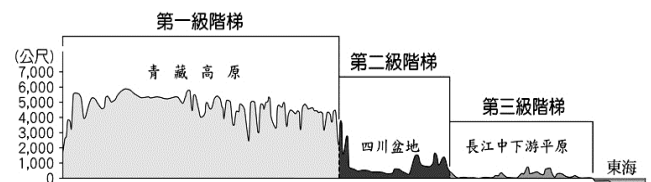


圖 2

- ( ) 40. 圖 2 中國地勢三級階梯的剖面圖，是依圖 1 中甲~丁哪條剖線繪製而成？(A)甲 (B)乙 (C)丙 (D)丁  
 ( ) 41. 中國第二級階梯的地形主體有哪些？(A)平原、丘陵 (B)平原、盆地 (C)高原、盆地 (D)山地、丘陵  
 ( ) 42. 中國第三級階梯有許多平原分布，如(甲)華北平原、(乙)長江中下游平原、(丙)東北平原、(丁)珠江三角洲，其位置由北至南依序為何？ (A)甲乙丙丁 (B)丙甲乙丁 (C)丁乙甲丙 (D)丙丁甲乙

《背面尚有試題》

( ) 43. 中國第三級階梯的山脈以何種走向為主？



(A)



(B)



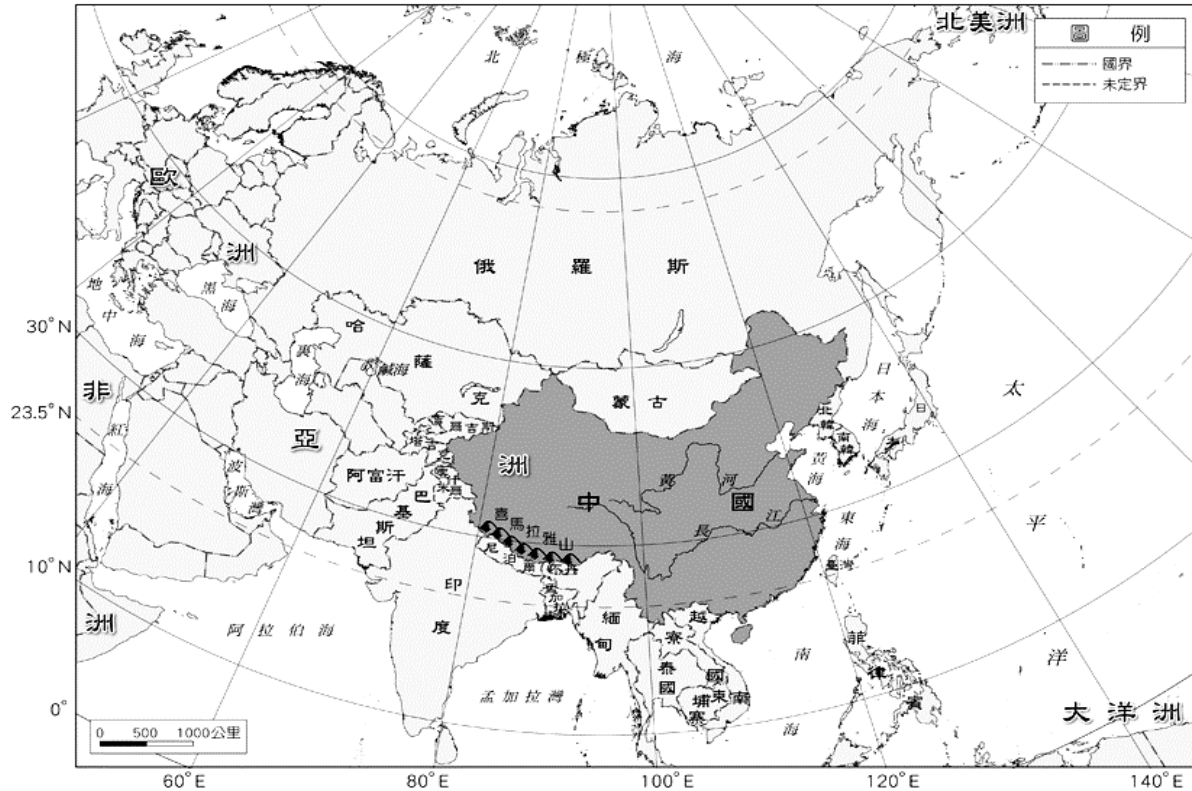
(C)



(D)

( ) 44. 下列哪個地形區位於「第一級階梯」？(A) 四川盆地 (B) 柴達木盆地 (C) 準噶爾盆地 (D) 塔里木盆地

【九】下圖為中國與鄰國位置關係圖，請依圖回答下列問題。

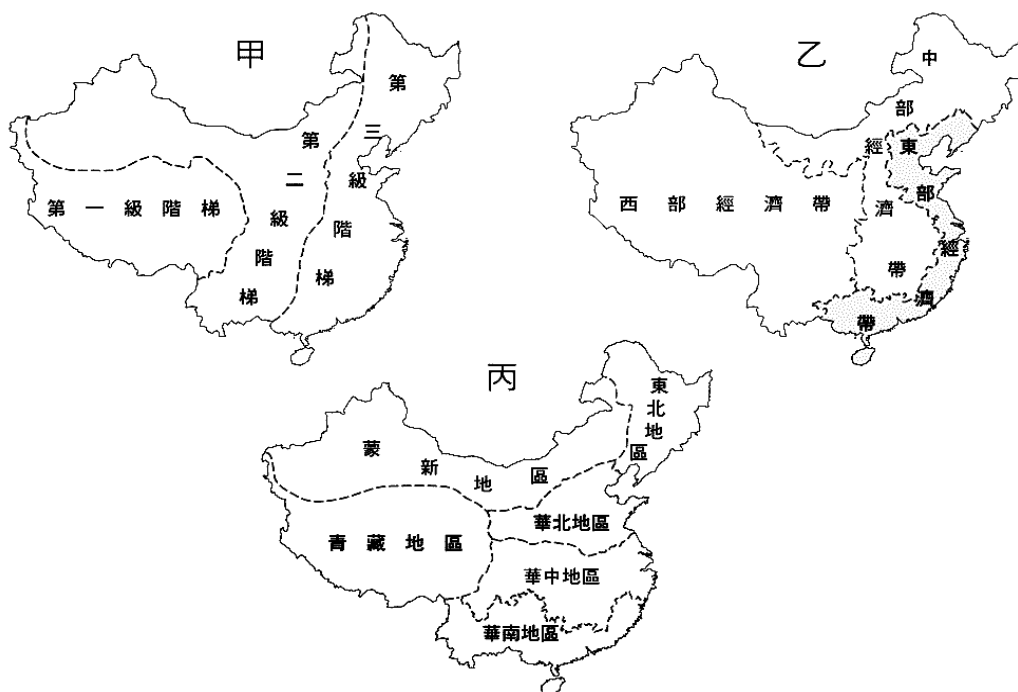


( ) 45. 觀察上圖，下列哪個國家是中國西北部的陸上鄰國？(A) 北韓 (B) 越南 (C) 哈薩克 (D) 阿富汗

( ) 46. 在全球緯度劃分帶中，中國領土絕大部分位於中緯度的溫帶與副熱帶氣候區。請問：上述兩種氣候區大致位於下列哪兩條線之間？

(A) 赤道與極圈之間 (B) 赤道與回歸線之間 (C) 南、北回歸線之間 (D) 回歸線與極圈之間

【十】下圖為三種中國地理區的劃分，請依圖回答下列問題。



( ) 47. 甲圖是以下列何者作為劃分依據？(A) 地勢高低 (B) 民族分布 (C) 經濟發展 (D) 河川水系

( ) 48. 乙圖是以下列何者作為劃分依據？(A) 地勢高低 (B) 民族分布 (C) 經濟發展 (D) 河川水系

( ) 49. 中國的直轄市大多位於乙圖中的哪個地帶？(A) 東部 (B) 中部 (C) 西部 (D) 東部與中部

( ) 50. 下列哪個省級行政區位於丙圖中的華南地區？(A) 東北省 (B) 北京市 (C) 上海市 (D) 海南省

《試題結束，請再次檢查》

解答

1	2	3	4	5	6	7	8	9	10
A	C	C	D	D	C	B	C	D	B
11	12	13	14	15	16	17	18	19	20
A	A	B	D	D	C	B	D	B	D
21	22	23	24	25	26	27	28	29	30
C	A	B	A	A	B	D	C	A	C
31	32	33	34	35	36	37	38	39	40
D	B	D	D	D	A	A	C	C	C
41	42	43	44	45	46	47	48	49	50
C	B	D	B	C	D	A	C	A	D