

桃園市立自強國中 106 學年度下學期第三次段考七年級地理科試卷

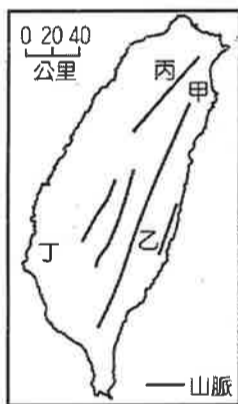
七年 班 座號： 姓名：

請讀完下文才開始作答。

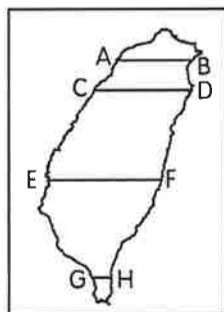
- 1.本學科試題二張四面，交卷時只須交答案卡。2.每題都有 A、B、C、D 四個選項，其中只有一個選項是正確的，請將正確答案選出。
- 3.作答時必須使用 2B 黑色鉛筆，將正確答案劃記在答案卡上，否則不予計分。
- 4.答案卡上劃記必須正確，答案塗改須擦拭乾淨，若劃記錯誤或不清楚影響電腦讀卡判讀，將不予計分。
- 5.本試題卷分為兩部分：一、選擇題，1~29 題，每題 3 分，共 87 分；二、題組題。第 30~32 題，每題 3 分；第 33~34 題，每題 2 分。滿分為 100 分。

一、單選題(每題3分，共29題，87分)

1. ()自強國中校外教學，一路沿著高速公路南下來到臺中，車程中所見到的地形區，應不包含以下何者？(A)新竹丘陵 (B)嘉南平原 (C)臺中盆地 (D)大肚台地。
2. ()中部區域的天然條件相當優越，然而由於生產條件轉變，各級產業活動紛紛面臨轉型。請問：中部區域的產業轉型不包括下列何者？(A)曬鹽業的興起 (B)休閒農業的興起 (C)形成蔬果花卉專區 (D)精密機械的興盛。
3. ()「臺灣出好米，好米在縱谷」，由政府相關單位輔導推動當地生產的「縱谷好米」，農民以純淨無污染的水灌溉，並採取不使用農藥及化學肥料的方式耕作。請問依名稱可知，其生產地區應為附圖中何處？(A)甲 (B)乙 (C)丙 (D)丁。



4. ()附圖為沿著某條經過臺灣的緯度線所繪製的地形剖面圖，請依圖中地形及山脈來判斷，應為哪一線段？(A)AB (B)CD (C)EF (D)GH。



5. ()近年來臺灣東部區域已設立幾所大學院校。請問在東部區域設立大學將產生什麼影響？(A)造成資源浪費 (B)促使人才外流 (C)縮小區域差距 (D)加強生態保育。
6. ()在八田與一完成嘉南大圳後，臺灣緊接著又興建當時世界第三大的烏山頭水庫，有利於何種作物的耕種，使南部區域成為臺灣最重要的農產區？(A)稻米 (B)樟腦 (C)茶葉 (D)高粱。

7. ()附表是杰倫分析臺灣某港口的自然條件，依表中內容判斷，最可能是指下圖中哪一個港口？(A)甲 (B)乙 (C)丙 (D)丁。

自然條件	
優點	1. 形勢良好的灣澳。 2. 少淤積的曲折岩岸。
缺點	1. 丘陵環抱、平地狹小。 2. 雨日較多，影響貨物裝卸。



8. ()臺灣附近海域中有近八十餘個島嶼散布其中，下表為有關這些島嶼的成因，依序為下列何者？

島嶼性質	分布地區
甲	澎湖、蘭嶼、綠島、釣魚臺列嶼、龜山島
乙	琉球嶼、東沙島、太平島
丙	金門、馬祖

- (A)甲→珊瑚礁島、乙→火山島、丙→大陸島
 - (B)甲→火山島、乙→珊瑚礁島、丙→大陸島
 - (C)甲→大陸島、乙→火山島、丙→珊瑚礁島
 - (D)甲→火山島、乙→大陸島、丙→珊瑚礁島。
9. ()臺灣屬多雨區，但嘉南平原農業卻非常仰賴灌溉，其主因為何？(A)耕地面積太廣 (B)土壤肥沃度欠佳 (C)年均溫太低 (D)降水季節分布不均。
 10. ()附圖為臺灣各區域的人口分布點圖。請問以下哪項因素與台灣人口分布沒有直接關連？(A)地形(B)氣候(C)開發早晚(D)經濟發展程度。

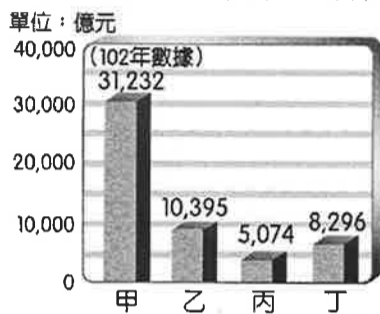


11. ()南投縣的凍頂烏龍茶為臺灣著名的特產，成為許多觀光客來臺灣必購的伴手禮。請問南投縣盛產茶葉的有利條件為下列何者？(A)因不靠海，免受海風侵襲 (B)交通便利，有利鮮採急送 (C)地處低緯，炎熱利於生長 (D)山丘遍布，氣候溫溼多霧。

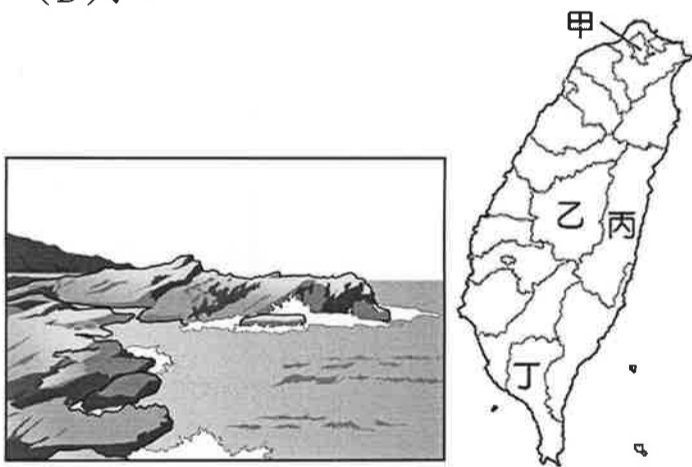
12. ()中部區域的農業活動相當發達，請問該區有利上述產業發展的條件不包括下列何者？
 (A)平原廣大 (B)氣候暖溼
 (C)黑潮流經 (D)水源充足。

13. ()民國 60 年代彰化及雲林主要生產稻米、甘蔗，成為臺灣主要的農產品生產地。但是後來因為受到下列哪一因素的影響，而逐漸轉型為花卉蔬果專業區？
 (A)興建水庫灌溉 (B)開闢公路運輸系統
 (C)農業人口老化 (D)耕作面積縮減。

14. ()附圖為臺灣主要科技園區的營業額統計圖，請依圖中的資料判斷，甲最有可能為下列何者？
 (A)新竹科學園區 (B)南部科學園區
 (C)中部科學園區 (D)內湖科技園區。



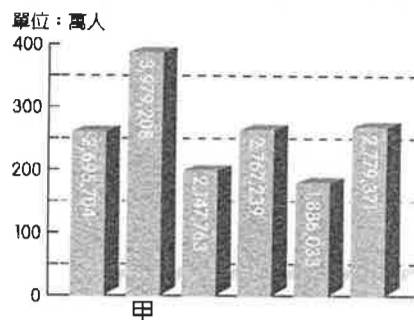
15. ()附圖為臺灣的地質景點石梯坪，因沿岸的岩石伸入海中，其形如階梯而得名。請問此景點位置應位於圖中哪一行政區？(A)甲 (B)乙 (C)丙 (D)丁。



16. ()臺灣屬於季風氣候區，降水分布受到盛行風向的影響。附圖為臺灣某季節所出現的盛行風向。請問此時哪一區域的降雨機率最高？
 (A)北部區域 (B)中部區域
 (C)南部區域 (D)東部區域。



17. ()我國目前有 6 個直轄市，成為帶動周圍縣市發展的中心。附圖為各直轄市的人口數量圖，其中甲應是哪一個直轄市？
 (A)臺北市 (B)新北市 (C)桃園市 (D)高雄市。



18. ()北部區域為臺灣經濟發展的中樞，對我國發展的影響相當深遠。請問此與下列何者的關係最密切？ (A)土地面積廣大 (B)平原地形廣布 (C)開發時間最早 (D)政治及經濟重心北移。
19. ()「臺灣重要的石化工業重鎮，由於相關的地下管線分布密集，曾經因為發生嚴重的氣爆事件，引起各界重視與檢討。」上述石化工業重鎮位於右圖中哪一個縣市？
 (A)乙 (B)丙
 (C)丁 (D)戊。



20. ()花蓮縣除了發達的觀光業外，也有大理石及水泥工業的分布。請問該地區的工業類型多以下列何種區位條件為主？
 (A)交通 (B)原料 (C)動力 (D)市場。
21. ()臺灣西部三大區域的經濟發展普遍較東部區域發達。請問造成東部區域經濟發展較為落後的自然因素為何？
 (A)海岸線長 (B)面積狹小
 (C)族群多元 (D)地形阻隔。
22. ()金門在戰地政務解除後，利用早年的戰地風光發展觀光業，並規畫成國家公園。金門受到其位置與歷史的影響，當地有何種風格的建築？
甲、日式建築 乙、閩式建築 丙、洋樓建築 丁、圓頂建築。以上正確的是：
 (A)甲乙 (B)乙丙 (C)乙丁 (D)甲丙
23. ()金門由國防任務逐漸轉為觀光發展，當地的氣候成為阻礙發展的原因之一。尤其是哪一季節時，全島籠罩在霧氣之中，航空運輸經常出現停擺？ (A)春季 (B)夏季 (C)秋季 (D)冬季。
24. ()馬祖位於閩江口外，由於孤懸於海洋之中，因此風力十分強勁，當地遂利用何種建材來興建屋舍，發展出獨特的聚落景觀？
 (A)玄武岩 (B)石灰岩 (C)大理岩 (D)花崗岩。

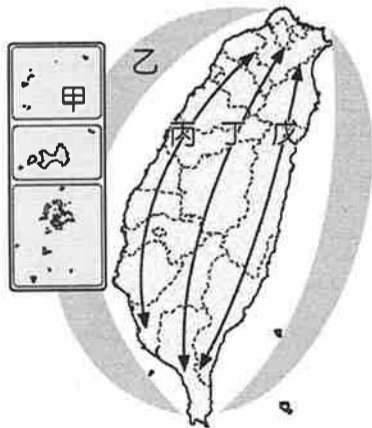
25. () 針對台灣各區域的發展差異，政府推動多項措施試圖均衡各地發展，請問以下措施何者為非？
 (A) 加強都市內部建設、加快都市更新速度
 (B) 縣市合併擴大行政區，使得城鄉分工互補
 (C) 因地制宜提出各區域發展策略
 (D) 推動偏遠地區各項基礎建設。
26. () 最近新聞報導，世界最深的海底郵筒，由綠島附近海域的水下 11 公尺深，奪得冠軍。請問若想搭乘船隻前往綠島投遞郵件，應前往圖中哪個代號之處？(A) 甲 (B) 丁 (C) 己 (D) 庚。



27. () 附圖為臺灣四大區域某項數據資料的圓餅圖分布狀況，由圖中數據判斷，該圖最可能為下列何者？(A) 人口比例圖 (B) 土地面積比例圖 (C) 平均生活空間比例圖 (D) 稻作面積比例圖。



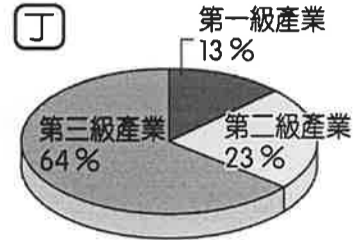
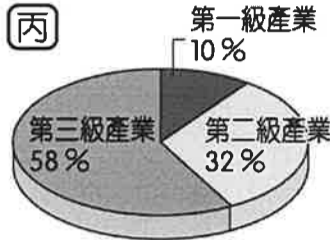
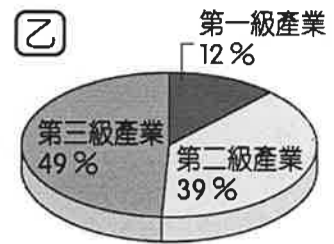
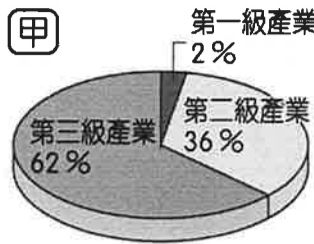
28. () 我國為了奠定未來發展的方向，訂定如附圖的架構圖，依各地發展條件的不同而因地制宜。請根據附圖判斷，丙軸線其發展策略主要為何？
 (A) 環境保育軸 (B) 精緻農業軸
 (C) 優質生活產業軸 (D) 創新發展軸。



29. () 北部教育程度高，為全台之冠，原因可能跟下列哪一項無關？(A) 擁有對外的海空門戶 (B) 教育資源豐富 (C) 吸引高學歷人口移入 (D) 高科技產業發達。

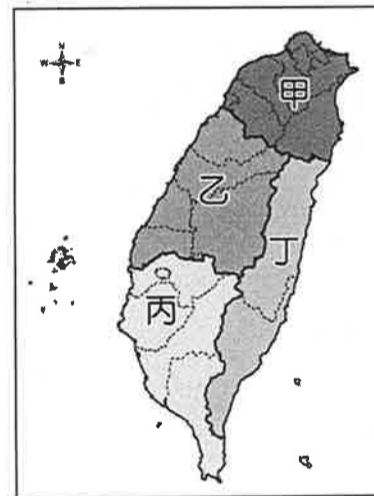
二、題組(第 30~32 題，每題 3 分，共 9 分；第 33~34 題，每題 2 分，共 4 分。)

* 附圖為臺灣各區域產業就業人口比例圖。請問：



30. () 由圖可知，臺灣四個區域的產業皆以哪一級產業為主？
 (A) 第一級產業 (B) 第二級產業 (C) 第三級產業。
31. () 丁區的第二級產業比例為四個區域中最低，可見工業較不發達，它應是臺灣哪一區域？
 (A) 北部區域 (B) 中部區域
 (C) 南部區域 (D) 東部區域。
32. () 承上題，丁區第三級產業所占比例高，其最可能的產業發展為何？
 (A) 商業 (B) 運輸業 (C) 觀光業 (D) 金融業。

* 附圖為臺灣四大區域圖。請問：



33. () 老蕭利用假日到友人家拜訪，友人請他吃當地有名的特產—虱目魚粥、碳烤生蠔等，並向他介紹這一類養殖漁業的分布地區。請問他的友人家應位於何處？(A) 甲 (B) 乙 (C) 丙 (D) 丁。
34. () 觀光客到臺灣某區域旅行時，導遊介紹這裡是臺灣人口最少的區域，族群有原住民、閩南、客家、新移民等，各族群人數比例接近，文化呈現多元特色。請問此區域應為附圖中何處？
 (A) 甲 (B) 乙 (C) 丙 (D) 丁。