

試題說明：

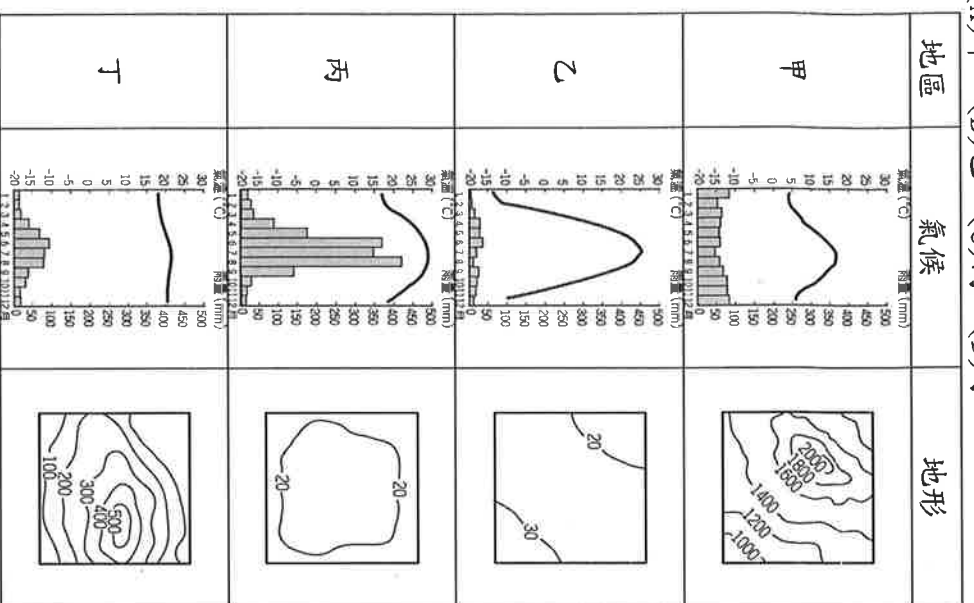
1. 本學科試題為兩張四面，交卷時只須交答案卡(卷)。
2. 每題都有 A、B、C、D 四個選項，其中只有一個選項是正確的，請將正確答案選出。
3. 作答時必須使用 2B 黑色鉛筆，將正確答案劃記在答案卡上面，否則不予計分。
4. 本試題卷分為兩部分：一、選擇題，1~24 題，每題 3 分，共 72 分；二、題組題：25~31 題，每題 4 分，共 28 分。

一、單選題，每題 3 分，共 72 分。

1. () 工業發展會隨其生產要素及特性選擇適當的區位，請依附表中的相關產業及特性判斷，其中哪一工業區位的選擇有誤？
(A) 甲 (B) 乙 (C) 丙 (D) 丁。

項目	工業區位	條件	工業類型
甲	動力	需大量電力	煉鋁工廠
乙	原料	產品具時效性	麵包工廠、酪農業
丙	勞力	需大量勞工	紡織、玩具產業
丁	交通	本身缺礦產，工廠設於港口	臺灣的煉鋼廠

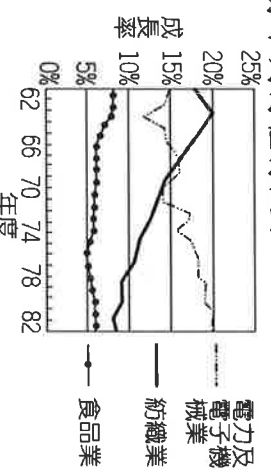
2. () 食品加工业多分布于農業原料生產地，有利于減少損耗、降低運費。若王老闆要開設製糖工廠，其設廠地點的自然環境以下列何者最為適合？
(A) 甲 (B) 乙 (C) 丙 (D) 丁。



3. () 「臺灣在經濟發展上，對國際貿易依賴程度非常高。」這是因為臺灣本身哪兩項工業區位因素較欠缺，經濟發展必須仰賴國際貿易有關？
(A) 原料、市場 (B) 勞工、技術
(C) 交通、動力 (D) 政策、資金。
4. () 紀錄片「她們的故事」，描述 1966 年 12 月 3

日，臺灣第一個，也是全世界第一個「加工出口區」成立，臺灣的女工史就從這裡展開。十五、六歲的年輕女孩，拎著包袱來到都市，將青春印記在轟轟作響的生產線上，創造驚人的生產力，也帶動了臺灣經濟快速發展。上述紀錄片中的加工出口區位於哪一城市？
(A) 台北 (B) 新竹 (C) 台南 (D) 高雄。

5. () 附圖是某地區三種產業歷年平均受僱員工變動圖。從圖中變化的趨勢，可看出該地區的工業發展具有下列何種特徵？

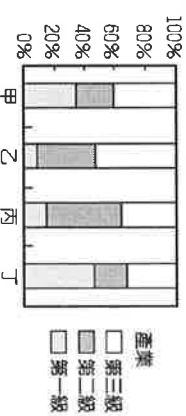


- (A) 海外投資逐漸興起 (B) 工廠集中在北部地區
(C) 工業是經濟發展的主力 (D) 技術與資本密集工業增加。

6. () 附表是四種不同產品的特性說明。若僅考慮表中的產品特性，何者應以原料區位為主要考量？

產品	特性
甲	100 公斤原料可製成 10 公斤產品。
乙	1 立方公尺原料可製成 100 立方公尺產品。
丙	原料加工成產品後易破碎。
丁	原料加工成產品後易腐敗。

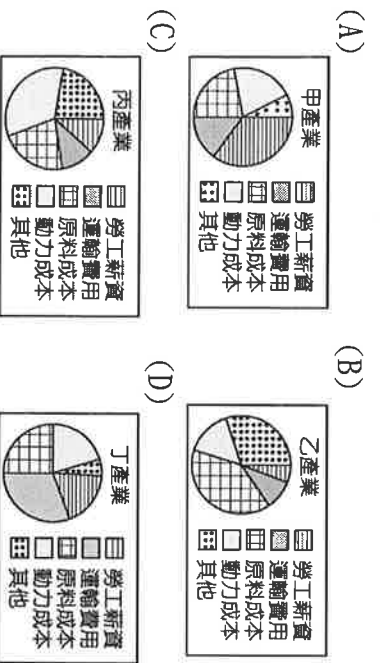
7. () 台灣的工業目前以高科技工業為發展重心，其具備的工業特徵不包括下列哪一項？
(A) 附加價值高 (B) 技術密集度高
(C) 勞力密集度高 (D) 資本密集度高。
8. () 附圖是臺灣某四縣市人口就業結構，哪一都市的產業類型以製造業為主？



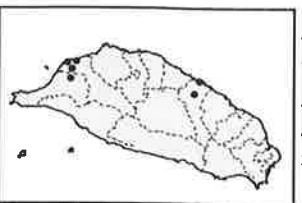
9. () 隨著經濟發展，臺灣產業結構有大幅度的轉變。下列有關目前臺灣產業的敘述，哪項是正確的？
(A) 由於農村勞力充沛，農耕技術先進，農業經營集約度高 (B) 山地多，雨量豐，森林面積廣，林業盛，有大量木材外銷 (C) 工業已由早期勞力密集工業，逐漸升級到資本密集工業和技術密集工業 (D) 國際貿易發達，自民國 60 年代以來，每年都是入超，累積了頗多的外匯。

10. ()臺灣經濟產業發展重心歷經幾個不同階段，今日臺灣經濟以何種產業的產值居冠，帶動臺灣的經濟發展？ (A)輕工業 (B)精緻農業 (C)重工業 (D)服務業。

11. ()臺灣勞工的法定工作時數，自民國90年1月1日起，正常工作總時數由每週不得超過48小時，縮短為每2週不得超過84小時，自民國105年1月1日起，更縮減為每週不得超過40小時。在其他條件不變下，這項改變對下列哪一種產業原先的生產成本影響最大？



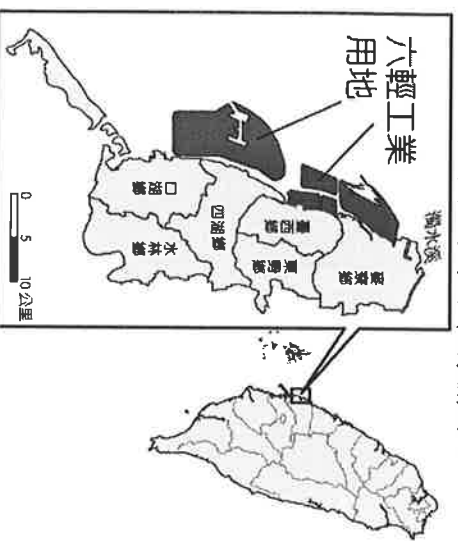
12. ()附圖為臺灣某工業區的分布位置，依其位置加以判斷，最可能為下列何者？



- (A)科學工業園區 (B)加工出口區
 (C)石化工業區 (D)水泥工業區
13. ()民國96連高速鐵路通車後，台北到高雄只需1.5小時，實現「一日生活圈」的概念。請問：有關高速鐵路的概念何者正確？

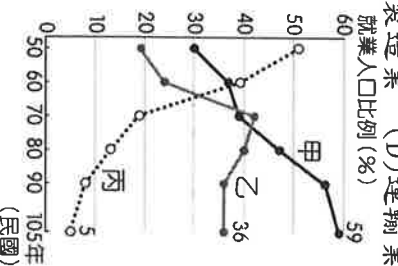
- (A)路線遍布台灣各地 (B)縮短東部長程運輸的時間 (C)以工業產品運輸為主 (D)車站連結主要城市。

14. ()臺塑六輕為臺灣重要的石化工業區，其分布的地理位置如附圖所示。依圖中資訊判斷，該工業區的設施位置與下列何者最有關係？



- (A)廉價動力充足 (B)勞工技術進步
 (C)方便原料進口 (D)海底石油開採
15. ()臺灣產業結構隨著社會發展而不斷變遷，附圖為臺灣三級產業就業人口比例圖，其中甲線段的產

- 業活動，不包括下列何者？ (A)觀光業 (B)金融業 (C)製造業 (D)運輸業。



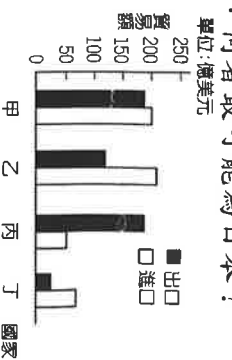
16. ()附表是清領後期從西元1868年至西元1894年臺灣進出口值統計表。請問下列哪一期間，臺灣的國際貿易入超情況最嚴重？

年份	1868~1869	1870~1874	1875~1879	1880~1884	1885~1889	1890~1894
出口年平均值	93	172	282.3	427.3	435.7	570.7
進口年平均值	124.5	174.4	272	318.8	361.8	431

單位：萬海關兩(清末，外國為繳納關稅而特別訂出的計算單位)

- (A)1868~1869 (B)1875~1879
 (C)1885~1889 (D)1890~1894

17. ()附圖為某年甲、乙、丙、丁四個國家與臺灣的貿易額統計圖，已知日本為台灣最大的貿易入超國。請問：何者最可能為日本？



- (A)甲 (B)乙 (C)丙 (D)丁
18. ()臺灣的都市結構以「住商合一」為主，通常商業活動密集的地區人口較多。附圖為某地區的平面示意圖，根據上述判斷，圖中何處人口密度可能最高？

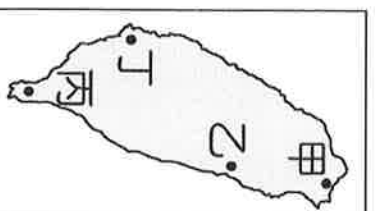


- (A)甲 (B)乙 (C)丙 (D)丁

19. ()阿錫是彰化縣田尾鄉的玫瑰花農，他想將開發的新品種玫瑰運往臺灣各地的便利商店販售，若依據交通的「機動性」考量，下列哪一項運輸工具最為適當？

- (A)飛機 (B)輪船 (C)汽車 (D)火車
20. () (甲)電子資訊工業(乙)加工出口工業(丙)農、林產品加工業(丁)重工業。依臺灣工業的發展演變過程，上述產業成為主要工業項目的時間先後順序為何？
- (A)甲乙丙丁 (B)丙乙丁甲
 (C)乙丙丁甲 (D)丙丁乙甲

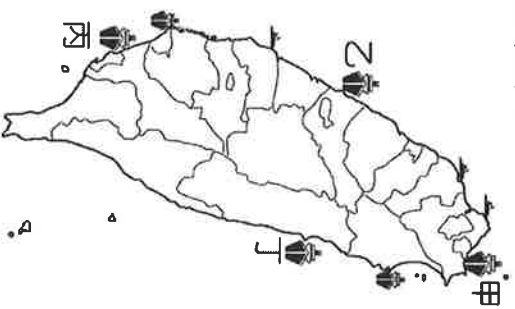
21. ()小花想利用假日搭乘阿里山小火車上山看日出。請問：她應先到哪一個都市才能坐到車？
 (A)臺中 (B)嘉義 (C)臺南 (D)雲林。
22. ()地理學家：「鄉村聚落可依住屋型式分為集村和散村兩種，其中某鄉鎮位於盛行季風的背風坡，雖然以廣大的平原為主，但早期水源缺乏，居民集中開墾，因而多集村。」根據上述判斷，這位地理學家所敘述的某鄉鎮，其地點應位於附圖中何處？



- (A)甲 (B)乙 (C)丙 (D)丁。
23. ()臺灣國道的編號原則：縱向是以奇數編號，橫向是以偶數編號。附表是臺灣國道通車里程統計一覽表，其中有二條國道特別長的原因，與下列哪一臺灣環境特色的關係最為密切？

國道編號	長度 (公里)
1	372.7
2	20.4
3	431.5
4	17.1
5	54.3
6	37.6
8	15.5
10	33.8

- (A)國土南北狹長 (B)河川多東西向
 (C)西部平原廣闊 (D)山脈地勢高聳。
24. ()我國港務局負責管轄幾個國際港口，位置如附圖所示，對於進出口貿易的影響相當大。若根據其進出口貨物種類判斷，下列哪一個港口進出口水泥的比例可能最高？



- (A)甲 (B)乙 (C)丙 (D)丁。

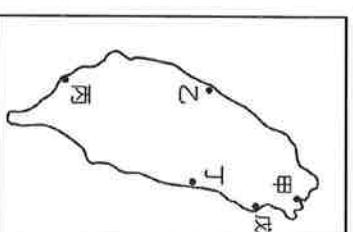
二、題組，每題4分，共28分。

※聚落受到產業結構的變遷而有不同發展，附表為四個聚落的都市化程度和都市人口數量，請依附表回答問題：

	甲	乙	丙	丁
都市化程度	20%	30%	50%	70%
都市人口數	500萬	400萬	800萬	280萬

25. ()根據附表資料判斷，下列何地的人口總數最多？
 (A)甲 (B)乙 (C)丙 (D)丁。
26. ()根據附表資料判斷，何者的產業結構最可能以第三級產業為主？
 (A)甲 (B)乙 (C)丙 (D)丁。

※附圖中甲、乙、丙、丁、戊是臺灣的國際港口。請問：



27. ()臺北基隆都會區的貨物由圖中哪一個港口輸出最便捷？
 (A)甲 (B)乙 (C)丁 (D)戊。
28. ()圖中哪一個港口吞吐量最大，為臺灣第一大港，是由瀉湖改建而成？
 (A)甲 (B)乙 (C)丙 (D)丁。

【背面尚有試題】

※下圖為桃園市中壢區部分地圖，請參考地圖回答下列問題：



29. ()圖中可見中壢區美式量販店好市多 Costco 分布位置，關於量販店的區位特徵，下列何者為非？
- (A) 多設置於市中心，人口最密集處 (B) 多設置於都市外圍郊區地價較便宜處
- (C) 設立地點交通便利，停車方便 (D) 兼具批發與零售的功能。
30. ()圖中可見哪一條高速公路？
- (A) 蔣渭水高速公路 (B) 福爾摩沙高速公路
- (C) 中山高速公路 (D) 桃園環線與機場支線
31. ()公路可分為縣道、快速道路、省道、國道，請問下列何種道路類型，於台灣分布最為密集？
- (A) (B) (C) (D)



(紅底)



(藍底)

【試題結束，請細心檢查】