

桃園市立自強國中 106 學年度第二學期第一次段考七年級地理科試題

七年 班 座號： 姓名：

請讀完下文才開始作答

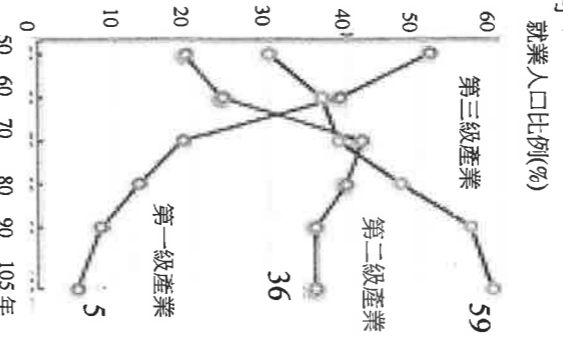
1. 試題共二張四面，交卷時只需交答案卡。
2. 每題都有 A、B、C、D 四個選項，其中只有一個答案是正確的，請將正確答案選出。
3. 作答時必須使用 2B 黑色鉛筆，將正確答案劃記在答案卡上，否則不予計分。
4. 答案卡上劃記必須正確，答案塗改須擦拭乾淨，若劃記錯誤或不清楚影響電腦讀卡判讀，將不予計分。
5. 本試題卷分為兩部份：**一、選擇題，1~25 題，每題 2 分；二、題組題，25~50，每題 2 分；總分 100 分。**

一、選擇題

1. 政府推動海上箱網養殖的技術，以緩和養殖漁業對環境所造成的破壞。請問：養殖漁業對臺灣帶來哪一種環境災害？(A)土石流 (B)水源汙染 (C)地層下陷 (D)溫室效應
2. 近年來，許多農場、牧場推出生態農業體驗活動，成為民眾假日休閒的好去處，不但可以繁榮地方產業，還能增加農民收入。請問：這與臺灣農業經營特色的哪一項有關？
(A)休閒農業興起 (B)農產品商業化 (C)作物多樣化 (D)農業高度集約化
3. 臺灣可說是個「水果王國」，不管是熱帶水果，如香蕉、芒果、鳳梨等；或是溫帶水果，如水蜜桃、蘋果、梨子等都有生產。請問：臺灣位於熱帶和副熱帶地區，卻能生產溫帶水果的主要因素為何？
(A)年降水量豐沛 (B)地形起伏大 (C)年均溫高 (D)緯度較低

4. 飛牛牧場是苗栗縣福興社區休閒農業的代表，園區內飼養的乳牛生產牛乳，自製遠近馳名的奶油、新鮮牛奶。請問：這種飼養乳牛生產牛乳的行業如何稱呼？(A)精緻農業 (B)酪農業 (C)放牧業 (D)休閒農業
5. 臺灣許多林場已轉型為森林遊樂區，政府林業政策的改變，最主要目的為何？
(A)遊客倍增計畫 (B)善用天然資源 (C)強調伐植平衡 (D)強調保育與遊憩價值
6. 「農無閒年，地無閒田」，最能顯示臺灣農業經營上的何項特色？
(A)技術先進 (B)勞力老化 (C)集約度高 (D)休閒農業興起
7. 右圖是「臺灣各級產業就業人口比例變化圖」。根據此圖判斷，下列有關臺灣產業發展的敘述，何者正確？(A)目前臺灣從業人口以農業最多 (B)目前臺灣產業結構以工商業為主 (C)臺灣產業結構的變化並不明顯 (D)若從產業結構變遷來看經濟發展程度，臺灣的經濟發展程度落後。
8. 下表為四個城市人民從事產業的就業人口比例表，請依表中資料判斷，哪一個城市經濟的發展程度最高？
(A)甲 (B)乙 (C)丙 (D)丁。

城市	第一級產業	第二級產業	第三級產業
甲	80%	10%	10%
乙	10%	40%	50%
丙	35%	35%	30%
丁	20%	60%	20%

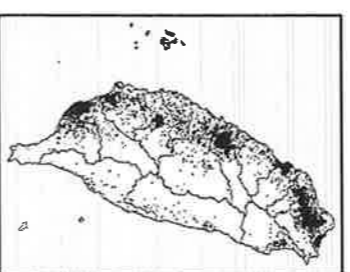


9. 下表對於集約農業和粗放農業的比較，何者正確？(A)甲 (B)乙 (C)丙 (D)丁。

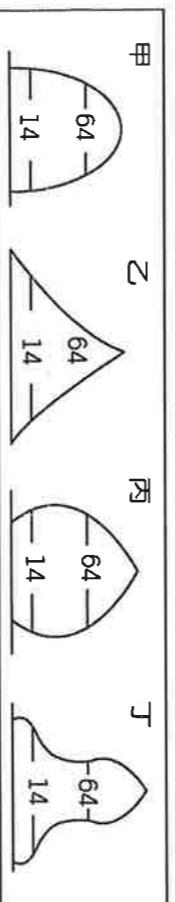
	甲	乙	丙	丁
集約農業	投入勞力、資本高	地廣人稀	單位面積產量低	總產量大
粗放農業	投入勞力、資本低	地狹人稠	單位面積產量高	總產量小

10. 現在到超級市場可以買到日本的稻米、美國加州的葡萄、紐西蘭的奇異果等農產品，消費者不只選擇性增加，購入的價格也較以往便宜許多。這是因為臺灣已經加入了哪個國際性組織的關係？(A)聯合國糧農組織 (B)經濟合作暨開發組織 (C)世界衛生組織 (D)世界貿易組織。
11. 依漁業作業距離範圍，可將捕撈漁業類型整理為下表，其中「乙」漁業應屬於下列何者？(A)養殖 (B)近海 (C)沿岸 (D)遠洋。
12. 洋流能為臺灣周遭海域帶來豐富的魚群，傳統上若要捕撈烏魚魚群，在何時出海作業及要利用哪一股洋流最為適合？(A)春季：黑潮 (B)夏季：黑潮 (C)秋季：中國沿岸流 (D)冬季：中國沿岸流。

種類	範圍
甲漁業	>200 哩
乙漁業	12~200 哩
丙漁業	<12 哩



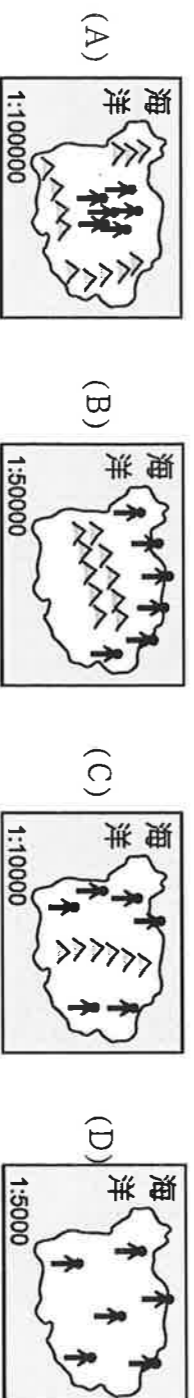
- () 13. 好美一家人去年搬到臺北市居住，下列哪一項最可能是臺北市吸引好美全家移入的「拉力」因素？
 (A)就業機會多 (B)交通擁擠 (C)地價昂貴 (D)空氣品質佳
- () 14. 依聯合國定義，當一個國家 65 歲以上的老年人口占人口總數的多少比例時，就是進入了高齡化社會？
 (A) 6% (B) 7% (C) 8% (D) 9%
- () 15. 目前台灣最主要的「外籍配偶」與「外籍勞工」分別來自於哪一個國家最多？ (A)越南、印尼 (B)中國、泰國 (C)越南、菲律賓 (D)中國、印尼。
- () 16. 當人口增加率為正值時，與下列哪個計算結果吻合？ (A)出生率－死亡率 >0 (B)移入率－移出率 >0 (C)自然增加率－社會增加率 >0 (D)自然增加率＋社會增加率 >0 。
- () 17. 居住在屏東的小天在娶了來自印尼的小靜，兩人婚姻和樂。婚後因為工作的緣故搬到桃園定居。隔年 8 月生下雙胞胎男孩，因為雙胞胎無人照料，故又將居住在屏東老家的老爸及老媽接到桃園同住，享受三代同堂的美滿生活。下列敘述何者「錯誤」？ (A)小靜嫁到臺灣屬於國際永久遷移 (B)因為工作的緣故搬到桃園定居屬於國內暫時遷移 (C)生下雙胞胎男孩屬於自然增加 (D)小靜嫁到臺灣是屬於社會增加。
- () 18. 7 年 17 班同學進行有關民國 105 年臺灣人口問題的報告，哪個人的報告「錯誤」？
 (A)阿福：「未來可能出現勞動力不足的現象。」 (B)阿銜：「已進入高齡化的社會。」
 (C)阿俊：「人口成長緩慢。」 (D)小芳：「出生率居高不下。」
- () 19. 右圖為「臺灣的人口分布圖」。請問：由圖中可看出臺灣人口分布的特色為何？
 (A)空間分布極為平均 (B)西部人口遠較東部為多 (C)南部人口分布最為集中 (D)北部地區人口分布最為稀疏
- () 20. 臺灣主要的地形種類有：(甲)臺地 (乙)平原 (丙)丘陵 (丁)盆地 (戊)山地。臺灣人口以臺北、臺中、高雄為最密集之處，其人口主要位於哪些地形上？ (A)甲乙 (B)甲丁 (C)乙丁 (D)丁戊。
- () 21. 人口金字塔可以看出一個地區的人口結構特色。請問：下列四個地方的人口結構中，哪一個地方的人口結構可能出現人口大量外流到城市工作的情況？ (A)甲 (B)乙 (C)丙 (D)丁。



- () 22. 下表為臺灣兩個年度的部分人口資料。近年來，政府推動多項老人福利措施，例如：發放各類生活津貼、推動國民年金制度、健康及照顧服務等，是為了因應表中何項人口資料的變化趨勢？
 (A)甲 (B)乙 (C)丙 (D)丁。

項目	人口資料	1998年	2008年
甲	性別比	105 : 100	102 : 100
乙	社會增加率	1.72 %	1.02 %
丙	幼年及壯年人口比例合計	91.75 %	89.57 %
丁	外籍配偶占當年結婚對數之比例	15.69 %	14.03 %

- () 23. 下列為四個島國的人口分布示意圖，每張圖的圖紙大小相同，但比例尺都不同。依此判斷，哪一個島國的人口密度最大？ (↑代表 5000 人)



- () 24. 中壢區的面積約 76.5 平方公里 (桃園市的第 7 位) 平方公里，卻住了約 40.6 萬人 (2018 年 2 月) (桃園市的第 2 位 / 台灣的第 5 位)，請問：中壢區的人口密度每平方公里約為多少人？

- () 25. 右表是西元 2017 年，四個國家的人口年齡結構。
 請問：**撫養負擔最重**的是哪一個國家？
 (A)甲 (B)乙 (C)丙 (D)丁

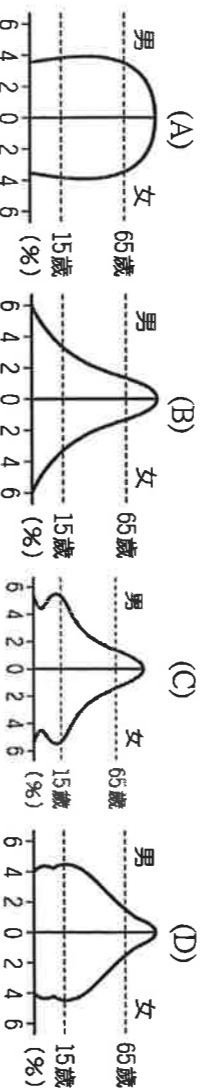
甲	38	7	65歲以上
乙	25	9	15歲以下
丙	22	12	
丁	21	11	單位：%

二、題組題

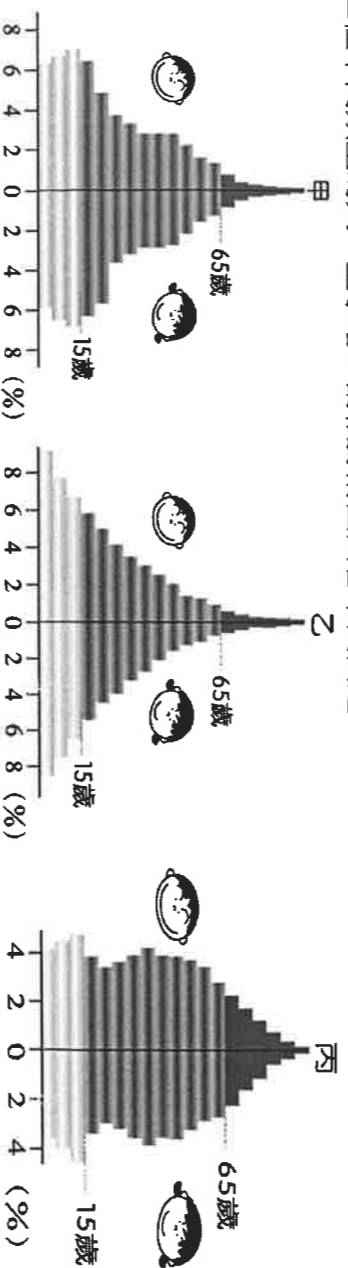
◎ 右表是「自強國 2017 年的人口統計資料」。請根據右表，回答下列問題。

人口總數 2,500 萬人	
出生率：16‰	老年人口：20%
死亡率：10‰	壯年人口：52%
移入率：0.2‰	幼年人口：48%
移出率：4‰	性別比：108%

- () 26. 請問：該國的「**自然增加率**」為多少？
 (A) 6‰ (B) 26‰ (C) 16.2‰ (D) -6‰
- () 27. 請問：該國的「**社會增加率**」為多少？
 (A) 3.8‰ (B) -3.8‰ (C) 8.8‰ (D) 4.2‰
- () 28. 請問：該國的「**人口增加率**」為多少？
 (A) 2.2‰ (B) -2.2‰ (C) 1.8‰ (D) 30.2‰
- () 29. 透過扶養比可了解壯年人口經濟負擔的輕重，請問：自強國的「**扶養比**」為多少？
 (A) 48% (B) 60% (C) 75% (D) 92%
- () 30. 如果從性別比來看，自強國的性別組成結構為何？(A) 男性人口多於女性 (B) 男性人口等於女性 (C) 男性人口少於女性 (D) 有少子化的現象。
- () 31. 如果以人口金字塔來表示自強國現階段的人口組成，請問：哪一張圖最符合事實？



◎ 附圖為三種不同類型的人口金字塔。請根據附圖回答下列問題：

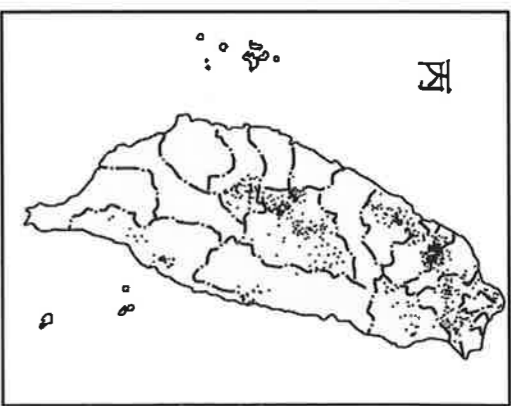
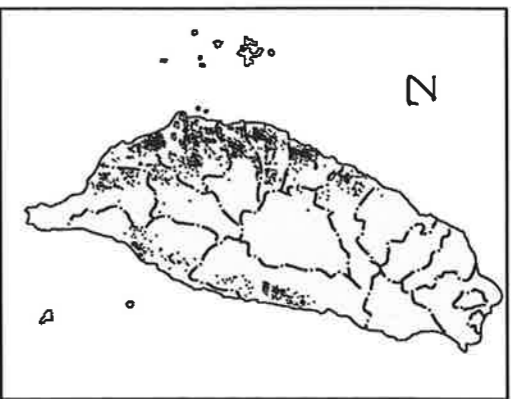
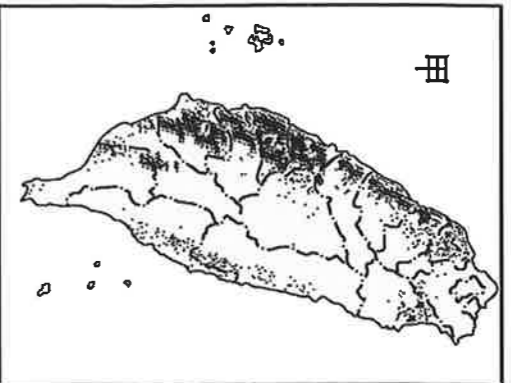


- () 32. 由人口金字塔圖可以分析一個地區的：(甲)年齡比 (乙)性別比 (丙)職業比 (丁)扶養比 (戊)移入、移出比。下列何者正確？(A)甲乙丙 (B)甲乙丁 (C)乙丙丁 (D)丙丁戊。
- () 33. 下列何者是「乙型」人口金字塔的特徵？(A)高出生率，高死亡率 (B)出生率降低，死亡率提高 (C)低出生率，低死亡率 (D)出生率提高，死亡率降低。
- () 34. 未來幾年，哪個地區最迫切需要做好老人福利相關措施？(A)甲 (B)乙 (C)丙。
- () 35. 一個國家由低度開發階段邁入已開發階段的過程中，其人口金字塔圖的變化過程依序為何？
 (A)甲乙丙 (B)甲丙乙 (C)乙甲丙 (D)乙丙甲
- () 36. 目前臺灣的人口金字塔類型，應最接近何者？(A)甲 (B)乙 (C)丙。

◎ 人口政策對於國家發展相當重要，舉凡人口素質、醫療衛生、經濟發展、公共政策等，影響都相當明顯。附圖為目前政府積極推動的前瞻計畫內容，請問：



- () 37. 前瞻計畫中包含的「軌道」建設，這是希望均衡各地區的發展，但卻有使用量的疑慮，擔心整體收入人數不出，形成營運危機。請問：相關單位在進行規畫時，考量整體營收，最適合參考下列哪一種人口指數來制定路線及車站？(A)平均所得 (B)人口密度 (C)扶養比例 (D)社會增加率。
- () 38. 前瞻計畫中的「數位」政策，包含了發展各種數位服務及文創產業。對此，內政部應推動哪一種人口政策與其配合，形成良好的發展基礎？(A)鼓勵婦女生育以提供充足勞力 (B)規畫延後退休以提供經驗傳承 (C)提升教育水準以強化人口素質 (D)引入外籍移工以彌補勞力不足。
- () 39. 前瞻計畫中的「城鄉建設」強調各地區的發展特色，根據內政部統計資料發現，彰化縣的移出人口高居全國第一，針對此一問題，在彰化縣當地推動下列哪一項方案的效果最有益？(A)增加和臺中市間的客運班次 (B)改善醫療衛生增設安養院 (C)增加鼓勵生育廣告的曝光率 (D)積極招商前往彰化地區設廠。



- () 40. 「適合生長在多雲霧且排水良好的丘陵地」，最符合以上生長條件的是哪一種農作物？ (A)水稻 (B)茶 (C)甘蔗 (D)檳榔。
- () 41. 承上題，該種農作物的分布最可能是附圖中哪一張圖？ (A)甲 (B)乙 (C)丙。
- () 42. 丙作物主要分布在哪一種氣候區？ (A)副熱帶季風 (B)溫帶季風 (C)熱帶莽原 (D)熱帶雨林。
- () 43. 甲農作物為臺灣主食，也是國內栽培面積最廣的產業。政府鑑於甲農作物生產過剩，每年卻還要從國外進口大量雜糧，消耗巨額的外匯，因此積極推動轉作雜糧或其他高經濟價值的作物，如蔬菜、水果等，以解決生產過剩問題，並節省雜糧進口外匯、提高農民所得。請問轉作高經濟作物的原因，下列何者最「不相關」？
(A)交通革新 (B)病蟲害嚴重 (C)加入 WTO (D)人民飲食習慣改變。
- () 44. 承上題，因國內生產規模較小，造成了生產成本高，政府面臨此種衝擊採取何種因應措施是合理可行的？ (A)發展精緻農業 (B)貿易保護措施、限制進口 (C)降低農產品售價促銷 (D)退出 WTO。
- () 45. 「喜歡生長在溫暖多雨的南部平原地帶」，符合上述生長條件的經濟作物為何？ (A)水稻 (B)茶 (C)甘蔗 (D)番薯。
- () 46. 承上題，該種農作物的分布最有可能是附圖中哪一張圖？ (A)甲 (B)乙 (C)丙。
- () 47. 「地名是歷史的化石」，有些臺灣地名的由來與地理密切相關。如：早期以甘蔗製糖的製糖廠稱為「糖廍」，由臺灣甘蔗分布的地區來推論，下列哪一地區會出現最多以「廍」為名的地名？ (A)桃園台地 (B)臺北盆地 (C)嘉南平原 (D)宜蘭平原。
- ◎產業共分成三級，請回答下列問題
- () 48. 「直接取自於自然資源，或將自然資源加以培育利用的產業」是指哪一種產業？ (A)第一級 (B)第二級 (C)第三級 (D)無法判斷。
- () 49. 「小芬是國一的學生，其居住的家庭型態屬於大家庭，家中成員有當計程車司機的爺爺和家庭主婦的奶奶、在海邊養殖牡蠣的叔叔、在食品加工廠當作業員的嬸嬸、念大學的堂姊、當建築工人的爸爸和在便利商店工作的媽媽、以及在銀行當行員的哥哥。」請問：根據上述，小萱家中成員中，從事「第二級產業」的有多少人？ (A)2人 (B)3人 (C)4人 (D)5人。
- () 50. 承上題，小芬家中成員中，從事「第三級產業」的有多少人？ (A)2人 (B)3人 (C)4人 (D)5人。

※作答結束，謝謝合作※ P.4