

桃園市立自強國中 106 學年度第一學期第一次段考七年級地理科試題

七年 班 座號： 姓名：

請讀完下文才開始作答

1. 試題共二張三面，交卷時只需交答案卡。
2. 每題都有 A、B、C、D 四個選項，其中只有一個答案是正確的，請將正確答案選出。
3. 作答時必須使用 2B 黑色鉛筆，將正確答案劃記在答案卡上，否則不予計分。
4. 答案卡上劃記必須正確，答案塗改須擦拭乾淨，若劃記錯誤或不清楚影響電腦讀卡判讀，將不予計分。
5. 本試題卷分為兩部份：一、選擇題，1~24 題，每題 2 分；二、題組題，25~50，每題 2 分；總分 100 分。

一、選擇題

() 1. 關於經緯線的比較，下列何者正確？

項目	經線	緯線
(A)定義	赤道及與赤道平行的圓圈線	連結南、北極點的弧線
(B)方向	東西向	南北向
(C)長度	等長	赤道最長，往兩極縮短
(D)度數	南北半球各有 0~90 度	東西半球各有 0~180 度

() 2. 地球可沿著哪條經緯線將氣候大致分成溫帶與寒帶？(A)赤道 (B)極圈 (C)回歸線 (D)本初子午線

() 3. 本初子午線又稱本初經線，通過英國倫敦格林威治天文臺。這條經線為經度幾度？

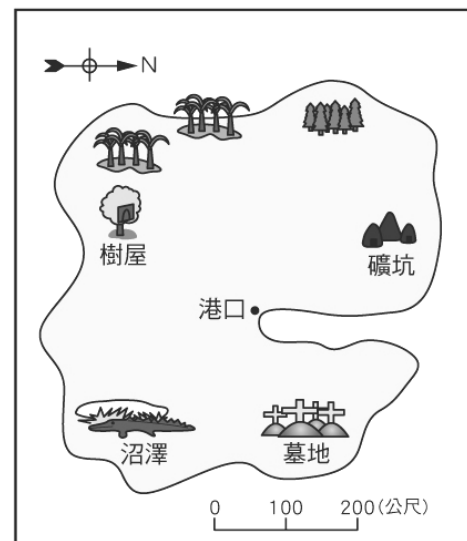
- (A)0 度 (B)60 度 (C)120 度 (D)180 度

() 4. 下列哪條緯線通過臺灣本島？(A)赤道 (B)北極圈 (C)北回歸線 (D)南回歸線

() 5. 我們為了使用方便，(西經 75 度，南緯 20 度)可以標示成下列哪種形式？

- (A) (75°W, 20°S) (B) (75°E, 20°S) (C) (75°W, 20°N) (D) (75°E, 20°N)

() 6. 家弘為了尋找傳說中的寶藏，來到金銀島，如附圖。已知寶藏埋在港口西北方約 200 公尺的地底，則寶藏的埋藏處最接近下列何處？(A)礦坑 (B)樹屋 (C)沼澤 (D)墓地。【96 基本學測一】



() 7. 下表為旋風號與衝鋒號起訖點及方向的資料，哪架飛機的飛行距離較長？

- (A)旋風號 (B)衝鋒號 (C)一樣長 (D)無法比較

項目	起點	方向	終點
旋風號	經度 0 度，緯度 0 度	往東	東經 10 度，緯度 0 度
衝鋒號	經度 0 度，緯度 66.5 度	往東	東經 10 度，緯度 66.5 度

() 8. 下列有關臺灣位置的描述，何者正確？(A)位於東半球及南半球 (B)東面是臺灣海峽 (C)西面是太平洋 (D)北面為東海。

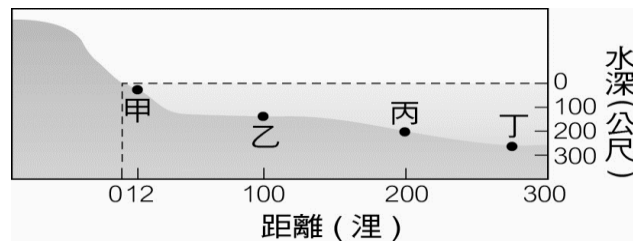
() 9. 品如暑假要去臺東玩，蒐集了以下四份地圖，裡面有各式各樣的地圖類型。下列四份地圖中，何者比例尺最大？(A)臺灣行政區地圖 (B)花東地區地形圖 (C)臺東市街道地圖 (D)臺灣人口分布圖

() 10. 在一張比例尺為 1:25,000 的地圖上，阿志家與學校距離三公分。實際上阿志家與學校的距離為何？

- (A)75 公尺 (B)750 公尺 (C)7.5 公里 (D)75 公里

() 11. 下表是地圖上大、小比例尺的比較，表中哪個選項正確？(A)甲 (B)乙 (C)丙 (D)丁

	(甲)縮小程度	(乙)內容	(丙)例子	(丁)涵蓋範圍
小比例尺	較小	較簡略	1:200	較小
大比例尺	較大	較詳盡	1:200,000	較大

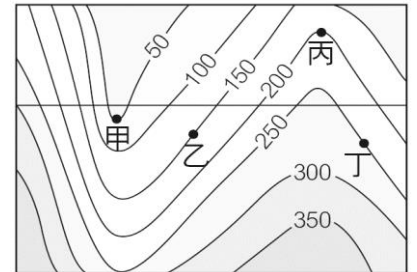


() 12. 經濟海域是指各國由其領海基線向外推移，為一國具有開採資源的範圍，[上右圖]中哪些油田可由希望國開採？(A)甲乙 (B)甲乙丙 (C)乙丙丁 (D)丙丁

- () 13. 臺灣地表類型中，沒有哪種地形？ (A)丘陵 (B)臺地 (C)高原 (D)盆地
- () 14. 臺北四周的群山環繞、中間較低平，其屬於下列哪種地形？(A)平原 (B)盆地 (C)臺地 (D)丘陵
- () 15. 哪種地形的表現方式可用來即時記錄地表資訊、觀測土地利用及變遷的情形？
(A)地形剖面圖 (B)衛星影像圖 (C)等高線地形圖 (D)分層設色圖
- () 16. 晨宇在某幅等高線地形圖中，發現某處的等高線是重疊在一起的，此地可能是哪種地形？
(A)山脈地形 (B)高原地形 (C)懸崖峭壁 (D)平原地形



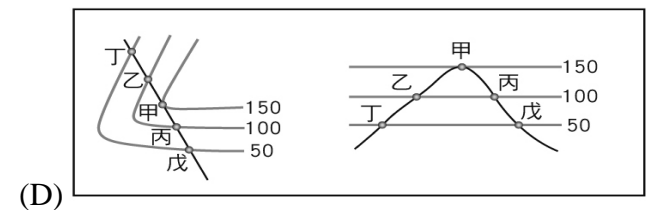
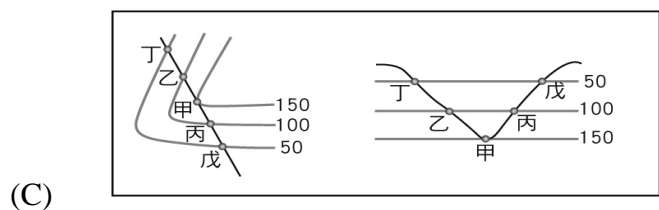
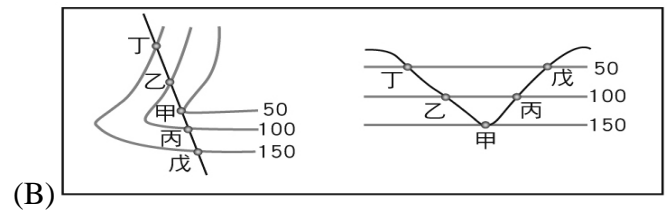
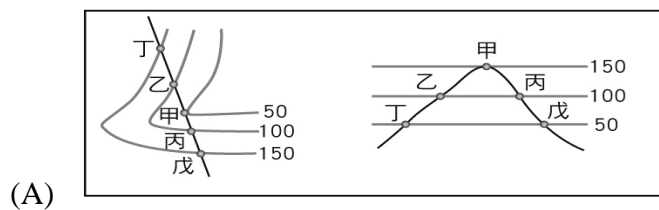
- () 17. 附圖所示是屬於何種地形？(A)平原 (B)盆地 (C)臺地 (D)丘陵。
- () 18. 臺灣高山大多呈南北走向。請問：造成此現象最可能的原因是什麼？ (A)板塊擠壓的方向 (B)河流堆積的位置 (C)位於東半球的位置 (D)火山噴發的位置。
- () 19. 造成臺灣容易受到地殼變動，並且多地震與火山的原因是受到哪兩個板塊影響？(甲)印澳板塊(乙)歐亞大陸板塊(丙)菲律賓海板塊(丁)非洲板塊。
(A)甲、乙 (B)乙、丙 (C)丙、丁 (D)甲、丁



- () 20. 右圖中甲~丁何地為河谷地形？ (A)甲 (B)乙 (C)丙 (D)丁
- () 21. 「早上從花蓮市出發向南行，沿途可見鐵路與公路綿延在山與山之間的平原上。約一小時後車子右轉，直行五分鐘後到達的山區即為本次的旅遊景點，該地保存了許多早期林業的特色建築與設施。」上文所述的旅遊景點應是位於下列哪一座山脈？

(A)玉山山脈 (B)中央山脈 (C)雪山山脈 (D)海岸山脈 【103.會考】

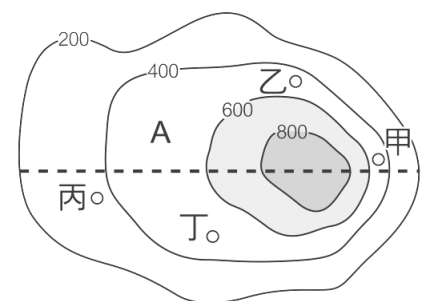
- () 22. 阿娥假日和家人到陽明山國家公園遊玩，看到小油坑不斷的冒煙，且有嗆鼻的硫磺味，還到馬槽洗溫泉泡湯。請問：這些景點皆與下列哪個火山群有關？ (A)大屯火山群 (B)澎湖火山群 (C)基隆火山群 (D)綠島火山群。
- () 23. 臺灣主要的地形種類有：(甲)平原 (乙)丘陵 (丙)臺地 (丁)山地 (戊)盆地。臺灣人口以臺北、臺中、高雄為最密集之處，其人口主要位於哪些地形上？ (A)甲乙 (B)甲戊 (C)乙丙 (D)丁戊。
- () 24. 下列四組為等高線與地形剖面圖的組合，其位置的對應關係何者正確？【93 基本學測一】



二、題組題

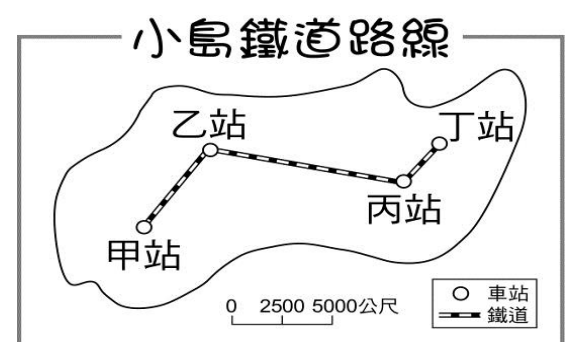
◎ 右圖是一張等高線地形圖，請根據右圖，回答下列問題。

- () 25. 圖中甲~丁四地中，哪個地點的坡度較平緩？
(A)甲 (B)乙 (C)丙 (D)丁
- () 26. 圖中A地的高度最可能是幾公尺？
(A) 200m (B) 300m (C) 500m (D) 900m
- () 27. 若在等高線地形圖上畫出一條剖面線，再將剖面線與等高線的每個交點畫出垂直的直線，則可以進一步繪出哪種圖像？
(A)分層設色圖 (B)地形剖面圖 (C)立體模型圖 (D)衛星影像圖

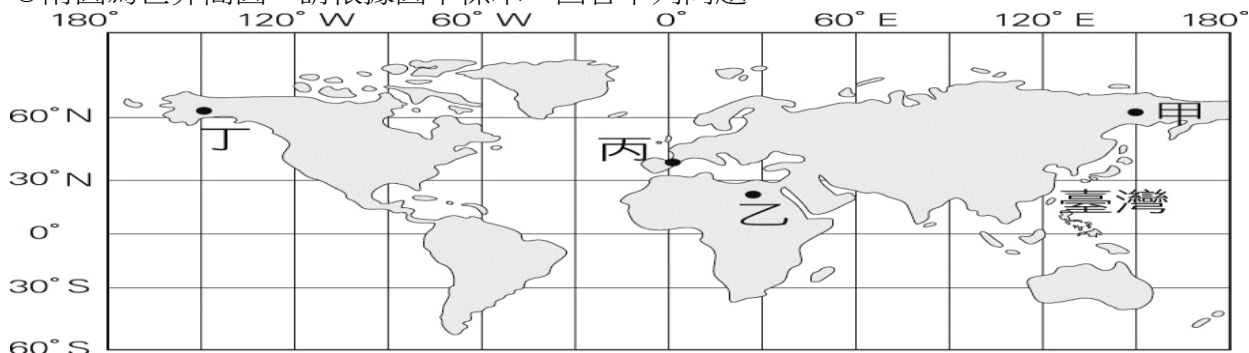


◎ 右圖為太平洋某小島的鐵道交通路線圖，請問：

- () 28. 圖中可能缺乏哪種地圖要素？
(A)圖名 (B)方位標 (C)圖例 (D)比例尺
- () 29. 火車從小島的甲站到丁站的實際距離大約為多少公里？
(A)20 (B)25 (C)50 (D)75
- () 30. 假設小島上方為北方，則圖中乙站位於甲站的什麼方向？
(A)東北方 (B)西南方 (C)西北方 (D)東南方



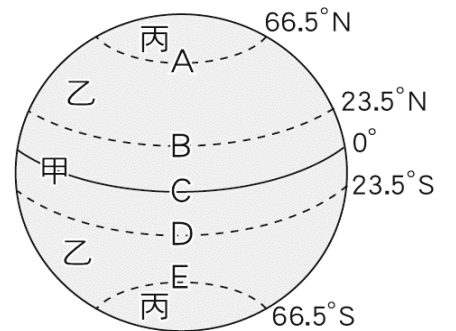
◎附圖為世界簡圖。請根據圖中標示，回答下列問題：



- () 31.圖中「120°W」、「120°E」的線，稱為什麼？ (A)緯線 (B)經線 (C)極線 (D)赤道。
- () 32.我們從圖中哪條線知道臺灣位於北半球？ (A)子午經線 (B)120°E (C)赤道 (D)極圈。
- () 33.圖中臺灣(120°E)若為下午3時，則丙地時間為何？
(A)下午11時 (B)上午11時 (C)早上7時 (D)晚上7時。
- () 34.圖中哪個地點的緯度最低？ (A)甲 (B)乙 (C)丙 (D)丁。

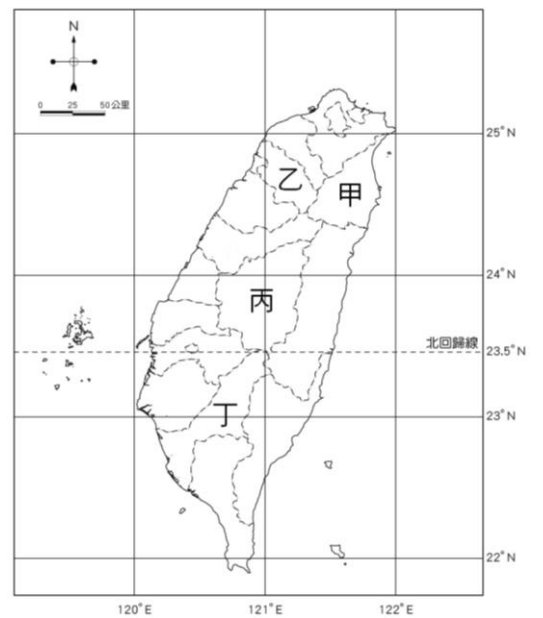
◎附圖為假設的地球表面。請問：

- () 35.圖中哪條線是赤道？ (A)A (B)B (C)C (D)D。
- () 36.圖中哪個地區的平均氣溫最低？ (A)甲 (B)乙 (C)丙。
- () 37.下列何項是造成地球隨緯度不同，而有不同的氣候帶的因素？
(A)地球自轉 (B)太陽的照射角度 (C)地形的差異 (D)海洋的影響。



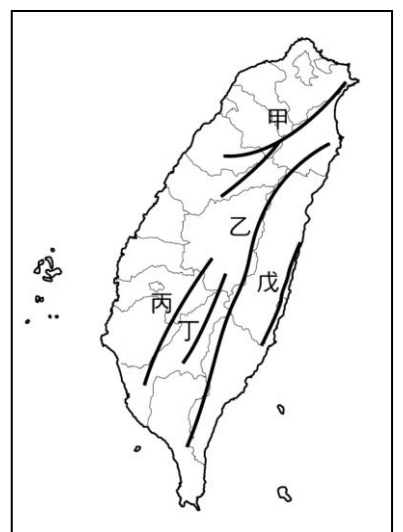
◎附圖為臺灣行政區分布圖。請問：

- () 38.南投縣位於圖中何處？ (A)甲 (B)乙 (C)丙 (D)丁。
- () 39.座標「東經121度、北緯23度」落於哪個行政區？
(A)臺中市 (B)臺南市 (C)嘉義縣 (D)臺東縣。
- () 40.東經121度、北緯22度的位置發生船隻擱淺事件，那麼應該由哪個行政區直接派員前往處理較快速？ (A)高雄市 (B)花蓮縣 (C)屏東縣 (D)雲林縣。
- () 41.國際童玩藝術節在宜蘭縣熱鬧展開，希望吸引暑假人潮前來宜蘭觀光。請問：宜蘭縣位於圖中何處？ (A)甲 (B)乙 (C)丙 (D)丁。
- () 42.北回歸線沒有經過哪一個縣市？ (A)澎湖縣 (B)嘉義縣 (C)花蓮縣 (D)台南縣。

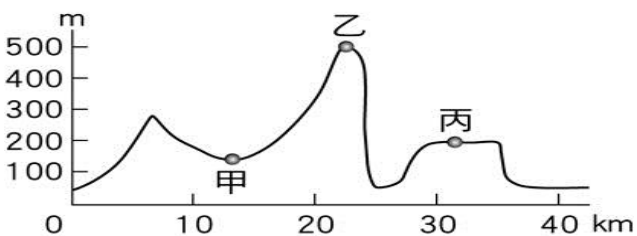


◎附圖是臺灣主要山脈分布簡圖。請問：

- () 43.圖中哪座山脈為臺灣島的脊梁，也是東、西部河川的主要分水嶺？
(A)甲 (B)乙 (C)丙 (D)丁。
- () 44.圖中哪座山脈有臺灣第一高峰？ (A)甲 (B)乙 (C)丙 (D)丁。
- () 45.花東縱谷平原位於哪兩座山脈之間？ (A)甲乙 (B)乙丁 (C)乙戊 (D)丙丁。
- () 46.「高山青，澗水藍，阿里山的姑娘美如水啊，阿里山的少年壯如山……。」這首歌曲描寫的地點位於圖中哪座山脈？ (A)甲 (B)乙 (C)丙 (D)丁。



◎附圖為某地的地形起伏示意圖。請問：



- () 47.甲地應屬於哪種地形？ (A)丘陵 (B)盆地 (C)山地 (D)臺地。
- () 48.乙地應屬於哪種地形？ (A)丘陵 (B)盆地 (C)山地 (D)臺地。
- () 49.乙地的海拔高度大約是多少公尺？ (A)200m (B)300m (C)400m (D)500m。
- () 50.乙、丙兩地的相對高度大約是多少公尺？ (A)100m (B)200m (C)300m (D)400m。

解答

1	C	11	B	21	B	31	B	41	A
2	B	12	B	22	A	32	C	42	D
3	A	13	C	23	B	33	C	43	B
4	C	14	B	24	D	34	B	44	D
5	A	15	B	25	C	35	C	45	C
6	A	16	C	26	C	36	C	46	C
7	A	17	A	27	B	37	B	47	B
8	D	18	A	28	B	38	C	48	A
9	C	19	B	29	A	39	D	49	D
10	B	20	A	30	A	40	C	50	C