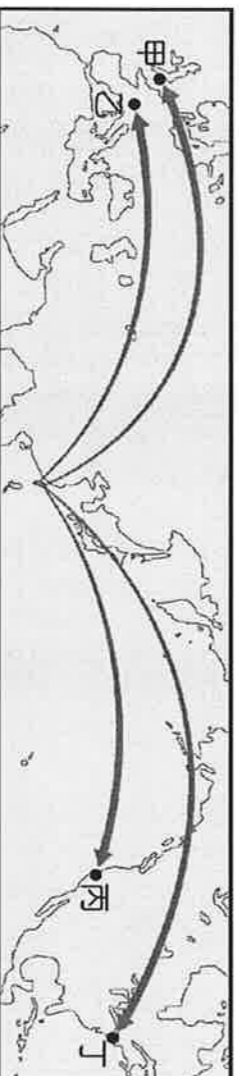


請讀完下文才開始作答

1. 本試題共計二張四面，交卷時只須交答案卡。
2. 每題都有 A、B、C、D 四個選項，其中只有一個是正確的，請將正確答案選出。
3. 作答時必須使用 2B 黑色鉛筆，將正確答案劃記在答案卡上，否則不予計分。
4. 答案卡上劃記必須正確，答案塗改須擦拭乾淨，若劃記錯誤或不清楚影響電腦讀卡判讀，將不予計分。
5. 本試題卷分為：一、選擇題，第 1~40 題，每題 2 分，共 80 分；
二、題組題，第 41~50 題，每題 2 分，共 20 分。

一、選擇題：每題 2 分，共 80 分

1. () 阿玲家裡最近僱了一名菲律賓看護，她會說一口流利的英語，並且是虔誠的天主教徒。媽媽說早期的菲律賓曾經是西班牙和美國的殖民地，引發阿玲對十六世紀與十九世紀的帝國主義發展的興趣，特別做了一番比較。就兩者產生的背景而言，下列何者正確？
(A) 前者因資本主義；後者因社會主義 (B) 前者因十字軍東征；後者因第一次世界大戰
(C) 前者因君主專制；後者因民主政治 (D) 前者因地理大發現；後者因工業革命
2. () 某學者認為理性或意識猶如水山一角，對人類行為的影響微乎其微；而無意識和潛意識才是水底下看不見的冰山，真正主宰著人類活動。此學者的學說甚至影響到繪畫、電影與文學的創作。這位學者可能是下列何人？
(A) 達爾文 (B) 愛因斯坦 (C) 海明威 (D) 佛洛伊德
3. () 有位 19 世紀的詩人曾形容「義大利建國三傑」，內容如下：馬志尼象徵義大利的靈魂，激發民族意識；加里波底象徵義大利的利劍，達成軍事任務；下列何人象徵義大利的腦袋，主導外交策略？
(A) 俾斯麥 (B) 加富爾 (C) 佩脫拉克 (D) 墨索里尼
4. () 小美發現第一次世界大戰後有四個專制帝國瓦解，讓歐洲出現許多新興國家，亞洲地區也出現一股民族復興運動。請問這些事件是受到哪一思潮所影響？
(A) 白種人的負擔 (B) 種族隔離 (C) 民族自決 (D) 族群對立
5. () 十九世紀是新帝國主義盛行的世紀，無論是拉丁美洲、非洲、亞洲都成為列強覬覦的對象。請問下列何者不是十九世紀以來發生的侵略行為？
(A) 日本併吞琉球 (B) 西班牙佔領台灣北部 (C) 美國利用金元與巨棒外交操控拉丁美洲 (D) 英國利用中法戰爭併吞緬甸
6. () 西元 1914 年發生「奧匈皇儲被暗殺身亡」的事件，原為奧、塞之間的衝突，結果卻演變為第一次世界大戰的導火線，造成這種情況的原因為何？
(A) 美國實行孤立主義 (B) 國際姑息主義高漲 (C) 列強間的結盟對立 (D) 民族解放運動興盛
7. () 19 世紀，面臨外力的入侵，中、日兩國因此從事改革運動，日本開始實施「明治維新」之際，清廷正在推動何項改革運動？
(A) 自強運動 (B) 戊戌變法 (C) 庚子後新政 (D) 立憲運動
8. () 歷史課時，老師請同學說出 19 世紀德國與義大利統一的過程，下列何人的敘述錯誤？
(A) 湘婷：「兩者統一皆受民族主義的影響。」 (B) 儒雅：「兩者皆因普法戰爭而完成統一。」
(C) 惠玲：「兩者皆成立關稅同盟號召統一。」 (D) 易軒：「法國為兩者共同的統一障礙。」
9. () 聯合國為增進青少年對世界議題的關心，於聯合國總部舉辦「學生模擬會議」，志明打算從台灣出發，他應該前往下圖中的哪一城市參加會議？
(A) 甲 (B) 乙 (C) 丙 (D) 丁



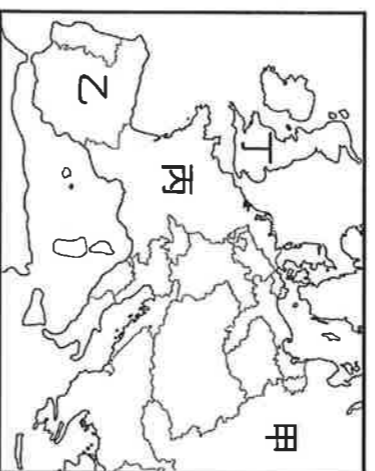
10. () 嘉嘉到秘魯參觀古印加文化遺址，導遊說：「原住民曾在此地建立輝煌的文化與帝國，但如今已不復存在。」下列哪一項是導致當地古文化消失的直接原因？
(A) 美國勢力的入侵 (B) 非洲黑奴輸入 (C) 火山活動頻繁 (D) 西班牙的侵略
11. () 曉華閱讀某本科學傳記時，內容提到：「繼牛頓之後，他的學說主導 20 世紀物理學的發展方向，為原子彈的發明提供了理論基礎」。曉華最可能是閱讀下列哪一歷史人物的傳記？
(A) 愛因斯坦 (B) 佛洛伊德 (C) 居里夫婦 (D) 海明威
12. () 社會達爾文主義對人類產生了什麼影響？
(A) 促成人類文化合作 (B) 促成了地理大發現 (C) 促成了工業革命的產生 (D) 合理化了新帝國主義的侵略行為
13. () 高雄市立美術館籌畫舉行「黃金印象特展」，哪些人物的畫作應會出現在展覽會場中？
(A) 莫內、梵谷 (B) 拉斐爾、達文西 (C) 莫內、畢卡索 (D) 達文西、米開朗基羅
14. () 第二次世界大戰後期，蘇、美兩國紛紛加入戰局，分別是受到哪兩國的侵略行動所刺激？
(A) 日、義 (B) 德、日 (C) 德、義 (D) 義、奧

15. () 1860 年代以後，日本的有識之士大力呼籲改革，以突破內憂外患的困境。下列哪一項最可能是當時維新人士所提出的共同主張？
 (A) 振興武士道精神，重建階級嚴明的社會體制 (B) 效忠幕府將軍，團結一致以抵抗外國的侵略
 (C) 實施君主專制，重君權以消除國內反對勢力 (D) 提倡文明開化，學習西方的科技與制度。
16. () 有一個人對當時世界局勢的看法如下：「美國透過馬歇爾計畫和柏林空運行動，把錢送到歐洲，……此時共產黨正在全世界蔓延。」上文所指的時代背景為何？
 (A) 美、蘇冷戰 (B) 珍珠港事變爆發 (C) 《門羅宣言》發表 (D) 獨立國家國協成立。
17. () 第二次世界大戰中，先使蘇聯保持按兵不動，後又促成蘇聯對日宣戰的條約協議，分別為何？
 (A) 《雅爾達密約》、《開羅宣言》 (B) 《巴黎和約》、《凡爾賽和約》
 (C) 《德蘇互不侵犯條約》、《雅爾達密約》 (D) 《慕尼黑協議》、《德蘇互不侵犯條約》。
18. () 「每一個理事國均有一票。關於程序問題的決定以 15 個理事國中至少要有 9 個理事國的同意票通過。關於實質性問題的決定也需 9 票通過，其中包括 5 個常任理事國（中、美、英、法、蘇）的同意票，這就是『大國一致』規則，通常稱『否決』權。」以上敘述指的是聯合國哪一機構的規定？
 (A) 大會 (B) 經濟暨社會理事會 (C) 安全理事會 (D) 國際法庭。
19. () 20 世紀可說是美國人的世紀，下列敘述何者正確？
 (A) 第一次世界大戰後，在羅斯福主導下，成立國際聯盟
 (B) 第二次世界大戰期間，在威爾遜的領導下獲得最後的勝利
 (C) 第二次世界大戰後，領導北大西洋公約組織，遏阻共產黨在歐洲擴展
 (D) 越戰爆發後，不僅介入戰爭，且開始派第七艦隊協防臺灣。
20. () 在 1963 年時，美國相信倘若有更迅速的溝通，必定能夠更快地化解，甚至避免美、蘇之間在前一年發生的危機。於是美、蘇兩國的代表在瑞士日內瓦簽訂《關於設立直接通訊訊線路備忘錄》，設立了後來被稱為「熱線」的系統。請問：上述是因在哪一危機落幕後，為避免核武威脅，美、蘇政府開始建立溝通管道，使冷戰漸趨和緩？
 (A) 柏林危機 (B) 九一一事件 (C) 以阿衝突 (D) 古巴危機。
21. () 美國為防止共產勢力的擴張而派兵援助南越，後來美軍中途撤離越南的主因為何？
 (A) 國內反戰情緒高漲 (B) 國內發生戰爭 (C) 中共以斷交作威脅 (D) 蘇聯向美國本土發動攻擊。
22. () 下表為第二次世界大戰期間的重要史事，請依發生時間先後排列，下列何者正確？
 (A) 甲乙丙丁 (B) 乙甲丁丙 (C) 乙甲丙丁 (D) 丙丁甲乙。

	重 要 史 事
甲	德軍進攻波蘭
乙	盧溝橋事變
丙	諾曼第登陸
丁	日軍偷襲珍珠港

23. () 1930 年代，美國羅斯福總統大力推行「新政」，推動社會福利，調整外交策略，穩定了經濟局勢。當時推行此政策的主要背景為何？ (A) 希特勒積極對外擴張 (B) 美、蘇陷入長期冷戰局面 (C) 黑奴解放後產生經濟問題 (D) 一次大戰後發生經濟大恐慌。
24. () 英、法兩國在《慕尼黑協定》中將某國一部份的領土割讓給德國，之後某國提出抗議：「把我的國土給了他人，就如同砍了我的手。」英、法回應道：「至少你還保有身體！」上文中被迫割讓領土給德國的是何國？
 (A) 中國 (B) 越南 (C) 捷克 (D) 奧地利。
25. () 《我的奮鬥》是某位歷史人物的自傳，他在書中描述說：「兼併奧地利是必要的，因為我們同屬於優秀的日耳曼民族。接著，我們要廢除凡爾賽條約，以爭取國家生存空間，並擴充軍備及疆域，進而達到最終目的——征服世界。」請問：此書的作者應是下列何人？
 (A) 史達林 (B) 希特勒 (C) 墨索里尼 (D) 列寧。
26. () 「某年，美國空軍飛臨敵區臺灣進行偵查空照，並於年底開始對臺灣各地的市街、車站、糖廠進行轟炸，臺灣西部縱貫公路與鐵路受創嚴重。」上述情況的發生，與下列何者關係最密切？
 (A) 韓戰 (B) 盧溝橋事變 (C) 珍珠港事變 (D) 美國與中華民國斷交。
27. () 有一位蘇聯的總書記，在他執政後，對外改善與西方國家的關係，對內則採行開放政策，希望改善人民生活，結果不但造成日後蘇聯瓦解，也造成多數共產政權垮臺。請問：這一位影響重大的政治人物是誰？
 (A) 馬克思 (B) 史達林 (C) 戈巴契夫 (D) 萊爾欽。
28. () 美國某學者指出：「未來文明衝突之源，將是西方的傲慢以及伊斯蘭的偏執與不寬容。」上述觀點可用來解釋下列何事的發生？
 (A) 1950 年代的韓戰 (B) 1960 年代的越戰
 (C) 2001 年的九一一事件 (D) 2010 年的茉莉花革命。

29. () 西元2010至2011年間，北非突尼西亞暴發爭取民主化的反政府活動。隨後更演變為人民革命，促成專制總統班·阿里下臺。整起事件因突尼西亞國花為茉莉花，而被稱為「茉莉花革命」。觀察家研究發現，在北非專制長達二、三十年的政權，往往不敵年輕人善用的社群網站。請問：由「茉莉花革命」的結果，可見下列何者的影響力扮演了關鍵角色？
 (A) 學校團體 (B) 網際網路 (C) 家族團體 (D) 宗教團體。
30. () 一位女士回憶某一事件說：「當時全家被困在政治孤島之中，物資極度缺乏，連牛奶、衛生紙及冬天取暖用的煤，都是美、英等國利用飛機，搭起空中橋梁運送進來。這種生活大概持續了一年，直到蘇聯軍隊解除封鎖，情況才得以改善。」這位女士所說的事件是下列何者？
 (A) 古巴危機 (B) 柏林危機 (C) 越戰 (D) 八二三炮戰。
31. () 某書提到：「這是根據西元1993年生效的《馬斯垂克條約》所建立的區域統合組織，並在全球注視下於2002年正式啟用共同貨幣，成為足與美國抗衡的經濟實體。」請問：這個組織應是下列何者？
 (A) 歐洲聯盟 (B) 北美自由貿易協定 (C) 東南亞國協 (D) 世界貿易組織。
32. () 導演史小柏想要拍攝1944年6月6日盟軍關鍵的登陸搶灘畫面。他若要到現場進行實地拍攝，應該前往下圖哪個國家？ (A) 甲 (B) 乙 (C) 丙 (D) 丁。



33. () 第一次世界大戰後，蘇聯、義大利和德國等三國的極權政治，崛起的背景如出一轍是指下列何者？
 (A) 外交的孤立 (B) 戰爭的失敗 (C) 經濟的破產 (D) 社會的安定。
34. () 有一個由多民族組成的國家，在19世紀初時統治了四千萬人，但境內的塞爾維亞人及希臘人開始反抗。其後，境內的民族衝突不斷，列強併吞該國許多領土，該國被以「垂死的人」稱之。此帝國是第一次世界大戰的戰敗國，並於戰後出現民族復興運動，最後終於建立了共和國。上述這個國家為何？
 (A) 俄國 (B) 德國 (C) 奧匈帝國 (D) 土耳其。
35. () 第二次世界大戰後，東歐各國共產政權的建立，與哪一會議的決定有直接的關係？
 (A) 開羅會議 (B) 雅爾達會議 (C) 德黑蘭會議 (D) 巴黎和會。
36. () 針對利比亞內戰，北大西洋公約組織（簡稱北約），決議對利比亞進行轟炸行動，以阻止格達費對反對者的屠殺，請問：「北約」形成的背景為何？
 (A) 冷戰時期的軍事結盟 (B) 911事件後的反恐行動
 (C) 為解決戰間期的經濟大恐慌 (D) 第二次世界大戰的同盟國的協議。
37. () 近年來國際原油價格一桶曾漲至美金100元以上，導致全球物價波動；在民國60年代，全球亦曾經歷過「能源危機」的不景氣，請問：這是因為受到下列哪一場戰爭的影響？
 (A) 韓戰 (B) 越戰 (C) 國共內戰 (D) 以阿戰爭。
38. () 西元1955年，亞洲、非洲許多國家在印尼召開會議，主張促進亞、非國家之間的友好合作；1960年代，印度、埃及等國發起「不結盟運動」，參與國家強調獨立自主和不與美、蘇強權結盟。上述會議與不結盟運動，最可能反映出下列何者？ (A) 聯合國的成立 (B) 第三世界的興起 (C) 共產世界的瓦解 (D) 九一一事件的影響
39. () 請想一想，以下這些話與歷史人物的言論配對，何者正確？
 (A) 希特勒：「我反共，並且主張恢復古羅馬光榮！」
 (B) 凱末爾：「我將解放婦女、推動政教分離，進行改革」
 (C) 墨索里尼：「我決定推行計畫經濟，以國防建設為主！」
 (D) 史達林：「我提倡非暴力的不合作運動，一起抵制英貨！」
40. () 九年十九班的同學在話劇表演中扮演兩個不同國籍的人，根據對話內容判斷，這兩人分別是哪個國家的人士？



我國在兩次大戰原先都採取中立，後來才在戰爭後期參戰。



我國在兩次大戰均是戰敗國，並被認為是造成戰爭的禍首。

- (A) 美國、德國 (B) 英國、法國 (C) 美國、日本 (D) 英國、美國。

二、題組題：每題 2 分，共 20 分

(一)附圖中的甲、乙、丙三人是某三個國家的元首，請從三人的發言回答下列問題：



- () 41. 甲除了堅持和平的原則，也提倡成立哪一組織，以維護世界和平？
(A) 國際聯盟 (B) 聯合國 (C) 北大西洋公約組織 (D) 歐洲聯盟。
- () 42. 在巴黎和會中，乙所屬國家取得山東半島的權利，進而引發中國國內爆發下列哪一起事件？
(A) 七七事變 (B) 五三慘案 (C) 九一八事變 (D) 五四運動。
- () 43. 被迫接受割地賠款、削減軍備的丙，應是哪一國家的元首？
(A) 俄國 (B) 德國 (C) 義大利 (D) 英國。

(二)閱讀選文，回答下列各題：

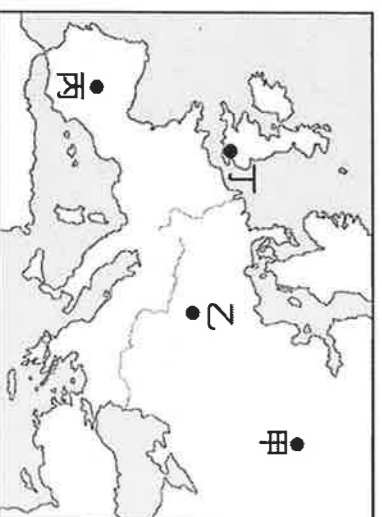
以下是某人的回憶：
戰爭爆發那年，我才十歲，剛開始時民族主義高漲，大家充滿對勝利的期待；但當國家面臨困境後，對於戰爭的熱情逐漸消退。十三歲時，戰爭尚未結束，國內卻接連發生了兩次革命，先是推翻了沙皇統治，成立臨時政府。後來，臨時政府也控制不住局面，布爾什維克黨發動革命，建立新政權，立即推行了許多新政策。之後，我們的日子變得非常難過，政府每週只配發兩小塊麵包。到了冬天，住在首都莫斯科的我們，沒有電燈、沒有水、沒有暖氣，因為寒冷，所有的水管都凍得爆裂，我們只得把書架和房間的夾板拆下燒火取暖。

- () 44. 上文所提及的戰爭應是下列何者？
(A) 日俄戰爭 (B) 拿破崙戰爭 (C) 第一次世界大戰 (D) 第二次世界大戰。
- () 45. 上文所提及推翻沙皇統治的革命，應是下列何者？
(A) 二月革命 (B) 七月革命 (C) 十月革命 (D) 辛亥革命。
- () 46. 領導布爾什維克黨發動革命，成立世界上第一個共產政權的是下列何人？
(A) 列寧 (B) 史達林 (C) 戈巴契夫 (D) 葉爾欽。
- () 47. 下列何者最可能是上文所提及的「新政策」？
(A) 建立工廠制度，停止農業生產 (B) 提倡資本流通，強化市場經濟
(C) 反對關稅障礙，鼓吹自由貿易 (D) 沒收私有財產，實施土地公有。

(三)閱讀選文，回答下列各題：

皮雷茨基的祖國在 1939 年遭德國、蘇聯攻陷，他因此參與地下反抗組織，並趁德軍搜捕罪犯時，混入隊伍，故意被送進納粹在他的祖國內成立的集中營，設法將內部消息傳遞出去，這些資料使盟國更加認識集中營的情況。1943 年，皮雷茨基從集中營逃出，繼續反抗德軍。
大戰結束，他回到祖國生活，幾年後因反對當時操控自己國家的外國勢力而被處死。直到 1990 年代，皮雷茨基才得到平反，成為該國的英雄人物。

- () 48. 上文中「使盟國更加認識集中營的情況」，其中的「盟國」可能下列是哪個國家？
(A) 日本 (B) 德國 (C) 義大利 (D) 英國。
- () 49. 根據資料的內容來看，監禁皮雷茨基的集中營，最可能位於附圖中的甲、乙、丙、丁何處？
(A) 甲 (B) 乙 (C) 丙 (D) 丁。
- () 50. 上文中皮雷茨基獲得平反，最可能與下列何者有關？
(A) 法西斯黨勢力的衰微 (B) 歐洲共產政權的瓦解
(C) 「第三世界」的興起 (D) 歐洲經濟共同體的建立。



【試題結束】