

請讀完下文才開始作答

1. 本學科試題二張四面，交卷時只須交答案卡。
2. 每題都有 A、B、C、D 四個選項，其中只有一個選項是正確的，請將正確答案選出。
3. 作答時必須使用 2B 黑色鉛筆，將正確答案劃記在答案卡上，否則不予計分。
4. 答案卡上劃記必須正確，答案塗改須擦拭乾淨，若劃記錯誤或不清楚影響電腦讀卡判讀，將不予計分。
5. 本試題卷有單選題共 34 題，題組題共 16 題，每題 2 分，共 100 分。

一、單選題：

1. () 約翰身處於 14 世紀的義大利威尼斯，那是一座商業大城，熙來攘往的人很多，街道上熱鬧非凡。約翰的身分是一間打鐵鋪的師傅，從小就跟隨老威廉學習打鐵的技藝，他的身分從學徒、職工，一直升到現在的打鐵師傅。請問：約翰要升格為師傅，必須經由哪一個組織的認可才行？ (A) 政府 (B) 銀行 (C) 行會 (D) 教會。
2. () 「宗教改革」使得羅馬公教內部發起改革聲浪，西班牙教士羅耀拉因而創立耶穌會，下列何者不可能是他的主張？ (A) 重申君士坦丁教會的地位 (B) 重視教宗及教會權威與宗教儀式 (C) 積極派遣教士到各地傳教 (D) 要求神職人員的紀律，重視神職人員的訓練與培養。
3. () 玲玲研讀《中國通史》，發現唐玄宗時曾有大將高仙芝率軍與「大食」軍隊在中亞交戰。其實「大食」是中世紀相當會做生意的民族，間接地扮演文化的交流者，其曾將中國哪些文物外傳？ (A) 火藥、印刷術 (B) 造紙術、印刷術 (C) 造紙術、指南針 (D) 數字系統、火藥。
4. () 神聖羅馬帝國的前身是「東法蘭克王國」，原是哪一帝國分裂後的一部分？ (A) 羅馬帝國 (B) 拜占庭帝國 (C) 查理曼帝國 (D) 西羅馬帝國。
5. () 附表是歐洲某時期人口的估算值，造成表中「甲」期間人口數量變化的主要因素應是下列何者？ (A) 十字軍東征，群眾響應前往西亞 (B) 蒙古西征，造成歐洲人大量傷亡 (C) 鼠疫大流行，大量人口感染死亡 (D) 宗教改革後，教派對抗戰爭頻繁。

時間	人口數 (人)
1200 年	5,900 萬
1300 年	7,000 萬
1347 年	7,500 萬
1352 年	5,000 萬

甲 {

6. () 「這座城市位於歐、亞之間，地理位置易守難攻，最早是做為羅馬帝國的新都而建，後來成為首都，至今在這座城市中依然可以找到華麗的教堂、宏偉的城牆及大量的藝術品。」請問：這個城市曾是下列哪些帝國首都？ (甲) 拜占庭帝國 (乙) 西羅馬帝國 (丙) 阿拉伯帝國 (丁) 查理曼帝國 (戊) 鄂圖曼土耳其帝國。
(A) 甲丙 (B) 丙戊 (C) 乙丁 (D) 甲戊。
7. () 地理大發現揭開了海權時代的序幕，此後掌握世界歷史脈動的國家多分布於何處？
(A) 地中海沿岸 (B) 大西洋沿岸 (C) 印度洋沿岸 (D) 太平洋沿岸。
8. () 下列有關地理大發現及海外拓殖所帶來的影響，何者為非？ (A) 將美洲作物玉米、馬鈴薯傳入歐洲，解決糧食不足的問題 (B) 印第安人因傳染病而大量死亡 (C) 歐洲人追捕大量非洲黑人，改變亞洲人口結構 (D) 十六世紀，西班牙躍升歐洲最富強國家。
9. () 母語教學是當前臺灣極力推廣的教學內容，在小學階段多半都設有母語教學的課程。請問：在西方歷史上的哪一個時期，各民族興起以方言來從事創作？ (A) 文藝復興 (B) 地理大發現 (C) 宗教改革 (D) 科學革命。
10. () 阿福將課文中 12 世紀後的歐洲情況整理如附表，因過於粗心，他所整理的項目中，錯誤連連，請問：下列哪些項目是必須修正的？ (A) 甲乙丁 (B) 丙丁戊 (C) 乙丙丁 (D) 甲丁戊。

項目	拜占庭帝國	中古西歐
(甲) 政治	封建制度	中央集權
(乙) 經濟	工商業發達	莊園經濟
(丙) 官方語言	希臘文	拉丁文
(丁) 宗教	天主教	東正教
(戊) 文化特色	融合日耳曼、基督教及羅馬文化	融合希臘、基督教及羅馬文化

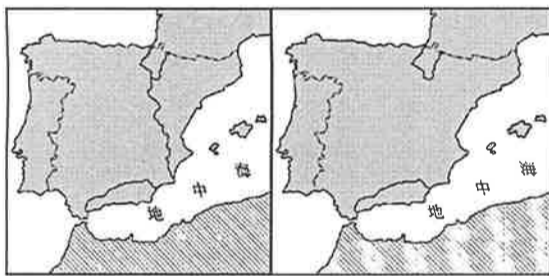
11. () 歷史學者曾有以下評論：「事實上，16 世紀仍是一個神啟的世紀，一個誠心信奉基督的世紀。但是，承認每個基督教徒都有自由解釋《聖經》的權利，就等於確定了一項可能直接威脅《聖經》本身的反教會原則。」請問：上文中否定教宗的權威，認為「每個基督教徒都有自由解釋《聖經》的權利」應是下列何人？ (A) 馬基維利 (B) 馬丁路德 (C) 利瑪竇 (D) 羅耀拉。
12. () 查士丁尼大帝被認為是一位「不眠的皇帝」，他親自管理許多事情，並多次對外發動戰爭，收復失土。請問：他是下列哪一帝國的君主？ (A) 西羅馬帝國 (B) 神聖羅馬帝國 (C) 拜占庭帝國 (D) 鄂圖曼土耳其帝國。

桃園市立自強國中 106 學年度上學期九年級第二次定期考查歷史科題目卷 4-2

13. () 娟娟在讀西洋歷史時，將課本重點整理成表格如下，請問：娟娟整理的表格是關於什麼事件？(A)英法百年戰爭 (B)十字軍東征 (C)西班牙的崛起 (D)土耳其人的崛起。

時間	西元 1337~1453	
原因	王位繼承問題、領土爭奪	
參戰國家	甲國	乙國
擅長武器	長弓、步兵	騎兵
結果	敗	勝
影響	兩國王權提高	

14. () 中世紀時代，讓一般貴族及平民有興趣的文學作品，應該是下列何者？ (A)讚頌民主的詩歌 (B)具哲學思考的書籍 (C)騎士冒險的故事 (D)攸關國民生計的論文。
15. () 有人曾說：「國君應像狐狸一樣狡猾，應像獅子一樣兇猛，為國家的利益，可用盡一切手段來維持政治權力與國家的利益」。請問：下列哪一位政治思想家的主張最符合上述的言論？ (A)但丁 (B)馬基維利 (C)薄伽丘 (D)塞凡提斯。
16. () 西元 14 世紀初，義大利產生文藝復興運動的原因有下列哪些？ (甲)拜占庭學者西遷 (乙)經濟繁榮 (丙)農民階級的支持 (丁)造紙術及印刷術普及。 (A)甲乙丙 (B)甲乙丁 (C)乙丙丁 (D)甲丙丁。
17. () 阿翔隨著友人到清真寺做禮拜，發現伊斯蘭教教徒人手一本《古蘭經》。早在中世紀時，透過《古蘭經》的誦讀，已使哪一語文成為當時伊斯蘭教世界的通用語？ (A)阿拉伯語 (B)拉丁語 (C)土耳其語 (D)希臘語。
18. () 中世紀歐洲有「城市的空氣使人自由」的諺語，當時商業繁榮促使居民爭取權益，甚至有用金錢向領主換得特許狀，形成自治城市的例子。請問：上述爭取權益的居民身分是什麼？ (A)基督教教士 (B)貴族 (C)農奴 (D)市民階級。
19. () 佩脫拉克曾說：「我自己是凡人，我只求凡人的幸福。」這句話充分表現出文藝復興時期盛行的哪一種思想？ (A)神權主義 (B)人文主義 (C)自由主義 (D)民族主義。
20. () 伊比利半島的歷史從上古以來曾留下許多民族統治的遺跡，附圖為伊比利半島上的政權變遷，請問：從圖(一)演變至圖(二)，是因為發生了什麼事？ (A)王室聯姻 (B)宗教改革 (C)海外拓殖 (D)長期戰爭。





圖(一) 圖(二)

21. () BBC 報導：「2016 年 2 月，教宗方濟各與俄羅斯大主教基利爾在古巴舉行歷史性會晤，這是兩大宗教分裂近千年後，雙方領袖第一次聚首，兩位宗教領袖在歷經兩小時討論後簽署聯合聲明。」請問：新聞中的俄羅斯大主教是屬於下列哪一宗教？ (A)天主教 (B)東正教 (C)伊斯蘭教 (D)猶太教。
22. () 威廉是個 15 世紀後期的商人，他很想到亞洲貿易，但是聽說陸地上的道路被某些國家的商人所壟斷，因此只好選擇海上航路冒險一試。請問：他聽說的某些國家應該是哪些？ (A)義大利、鄂圖曼土耳其 (B)西班牙、葡萄牙 (C)英國、法國 (D)西班牙、蒙古。
23. () 中世紀後期商業日漸復甦，主要原因為何？ (A)基督教信仰鼓勵發展工商業 (B)農業技術與工具改良，帶動商業的發展 (C)十字軍東征使東方對西方商品產生需求 (D)蒙古西征打通東、西方的遠程貿易路線。
24. () 達文西的作品《最後的晚餐》，描繪耶穌在遭到逮捕前和十二門徒共進最後一餐的情景，畫中人物表情生動、各懷心事。請問下列哪些藝術家與達文西活躍在同一時代？ (甲)拉斐爾 (乙)亞美利哥 (丙)佩脫拉克 (丁)米開朗基羅 (A)甲乙 (B)丙丁 (C)甲丁 (D)乙丙。
25. () 《天方夜譚》描繪了阿拉伯帝國工商業發達的景象，也反映其首都繁榮的城市風貌。請問：阿拉伯首都應位於附圖中何處？ (A)甲 (B)乙 (C)丙 (D)丁。



桃園市立自強國中 106 學年度上學期九年級第二次定期考查歷史科題目卷 4-3

26. () 怡雯看新聞正在報導英國喬治王子受洗的消息，根據新聞指出，受邀觀禮的英國王室成員，其實都是信仰這個由英王亨利八世所創立的教派。關於這個教派，下列的敘述何者正確？ (A) 為政教分離的體制 (B) 亨利八世因婚姻問題而脫離天主教，創立此教派 (C) 此教派隨著馬偕傳入臺灣 (D) 典禮上會看到羅馬教宗主持儀式。
27. () 德國的不來梅有一座雕像，雕塑家根據史詩《羅蘭之歌》的主角羅蘭打造而成，羅蘭是查理曼大帝手下的十二名武士之一，他驍勇善戰，最後英勇戰鬥到最後一刻光榮死去。請問：《羅蘭之歌》創作背景應該是何時？ (A) 古希臘雅典 (B) 羅馬帝國 (C) 拜占庭帝國 (D) 中世紀西歐。
28. () 文藝復興的原意是古典文化的再生與創新，其中的「古典文化」是指下列何者？ (A) 佛教、伊斯蘭教文化 (B) 西亞、埃及文化 (C) 中國的儒家文化 (D) 古希臘、羅馬文化。
29. () 西元 15 世紀時，歐洲封建制度逐漸瓦解，王權逐漸提高，而下列哪一國家不是西元 15 世紀後，歐洲較早出現的王權國家？ (A) 德國 (B) 西班牙 (C) 法國 (D) 英格蘭。
30. () 阿明到西歐旅行時，對這裡的中世紀建築感到醉心不已，尤其對莊嚴華麗的哥德式建築印象深刻。過年期間，阿明在臺灣四處遊玩拍了很多照片回家，其中也發現哥德式建築的蹤跡。請問：下列哪一個古蹟最接近哥德式風格？ (A)



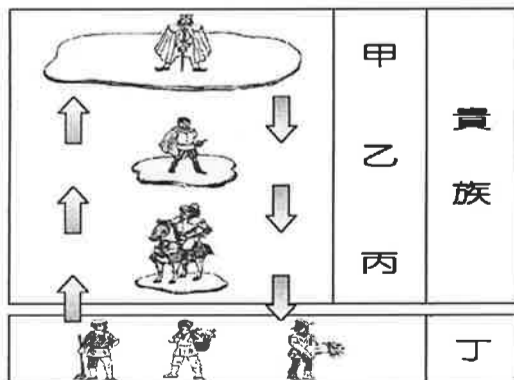
- (B) (C) (D)
31. () 阿瑜看過一篇分析小說《哈利波特》裡面血緣關係的文章，提到作者根據人物頭髮的顏色象徵英國原住民與外來者民族，以書中主角馬份家族來說，金頭髮代表他們家族是西元 5 世紀時不列顛地區最大規模的入侵者，這個入侵者是哪一民族？ (A) 盎格魯撒克遜人 (B) 汪達爾人 (C) 法蘭克人 (D) 東哥德人。
32. () 中世紀西歐，哪一個宗教的教會負起維持社會秩序的任务，成為亂世中安定的力量？ (A) 基督教 (B) 猶太教 (C) 伊斯蘭教 (D) 佛教。
33. () 上歷史課時，老師曾說：「一個人是否能得救，上帝早已『預定』，祈禱、善行均無濟於事。凡為上帝的選民，即『義人』，生活中自然會對上帝產生信仰，此後更要努力工作，發財致富，用現世的成就來榮耀上帝。」下列哪一教派的理論，最能顯現這種精神？ (A) 天主教 (B) 希臘正教 (C) 路德教派 (D) 喀爾文教派。

二、題組題：

(一) 不同文化間的交流可以了解雙方的優點、改善自己的缺點，去蕪存菁後或融合原有文化、或獨樹一幟，均能豐富文化底蘊，使文化更多元。歷史上與文化交流有關的戰爭如下：(甲) 十字軍東征 (乙) 怛羅斯之役 (丙) 亞歷山大東征 (丁) 蒙古西征。請根據上文回答問題。

34. () 上文所提及的四場戰役，依時間先後順序排列，應該為何？ (A) 乙甲丙丁 (B) 乙丙甲丁 (C) 丙甲乙丁 (D) 丙乙甲丁。
35. () 十三世紀，有個法國 10 歲的牧童聲稱耶穌顯靈，而號召其他兒童與他一同出征，大約有 3 萬名兒童來到了馬賽港口，準備橫渡大海前往耶路撒冷，卻被經營船務的商人賣為奴隸。此歷史事件與上文哪一場戰役有關？ (A) 甲 (B) 乙 (C) 丙 (D) 丁。
36. () 上文哪一場戰役將中國的火藥與印刷術西傳？ (A) 甲 (B) 乙 (C) 丙 (D) 丁。

(二) 附圖為中世紀歐洲社會盛行的封建制度。請問：



37. () 附圖中所繪的封建制度，其建立的基礎是下列何者？ (A) 土地授予和契約關係 (B) 基督教世界形成 (C) 對外貿易的興盛 (D) 政治結盟。
38. () 附圖中的乙和丙之間有主從關係，對乙而言，丙被稱為什麼？ (A) 農奴 (B) 附庸 (C) 領主 (D) 侍從。
39. () 封建制度在中國曾出現過，最早出現在哪一朝代？ (A) 商朝 (B) 西周 (C) 東周 (D) 秦朝。

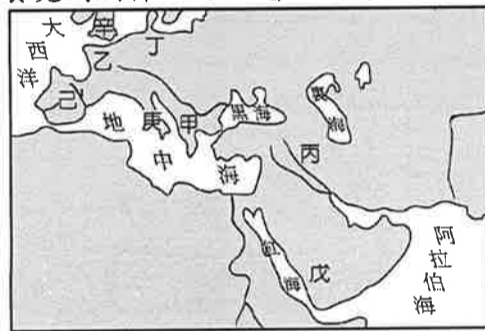
桃園市立自強國中 106 學年度上學期九年級第二次定期考查歷史科題目卷 4-4

(三) 15 世紀以來，歐洲許多國家紛紛轉向海外發展，各自獲得極大的成果。根據附圖的新航線路線圖，回答下列問題：



- 40.()十五世紀後期，哪一個歐洲國家最早從事海外探險活動，揭開地理大發現的序幕？ (A)英國 (B)西班牙 (C)荷蘭 (D)葡萄牙。
- 41.()附圖中，發現乙航線抵達印度的探險家是誰？ (A)達伽馬 (B)麥哲倫 (C)哥倫布 (D)狄亞士。
- 42.()附圖中，發現甲航線但終生都以為他所抵達的地方是印度的探險家是誰？ (A)麥哲倫 (B)達伽馬 (C)哥倫布 (D)狄亞士。
- 43.()早在十五世紀前期，中國已有鄭和下西洋的航海活動，請問「西洋」是指何處？ (A)大西洋 (B)太平洋 (C)印度洋 (D)地中海。

(四)「行萬里路」可以增廣見聞，可以涵養寬闊胸襟，可以增加國際視野。請根據附圖回答問題。



- 44.()天主教教宗除了是宗教職務外，也是梵諦岡的國家元首，此國應是位於附圖中的何處？ (A)甲 (B)丙 (C)丁 (D)庚。
- 45.()如果想了解伊斯蘭教文化在歐洲所留下的遺蹟，可以前往附圖中的哪些地區參觀？ (A)乙丙 (B)戊辛 (C)丁庚 (D)甲己。
- 46.()文藝復興時期著名的文學家塞凡提斯的故鄉在附圖中何處？ (A)乙 (B)己 (C)庚 (D)辛。

(五) 附圖為基督教教派演變示意圖，請根據附圖回答問題。請問：



- 47.()基督教發展到西元 4 世紀末，成為哪一帝國的國教？ (A)波斯帝國 (B)亞歷山大帝國 (C)羅馬帝國 (D)阿拉伯帝國。
- 48.()根據附圖，基督教發展史上有兩次分裂，各發生於何時？ (A)西元 9、14 世紀 (B)西元 12、15 世紀 (C)西元 11、16 世紀 (D)西元 12、17 世紀。
- 49.()根據附圖，丙應填入的宗教教派是什麼？ (A)天主教 (B)喀爾文教派 (C)羅馬公教 (D)東正教。
- 50.()造成基督教世界第一次分裂的原因為何？ (A)教宗與拜占庭君主互爭宗教領導權 (B)教會的腐敗 (C)海外傳教相互競爭 (D)人文主義的崛起。

《試題結束》