

請讀完下文才開始作答

1. 本學科試題二張四頁，交卷時只須交答案卡。
2. 每題都有 A、B、C、D 四個選項，其中只有一個選項是正確的，請將正確答案選出。
3. 作答時必須使用 2B 黑色鉛筆，將正確答案劃記在答案卡上，否則不予計分。
4. 答案卡上劃記必須正確，答案塗改須擦拭乾淨，若劃記錯誤或不清楚影響電腦讀卡判讀，將不予計分。
5. 本試題卷共有單一選擇題共 37 題，題組題共 13 題，共 50 題，每題 2 分，共 100 分。

一、單一選擇題

1. () 西元 1949 年，中共掌控中國大陸全境，中華民國政府退守台灣，形成兩岸分治。請問：當時在中國大陸與台灣的領導人各為何人？ (A) 毛澤東、蔣中正 (B) 鄧小平、蔣經國 (C) 習近平、馬英九 (D) 毛澤東、李登輝。
2. () 承上題，當時的中共推動許多施政方針與政策，不乏來自國外的幫助，也給中國帶來了重大的影響。請問：中共建國初期主要是依靠哪個國家的援助？ (A) 北韓 (B) 蘇聯 (C) 英國 (D) 日本。
3. () 清末以來，中國受不平等條約的危害很深，直到下列何時才與英、美等國家簽訂平等新約，擺脫了不平等條約的束縛？ (A) 1920 年代 (B) 1930 年代 (C) 1940 年代 (D) 1950 年代。
4. () 有一本自傳中提到：「龍袍從北京的太妃那裡拿來了，但是關東軍卻對我說，日本承認的是『□□皇帝』而不是『大清皇帝』，因此我不能穿清朝龍袍，只能穿關東軍指定的『□□陸海空軍大元帥正裝』。」此文應是出於何人所寫的自傳？ (A) 袁世凱 (B) 溥儀 (C) 汪兆銘 (D) 張作霖。
5. () 根據下面兩段歷史資料得知，他們的共同時代背景應為哪一場戰役？

資料一：全世界各國的事務應由各國人民自己來管，亞洲的事務應由亞洲人民自己來管，而不應由美國來管。

美國對亞洲的侵略，只能引起亞洲人民廣泛的和堅決的反抗。


資料二：中國人民支援朝鮮人民的抗美戰爭不只是道義上的責任，而且和我國全體人民的切身利害密切的關聯著，是為了自衛的必要性決定的。

(A) 韓戰 (B) 越戰 (C) 第一次世界大戰 (D) 第二次世界大戰。

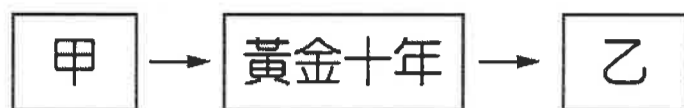
6. () 有人說「21 世紀是中國人的世紀」，中國富強之餘，仍舊面臨許多挑戰與困境。請問：下列何者為非？
(A) 國家主權仍遭受西方列強控制 (B) 貧富發展嚴重不均
(C) 爭取民主的政治活動不時發生 (D) 性別比例失衡。
7. () 中國現代史上，許多的事情都是以發生的日期來命名，其中五三慘案、九一八事變與七七事變等史實的發生，均與下列哪一列強有密切關係？ (A) 蘇聯 (B) 德國 (C) 美國 (D) 日本。
8. () 中共建國初期，曾沒收一切財產，以集體的方式、戰鬥的精神從事生產，還設立大家一起吃大鍋飯的公共食堂，由於不論工作努力與否都有飯吃，反而造成勞動成果不佳的窘境。請問：以上所敘述的情形是指下列哪一措施？
(A) 十年建設 (B) 人民公社 (C) 文化大革命 (D) 改革開放。
9. () 八年抗戰期間，中國採取「以空間換取時間」的持久戰，所以當時的政府撤退至西南後方，首都也由南京遷到某地。某地應該位於下圖中何處？(A) 甲 (B) 乙 (C) 丙 (D) 丁。



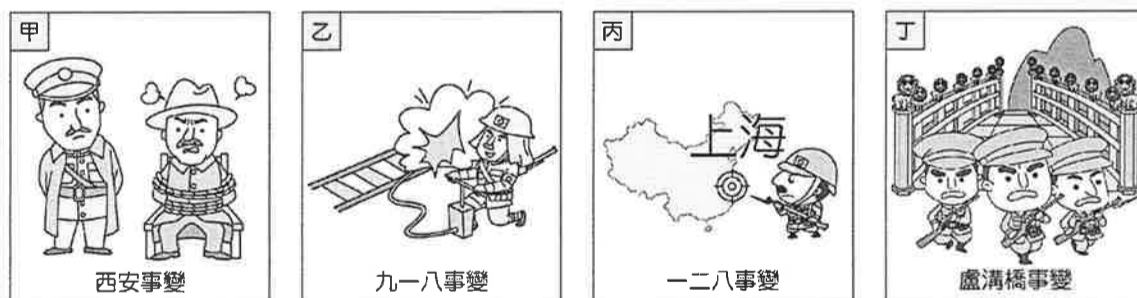
10. () 阿文在展覽中看到一幅圖片（如附圖），圖片還註明拍攝地點在重慶，請問：此圖片是在描繪國共關係中的哪一時期的？(A) 國民革命軍北伐期間 (B) 八年抗戰期間 (C) 文化大革命期間 (D) 國共內戰期間。



11. ()許多大型活動都會設計獨特的圖案和口號，以宣示主張及加強印象，政治活動也是如此。
下列哪些是屬於文化大革命的代表性口號？(甲)停止剿共，一致抗日 (乙)破四舊，立四新 (丙)人有多大胆，地有多大產 (丁)打倒走資派 (戊)革命無罪，造反有理。(A)甲乙丙 (B)乙丙丁 (C)乙丁戊 (D)甲乙戊。
12. ()老師在課堂上寫下民初的歷史演進如下圖，要同學填入甲以及乙的答案。請問：正確的答案為何？



- (A)甲：北伐開始，乙：北伐完成 (B)甲：北伐完成，乙：抗戰爆發
(C)甲：民國建立，乙：北伐完成 (D)甲：抗戰爆發，乙：國共內戰。
13. ()八年抗戰後期，由於美國在哪兩地投下原子彈，迫使日本宣布無條件投降？
(A)東京、橫濱 (B)京都、大阪 (C)臺北、東京 (D)廣島、長崎。
14. ()民國36年，國民政府下令「動員戡亂」的主因是為了對付下列何者？
(A)中國共產黨 (B)日本 (C)蘇聯 (D)北洋軍閥。
15. ()阿偉的曾祖父是杭州笕橋航空學校第一期的學生，這是現在中華民國空軍軍官學校的前身。請問：中國開始發展航空是在下列哪個階段？(A)軍閥亂政期間 (B)北伐期間 (C)黃金十年 (D)八年抗戰。
16. ()西元2015年，海峽兩岸的領導人第一次進行會面。請問：當時出席的中國領導人應該是下列何人？
(A)毛澤東 (B)鄧小平 (C)胡錦濤 (D)習近平。
17. ()十年建設時期，國民政府以下列哪一法令做為國家的根本大法，進入「以黨治國」的階段？
(A)《訓政時期約法》 (B)《臨時約法》 (C)《中華民國約法》 (D)《中華民國憲法》。
18. ()文化大革命時期的「紅衛兵」主要是由哪一個社會群體組成的？(A)工人 (B)農民 (C)軍人 (D)學生。
19. ()八年抗戰結束後，國民政府迅速失去人心，聲望受到嚴重打擊的因素有哪些？(甲)物價飛漲 (乙)政府官員的貪汙腐化 (丙)美國調停失敗 (丁)過分依賴蘇聯作靠山。(A)甲乙丙 (B)甲乙丁 (C)乙丙丁 (D)甲丙丁。
20. ()孫中山先生採取下列哪一政策，造成中國國民黨內部「黨中有黨」？
(A)聯美親共 (B)聯美反共 (C)聯俄分共 (D)聯俄容共。
21. ()中國十年建設期間的「內憂」與「外患」各是指何者？
(A)軍閥與蘇聯 (B)軍閥與日本 (C)中共與美國 (D)中共與日本。
22. ()列寧建立世界上第一個共產政權「蘇聯」，實行共產主義卻帶來饑荒，於是改採「新經濟政策」；1950年代的中共當時也實行共產主義，但所推行的措施不包括何者？(A)土地改革 (B)人民公社 (C)三七五減租 (D)土法煉鋼。
23. ()下列四幅漫畫分別是國民政府統治時期的四個事件。請依發生時間先後順序排列，何者正確？



- (A)甲乙丙丁 (B)乙丙甲丁 (C)丙甲丁乙 (D)丁甲丙乙。

24. ()小明參觀「蔣中正史蹟展覽」中，得知近代許多事情與蔣中正有關。請問下列哪些事件應出現在展覽會場中？
(甲)護國軍討袁 (乙)北伐統一 (丙)西安事變 (丁)八年抗戰 (戊)大躍進。
(A)甲乙丙 (B)乙丙丁 (C)丙丁戊 (D)乙丁戊。
25. ()他始終相信平民的潛在力量，他認為中國被蹂躪的苦力，都可透過接受識字教育而成為有用、有生產力的人，進而地方上積極推動平民教育。請問：上述的「他」是指何人？
(A)李鴻章 (B)陳獨秀 (C)梁啟超 (D)晏陽初。

桃園市立自強國中 106 學年度下學期八年級第三次定期考查歷史科題目卷 P4-3

26. ()八年抗戰勝利後，中國內戰緊接而來。當時中共採取下列哪項策略逐步「解放」中國各地，導致國軍全面潰敗？
 (A)先安內再攘外 (B)速戰速決 (C)以鄉村包圍城市 (D)以空間換取時間。
27. ()哆啦A夢搭乘時光機回到1960年前後的中國大陸，發現當時的人民為配合政府的政策，出現了許多奇怪現象。請問下列哪些史實是符合當時現象？(甲)當時流行的順口溜：「稻米賽玉米，黃豆像地瓜；花生像山芋，山芋趕南瓜」(乙)達到了「超英趕美」的目標 (丙)地方政府爭相虛報糧食產量 (丁)以為可以人定勝天，卻引起大饑荒。
 (A)甲乙丙丁 (B)甲乙丙 (C)乙丙丁 (D)甲丙丁。
28. ()民國24年，汪玲帶著銀元到街上購物，卻被老板告知必須要拿去銀行兌換成四家銀行發行的鈔票才能購物。這是因為政府實施何種政策？ (A)廢元改兩 (B)發行法幣 (C)新生活運動 (D)統一度量衡。
29. ()民國16年，國民政府實施清黨，所謂『清黨』是指什麼樣的政策？
 (A)清查國民黨員的資料，以追捕欠繳的黨費 (B)清查國民黨內仍想復辟的清廷份子
 (C)清除國民黨內的中國共產黨份子 (D)肅清國民黨內的軍閥派系。
30. ()為了要掃蕩盤據中國各地的軍閥，孫中山深知自己沒有武力做後盾是難以成功的。因此，他決定培養自己的武力，成立下列哪支軍隊？ (A)中華民國國軍 (B)北洋軍閥 (C)北洋海軍 (D)黃埔陸軍。
31. ()日本在侵略中國期間，善用「以華制華」的策略。請問：下列哪一組人物曾受日本扶植利用，做為日本的傀儡政權？ (A)溥儀、張學良 (B)張作霖、袁世凱 (C)汪精衛、溥儀 (D)張學良、汪精衛。
32. ()下圖是某漫畫家的作品，其內容是針對中共的哪一項政策所作的諷喻？
 (A)抗美援朝 (B)大躍進運動 (C)文化大革命 (D)鄧小平的改革政策。



33. ()郭廷以的《近代中國史綱·下冊》寫到：「韓戰是國民黨的□」，意思是□救了共產黨，而韓戰則救了當時退守到臺灣的國民黨政府。」請問：上述資料中的□應該填入哪一歷史事件？
 (A)西安事變 (B)濟南慘案 (C)九一八事變 (D)一二八事變。
34. ()有人曾說：「錯誤的政策比貪汙更可怕」。中華人民共和國建立後，毛澤東推動『政治掛帥』的路線，卻造成動亂不斷，經濟下滑，人民生活困苦。直至西元1979年，中國哪位領導人勇敢徹底地改變了毛澤東的路線，推動以『經濟掛帥』的改革開放路線？ (A)江澤民 (B)胡錦濤 (C)習近平 (D)鄧小平。
35. ()下列為當年參與「第二次世界大戰」的軍事將領所說的言論，其中何人的身分可能為日本的軍事將領？
 (A)甲：我們打算速戰速決，三個月內就拿下中國 (B)乙：我國投下的原子彈，讓這場戰爭迅速結束
 (C)丙：為了長期抗戰，我們的政府決定遷都 (D)丁：我們強調與日本的盟友關係，堅決反共立場。
36. ()北伐期間，國民政府首都不斷遷移，其遷移的順序，下列何者正確？
 (A)廣州→武漢→重慶 (B)南京→廣州→重慶 (C)廣州→武漢→南京 (D)廣州→重慶→武漢。
37. ()中國共產黨相當重視政治宣傳畫，認為政治宣傳畫張貼於公共場所，可以直接面向群眾、影響人心並及時地發揮社會作用。附圖的政治宣傳畫內容，應該在描述中共推行的哪一政策？
 (A)土地改革 (B)大躍進 (C)文化大革命 (D)改革開放。



二、題組

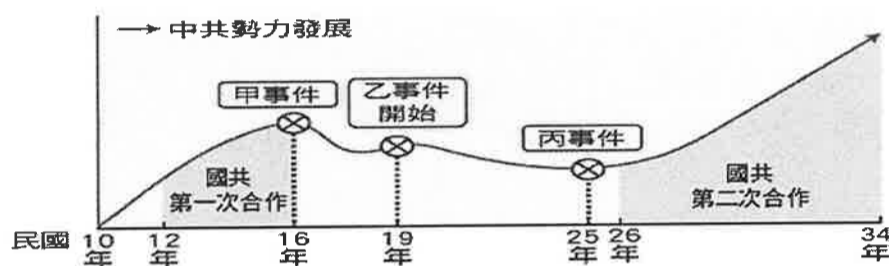
【一】近代史上，日本一再的侵凌中國，中華民國建立以後，日本相逼更甚，終於爆發了八年對日抗戰。請問：

38. () 八年抗戰的導火線是哪一事件？ (A) 盧溝橋事變 (B) 淞滬會戰 (C) 珍珠港事變 (D) 九一八事變。
 39. () 八年抗戰初期，中國對日戰爭的處境如何？
 (A) 接受大量美援 (B) 獨自作戰 (C) 與盟軍並肩作戰 (D) 依賴聯合國制裁日本。
 40. () 八年抗戰時期，中國與美、英盟軍並肩作戰是在哪一事件爆發之後？
 (A) 盧溝橋事變 (B) 淞滬會戰 (C) 珍珠港事變 (D) 九一八事變。

【二】中共歷史上有一事件記載如下：「坦克車駛入廣場後，軍人包圍了廣場上的群眾，四點整，燈光全滅，清場正式開始，槍聲大作，慘叫滔天，死傷人數至今仍然未明……。」請問：

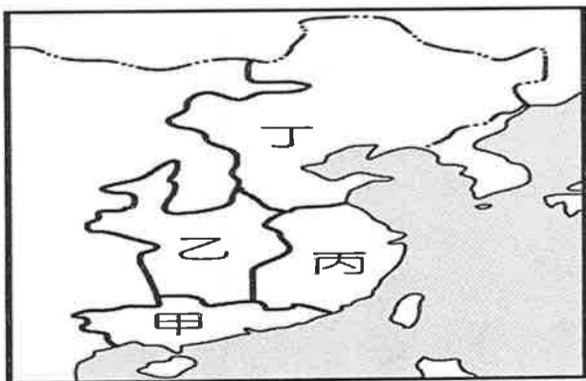
41. () 上述為哪一事件的記載？ (A) 文化大革命 (B) 大躍進 (C) 西安事變 (D) 六四天安門事件
 42. () 此事件發生在下列何人掌權時？ (A) 毛澤東 (B) 鄧小平 (C) 胡錦濤 (D) 江澤民。

【三】中國國民黨與中國共產黨的分分合合，影響著現代中國的歷史發展，請參考下圖回答問題：



43. () 根據上圖，國民黨跟共產黨共有兩次合作機會，請問：這兩次合作的背景為何？
 (A) 第一次：聯俄容共、第二次：聯共抗日 (B) 第一次：西安事變、第二次：聯共抗日
 (C) 第一次：推翻滿清、第二次：聯共北伐 (D) 第一次：聯共抗日、第二次：聯俄容共。
 44. () 圖中甲事件的出現，不僅造成中共勢力發展的挫折，也導致第一次國共合作的結束。請問：甲事件發生於下列哪個時期？ (A) 北伐期間 (B) 十年建設期間 (C) 八年抗戰期間 (D) 文化大革命期間。
 45. () 乙事件開始後，中共最終不得不放棄江西老巢，開始流竄到陝北。請問：這是中共歷史上的哪一事件？
 (A) 抗日民族統一戰線 (B) 二萬五千里長征 (C) 秋收暴動 (D) 抗美援朝。
 46. () 民國 26 年至 34 年，中共實力大增，主要是下列哪項史實造成？
 (A) 中共兩萬五千里長征時期 (B) 西安事變 (C) 日軍侵華 (D) 國共內戰。

【四】下圖是北伐時期各方勢力的概況圖，請依圖回答下列問題：



47. () 國民革命軍的根據地是在何處？ (A) 甲 (B) 乙 (C) 丙 (D) 丁。
 48. () 北伐期間，「乙」和「丙」兩個地區各自出現了國民政府，造成中國國民黨的分裂，此事與下列何者有關？
 (A) 黃埔軍校的成立 (B) 五三慘案 (C) 中國共產黨的成立 (D) 清黨事件。
 49. () 丁區的軍閥首領是誰？ (A) 段祺瑞 (B) 吳佩孚 (C) 張作霖 (D) 孫傳芳。
 50. () 哪一事件直接結束了北伐活動，完成國家統一？
 (A) 清黨事件 (B) 張學良歸順南京國民政府 (C) 張作霖被日本人炸死 (D) 成立黃埔陸軍軍官學校。

☺☺☺ 試題結束 ☺☺☺