

請讀完下文才開始作答

1. 本試題共計二張四面，交卷時只須交答案卡。
2. 每題都有A、B、C、D四個選項，其中只有一個是正確的，請將正確答案選出。
3. 作答時必須使用2B黑色鉛筆，將正確答案劃記在答案卡上，否則不予計分。
4. 答案卡上劃記必須正確，答案塗改須擦拭乾淨，若劃記錯誤或不清楚影響電腦讀卡判讀，將不予計分。
5. 本試題卷分為：一、選擇題，第 1~40 題，每題 2 分，共 80 分；

二、題組題，第 41~50 題，每題 2 分，共 20 分。

一、選擇題：每題 2 分，共 80 分

- () 1. 乾隆年間，朝廷為方便管理來華的外商，只開放哪一個港口對外通商，並對外商行動有許多限制，埋下了日後中西衝突的遠因？(A)廣州 (B)廈門 (C)寧波 (D)上海。
- () 2. 清代某人被認為是中國近代史上最具影響力的人物之一，一百多年前，他揭起一場轟轟烈烈的禁煙運動，並在虎門銷毀兩萬多箱的鴉片。然而，因為道光皇帝的戰和不定，加上戰爭中主張和談的大臣太多，他終於在這種無能為力的大環境下功敗垂成，含恨而逝。請問此人應是下列何人？
(A)李鴻章 (B)林則徐 (C)劉銘傳 (D)曾國藩。
- () 3. 對外戰爭的失敗，中國知識分子體認到欲救國必須有所改革，請問：近代中國第一個改革運動是下列何者？
(A)自強運動 (B)戊戌變法 (C)革命運動 (D)立憲運動。
- () 4. 約翰是一位英國的商人，他於鴉片戰爭後 8 年來中國經商，他可以享有下列哪一權利？(A)可到臺灣貿易 (B)可透過公行與中國各地貿易 (C)可到上海做生意 (D)可在通商口岸設廠製造。
- () 5. 中國的茶葉、絲綢、瓷器一直深受西方國家的喜愛，因此西方國家一直希望能與中國建立正常的貿易管道，使中西方的貿易能夠更加順暢，下列哪一個國家為了打開中國的通商大門曾兩次派遣特使來華？
(A)俄國 (B)法國 (C)英國 (D)日本。
- () 6. 偉倫打開一本歷史書籍，書上有一段話如下：「清朝將臺灣、澎湖、遼東半島一起割讓給日本，但因為遼東半島有三國聯合干預，最後中國竟然又以巨款將其贖回……。」請問：這裡提到的三國指的是哪些國家？
(A)英、美、法 (B)英、德、法 (C)俄、德、英 (D)俄、德、法。
- () 7. 建宏翻開一本《中國人物傳記》，傳記中提到：「此人是清末以來的重要大臣，曾經為國家平定太平天國之亂，在自強運動期間負責督辦江南機器製造局以及北洋艦隊，並且代表清廷到日本簽下《馬關條約》。」請問：此人應該是下列何人？
(A)奕訢 (B)李鴻章 (C)曾國藩 (D)左宗棠。
- () 8. 附圖是 1860 年代時長江重要河港「漢口」的場景，根據歷史發展，圖中場景最早可能出現於哪一場戰爭後？
(A)鴉片戰爭 (B)英法聯軍 (C)甲午戰爭 (D)中法戰爭。



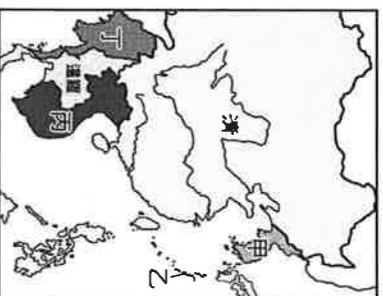
- () 9. 德宣與家人登長城一探壯麗山水。中國籍的導遊感嘆地說：「長城以北的壯麗山水在清末的瓜分風潮中，一度成為他國的勢力範圍，要守住這片江山實在是太不簡單了。」請問：在清末瓜分風潮中，長城以北是下列何國的勢力範圍？(A)美國 (B)英國 (C)法國 (D)俄國。
- () 10. 在某次戰爭後，這位皇室成員痛定思痛，提出「自強」的口號，在他的領導下，以學習西方為主的改革運動迅速展開，有些漢人官吏被授予要職，他們創辦江南機器製造局等，無一不是在他大力支援下建成。請問：這位皇室成員是下列何人？(A)奕訢 (B)曾國藩 (C)李鴻章 (D)左宗棠。
- () 11. 下表說明清代某一歷史事件對整個中國局勢的影響。這應該是指哪一個事件？
(A)鴉片戰爭 (B)英法聯軍 (C)中法戰爭 (D)太平天國。

甲	漢人政治地位提高
乙	地方權力加重
丙	長江中、下游人口、財富受損

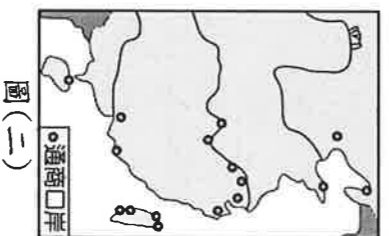
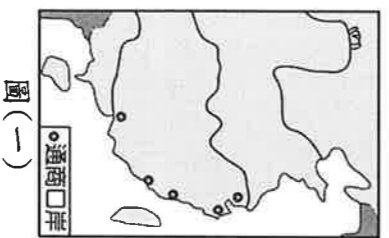
- () 12. 歷史小老師在黑板上寫下中英法《天津條約》的重要內容，可是有一處他不小心寫錯了。請問：錯誤的地方為何？(A)臺灣開港 (B)賠款 (C)開放天津為通商口岸 (D)准許外人至內地遊歷傳教。

【尚有試題】

- () 13. 有「中國近代工程之父」之稱，曾負責修築京張鐵路的詹天佑，為中國第一批留美官費生，西元 1881 年他於耶魯大學取得土木工程學位，回國後對各項現代化工程的建設貢獻良多。請問：詹天佑出國留學，正值清朝哪個改革推動的時期？ (A) 戊戌變法 (B) 皇民化運動 (C) 自強運動 (D) 立憲運動。
- () 14. 「清朝的北洋艦隊曾被評為當時世界第八大艦隊，但由於缺乏紮實的訓練與靈活的戰術，最後在甲午戰爭中幾乎全軍覆沒。」上文中所提戰爭是因為下圖哪個地區所引爆的？
(A) 甲 (B) 乙 (C) 丙 (D) 丁。



- () 15. 有一本記載清末歷史的書中，敘述一位皇帝不願作亡國之君，且同時希望藉由變法從慈禧太后手中奪回統治的權力，以鞏固自己的地位和權力，但他的計畫終告失敗。請問：上文所指應是下列哪一位皇帝？
(A) 咸豐 (B) 同治 (C) 光緒 (D) 宣統。
- () 16. 清代某大臣上奏：「兩年前，我們選送六位廣方言館學生到北京考試，後來總理衙門來函稱讚這六名學生表現卓越，現已授予這些學生『翻譯貢生』的資格。有鑒於新開埠的港口及地方上新建的學堂亟需人才，將由這批學生來擔任相關職務。」這份奏摺所陳述的情況最早可能發生在下列何時？
(A) 鴉片戰爭之時 (B) 甲午戰爭之時 (C) 自強運動期間 (D) 戊戌變法期間。
- () 17. 西元 19 世紀中國遭逢「數千年來未有之變局」，確實遇到「數千年來未有之強敵」，是「清廷應付中西一連串衝突的開端」，也是「中國歷史轉入新階段的起點」。請問：以此段文字判斷，「開端」和「起點」所指的是下列哪一戰爭？ (A) 鴉片戰爭 (B) 英法聯軍 (C) 甲午戰爭 (D) 中法戰爭。
- () 18. 廷彬利用暑假與家人到英、法等國旅遊，在英國大英博物館和法國羅浮宮看到不少中國圓明園的文物。請問：這些展覽品是哪一次戰役時被掠奪的？ (A) 鴉片戰爭 (B) 英法聯軍 (C) 甲午戰爭 (D) 中法戰爭。
- () 19. 冠英的太祖父曾經任職於清代晚期成立的全中國最大的兵工廠，也留下一張珍貴的照片，照片中，主導創辦的官員與小英的太祖父並肩而坐……。請問：上述的兵工廠應為下列何者？
(A) 總理各國事務衙門 (B) 江南機器製造局 (C) 輪船招商局 (D) 北京同文館。
- () 20. 近代中國的某項政治改革，其中推行的措施被認為：「勢必觸動數百翰林，數千進士，數萬舉人，數十萬秀才，數百萬童生之忌。」由於該措施等同斷送現職官吏子弟的前途，使此一改革未能成功。此政治改革為下列何者？ (A) 戊戌變法 (B) 革命運動 (C) 自強運動 (D) 立憲運動。
- () 21. 圖(一)與圖(二)是清末時期對外開放通商港埠的演變情形。請問：由圖(一)轉變為圖(二)的關鍵戰役為何？
(A) 鴉片戰爭 (B) 英法聯軍 (C) 甲午戰爭 (D) 中法戰爭。



- () 22. (甲)烏蘇里江以東之地(乙)香港(丙)黑龍江以北之地(丁)臺灣及澎湖，上列清代割讓的領土，請依喪失的時間先後順序排列，下列何者正確？
(A) 甲丙丁乙 (B) 乙甲丙丁 (C) 乙丙甲丁 (D) 丁乙甲丙。
- () 23. 右圖的漫畫是鴉片戰爭後，中國被迫簽訂不平等條款的内容。請問：這應該是描述哪一項不平等條款的内容？
(A) 租界 (B) 協定關稅 (C) 領事裁判權 (D) 片面最惠國待遇。
- () 24. 西元 1997 年 7 月 1 日英國將香港、九龍司和新界歸還給中國。請問：英國能擁有香港、九龍司分別與下列：(甲)南京條約(乙)北京條約(丙)天津條約(丁)馬關條約，哪些條約有關？ (A) 甲乙 (B) 甲丙 (C) 乙丙 (D) 乙丁。



- () 25. 芳怡在做關於太平天國的報告，請問：下列哪一項內容不會出現在她的報告中？
 (A) 為清末規模最大，影響最巨的民變 (B) 洪秀全受基督教影響，成立拜上帝會
 (C) 規定財產一律繳交至聖庫 (D) 重視儒家學說，維護傳統習俗信仰。
- () 26. 清末，俄國利用中國內憂外患之際，藉機要脅中國簽訂那些條約，奪取了中國東北廣大的土地？
 (A) 南京條約、天津條約 (B) 天津條約、北京條約 (C) 璦琿條約、天津條約 (D) 璦琿條約、北京條約。
- () 27. 甲午戰爭後，部分有識之士開始在哪一層面追求改革，以圖國家之富強？
 (A) 甲午戰爭後，部分有識之士開始在哪一層面追求改革，以圖國家之富強？
 (A) 制度 (B) 思想 (C) 器物 (D) 宗教。
- () 28. 下列關係密切的四件史事：(甲)《馬關條約》(乙)甲午戰爭(丙)門戶開放政策(丁)劃分勢力範圍，依其發生時間的先後排列，何者正確？
 (A) 乙甲丁丙 (B) 乙甲丙丁 (C) 甲丁乙丙 (D) 丙丁甲乙。
- () 29. 日本在《馬關條約》中獲得在中國各通商口岸設立工廠的特權，英、法、法等國雖未參與簽訂該條約，卻也享有這種權力。英、法、法等國同樣享有這項特權的原因，與中國與英、法簽定的條約中訂有下列哪一項內容有關？
 (A) 五口通商 (B) 協定關稅 (C) 領事裁判權 (D) 片面最惠國待遇。
- () 30. 清代後期，外國勢力陸續入侵，清廷無力對抗，因此簽下了許多喪權辱國的條約。附表是其中幾個條約和其代表的意義。請問：表中內容何者錯誤？
 (A) 甲 (B) 乙 (C) 丙 (D) 丁。

甲	中英《南京條約》：近代第一個不平等條約
乙	中俄《璦琿條約》：喪失領土最多的條約
丙	中英法《天津條約》：外國勢力深入內陸
丁	中俄《北京條約》：喪失東南的領土

- () 31. 清末中國面臨內憂外患的困境，雖曾欲變法以圖強，但仍無法阻止藩屬的喪失，天朝上國的形象日益崩解，下列藩屬：(甲)朝鮮(乙)琉球(丙)緬甸(丁)越南，依其喪失的時間先後順序排列，何者正確？
 (A) 丁丙乙甲 (B) 乙丁甲丙 (C) 乙丁丙甲 (D) 丁丙甲乙。
- () 32. 自強運動期間，中國喪失了許多藩屬，下列有關侵略國與其侵略的中國藩屬配對，何者正確？
 (A) 法國——琉球 (B) 日本——越南 (C) 英國——緬甸 (D) 俄國——朝鮮。
- () 33. 清朝末年的數場對外戰爭帶給臺灣許多影響，下列史事的配對，何者不正確？
 (A) 鴉片戰爭→臺灣開港 (B) 日軍犯臺→廢除渡臺禁令
 (C) 中法戰爭→臺灣設省 (D) 甲午戰爭→割讓臺、澎。
- () 34. 廷岳就讀外交系，他想了解中國外交史的發展，於是到圖書館翻閱《中國外交史紀要》一書，書中提到：「中國的外交觀念起步較晚，一直到□□以後，才開始設立專門負責外交事務的機構，逐漸建立對等的外交觀念。」請問：□□以後指的是何者？
 (A) 鴉片戰爭 (B) 英法聯軍 (C) 甲午戰爭 (D) 中法戰爭。
- () 35. 永泉到北京大學參觀，聽到校長介紹道：「北京大學的前身是京師大師堂，歷史相當悠久，自清末成立以來，一直是中國的學術重鎮之一，培養了許多優秀的知識分子。」請問：北京大學的成立最早可追溯至何時？
 (A) 道光年間 (B) 咸豐年間 (C) 同治年間 (D) 光緒年間。
- () 36. 嘉軒看著一本描寫中國歷史改革的書籍，上面寫著咸豐年間推行的自強運動是因為當時面臨了內憂外患所興起的。書上所寫的「內憂」、「外患」分別所指為何？
 (A) 太平天國之亂、鴉片戰爭 (B) 太平天國之亂、英法聯軍
 (C) 義和團之亂、鴉片戰爭 (D) 義和團之亂、甲午戰爭。
- () 37. 旅行團來到中國某座城市，當地導遊介紹：「這個城市，歷史上已經被無數的政權當作國都了！可說是風水寶地，包括洪秀全所成立的太平天國也是定都於此……。」請問：旅行團所到之處為何？
 (A) 北京 (B) 南京 (C) 成都 (D) 武昌。
- () 38. 俊芳看到有篇介紹某位清末歷史人物的文章，其中敘述：「他與一批有志之士上書請願，鼓吹政治革新的理念，主張維新變法。後來，他得到皇帝支持，開始推動政治改革，但因守舊派發動政變，推翻改革，他只好逃亡海外。」根據以上的敘述，這篇文章介紹的歷史人物應是下列何人？
 (A) 曾國藩 (B) 李鴻章 (C) 康有為 (D) 洪秀全。
- () 39. 清末，中國在鴉片戰爭中戰敗，與英國簽訂《南京條約》及其續約，這對日後歷史發展造成何種影響？
 (A) 喪失司法財政的自主權，中國對外限於不平等地位 (B) 中國割讓東北大片土地，使俄國日後便於南下侵華
 (C) 開放各國在華設廠製造，抑制中國民族工業的成長 (D) 准許外國在北京附近駐兵，導致中國國防門戶洞開
- () 40. 戊戌變法的重要特色之一，在於包含政治與教育層面的改革。請問：(甲)公費留學制度 (乙)設同文館 (丙)廢除八股文 (丁)設京師大學堂，上列哪些為戊戌變法在教育方面的新措施？
 (A) 甲乙 (B) 甲丁 (C) 乙丙 (D) 丙丁。

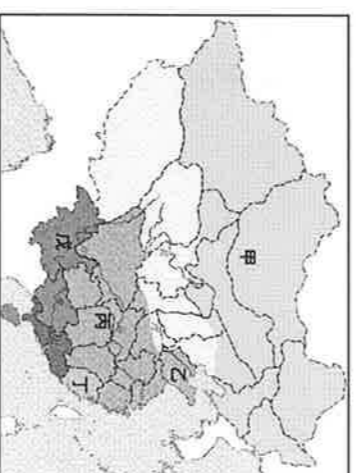
二、題組題：每題2分，共20分

(一)清末以來，面對列強的衝擊與壓迫，發生了下列的對外戰爭：(甲)中法戰爭(乙)甲午戰爭(丙)鴉片戰爭(丁)英法聯軍
請依代號回答下列問題：

- () 41. 俄國可以自由出入北太平洋，主要得利於哪一場戰爭？ (A)甲 (B)乙 (C)丙 (D)丁。
() 42. 越南、緬甸受到西方列強的侵占，與哪一場戰爭有關？ (A)甲 (B)乙 (C)丙 (D)丁。
() 43. 下列哪一場戰爭曾經攻入清朝首都北京，並導致號稱「萬園之園」的圓明園付之一炬？
(A)甲 (B)乙 (C)丙 (D)丁。
() 44. 戊戌變法是受到哪一場戰爭的刺激而興起？ (A)甲 (B)乙 (C)丙 (D)丁。

(二)附圖分為五個地區，由甲至戊表示，請回答下列問題：

- () 45. 清末，法國、德國、日本在中國所畫分的勢力範圍，依序為何？
(A)戊、丁、丙 (B)戊、乙、丁 (C)甲、丁、丙 (D)丙、乙、丁。
() 46. 在中國面臨被列強瓜分的危機時，下列哪一國家為求在華經濟利益均等，不願列強壟斷中國市場，乃提出了「門戶開放政策」？
(A)英國 (B)法國 (C)美國 (D)德國。



(三) 有一本討論中國近代化過程的書上寫著：「我們不要忘記，自強運動是19世紀60年代開始的。鴉片戰爭的年代是西元1840年，鴉片戰後，魏源寫《海國圖志》，就已經提出『學習外人長處以對抗外人』的口號，但當時清政府一直沒有採取新的政策來應付新的局面。蔣廷黈先生在他寫的《中國近代史大綱》裡說：『民族喪失二十年的光陰。』」
請問：

- () 47. 根據上文，蔣廷黈所說「民族喪失二十年光陰」的主要意義為何？
(A)當時知識分子反抗西方侵略，人才大量犧牲 (B)鴉片戰後滿清仍以天朝自居，延誤改革時機
(C)鴉片戰爭發生，中止了魏源籌畫的改革工作 (D)滿清致力發展對外關係，無暇進行內部變革。
() 48. 關於這一場運了二十年的自強運動，下列敘述何者正確？
(A)設總理各國事務衙門與同文館等單位，顯示清廷有改革制度的決心
(B)重視民生經濟更甚於軍事國防，導致軍隊實力不足，對外戰爭失利
(C)全盤學習西方制度，捨棄傳統中國文化，招致批評，因此成效不佳
(D)過分偏重軍火武器的模仿，欠缺對西方事物的整體了解，成果有限。
() 49. 下列哪一項史事最接近文中所提「學習外人長處以對抗外人」的主張？
(A)洪秀全擷取西方基督教思想，創立太平天國
(B)取消赴美留學政策，避免學童數典忘祖
(C)李鴻章引進西式武器，培訓人才與列強競爭
(D)開辦京師大學堂，強調教授傳統儒家典籍。
() 50. 自強運動學習洋務，雖使中國得以進步，但卻無法達到富國強兵的真正目標。哪場事件證明了自強運動的改革仍有許多不足之處？ (A)英法聯軍 (B)日軍侵臺 (C)中法戰爭 (D)甲午戰爭。

【試題結束】