

請讀完下文才開始作答

1. 本試題共計二張四面，交卷時只須交答案卡。
2. 每題都有 A、B、C、D 四個選項，其中只有一個是正確的，請將正確答案選出。
3. 作答時必須使用 2B 黑色鉛筆，將正確答案劃記在答案卡上，否則不予計分。
4. 答案卡上劃記必須正確，答案塗改須擦拭乾淨，若劃記錯誤或不清楚影響電腦讀卡判讀，將不予計分。
5. 本試題卷分為：一、單選題，第 1~35 題，每題 2 分，共 70 分；二、題組題，第 36~50 題，每題 2 分，共 30 分。

一、單選題：每題 2 分，共 70 分

- () 1. 「分合」一詞可以概括魏晉南北朝三百七十年的政治發展，請問：「魏晉南北朝」時代的「魏」，指的是下列何者？
(A)三國時期的曹魏 (B)拓跋氏的北魏 (C)南北朝時期的東魏 (D)南北朝時期的西魏。
- () 2. 若以關鍵人物來代表魏晉南北朝歷史的開始與結束，下列哪一組人物最為適合？
(A)曹操、司馬炎 (B)曹丕、楊堅 (C)司馬炎、楊堅 (D)曹丕、司馬炎。
- () 3. 阿宏在歷史漫畫書中看到圖(一)的漫畫，依據漫畫內容判斷，高坐在上的君主，應該是哪一個胡族的領袖？ (A)鮮卑 (B)氐 (C)羌 (D)匈奴。
- () 4. 下列有關五胡十六國的敘述，何者正確？
(A)北方在永嘉之禍後，陷入各國並立的五胡十六國混亂局面
(B)五胡指匈奴、鮮卑、突厥、氐、羌等五個邊疆民族
(C)十六國則是指五胡與漢人在長江流域建立的十六個國家
(D)匈奴建立的北魏曾短暫的統一北方。
- () 5. 阿明是魏晉時期的讀書人，他最有可能表現出下列何種行為？
(A)憂國憂民，以天下為己任 (B)超脫現實，高談哲理 (C)精通五經，弘揚儒學 (D)重視名譽，謹守禮法。
- () 6. 魏晉南北朝時有所謂的「六朝」，請問：「六朝」的首都是設置於今日的何處？
(A)西安 (B)洛陽 (C)南京 (D)北京。
- () 7. 李生是生活於西元七世紀的長安人，當時他所居住的長安城，應該會有什麼樣的城市風貌？
(A)國家以道教為國教，城中未見佛寺 (B)街道呈棋盤狀設計，市場集中管理
(C)街上行人男女分道，謹守禮儀分際 (D)城中設有市舶司，負責與胡商交易。
- () 8. 魏晉南北朝時期，世族在動盪不安的環境中，仍然維持崇高的社會地位，不受政局變動所影響。請問：哪一因素是造成上述現象的主要原因？
(A)皇帝罷黜百家，獨尊儒術 (B)朝廷舉薦孝廉的對象僅限世族
(C)九品官人法的實施，人才評選重視家世 (D)世族在科舉考試中享有特殊待遇。
- () 9. 在魏晉南北朝時期，許多士人為逃避現實政治的黑暗，開始流行清談。其所談論的「三玄」不包括下列何者？
(A)《老子》 (B)《孟子》 (C)《莊子》 (D)《易經》。
- () 10. 某份歷史報告中，有如下的記載：(一)知人善任、以古鑑今(二)兼容並蓄、四夷來朝(三)天可汗的世界。根據以上提示判斷，寫的是有關下列哪位帝王的事蹟？
(A)隋文帝 (B)唐高祖 (C)唐太宗 (D)唐玄宗。
- () 11. 有關「安史之亂」造成的影響，下列敘述何者有誤？
(A)使唐朝國勢由盛轉衰 (B)使江南經濟遭受破壞
(C)埋下宦官干政與藩鎮割據的禍根 (D)叛軍領袖是安祿山與史思明。
- () 12. 西元 7 世紀的哪一史事，使當時的中國成為東亞地區的盟主？
(A)唐太宗時擊滅東突厥 (B)李淵建立唐朝 (C)平定安史之亂 (D)怛羅斯之役。
- () 13. 西晉建國後，發生一件骨肉相殘的亂事，戰亂綿延十六年之久，使得晉室元氣大傷，根基動搖，加速西晉走向滅亡。請問：此一亂事為下列何者？ (A)永嘉之禍 (B)黃巾之亂 (C)八王之亂 (D)管蔡之亂。
- () 14. 史書評論此人為「治世之能臣，亂世之奸雄」，他挾天子以令諸侯，率先得到政治上的優勢，逐步在北方征討，確立起中國北方的霸主地位。請問這個人是誰？ (A)司馬炎 (B)劉備 (C)曹操 (D)孫權。
- () 15. 在中國歷史上，下列何人取得政權的方式與其他三人不同？
(A)劉裕 (B)司馬睿 (C)楊堅 (D)朱溫。



圖(一)

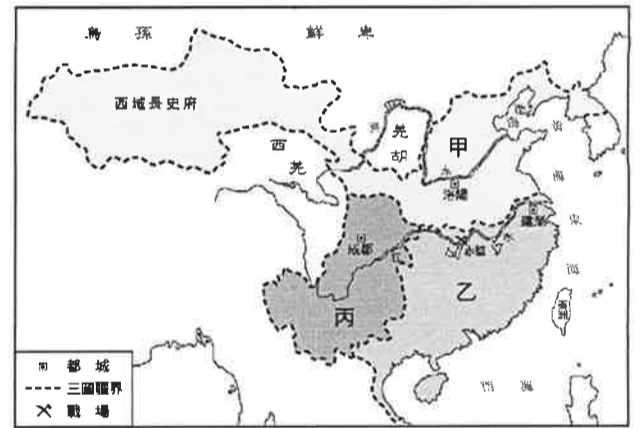
- ()16. 唐太宗是歷史上有名的一代英主，但是他的奪位過程，是一場骨肉相殘的血腥政變，此政變指的是下列何者？
 (A)黃巢之亂 (B)玄武門之變 (C)安史之亂 (D)黃巾之亂。
- ()17. 關於隋唐兩代國君政績的敘述，下列敘述何者正確？
 (A)隋文帝整飭吏治，改革政制，開創了貞觀之治
 (B)武則天即位後重視科舉，拔擢人才，使唐朝的政治盛況得以持續發展
 (C)唐太宗重用賢臣，虛心接受諫言，締造開元之治
 (D)唐玄宗勵精圖治、任用賢能，曾締造開皇之治。
- ()18. 「袁紹，字本初，豫州汝南汝陽人，自其高祖袁安擔任司徒算起，共有四世高居三公之位，史稱『汝南袁氏門生故吏滿天下』。」袁氏在東漢末年為一全國知名的世家大族，由此推測，袁氏極有可能精通漢代盛行的哪一門學術？ (A)經學 (B)玄學 (C)佛學 (D)道學。
- ()19. 古語有云：「富不過三代」，隋文帝生性節儉，勤政愛民，在位期間國家相當富庶，但是隋代卻在史上曇花一現，僅維持三十八年的國祚。關於造成隋代國祚不長的因素，下列敘述何者正確？
 (A)隋文帝施行暴政 (B)三征大食耗損國力 (C)北方匈奴入侵滅隋 (D)人民飽受重役之苦。
- ()20. 附表是唐代某地區人口統計表，從時間上判斷，當時發生何事，影響人口大幅度的變遷？
- | 年號 | 西元 | 人口數 |
|-------|-------|----------|
| 天寶十四年 | 755 年 | 約 5291 萬 |
| 上元元年 | 760 年 | 約 1699 萬 |
- (A)外族入侵 (B)宗室之亂 (C)邊將叛亂 (D)飢民作亂。
- ()21. 唐朝時，文成公主與「吐蕃」和親，帶入糧食種子和各式工匠，促進唐文化的西傳。請問：上文中的「吐蕃」是指下列何地？
 (A)今日的新疆 (B)今日的西藏 (C)今日的印度 (D)今日的土耳其。
- ()22. 中國歷代非常注重人才的提拔，而九品官人法的實施導致了「上品無寒門，下品無世族」這種社會現象的出現。請問：此制度的實施與結束分別是在哪個朝代？
 (A)曹魏、唐代 (B)南北朝、隋代 (C)秦代、隋代 (D)曹魏、隋代。
- ()23. 綜觀中國歷代政府遷都的原因很多，其中北魏孝文帝將首都從平城遷到洛陽，主要是基於何種考量？
 (A)方便抵抗外患 (B)有效消弭內亂 (C)物產資源較豐 (D)便於文化融合。
- ()24. 造紙術為早期中國西傳的科技之一，此一科技傳入歐洲後，促成歐洲古典文明的復興及近代文明的產生。請問：造紙術的西傳與下列哪一史事有關？
 (A)滅東突厥 (B)安史之亂 (C)怛羅斯之役 (D)黃巢之亂。
- ()25. 六朝政局是分裂、偏安的，但肯定六朝的歷史地位，是古今一些史學家的共識。請問：六朝有何貢獻？
 (A)罷黜百家，確立儒家的獨尊地位 (B)擊敗周邊強鄰，成為東亞的國際中心
 (C)促進中國經濟、文化重心的南移 (D)大批中原人士北遷，有助黃河流域的開發。
- ()26. 南北朝時期，哪兩個朝代都曾統一中國的北方？
 (A)北魏、北齊 (B)東魏、西魏 (C)北魏、北周 (D)北齊、北周。
- ()27. 中國歷史上唯一的女皇帝是下列何人？
 (A)武則天 (B)文成公主 (C)慈禧太后 (D)楊貴妃。
- ()28. 道教是中國人的主要信仰之一，關於道教的敘述，下列何者錯誤？
 (A)道教是源於中國的宗教 (B)道教等同於道家
 (C)約於東漢末年興起 (D)在魏晉南北朝時代，有相當的發展。
- ()29. 請將下列唐代史事：(甲)開元之治(乙)黃巢之亂(丙)安史之亂(丁)貞觀之治，按照時間先後排列，下列何者是正確的？ (A)甲乙丙丁 (B)乙丙甲丁 (C)丁甲乙丙 (D)丁甲丙乙。
- ()30. 阿宏在歷史課堂上聽到老師評價某一位人物時提到「大興宮殿，苛虐人民；發動戰爭，耗損國力；巡幸江南，貪圖逸樂，終於落得被部屬所殺的下場。」請問：這應是對哪一位人物的評語？
 (A)隋煬帝 (B)唐太宗 (C)武則天 (D)安祿山。
- ()31. 隋唐時代，由於國勢強盛、國際貿易發達，因此其文化外來的成分不少，尤其表現在宗教方面。下列何者「並非」當時傳入中國的宗教？
 (A)佛教 (B)景教 (C)摩尼教 (D)伊斯蘭教。

- ()32. 佛教是中國重要的宗教之一，回顧佛教在中國歷史上的發展，請問：下列敘述何者不正確？
- (A)佛教於西漢末年從西域傳入中國
 (B)中國第一座佛寺是東漢時興建於長安的白馬寺
 (C)魏晉南北朝時佛教盛行，跟佛教有關的石窟藝術大放異彩
 (D)隋唐時期佛教結合中國思想文化，轉為中國化的佛教。
- ()33. 唐代的文化成就極高，不論是文學、書法、工藝等方面的發展都有傲人成就。下列有關唐代文化的敘述，何者是正確的？
- (A)唐代科舉以明經科特別受到重視，而考試重視詩賦，助長了唐代文風鼎盛
 (B)唐代書法名家顏真卿、柳公權兩人的隸書為後世摹寫的典範
 (C)唐代的文學主流是「詩」，有「詩仙」之稱的是杜甫
 (D)唐代的工藝創作方面，唐三彩充分顯示胡漢融合的風格。
- ()34. 隋唐時期，中外文化交流興盛，請問：下列敘述何者正確？
- (A)朝鮮半島各國以高麗最仰慕中國文化，有「君子國」之稱
 (B)日本孝德天皇於7世紀中葉推行「明治維新」，是一次大規模的唐化運動
 (C)隋文帝時，高僧玄奘前往天竺取經，回國後致力翻譯佛經，對中國佛教的發展貢獻良多
 (D)唐太宗時，文成公主與吐蕃和親，有助於雙方文化交流和佛教思想的傳布。
- ()35. 歷史學者曾評論唐代是「中國最具世界主義色彩的朝代」，下列哪項敘述最能表現這樣的特點？
- (A)當時摩尼教、伊斯蘭教及佛教等宗教傳入中國
 (B)胡樂、胡食等初傳入時，並不受長安人民喜愛
 (C)中西接觸頻繁，使中國造紙術等文物傳入西方
 (D)唐代國力鼎盛，主動派遣使節至日本、新羅等國傳遞唐文化。

二、題組題：每題2分，共30分

(一)中國政治的發展經歷許多分合的過程，附圖為三國形勢圖。請問：

- ()36. 下列何者是造成三國鼎立局面的關鍵戰役？
- (A)黃巾之亂 (B)官渡之戰 (C)赤壁之戰 (D)淝水之戰。
- ()37. 三國滅亡的先後順序為何？
- (A)甲乙丙 (B)丙乙甲 (C)丙甲乙 (D)乙丙甲。
- ()38. 結束三國鼎立，重新統一天下的是下列哪一個朝代？
- (A)曹魏 (B)西晉 (C)東晉 (D)北魏。

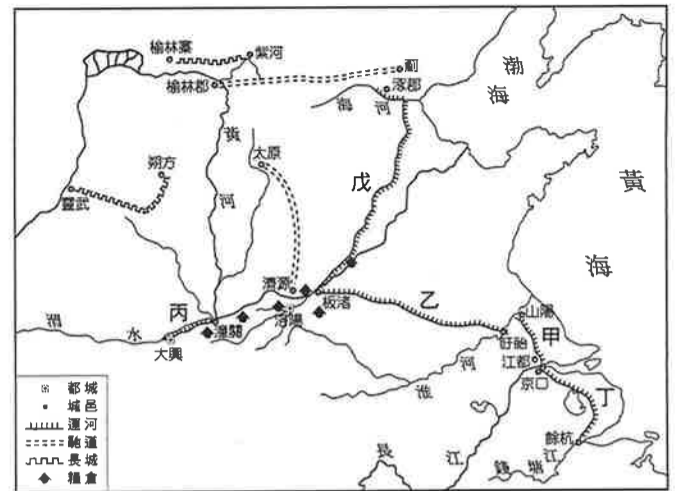


(二)中國詩歌的發展到了唐朝達於鼎盛，詩中常透露作者對於當代社會的觀察，請根據史實回答下列問題。

- ()39. 白居易的長恨歌：「……楊家有女初長成，養在深閨人未識。天生麗質難自棄，一朝選在君王側。回眸一笑百媚生，六宮粉黛無顏色……。」詩中女主角受到皇帝寵愛，無奈兩人在「安史之亂」時，面臨生離死別。上述皇帝指的是誰？ (A)唐高祖 (B)唐太宗 (C)唐高宗 (D)唐玄宗。
- ()40. 唐朝劉禹錫詩：「朱鵲橋邊野草花，烏衣巷口夕陽斜，舊時王謝堂前燕，飛入尋常百姓家。」請問：類似王、謝這些世家大族的沒落，除與政治上的動亂有關，亦與下列哪一項制度的廢除有關？
- (A)封建制度 (B)孝廉選官 (C)科舉制度 (D)九品官人法。
- ()41. 唐末時，黃巢在考場失意後寫下了詩作《不第後賦菊》，最後二句詩句：「……沖天香陣透長安，滿城盡帶黃金甲」，成為他想要取唐朝而代之的暗喻。隨後，他發動一場驚天動地的叛亂，此叛亂為唐帝國帶來何種影響？
- (A)烽火遍及大江南北，江南經濟遭受嚴重破壞
 (B)唐帝國開始由盛轉衰
 (C)造成宦官亂政及藩鎮割據的局面
 (D)攻陷洛陽、長安，唐朝因此滅亡。

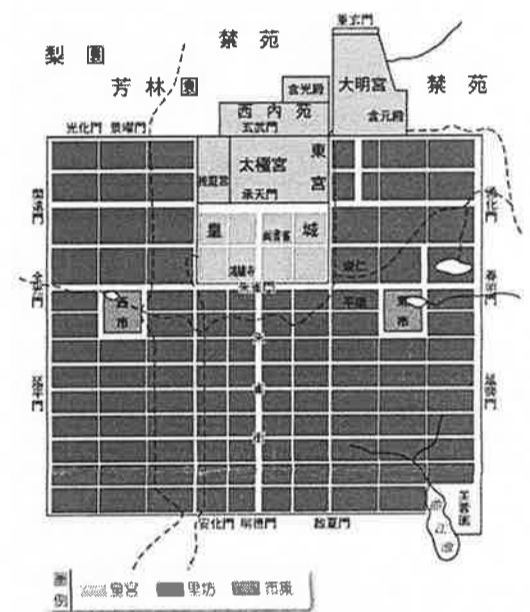
(三)隋朝修築的運河成為日後唐宋帝國的經濟命脈，附圖為隋代運河圖，請依附圖回答下列問題：

- ()42. 為了方便糧食的運輸，隋文帝大興土木開鑿哪一條運河？
 (A)乙 (B)丙 (C)丁 (D)戊。
- ()43. 隋煬帝為征討高麗，曾修築哪一條運河？
 (A)乙 (B)丙 (C)丁 (D)戊。
- ()44. 隋煬帝要從大興到江都遊玩，不須經過下列哪一條運河？
 (A)江南河 (B)通濟渠 (C)邗溝 (D)廣通渠。



(四)右圖是唐代長安城的平面圖，請參考圖片內容回答下列問題：

- ()45. 長安城的格局規畫整齊，道路平整筆直、四通八達，形成早期都城建立的典範。這種方整的格局稱為什麼？
 (A)棋盤式格局 (B)輻射狀格局 (C)雙中心格局 (D)等高線狀格局。
- ()46. 隋唐時代的人民進行交易時必須受到時間、地點等諸多限制，無法自由設立攤位，也無法隨意進行買賣。這是受到哪項政策影響所致？
 (A)邊境貿易 (B)坊市合一 (C)坊市分離 (D)市舶司貿易。
- ()47. 中唐以後，人們若覺得交易時攜帶銅錢不便，可以先將銅錢加以兌換，需要使用時再換回銅錢即可，這種兌換錢幣的制度稱為什麼？
 (A)飛錢 (B)會子 (C)交子 (D)寶鈔。



(五) 唐代的海上貿易非常發達，與各國船隻的往來非常頻繁。請問：

- ()48. 唐朝時了管理興盛的海路貿易，最先在下列何處設市舶司來加以管理？
 (A)幽州 (B)金陵 (C)泉州 (D)廣州。
- ()49. 承上題，該組織類似於今日政府中的哪一個機關？
 (A)海關 (B)外交部 (C)經濟部 (D)國稅局。
- ()50. 唐代的海上貿易中，與哪一國商人的交易最為頻繁？ (A)天竺 (B)日本 (C)新羅 (D)大食。

【試題結束】