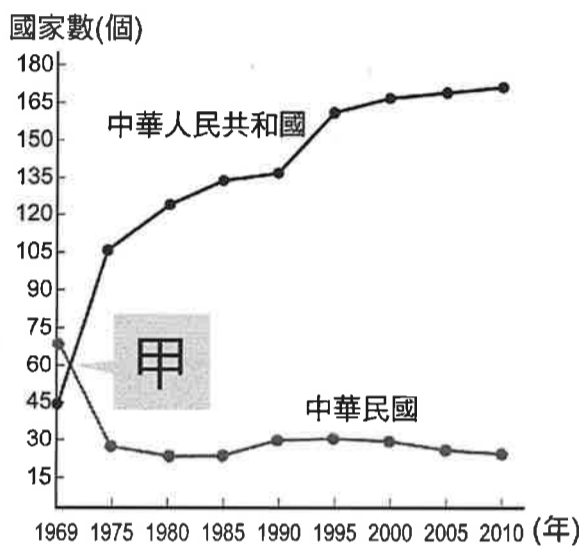


請讀完下文才開始作答：

1. 本學科試題二張三面，交卷時只需交答案卡。
2. 每題都有A、B、C、D四個選項，其中只有一個選項是正確的，請將正確答案選出。
3. 作答時必須使用2B黑色鉛筆，將正確答案劃記在答案卡上，否則不予計分。
4. 答案卡上必須劃記正確，答案塗改須擦拭乾淨，若劃記錯誤或不清楚影響電腦讀卡判讀，將不予計分。
5. 本試題卷只有一部分：一、單一選擇題，1-40題，每題2.5分，共100分。

一、單選題(一題 2.5 分，共 40 題，總分 100 分)

1. () 第二次世界大戰結束後，國民政府遷臺，初期兩岸局勢緊張，但因為哪個事件，促使美國派遣艦隊保衛臺灣海峽安全？ (A)韓戰 (B)越戰 (C)古寧頭戰役 (D)八二三炮戰。
2. () 何事發生使我國外交政策進入彈性外交期？ (A)韓戰爆發 (B)退出聯合國 (C)台美斷交 (D)開放兩岸探親。
3. () 現在許多五、六十歲的人，可能還記得小時候曾穿過印有「中美合作」的麵粉袋所做的內褲。請問：當時美國提供臺灣經濟援助的背景為何？ (A)越戰爆發 (B)美國將臺灣納入西亞防衛體系的一環 (C)美國為防止共產勢力的擴張 (D)台美簽訂台灣關係法。
4. () 附下表一是中華民國與中華人民共和國邦交國變化曲線表。表中兩條曲線相交的甲，發生了何事？ (A)臺灣與美國斷交 (B)韓戰爆發 (C)臺灣退出聯合國 (D)兩岸開始小三通。



表一


5. () 在民國 68 年的臺灣某中學生週記上，「國際要聞」一欄中出現了如下的文句：「美國總統卡特為了己身利益，不顧國際道義，現在最要緊的是靠自己。」請問：他所寫的這件事最有可能是指下列何者？ (A)美國與中共建交 (B)美國參與波斯灣戰爭 (C)美國參加韓戰 (D)美國中途退出二戰。
6. () 《中美共同防禦條約》之簽訂與廢除，分別與哪兩次事件的發生有關？ (A)韓戰、美國與中共建交 (B)八二三炮戰、美國與中共建交 (C)越戰、波斯灣戰爭 (D)韓戰、越戰。
7. () 「不再堅持中華民國是代表中國的唯一合法政府，強調兩岸是處於分裂分治的對等政治實體。」上述這種理念是下列哪個階段的外交政策？ (A)鞏固外交 (B)務實外交 (C)軍事外交 (D)彈性外交。
8. () 呈上題，此外交政策強調臺灣是一個主權獨立的國家，希望藉此確立臺灣的國際地位。請問：此外交政策是由哪一位總統提出的？ (A)蔣中正 (B)蔣經國 (C)李登輝 (D)陳水扁。
9. () 近年來，政府採用何種方式來突破我國的外交困境？ (A)效法北韓發展核子武器 (B)積極拉攏日本和東南亞 (C)製造美國與中共的矛盾 (D)積極參與國際會議，增強經濟實力。
10. () 近兩年，聖多美普林西比、巴拿馬、多明尼加、布吉納法索先後與我國斷交。請問：當前我國面臨的外交困境，主要是受到下列何者的打壓？(A)日本 (B)北韓 (C)俄羅斯 (D)中共。
11. () 西元 1979 年，中共對臺灣開始改變策略，不再直接武力攻擊。請問：當時對岸提出了哪些主張，以吸引臺灣接受統一的要求？ (甲)開放三通四流 (乙)一國兩制 (丙)宣布放棄武力攻臺 (丁)接受臺灣以「中華民國」的名義參加國際組織 (A)甲乙 (B)甲乙丙 (C)乙丁 (D)甲乙丙丁。
12. () 一九七〇年代，中共提出和平統戰政策，而我方以三不政策回應。請問：下列何者不屬於三不政策？ (A)不對抗 (B)不妥協 (C)不接觸 (D)不談判。
13. () 關於中共提出的「三通四流」，下列敘述何者錯誤？ (A)三通是通商、通郵、通航 (B)四流是農業、工業、國防、科技交流 (C)是中共的和平統戰策略 (D)中共宣布放棄武力攻臺。
14. () 修成的爺爺離開故鄉福州已經 40 年左右，一直惦念故鄉的親人是否安好，如今政府政策的改變，終於可以讓爺爺回去探望家鄉的親人。請問：上述與下列哪一事件有關？ (A)政府實施小三通 (B)政府實施大三通 (C)政府解嚴並開放大陸探親 (D)政府宣布終止《動員戡亂時期臨時條款》。

試題尚未結束！

15. () 1993 年，海基會董事長辜振甫與海協會會長汪道涵在何處舉行第一次兩岸之間的會談？ (A)香港 (B)臺北 (C)北京 (D)新加坡。
16. () 自海峽兩岸分治以來，雙方終於首次進行官方最高領導人對談。請問：這是在哪一位總統任內？ (A)李登輝 (B)陳水扁 (C)馬英九 (D)蔡英文。
17. () 中共在民國 38 年、47 年曾兩度企圖以武力進犯臺灣，但最後都因國軍奮力抵抗而未能達到目的。這兩次的戰役都發生在同一地區，此地因而以戰役史蹟聞名。請問：上述以戰役史蹟聞名的地點位於附左下圖二中的何處？ (A)甲 (B)乙 (C)丙 (D)丁。

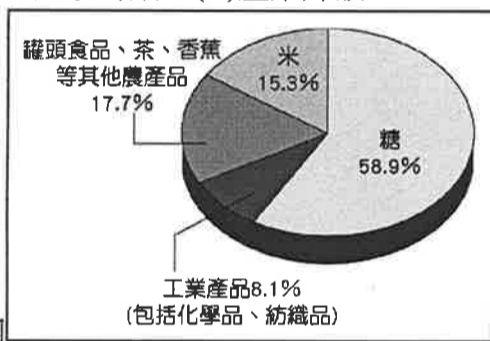


附圖二

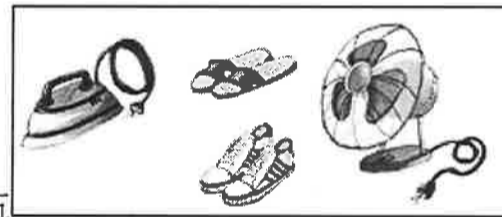


附圖三

18. () 葉修與同學參觀歷史文物展，看到一張特殊的喜帖如右上附圖三，由這張喜帖可以看出當時兩岸關係處於何種情勢？ (A)武力對抗 (B)政治對峙 (C)兩岸交流 (D)一國兩制。
19. () (甲)辜汪會談 (乙)開放大陸探親 (丙)開放大三通 (丁)開放小三通；上列史事，依發生先後順序排列應為下列何者？ (A)甲乙丙丁 (B)乙甲丁丙 (C)丙乙丁甲 (D)丁甲丙乙。
20. () 民國 38 年起，政府推動土地改革，使原本的佃農獲得土地，晉升成為自耕農，進而提高生產意願。請問：自耕農人數大量增加，與哪一策略最為相關？ (A)三七五減租 (B)公地放領 (C)農地重劃 (D)耕者有其田。
21. () 臺灣光復後，實施多項土地改革，包括：(甲)公地放領 (乙)耕者有其田 (丙)三七五減租。如果依照推行時間順序排列，下列何者是正確的？ (A)甲丙乙 (B)乙甲丙 (C)丙甲乙 (D)丙乙甲。
22. () 左下附圖四是臺灣某一時期的各項出口產品所占的比例，這應該是哪個時期的比例圖？ (A)進口替代 (B)出口導向 (C)十大建設時期 (D)產業升級。



附圖四

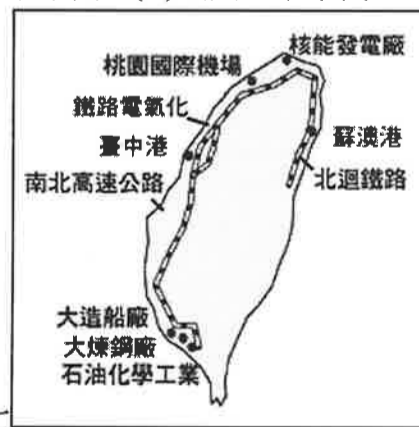


附圖五

23. () 右上附圖五是民國五十年代時，我國所外銷的家電和日常用品。這個時期的海外貿易之所以興盛的原因，與政府當時採取下列哪個經濟政策有關？ (A)土地改革 (B)進口替代 (C)出口導向 (D)發展重化工業。
24. () 政府設立加工出口區，提供完善的投資環境，吸引外商與華僑來臺投資，並給予區內廠商進口原料免稅等許多優惠，帶動哪種企業蓬勃發展，使對外貿易持續成長？ (A)大型企業 (B)國營企業 (C)中小企業 (D)外商企業。
25. () 歡歡從舊雜誌上看到如左下附圖六「高雄加工出口區」的圖片。請問：加工出口區的設置，始自下列哪個時期的經濟建設？ (A)民國四十年代 (B)民國五十年代 (C)民國六十年代 (D)民國七十年代。



附圖六

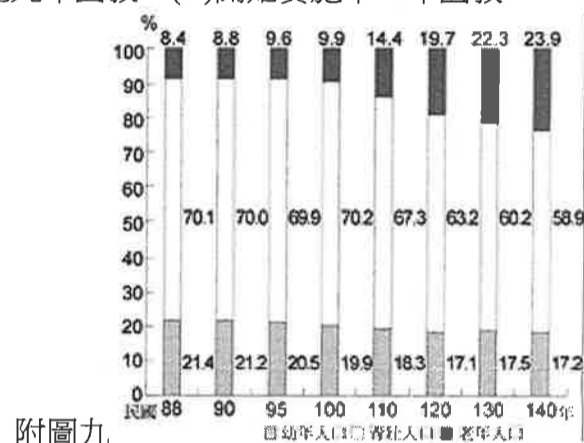
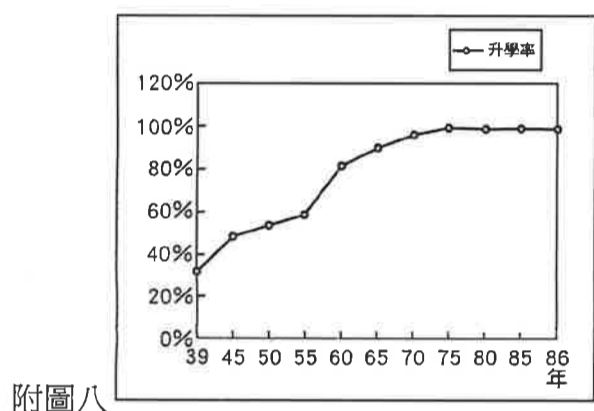


附圖七

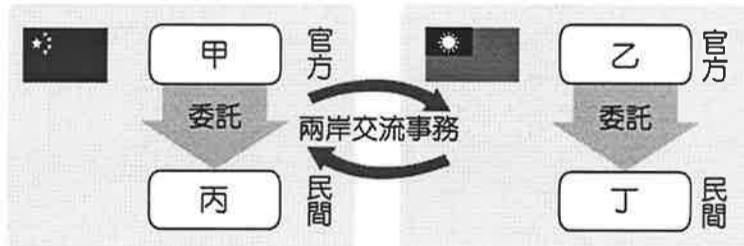
26. () 右上附圖七是十大建設圖，從圖中內容可知哪方面的建設所占比例最高？ (A)軍事建設 (B)重工業 (C)能源建設 (D)交通建設。

試題尚未結束！

27. () 民國六十年代初，政府之所以展開十大建設，藉以提高國家競爭力，是為了因應下列何者情況？ (A)經濟大恐慌 (B)退出聯合國 (C)南進基地化 (D)能源危機。
28. () 民國八十年代起，我國積極參與「世界貿易組織」(WTO)，雖會面臨衝擊，但卻有助於達成何項政策目標？ (A)縮短貧富差距 (B)促進經濟自由化和國際化 (C)穩定物價 (D)達到最大國民生產。
29. () 新竹科學工業園區的設立，是代表臺灣的產業發展逐漸轉型到高科技產業，請問此階段的經濟政策為？ (A)出口導向 (B)產業升級 (C)進口替代 (D)十大建設。
30. () 有關目前臺灣的經濟發展方向，下列敘述何者錯誤？ (A)加速發展高科技產業 (B)推動貿易自由化與國際化 (C)使臺灣成為世界經濟體系的據點 (D)強化勞力密集工業，降低失業率。
31. () 某學者想要寫一本《臺灣經濟起飛史》，有如下章節：(甲)渡過世界經濟不景氣的法寶：十大建設 (乙)吸引外商投資的秘技：加工出口區 (丙)安定農民的貼心政策：耕者有其田 (丁)創造世界第一：竹科的誕生。請問：按照這些政策實施的時間，應如何安排章節的先後？ (A)甲乙丁丙 (B)乙丙丁甲 (C)丙乙甲丁 (D)丁丙乙甲。
32. () 有一些老歌的內容可以反映當時臺灣社會所呈現的景況，如閩南語歌曲「孤女的願望」，其歌詞大意描寫一個鄉村女孩想到大都市生活的經過：「請借問播田的田庄阿伯啊，人塊講(人在講)繁華都市，臺北對叨去(往哪去)……阮想要去都市做著女工度日子，也通來安慰自己心內的稀微(孤寂)……。」請問：這首老歌的內容，應該是以下列哪一項臺灣歷史上曾經發生的史事為背景？ (A)工業發展，農村人口外流 (B)光復初期通貨膨脹嚴重，失業率飆高 (C)因中東發生戰爭引發能源危機 (D)外省人來臺後思鄉情切。
33. () 左下附圖八是臺灣國中生升學率百分比圖。請問：自民國五十年代中期以後，國中生升學率大增的原因為何？ (A)開始實施九年一貫 (B)開始推動多元入學 (C)開始實施九年國教 (D)開始實施十二年國教。



34. () 右上附圖九是臺灣地區人口結構的預測圖，由圖中判斷，臺灣未來將會面臨何種問題？ (A)城鄉差距擴大 (B)新住民和國際移工人口增加迅速 (C)男女人口比例擴大 (D)少子化與人口高齡化。
35. () 解嚴後，政府陸續推動多項教育改革方案，其中不包括下列何者？ (A)國語運動 (B)多元入學 (C)九年一貫課程 (D)十二年國教。
36. () 我國政府在民國五十年代，開始推動家庭計畫，其主要目的為下列何者？ (A)為了臺灣邁入高齡社會而實施 (B)為了因應日漸嚴重的少子化問題 (C)為了增加農村勞動人口而推動 (D)為了有效抑制臺灣人口的成長。
37. () 請問下列何種現象不是發生於民國四十、五十年代？ (A)白色恐怖 (B)鄉土文學興起 (C)美國文化流行 (D)推廣國語政策。
38. () 民國六十年代時，生活在臺灣的阿棟不可能有下列何種經歷？ (A)在書店購買黃春明的書《兒子的大玩偶》 (B)從報紙上得知我國退出聯合國，深感悲憤 (C)在高雄參與美麗島事件，被政府逮捕 (D)上街頭參與社會運動，希望政府重視原住民權利。
39. () 民國 34 年，臺灣人口約 600 萬人，至民國 39 年時急遽增加為約 750 萬人。當時人口急遽增加的原因為何？ (A)衛生條件改善 (B)政府遷臺，大量軍民來臺 (C)十大建設後經濟起飛 (D)民 34 年二戰結束，死亡率下降。
40. () 附下圖是兩岸交流事務處理機構的示意圖，根據圖中的內容判斷，圖中的甲、乙、丙、丁應該分別是下列何者？



- (A)國務院臺灣事務辦公室、行政院大陸委員會、海峽兩岸關係協會、海峽交流基金會
 (B)海峽兩岸關係協會、國務院臺灣事務辦公室、海峽交流基金會、行政院大陸委員會
 (C)海峽交流基金會、海峽兩岸關係協會、行政院大陸委員會、國務院臺灣事務辦公室
 (D)行政院大陸委員會、國務院臺灣事務辦公室、海峽交流基金會、海峽兩岸關係協會。

試題結束，謝謝作答！