

桃園市立自強國中一0六學年度第二學期第一次定期考查七年級歷史科試題卷 P. 1

請讀完下文才開始作答：

1. 本學科試題二張三面，交卷時只需交答案卡。
2. 每題都有A、B、C、D四個選項，其中只有一個選項是正確的，請將正確答案選出。
3. 作答時必須使用2B黑色鉛筆，將正確答案劃記在答案卡上，否則不予計分。
4. 答案卡上必須劃記正確，答案塗改須擦拭乾淨，若劃記錯誤或不清楚影響電腦讀卡判讀，將不予計分。
5. 本試題卷只有一部分：一、單一選擇題，1-40題，每題2.5分，共100分。

一、單一選擇題(共40題，一題2.5分，共100分)

1. ()《馬關條約》簽訂後，許多臺灣官民不能接受清廷將臺灣、澎湖割讓給日本的決議，因此選擇如何抗拒日本的接收？ (A)地方保甲與高山族合作抗日 (B)開始皇民化運動，宣誓效忠中國皇帝 (C)發動和平政治社會運動 (D)成立臺灣民主國。
2. ()針對左下圖一「藍地黃虎旗」這幅國旗，下列敘述何者錯誤？ (A)為臺灣民主國的國旗 (B)當時臺灣民眾推舉唐景崧為總統 (C)臺灣民眾推舉丘逢甲為義軍統領 (D)唐景崧退回中國大陸，臺灣民主國瓦解。



圖一




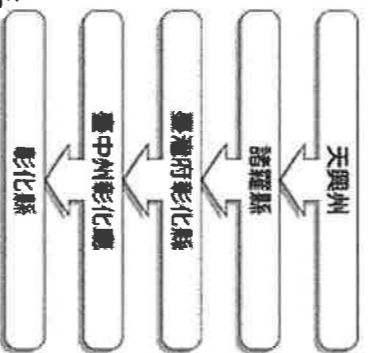
圖二

3. ()右上附圖二是1895年清朝欽差大臣李鴻章與日本首相，雙方於日本簽訂割讓臺灣的條約。請問：此一條約的簽訂是因為下列哪一事件所造成？
(A)牡丹社事件 (B)日俄戰爭 (C)甲午戰爭 (D)中日戰爭。
4. ()20世紀初，臺灣漢人的武裝抗日行動中，下列哪一事件是關鍵之役，此後漢人便轉為以政治社會運動向日本人爭取權益？ (A)西來庵事件 (B)苗栗事件 (C)台灣民主國 (D)霧社事件。
5. ()由魏德聖導演執導的電影《賽德克·巴萊》，描述日治時期臺灣的武裝抗日事件。針對這個事件，下列敘述何者正確？ (A)領導者為余清芳 (B)此事件利用民間宗教信仰召群眾抗日 (C)此事件又稱「噶吧哖事件」 (D)此事件後，日人重新檢討原住民政策，不再以大規模武力鎮壓原住民。
6. () (甲)苗栗事件(乙)台灣民主國(丙)西來庵事件(丁)霧社事件。上述日治時期武裝抗日事件的先後順序為何？ (A)甲乙丙丁 (B)乙甲丙丁 (C)丙丁乙甲 (D)丁乙甲丙。
7. ()日治時期，部分地區的臺民相信以下這段話：「今年乙卯五月，倭賊到臺二十有年已滿，氣數為終，天地不容，神人共怒。我朝大明，國運初興，本帥奉天，舉義討賊，興兵伐罪。大會四海英雄，攻滅倭賊，安良除暴。」因此起事反日。請問此次抗日事件應該發生於何地？ (A)臺北 (B)新竹 (C)臺南 (D)高雄。
8. ()日本統治臺灣後，設立各種行政組織，而此時期地方行政機關的地方長官是如何形成的？ (A)推選 (B)考試 (C)官派 (D)選舉。
9. ()有一個法律，授權臺灣總督可以不經過日本國會同意，而頒布具有法律效力的命令。請問：這個法律為何？ (A)大日本帝國憲法 (B)六三法 (C)三一法 (D)法三號。
10. ()日治時期臺人作家賴和的短篇小說〈一桿稱仔〉中，描述身為佃農後代的秦得參，在製糖會社的剝奪下，租不到田地，不得不轉為菜農，只因「大人」索賄不成，平時賴以維生的稱仔也被折斷，還被以違反度量衡規則入罪，秦得參在遭到種種羞辱後，深感生存的悲哀，乃抱必死的覺悟，選擇與「大人」同歸於盡。請問小說中「大人」身分為下列何者？ (A)保正 (B)甲長 (C)州長 (D)警察。
11. ()下列為日治時期重要建設或政策的年代，何者錯誤？ (A)1905第一次人口普查 (B)1908縱貫鐵路完工 (C)1920嘉南大圳完工 (D)1934日月潭發電所完工。
12. ()日本治臺時期，總督府得以瓦解可能存在的反抗勢力，而且能確實掌握臺灣的戶口，奠定堅實的統治基礎，與下列何者「最」有關係？ (A)《六三法》 (B)日本軍隊 (C)皇民化運動 (D)警察與保甲制度。
13. ()日治時期，臺灣總督府之所以能夠建立堅實的統治基礎，與有效利用保甲組織有關。下列關於臺灣保甲組織的敘述，何者錯誤？ (A)是由日本國內引進的新制度 (B)工作為輔佐警察和地方機關執行公共事務 (C)成員間負連坐責任，鼓勵告密 (D)設有壯丁團負責救災和逮捕抗日份子。
14. ()日本對臺灣的統治被視為「典型的警察政治」，其原因應為下列何者？ (A)警察是地方上最高行政首長 (B)警察可以自行處理地方行政工作 (C)警察掌管行政、立法、司法和軍事大權 (D)地方行政以警察為中心，不少事務都有警察介入。

試題尚未結束！

桃園市立自強國中一0六學年度第二學期第一次定期考查七年級歷史科試題卷 P. 2

15. ()日治時期，總督府提出「內地延長主義」政策。關於內地延長主義政策的敘述，下列何者錯誤？(A)宣稱將臺灣視為日本內地的一部分 (B)改由武官出任臺灣總督 (C)為了安撫臺灣知識分子要求民族自決 (D)臺灣人民仍然受到不平等的待遇。
16. ()下列關於日治時期臺灣「皇民化運動」的介紹，下列何者正確？(A)背景：第一次世界大戰爆發 (B)目的：強化臺灣人對日本的愛國心和犧牲精神 (C)措施：使臺人生活風俗禮儀全面西化 (D)結果：使臺灣人也享有日本國民的權利和義務。
17. ()民族自決思潮對於日本治臺政策有很大的影響。下列關於此一思潮的敘述，何者正確？(A)指各民族有權決定自身民族的事務 (B)日本治臺改採武力鎮壓的方式 (C)由美國總統華盛頓首先提倡 (D)第二次世界大戰後開始風行全球。
18. ()阿華查閱族譜時發現，家族來臺開墾之地所屬的行政區名稱，有如左下附圖一的演變。請問：族譜中紀錄的哪一行政區名稱是處於日治時期？(A)天興州 (B)諸羅縣 (C)臺灣府彰化縣 (D)臺中州彰化廳。



19. ()右上附圖四是1927年上半年臺北市臺、日人每天工資比較表，從表中的數據看來，可知下列何事？(A)台灣童工被剝削，不能就學 (B)臺灣人在就業上受到不平等待遇 (C)臺灣人在就業上以勞工階級為主 (D)臺灣女性勞工遭受不公平待遇。

20. ()某修在圖書館看到一本描寫日治時期的書，內容敘述如下：「總督府規定每月的一、八、十五日，全校都要按時參拜當地神社，學童每日到校後要向天皇肖像行禮，每天朝會升日本國旗後必須遙拜日本皇宮，並遙拜神宮，不准學童講自己的母語，一律要用『國』(日)語交談。社會上也獎勵『國語』，還鼓勵改用日本姓名。」這段文字所敘述的情形是臺灣社會何時的情景？(A)牡丹社事件後 (B)甲午戰爭後 (C)中日戰爭爆發後 (D)明治維新開始後。

21. ()「臺灣總督一方面以武力鎮壓各地的武裝抗日行動，一方面尊重臺灣人民的風俗習慣與社會組織，以拉攏臺灣人民，消除反抗。」以上敘述屬於哪一階段的日本治臺政策？(A)二次世戰日本投降後 (B)無方針主義時期 (C)皇民化運動時期 (D)內地延長主義時期。

22. ()附下表為歷史課堂上同學們所整理的日本統治臺灣分期，請問：哪一列的內容有誤？

項目	前期	中期	後期
(甲)時間	1895~1919年	1919~1937年	1937~1945年
(乙)總督	武官	文官	武官
(丙)政策	內地延長主義	皇民化運動	無方針主義
(丁)背景	殖民初期	民族自決	中日戰爭

(A)甲 (B)乙 (C)丙 (D)丁。

23. ()日本為建立殖民經濟的基礎，於是從事許多基礎建設。下列這些項目中，正確的有哪些？(甲)土地調查(乙)統一貨幣與語言(丙)交通建設(丁)人口普查 (A)甲乙丁 (B)甲乙丙 (C)甲丙丁 (D)乙丙丁。
24. ()修成在《臺灣建築史》中看到某張照片的介紹：「日治初期，為了整頓金融、統一發行貨幣所成立的機構。」請問：此機構的名稱為何？(A)臺灣銀行 (B)總督府 (C)台北州政府 (D)台北帝國大學。
25. ()附下圖是1905年臺灣首次進行的某項調查活動，主要由警察和保甲來進行，這個調查活動的主要目的為何？(A)拓展專賣業務 (B)有效開發森林資源 (C)樹立總督的權威 (D)確實掌握人口實況。



試題尚未結束!

桃園市立自強國中一0六學年度第二學期第一次定期考查七年級歷史科試題卷 P. 3

26. () 依禾在閱讀《臺灣交通建設發展史》這本書，他可能會看到下列何項內容？
 (A) 劉銘傳興築鐵路通車範圍可由台北至新竹 (B) 生活在日治時期可以搭火車來趟環島旅行
 (C) 日治時期總督府決定興建淡水港便利出口 (D) 日治時期總督府整修興建基隆港及高雄港。
27. () 臺灣西部河川多東西流向，造成早期南北陸路交通不便。請問：要到何時，臺灣南北陸路交通開始通行無礙，此種現象獲得改善？ (A) 荷蘭時期的海外貿易 (B) 鄭氏時期的農業拓墾 (C) 清領後期的開港通商 (D) 日治時期的基礎建設。
28. () 日本占領臺灣後，日人為了增加財政收入，曾實施專賣制度，由政府獨占經營。請問：下列哪項物品，被日人列為專賣商品之一？ (A) 鴉片 (B) 茶葉 (C) 甘蔗 (D) 稻米。
29. () 1898年兒玉源太郎與後藤新平分別就任臺灣總督與民政長官後，開始進行日本殖民統治的基礎工程，其主要的目的為何？ (A) 推動臺灣的工業發展，以作為南進的基地 (B) 建設日月潭發電所，作為工業發展的動力 (C) 有利於日本帝國主義對臺灣資源的剝削 (D) 欲透過基礎工程建設，以減少失業人口。
30. () 日治前期，為了利用臺灣的資源，積極展開各項經濟基礎建設。當時日本政府推行何種政策以利其本國的發展？ (A) 工業日本，農業臺灣 (B) 工業臺灣，農業日本 (C) 工業臺灣，工業日本 (D) 工業臺灣，農業南洋。

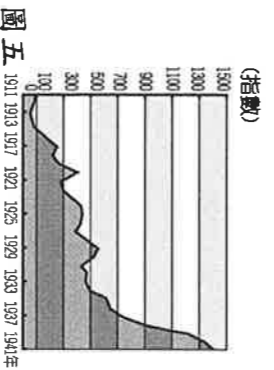
31. () 新渡戶稻造任臺灣總督府殖產局局長時於1901年提出《糖業改良意見書》，被譽為「臺灣糖業之父」。請問：下列哪一項內容最不可能出現在上述意見書當中？ (A) 設置現代化新式糖廠 (B) 使用牛當榨糖的主力 (C) 推廣含糖量高的新品種 (D) 擴大種植面積。

32. () 某一位日本人曾寫下：「我國已不再是糖的進口國，而將立足於出口國的地位。國家之幸，有何可比？」請問：這位日本人所寫的背景為何？ (A) 日本併吞琉球 (B) 日本取得臺灣 (C) 日本佔領朝鮮 (D) 日本侵略中國。

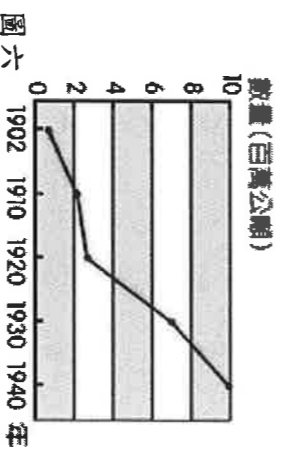
33. () 他是臺灣總督府的技師，他以水利工程專家身分長期獻身臺灣水利工程之調查、設計及建造工作，他倡議以「半水成填充式」的工程法建造烏山頭水庫的大壩，並提倡「三年輪作制」以改良嘉南平原，都順利成功，贏得當時人們的肯定與讚賞。請問：上文中的「他」是指何人？ (A) 八田與一 (B) 磯永吉 (C) 後藤新平 (D) 伊藤博文。

34. () 日治前期，日本為了供應本國的農業需求，因此在臺灣推動了多項農業改革，而這些改革對臺灣所造成的影響為何？ (A) 使蔗糖及稻米成為當時臺灣產業的主體 (B) 台灣發展成半農業半工業的社會 (C) 甘蔗價格高漲，蔗農獲利良多 (D) 因日月潭發電所完工，使製糖產業現代化。

35. () 荳荳在做段考複習時，看到課本上有一張「臺灣輕工業生產指數圖」(如左下附圖五)。請問：圖中在1930年代以後，生產指數大幅上升的原因為何？ (A) 日月潭發電所完工 (B) 縱貫鐵路完工通車 (C) 台灣銀行成立 (D) 嘉南大圳完工。



圖五 1911 1913 1917 1921 1925 1929 1933 1937 1941年



圖六 1902 1910 1920 1930 1940年

36. () 右上附圖六為日治時期臺灣某種農產品生產量的曲線圖。請問：根據圖中曲線顯示，這應該是哪一種農產品？ (A) 橡膠 (B) 蔗糖 (C) 香料 (D) 樟腦。

37. () 阿芮閱讀《臺灣發展簡史》，書中提到西元1920年代以後，臺灣稻米生產量大幅增加。請問：稻米產量大增的原因可能有哪些？(甲)大型水利設施興建(乙)日本企業來臺設廠(丙)引進新的耕作技術(丁)研發新的稻米品種(戊)南進政策的推展 (A) 甲乙丙 (B) 乙丁戊 (C) 甲丙丁 (D) 乙丙丁。

38. () 日本以東南亞為侵略目標，是因為要獲得下列哪些資源？ (A) 軍火、鹿皮 (B) 茶葉、樟腦 (C) 石油、橡膠 (D) 稻米、甘蔗。

39. () 詩詩是苗栗公館人，她很自豪地說，當地有全亞洲最早開採的石油與天然氣，可追溯到清領時期，並在日治時期積極開發。請問：日治時期積極開發石油與天然氣是因應殖民政府的哪一政策？ (A) 工業日本，農業臺灣 (B) 工業臺灣，農業南洋 (C) 土地和林野調查 (D) 總督府專賣制度。

40. () 西元1930年代以後，臺灣總督府在臺灣積極推動工業化，下列何者是其主要的目的？ (A) 使臺灣成為南進的補給基地 (B) 改善臺灣的經濟，提升人民的生活水準 (C) 使臺灣成為日本國內工業零組件的供應地 (D) 有效利用臺灣的資源，促進臺灣工業的發展。

試題結束，謝謝作答！