

桃園市立自強國中一〇六學年度第一學期第一次定期考查七年級歷史科試題卷 P.1

請讀完下文才開始作答：


1. 本學科試題二張四面，交卷時只需交答案卡。
2. 每題都有A、B、C、D四個選項，其中只有一個選項是正確的，請將正確答案選出。
3. 作答時必須使用2B黑色鉛筆，將正確答案劃記在答案卡上，否則不予計分。
4. 答案卡上必須劃記正確，答案塗改須擦拭乾淨，若劃記錯誤或不清楚影響電腦讀卡判讀，將不予計分。
5. 本試題卷只有一部分：一、單一選擇題，1-44題，每題2分，共88分；二、題組，每題2分，共12分。

一、單一選擇題(一題2分，共88分)

- (D) 1. 人類進入新石器時代後，技術上有重大的進步，這些改變使他們對大自然的依賴程度逐漸減少、生活得到改善。關於新石器時代的特色，何者為「非」？
 (A)出現農業 (B)飼養家畜 (C)磨製石器 (D)與外地貿易。
- (C) 2. 附表為修成對臺灣某一史前文化的概略整理。從表中內容判斷，此一史前文化應為下列何者？
 (A)長濱文化 (B)卑南文化 (C)大坌坑文化 (D)十三行文化。

年代	距今 4500 ~ 6500 年
考古遺址	大多分布於北部河口與海岸
文化特徵	出土粗繩紋陶片、石斧等器物。推測居民以狩獵、漁撈、採集維生，可能種植根莖類作物。
重要意義	臺灣新石器時代早期文化的代表


- (C) 3. 臺灣大約在四百多年前從史前時代進入了歷史時代，是因為下列哪一項文明的出現？
 (A)陶器 (B)鐵器 (C)文字 (D)農耕。
- (C) 4. 考古學家在臺東縣長濱鄉發現的長濱文化，被認為是台灣舊石器時代晚期的代表文化。請問：下列何者不是長濱文化的特色？
 (A)打製石器 (B)採集漁獵為生 (C)燒製陶器 (D)已知用火。
- (D) 5. 臺灣經過漫長的石器時代之後，距今約兩千年前，開始進入以使用金屬器為特徵的文化階段，其文化遺址普遍見於臺灣各地，此時除了繼續使用石器和陶器外，也開始使用鐵製工具。請問：下列何者是臺灣金屬器時期的代表遺址？
 (A)大坌坑文化 (B)圓山文化 (C)卑南文化 (D)十三行文化。
- (B) 6. 附圖是一個史前時代文化層，因為不同時期的人類很可能在同一地區活動，所以留下不同的層位遺跡。下列哪一種物品，會放在甲層中？
 (A)形式與中國東南沿海相近的粗繩紋陶 (B)煉鐵爐附近發現的鐵渣 (C)全臺規模最大的貝塚 (D)以打製的方式將石器作成工具。



- (B) 7. 根據地質學家的推測，下列何種遺跡可作為臺北盆地在史前時代曾為湖泊的證明？ (A)八里地區出現生鏽的鐵器碎片 (B)圓山地區出現貝塚 (C)大坌坑遺址發現的陶器碎片 (D)九份的煤礦坑。
- (D) 8. 下圖是某歷史學者整理的出土文物史料。請依時間先後排列出這三種遺址所形成的順序？
 (A)乙甲丙 (B)甲乙丙 (C)丙乙甲 (D)乙丙甲。

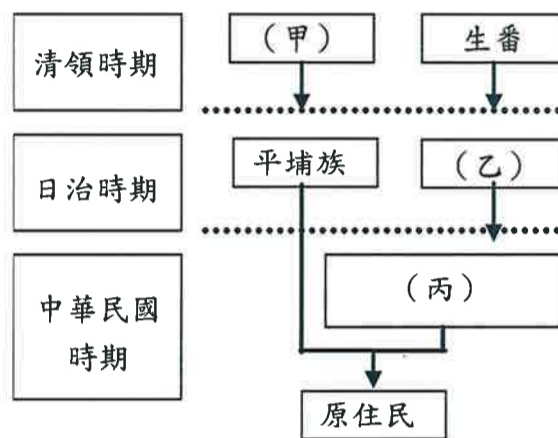
甲遺址－發現少量的碳化穀粒及鐵器做成的器具。
 乙遺址－發現木炭及石片打製成的石器。
 丙遺址－發現黑陶製成的瓶、罐、盆等。

- (D) 9. 下列台灣史前文化遺址，何者位於中部地區？
 (A)大坌坑文化 (B)卑南文化 (C)圓山文化 (D)牛罵頭文化。
- (C) 10. 附圖是博物館展覽時張貼的簡介，由其中資訊判斷，這場展覽應是介紹下列哪一文化？
 (A)長濱文化 (B)圓山文化 (C)卑南文化 (D)十三行文化。

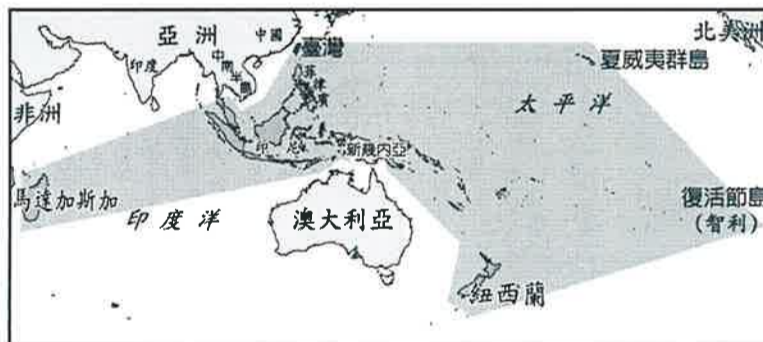
年代	距今3000-2000年間	
發現位置	台灣東部	
生活方式	漁獵、農耕	
文化特色	石板屋、石棺、陪葬玉飾、陶器	
代表器物	人獸形玉質耳飾(如右圖)	

桃園市立自強國中一〇六學年度第一學期第一次定期考查七年級歷史科試題卷 P.2

- (D)11. 臺灣原住民信仰泛靈，相信世上萬物都有靈魂並主宰人的生活，其中以何種神明最受敬畏？
 (A)巫師 (B)王爺 (C)媽祖 (D)祖靈。
- (B)12. 臺灣原住民依其主要生活區域的不同，可分為平埔族和高山族。其中有關平埔族的敘述，下列哪一項正確？
 (A)其漢化的時間較高山族稍晚 (B)早期生活在平原、沿海一帶 (C)大約可分泰雅、布農等十四族
 (D)移入臺灣的時間在漢人之後。
- (A)13. 臺灣的高山族中，並非全住在高山地區，下列哪一族群就是生活在海島？
 (A)達悟族 (B)賽夏族 (C)泰雅族 (D)阿美族。
- (A)14. 下列哪一組臺灣原住民的社會組織是父系社會？
 (A)泰雅族、布農族 (B)阿美族、卑南族 (C)噶瑪蘭族、西拉雅族 (D)凱達格蘭族、道卡斯族。
- (D)15. 洋洋將臺灣史上不同時期對原住民的稱呼，整理成一個表如下。請問：表中(乙)應填入何者？
 (A)熟番 (B)山地同胞 (C)平埔番 (D)高砂族。



- (B)16. 若以社會階級而言，下列哪些原住民族群屬於世代相襲的貴族社會？(甲)阿美族(乙)排灣族(丙)魯凱族(丁)布農族 (A)甲乙 (B)乙丙 (C)丙丁 (D)甲丁。
- (D)17. 有關原住民的經濟生活，下列敘述何者正確？
 (A)主要生產活動是捕魚、農耕與畜牧 (B)生活自給自足，未有任何交易行為 (C)男子負責織布、婦女負責打獵 (D)農業活動主要採游耕方式。
- (C)18. 附圖是南島語族分布圖。請問：根據圖中的分布範圍來看，南島語族分布的最北端應在下列何處？
 (A)日本 (B)中國東南沿海 (C)臺灣 (D)菲律賓。



- (C)19. 「在壺、罐裝上清水，插上草葉，象徵祖靈。祭品以檳榔、米酒等為主。」請問：上述這種「祀壺信仰」是哪一個臺灣原住民族的特色？
 (A)凱達格蘭族 (B)噶瑪蘭族 (C)西拉雅族 (D)達悟族。
- (A)20. 下列有關臺灣各族原住民族與其歲時祭儀、生命禮俗的配對，何者是正確的？
 (A)達悟族—飛魚祭 (B)阿美族—猴祭 (C)布農族—矮靈祭 (D)賽夏族—豐年祭。
- (D)21. 臺灣原住民透過舉行成年禮的儀式，表示個人已跨入了人生新階段，其中泰雅族以下列何種習俗象徵成年？
 (A)出草 (B)猴祭 (C)矮靈祭 (D)紋面。
- (A)22. 1620年代，臺灣今日雲林至嘉義一帶，成為哪些海商的根據地？
 (A)顏思齊、鄭芝龍 (B)顏思齊、沈有容 (C)郭懷一、鄭成功 (D)鄭成功、沈有容。
- (B)23. 12世紀時，已有漢人移居澎湖。13世紀，元代曾在澎湖設立哪一機構，加強治安管理？
 (A)澎湖縣 (B)巡檢司 (C)市舶司 (D)澎湖廳。
- (A)24. 臺灣歷史上的國際競爭時期，介於哪兩個時期之間？
 (A)史前時代、鄭氏時期 (B)鄭氏時期、清領前期 (C)清領前期、清領後期 (D)鄭氏時期、日治時期
- (D)25. 16世紀後，哪一國人稱臺灣為高砂、高山國？ (A)荷蘭人 (B)葡萄牙人 (C)西班牙人 (D)日本人。

桃園市立自強國中一〇六學年度第一學期第一次定期考查七年級歷史科試題卷 P.3

- (B)26. 17世紀，荷蘭人東來亞洲後，佔據台灣，其重要原因是台灣的地理位置有利於轉口貿易。當時荷蘭在亞洲的貿易對象除東南亞之外，主要還包括哪兩個國家？
 (A)朝鮮、中國 (B)中國、日本 (C)俄國、朝鮮 (D)日本、俄國。
- (A)27. 媽祖的信仰在臺灣非常盛行，每逢農曆3月媽祖的生日時，總有大批進香的人潮。請問：如果我們要尋訪臺、澎地區最早的媽祖廟，應該到下列何地？ (A)澎湖 (B)臺南 (C)臺北 (D)鹿港。
- (A)28. 14世紀後期，明朝為防倭寇而施行哪一政策，但不少百姓迫於生計，仍違禁出海，甚至以澎湖為據點，從事亦商亦盜的活動？
 (A)海禁政策 (B)鎖國政策 (C)間接控制政策 (D)種族歧視政策。
- (C)29. 16世紀末葉，中國東南沿海地區的走私貿易和海上劫掠活動為何由澎湖轉移至臺灣本島？
 (A)荷蘭佔領澎湖 (B)澎湖四周不利航海 (C)明朝駐軍澎湖 (D)臺灣本島發現金礦。
- (D)30. 西班牙人治理北台灣受挫，最主要原因為何？ (A)明朝實施海禁政策 (B)荷蘭人招募漢人來台 (C)據點巴達維亞情況不穩 (D)日本實施鎖國政策。
- (B)31. 17世紀初，荷蘭曾企圖占領下列何處，後來為明朝將領沈有容所逼退？
 (A)臺灣 (B)澎湖 (C)金門 (D)馬祖。
- (C)32. 附圖為荷治時期，荷蘭在臺灣的貿易簡圖。請問：圖中的乙是指何處？
 (A)歐洲 (B)朝鮮 (C)日本 (D)英國。



- (A)33. 附圖是17世紀歐洲人在東亞的重要貿易據點分布圖。地理大發現後，葡萄牙人率先向東亞尋找殖民地，在下圖何處建立貿易據點？ (A)甲 (B)乙 (C)丙 (D)丁



- (A)34. 呈上題，請問：圖中乙地和丙地分別是哪兩個國家的貿易據點？
 (A)西班牙、荷蘭 (B)葡萄牙、西班牙 (C)荷蘭、西班牙 (D)英國、法國。
- (B)35. (甲)聖多明哥城(乙)普羅民遮城(丙)熱蘭遮城(丁)紅毛城(戊)聖薩爾瓦多城。請問：上述建築何者為荷蘭人所建？ (A)甲乙丙 (B)乙丙丁 (C)丙丁戊 (D)甲丁戊。
- (A)36. 17世紀時，西班牙占據臺灣北部的目的為何？
 (A)作為與日本貿易的據點 (B)作為與印尼貿易的據點 (C)作為與印度貿易的轉口站 (D)作為向澳門發展的據點。
- (C)37. 依禾利用假日到淡水老街參觀，她除了品嚐當地美味的特產之外，也順道參觀紅毛城，並從解說人員口中得知，淡水地區在17世紀曾受哪些國家的統治？
 (A)葡萄牙、西班牙 (B)荷蘭、葡萄牙 (C)西班牙、荷蘭 (D)葡萄牙、日本。
- (C)38. 小奈研究1640到1653年「荷人在臺財務收支表」後發現，荷蘭聯合東印度公司在臺灣賺取了極大的利潤。請問：他們主要是將臺灣哪些東西外銷以賺取利潤？
 (A)茶葉、樟腦、蔗糖 (B)黃金、香蕉、蔗糖 (C)稻米、蔗糖、鹿皮 (D)豌豆、香蕉、釋迦。
- (A)39. 以下臺灣古今地名的對照，哪些是正確的？(甲)雞籠—基隆(乙)大員—安平(丙)蛤仔難—淡水
 (A)甲乙 (B)乙丙 (C)甲丙 (D)甲乙丙。

桃園市立自強國中一〇六學年度第一學期第一次定期考查七年級歷史科試題卷 P. 4

- (B) 40. 附圖這面旗幟應會在下列何時何地出現？ (A) 1628 年的聖多明哥城 (B) 1650 年的熱蘭遮城 (C) 1600 年的澎湖天后宮 (D) 1900 年的臺灣總督府。



- (A) 41. 有一段文獻：「□是治理臺灣的最高官員。當公司逐漸征服各地原住民後，由公司每年定期在大員召開會議。□於會中除宣達施政措施、要求與會長老效忠外，還授予長老維持村落秩序的權力。」請問：上文中的□，應填入下列何者？
 (A) 臺灣長官 (B) 臺灣總督 (C) 荷蘭國王 (D) 臺灣巡撫。
- (C) 42. 附圖為若白的寒假作業內容，請你幫他找出錯誤的地方？ (A) 甲 (B) 乙 (C) 丙 (D) 丁。

17世紀臺灣曾出現一種拼音文字，這是(甲)荷蘭的傳教士以(乙)羅馬拼音拼寫的(丙)凱達格蘭語文，因此種語言在新港社最盛行，故稱為(丁)新港文。

- (D) 43. 荷蘭、西班牙統治臺灣期間，曾向臺灣的原住民傳教，兩國傳播的宗教分別為何？
 (A) 天主教、基督教 (B) 基督教、伊斯蘭教 (C) 佛教、道教 (D) 基督教、天主教。
- (B) 44. 荷蘭人統治臺灣，除大量生產稻米、甘蔗外，還引進不少新作物。請問：下列哪些作物是荷蘭人引進臺灣的？(甲)豌豆(乙)番茄(丙)馬鈴薯(丁)番薯(戊)釋迦
 (A) 甲乙丙 (B) 甲乙戊 (C) 乙丙丁 (D) 丙丁戊。

二、題組(一題2分，共12分)

1. 林棟生於 1612 年，為福建福州人，在他 30 歲那一年被荷蘭人招募來臺開墾。請問：

- (B) (45) 林棟來到臺灣後可能會有何種遭遇？ (A) 擁有許多私有土地 (B) 辛苦所得大半都繳稅給荷蘭人了
 (C) 與臺灣原住民交易愉快 (D) 在顏思齊的領導下參與抗荷事件。
- (B) (46) 在林棟 50 歲那一年，荷蘭人被逐出臺灣，這是哪一個人的功勞？
 (A) 鄭芝龍 (B) 鄭成功 (C) 郭懷一 (D) 施琅。

2. 清領時期，將臺灣原住民區分成熟番、生番。請根據下圖回答下列問題：



- (B) (47) 清領時期，原住民被分成熟番、生番，主要是根據下列何種原因？
 (A) 文化的高低 (B) 是否納稅、服勞役 (C) 文字的有無 (D) 族群的大小。
- (B) (48) 熟番主要是分布在圖中哪個地區？ (A) 甲 (B) 戊 (C) 己 (D) 癸。
3. 臺灣目前發現多處的史前文化遺址，歷經漫長歲月，皆成為臺灣最珍貴的文化遺產。請問：



- (D) (49) 臺灣目前所發現最早的舊石器時代文化遺址位在圖中何處？ (A) 乙 (B) 丙 (C) 丁 (D) 戊。
- (A) (50) 哪一文化遺址發現煉鐵遺跡，可說是臺灣金屬器文化的代表？ (A) 甲 (B) 乙 (C) 丙 (D) 丁。

題目結束，謝謝作答。