

一、選擇

1. () 小山想搜尋臺灣文化創意產業的相關資訊，他應該上哪個網站找資料呢？ 甲、臺中文化創意產業園區網站；乙、交通部觀光局官網；丙、基隆市政府全球資訊網；丁、文化部文化創意產業推動服務網。
(A)甲乙丙 (B)甲丙丁 (C)乙丙丁 (D)甲乙丙丁。

《答案》D

2. () 小華想利用暑假和家人一起出遊，他可以如何蒐集資料、規畫行程？ 甲、上網搜尋別人的旅遊經驗；乙、從報章雜誌中找尋旅遊文章；丙、詢問親朋好友的相關經驗。
(A)甲乙 (B)甲丙 (C)乙丙 (D)甲乙丙。

《答案》D

3. () 在我們的生活周遭，有什麼事物可以發展出令人印象深刻的在地故事？ 甲、精神象徵的人物；乙、歷史悠久的建築；丙、地方特色的產品。
(A)甲乙 (B)甲丙 (C)乙丙 (D)甲乙丙。

《答案》D

4. () 節慶活動不僅可以聯絡地方居民的感情，也是一種在地文化特色，下列關於各地著名節慶活動的描述，何者不正確？ (A)臺東縣延平鄉的布農族打耳祭 (B)花蓮縣光復鄉的阿美族飛魚祭 (C)宜蘭縣頭城鎮的中元祭搶孤活動 (D)屏東縣東港鎮的王船祭。

《答案》B

詳解：(B)豐年祭。

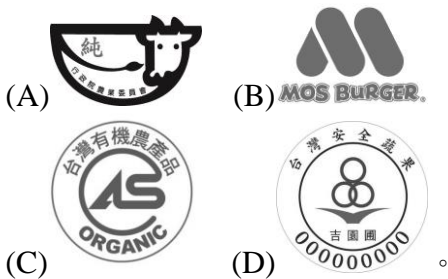
5. () 二年愛班要舉辦一場各地特色珍藏品展覽會，同學們可以如何蒐集與分享相關資料？ 甲、上著名旅遊部落格尋找合適的風景圖片；乙、利用縣市政府網站搜尋在地特色的介紹說明；丙、將聲音或圖像檔案上傳至網路硬碟與同學交換。
(A)甲乙 (B)甲丙 (C)乙丙 (D)甲乙丙。

《答案》D

6. () 小倫想利用週休二日完成一份「地方伴手禮行銷企畫書」，這份企畫書應該包含哪些內容？ 甲、行銷對象；乙、產品商標設計；丙、如何行銷；丁、伴手禮的故事；戊、促銷活動。
(A)甲丙戊 (B)乙丁戊 (C)甲乙丙丁戊 (D)甲乙丙戊。


《答案》C

7. () 產品商標設計是為了加深顧客對產品的印象，代表著企業文化。下列何者屬於商標？



《答案》B

8. () 下列哪一種包裝方式最具有在地文化特色？



(C)



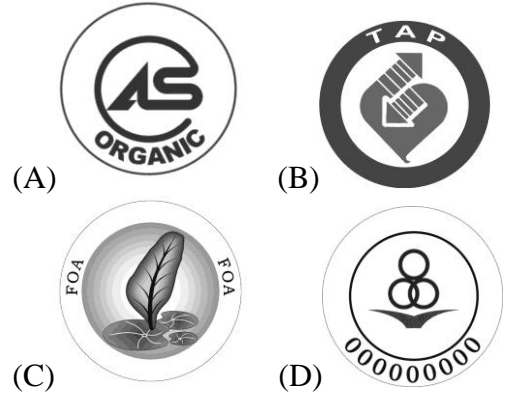
(D)

《答案》B

9. () 小潔和同學一起製作的地方伴手禮，可以透過哪些管道行銷？ 甲、透過人脈或網路進行宣傳、販售；乙、透過試吃、試喝的方式促銷；丙、進行義賣活動，並將獲利捐出，幫助弱勢團體。
(A)甲乙 (B)甲丙 (C)乙丙 (D)甲乙丙。

《答案》D

10. () 臺灣有越來越多的新鮮食材具有產銷履歷農產品標章認證，下列何者為產銷履歷農產品標章？



《答案》B

11. () 下列關於「產銷履歷農產品標章(TAP)」的敘述，何者錯誤？ (A)可確保生產、加工、流通至餐桌的所有產銷過程安全且透明化 (B)選購具有 TAP 標章的農產品，對消費者比較有保障 (C)驗證機構為消費者親赴農民的生產現場，確認農民所記記是否符合所做、所做是否符合規範 (D)代表產品可回收、低汙染、省資源。

《答案》D

12. () 想成功烹調出美味的佳肴，應該掌握什麼要領？ 甲、審慎選用新鮮食材；乙、選擇適當的調味料；丙、具備基本刀工。
(A)甲乙 (B)甲丙 (C)乙丙 (D)甲乙丙。

《答案》D

13. () 小君約好友到家裡玩，約定每人準備一道菜，一起享用豐盛的午餐，下列哪一個人準備的菜肴適合採用「炒」的方式？ (A)小秋：蘿蔔排骨湯 (B)小婷：芹菜花枝 (C)小君：紅燒蹄膀 (D)藍帶豬排。

《答案》B

1. () 在日常生活中，大家常會運用什麼條件判斷他人的性別？ 甲、衣服的顏色及樣式；乙、頭髮的長度；丙、五官長相；丁、講話的聲音。
(A)甲乙丙 (B)甲丙丁 (C)乙丙丁 (D)甲乙丙丁。

《答案》D

2. () 小安認為女生就應該要留著一頭長髮，穿著漂亮的洋裝。請問：這是小安什麼樣的想法？ (A)性別刻板印象 (B)性別特質 (C)性別歧視 (D)性別角色認同。

《答案》A

3. () 我們對於性別的看法多半來自家庭及社會文化的影響，其中，有些觀念可能會造成性別不平等現象。下列哪一個人的想法帶有性別刻板印象？ (A)小華：女生不一定都會比較溫柔，也可以很豪邁 (B)小彥：誰說男生只能打球，也可以玩洋娃娃 (C)小元：男生一定要出外賺錢養家，才是負責任的行

為 (D)小全：搬重物不是男生的專利，也有力氣很大的女生。

《答案》C

4. () 小凡是一位陰柔的男生，喜歡打毛線，將來想要當服裝設計師。我們應該如何看待小凡？ (A)覺得小凡很另類而大驚小怪 (B)勸他更換興趣，如踢足球、玩飛機模型等 (C)模仿小凡的行為舉止 (D)尊重小凡，不拿性別氣質開玩笑。

《答案》D

5. () 面對與性別有關的說詞或事件時，可以採用「停看聽」的思考方式，增加自己對性別問題的覺察能力，所謂的「停」是指什麼？ (A)質疑合理性 (B)試著思考這樣的說詞或情境下，誰會很委屈 (C)暫停一下，開始思考 (D)擺脫性別框架。

《答案》C

6. () 在職場上，雇主的哪一種行為帶有性別歧視？ (A)招募員工時不因性別而有差別待遇 (B)規定女性員工一旦懷孕就必須離職 (C)所有員工享有同樣的福利措施，不分男女 (D)薪水依職員工作內容決定，非關性別。

《答案》B

7. () 上作文課時，老師要大家改寫童話故事，下列哪一位同學的故事結局仍無法跳脫傳統性別刻板印象？ (A)小華：頑皮國的公主不肯聽國王和皇后的話嫁給王子，她只想和自己所愛的人永遠在一起 (B)小莉：被關在高塔中的公主終於等到英勇的王子救她出去 (C)小雲：勇敢的公主拯救了被後母和哥哥欺負的灰王子 (D)小山：白雪公主運用智慧幫爸爸趕走壞皇后。

《答案》B

8. () 若要構築愛情金字塔的完整之愛，需具備哪三種元素？ (A)親密、承諾、經濟 (B)人格、承諾、熱情 (C)親密、承諾、熱情 (D)親密、美感、熱情。

《答案》C

9. () 性別交往時，哪些行為應該要避免？ 甲、替對方設想；乙、以自我為中心；丙、尊重對方的需要；丁、不尊重對方的感受；戊、主導一切，要對方乖乖聽話。 (A)甲丙丁 (B)乙丁戊 (C)乙丙戊 (D)甲乙戊。

《答案》B

10. () 大仁非常喜歡佑青，他不宜透過以下什麼方式表達自己的心意？ (A)在佑青有需要的時候提供幫助 (B)經常和佑青聊天，分享彼此的心情 (C)時常關心佑青，在特別節日送禮物給她 (D)任何事物都聽從佑青。

《答案》D

11. () 尊重「身體自主權」，才是愛的表現。下列哪一位同學沒有善盡身體管理人的義務？ (A)政龍：明確表達自己的想法與意願，保護自己不受侵犯 (B)慈幸：審慎思考評估行為的可能後果 (C)良才：朋友碰觸自己的身體，雖然感到不舒服，卻沒有制止對方 (D)美芬：勇敢做自己，拒絕自己不想做的事。

《答案》C

12. () 下列哪一種表達愛意的方式是合宜、恰當的？ (A)送昂貴的禮物給對方，表達自己非常重視這份情誼 (B)主動關心對方，時時肯定對方的優點及付出 (C)時時刻刻和對方在一起，既可培養感情，又可宣示主權 (D)為對方做任何事，讓自己在對方的生活中占據不可或缺的位置。

《答案》B

13. () 婚前性行為會帶來許多隱憂，有哪些方法可以防止婚前性行為？ 甲、堅守個人身體自主權的界線，不要為了維持關係而妥協；乙、培養多元興趣，計畫創意約會；丙、避免兩人單獨於房間內、黑暗或人跡罕至的地方相處；丁、約會時遠離酒精和毒品，避免接觸色情網站、漫畫、電影及遊戲。 (A)甲乙丙丁 (B)乙丙 (C)甲丁 (D)甲丙丁。

《答案》A

14. () 小英向阿華提出分手後，阿華認為小英背叛他，還口出惡言，放話要小英一個人的時候小心點。阿華的行為屬於分手心態四型中的哪一種？ (A)你好，我不好 (B)你不好，我不好 (C)我好，你不好 (D)我好，你也好。

《答案》C

15. () 君寧的家庭旅行預計至嘉義三天兩夜，她可以參考下列何種地圖？ (A)嘉義縣行政區域圖 (B)嘉義縣地形圖 (C)嘉義縣觀光地圖 (D)阿里山茶園分布圖。

《答案》C

16. () 紙本地圖無法呈現何種資訊？ (A)圖名 (B)圖例 (C)比例尺 (D)路線規畫。

《答案》D

17. () *通常是指何種圖例？ (A)警察局 (B)學校 (C)郵局 (D)美術館。

《答案》B

18. () 電子地圖相較於一般紙本地圖，多了什麼優點？ (A)可提供路徑規畫 (B)電子地圖印刷精美 (C)電子地圖可以在其上做筆記 (D)電子地圖的比例尺最正確。

《答案》A

19. () 定向運動類似何種活動？ (A)風靡歐洲的足球賽 (B)鐵人三項 (C)尋寶遊戲 (D)大地遊戲。

《答案》C

20. () 有關定向活動，何者有誤？ (A)必須具備閱讀地圖的技能 (B)只有童軍才可以參加 (C)定向運動為結合體力與智力的活動 (D)定向運動已經成為世界運動會正式項目之一。

《答案》B

21. () 定向地圖和一般地圖有何不同？ (A)定向地圖可隨時顯示時間 (B)定向地圖可自動規畫路線 (C)定向地圖在旅遊書上常見 (D)定向地圖具有等高線，提供詳盡的地形、地貌。

《答案》D

22. () 在定向地圖中，以何種符號表示起點？ (A)* (B)⊙ (C)△ (D)⇒。

《答案》C

23. () 定向運動的活動方式非常豐富，最常進行的兩種競賽方式為「順點式」及下列何者？ (A)打卡式 (B)奪點式 (C)循環式 (D)積分式。

《答案》D

24. () 定向運動最重要的基本功之一就是「正置地圖」，這種方式如何運用？ (A)置於平坦的光滑面 (B)拇指置於正確位置 (C)讓地圖與地面環境符合，使地圖中的北方標示指向實際的北方 (D)地圖北方標示永遠朝前。

《答案》C

25. () 定向運動中，「拇指輔行法」的目的是為了什麼？ (A)確定自己在圖中的位置 (B)確認北方 (C)確認檢查點 (D)拇指壓在危險路線上，隨時提醒自

己。

《答案》A

26. () 定向運動要訣三是「路向抉擇」，下列何者是正確的路向抉擇方式？ (A)靜雯快速選擇最難的路徑，以奪取高分 (B)宗悅沿途做圖景對照，以確保行進方向及路線正確 (C)筠兒只要迷失路線時就趕緊返回原點 (D)阿吉永遠只走人工路徑，以免迷路。

《答案》B

27. () 各類型的地圖可以提供戶外活動者在陌生環境中找到位置及方向，下列何種地圖易受通訊訊號限制？ (A)風景區地圖 (B)電子地圖 (C)登山地圖 (D)露營區配置圖。

《答案》B