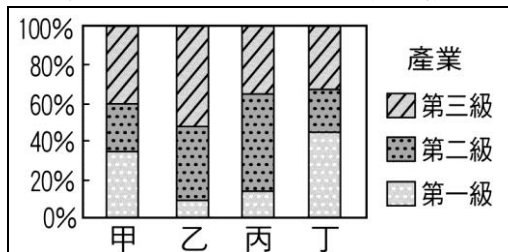


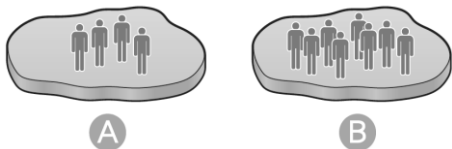
一、地理



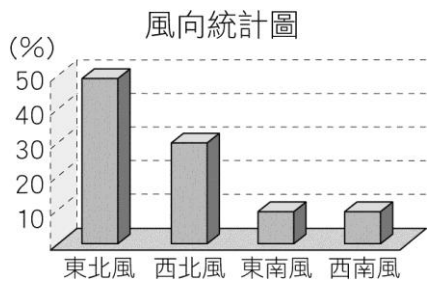
1. ( ) 臺灣的公路依行政系統分為四級，附圖為哪一類公路的專用標誌？ (A)國道 (B)省道 (C)縣道 (D)鄉鎮道路。
2. ( ) 下列何者為桃園市吸引大量人口移入的主要原因之一？ (A)河運交通往來便利 (B)鄰近臺北都會區 (C)具有密集的捷運路網 (D)地處平原地形。
3. ( ) 臺中市的人口密度較雲林縣高出許多，其主要原因為何？ (A)氣候較為溫暖 (B)盆地較廣大 (C)工作機會較多 (D)生育率較高。
4. ( ) 由一國的人口金字塔圖無法推知下列哪項資訊？ (A)人口年齡組成 (B)人口性別組成 (C)經濟發展程度 (D)總人口數。
5. ( ) 都市與鄉村之間雖然有許多不同的特徵，但彼此息息相關，互相依存。請問：關於都市與鄉村之間的關係，下列何者正確？ (A)都市提供糧食給鄉村 (B)都市提供勞力給鄉村 (C)鄉村提供商品、服務給都市 (D)鄉村提供原料給都市。
6. ( ) 下列何者是臺灣北部最重要的國際機場，也是臺灣最大的航空站？ (A)高雄國際航空站(小港機場) (B)臺北國際航空站(松山機場) (C)臺灣桃園國際機場 (D)臺中航空站。
7. ( ) 「煉鋁的方式為電解生成，需大量的電力消耗，因此取得便宜的電力供應，最能有效降低生產成本。」由此研判，煉鋁工廠屬於何種工廠區位？ (A)原料 (B)勞力 (C)動力 (D)市場。
8. ( ) 臺北市因發展快速，人口密度高，且和近郊市鎮結合成都會區，此一事實和下列哪項因素的關係最密切？ (A)市內人口死亡率低 (B)外地人口大量移入 (C)市內人口出生率高 (D)行政區域面積擴大。
9. ( ) 工廠常選擇有利的生產位置，以降低成本。根據上文敘述，麵包工廠應該選擇何種有利的工業區位？ (A)勞力 (B)動力 (C)原料 (D)市場。
10. ( ) 根據統計，臺灣眾多鄉鎮市區的性別比明顯下降，如高雄市楠梓區、基隆市仁愛區與安樂區、新竹市北區等，幾乎每個月都有鄉鎮市的性別比低於 100。由上述可知，這些地區具有何種共同的人口現象？ (A)女性多於男性 (B)老年多於壯年 (C)出生多於死亡 (D)移出多於移入。
11. ( ) 區域發展程度較高的地區，通常具備下列何項特色？ (A)生活環境品質較好 (B)享有的資源相對不足 (C)醫療、教育資源較豐 (D)公共建設與人為開發較為緩慢。
12. ( ) 「□□縣核定自民國 103 年 12 月 25 日起升格為直轄市，正式成為第六都。從基本面來看，此地人口早在西元 2010 年超過 200 萬人，成長幅度更在西元 2012 年超過臺北市；目前此地將定位為『機場城市』，藉由航空城計畫向國際化城市前進。」請問：□□指的是何處？ (A)新竹 (B)桃園 (C)宜蘭 (D)苗栗。
13. ( ) 善美每逢暑假就會到嘉義布袋的外婆家玩，她最喜歡搭觀光漁筏探索沙洲生態，並品嚐外婆做的各種蚵仔料理，如蚵嗲、蚵仔煎、蚵仔麵線等，而這些蚵仔全是她們自己採收的。請問：蚵農採蚵屬於哪一種類型的漁業？ (A)養殖漁業 (B)沿岸漁業 (C)近海漁業 (D)遠洋漁業。
14. ( ) 蔡進來長期觀察臺灣農村的經營方式，發現農民們花許多時間、精力照顧作物，以求最高的收成。此種經營集約度高的現象，應與哪項因素最相關？ (A)農村勞動力老化 (B)耕地面積狹小 (C)農業機械化程度高 (D)氣候暖溼有利生長。
15. ( ) 附圖是四個地區的人口就業結構圖。圖中哪個地區的工商業活動最發達？ (A)甲 (B)乙 (C)丙 (D)丁。



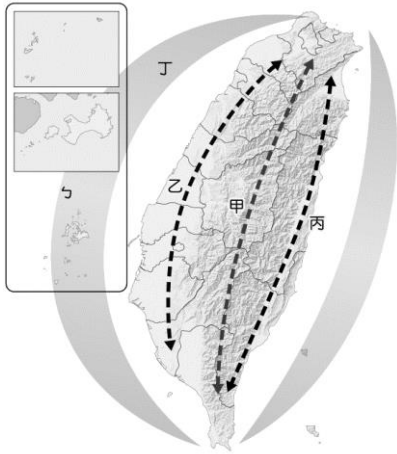
16. ( ) 近年來，臺灣整體的性別比漸趨均衡，可能是受到下列哪些因素影響？ (甲)重男輕女觀念大幅改善 (乙)女性平均壽命較長 (丙)女性外籍配偶人數增加 (丁)男嬰夭折率較高 (A)甲乙 (B)甲丁 (C)乙丙 (D)丙丁。
17. ( ) 若 A、B 兩地的面積大小相同，單就圖中人口數量判斷，顯示兩地有何種人口現象差異？ (A)人口結構 (B)人口素質 (C)人口密度 (D)人口遷移。



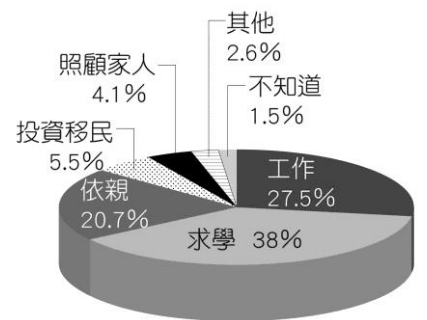
18. ( ) 歐陽一家人居住在雲林縣臺西鄉沿海地區，由於謀生不易，全家決定遷移到工作機會較多的臺中生活。對歐陽一家人而言，他們的遷移較符合下列何種人口現象？ (A)國內遷移、移入地拉力 (B)國際遷移、移出地拉力 (C)國際遷移、移出地推力 (D)國內遷移、移入地推力。
19. ( ) 附圖是臺灣某地一年中主要風向的統計圖。由圖中資料判斷，該地最可能是下列哪個都市？ (A)基隆市 (B)臺中市 (C)嘉義市 (D)臺南市。



20. ( ) 對工業區位的選擇來說，都市所在地的優勢主要不包括下列何者？ (A)勞工多 (B)市場大 (C)交通便利 (D)土地便宜。
21. ( ) 附圖為國土空間結構中，「三軸」、「海環」及「離島」示意圖，甲軸線的發展重心為何？ (A)創意與創新產業發展 (B)樂活、慢活及養生休閒概念融入產業中 (C)生態環境資源的保育 (D)人文及自然環境保全與觀光發展。



22. ( ) 附圖是臺灣僑民前往海外的原因統計圖。就圖中所呈現的比例判斷，僑民前往海外，主要受到國外的何種因素影響？ (A)推力 (B)拉力 (C)中間障礙 (D)政治壓力。



23. ( ) 花蓮、臺東是目前臺灣沒有高速公路的地區，規畫興建的蘇花高速公路，北起蘇澳，南至花蓮縣吉安鄉，但至今各界仍有種種正反面意見；而其中一項原因是因為蘇花高速公路與環島鐵路的哪一段路線重疊性最高？ (A)縱貫線 (B)南迴線 (C)臺東線 (D)北迴線。
24. ( ) 附表為四個地區的人口資料。由表中資料研判，哪一地區人口外移的現象最嚴重？ (A)甲 (B)乙 (C)丙 (D)丁。

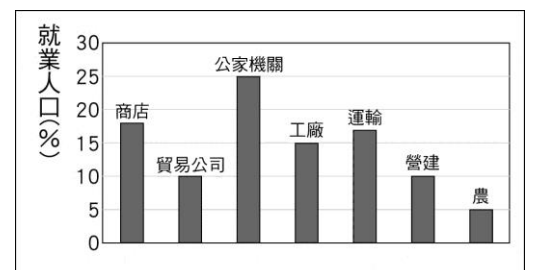
地區	甲	乙	丙	丁
出生率	14	16	25	28
死亡率	12	7	21	25
人口增加率	3	7	8	5

(單位：‰)

25. ( ) 民國 98 年政府決定重劃行政區域，形成「新五都」；民國 103 年底，桃園縣升格為桃園市，成為「第六都」。請問：下列何者為六都縣市合併後可能產生的負面影響？ (A)城鄉間貧富差距加大 (B)跨縣市交通無法整合規畫 (C)大眾運輸服務品質下降 (D)資源無法有效互補。
26. ( ) 臺灣是個水果天堂，令人垂涎的鳳梨釋迦、蘋果芒果、黑金剛蓮霧等農特產品，都是和下列哪項農業經營特色有關？ (A)休閒農業興起 (B)經營集約度高 (C)農業勞力老化 (D)農業技術先進。
27. ( ) 政府在雲林、嘉義、臺南等地設立鄉村工業區，其最主要的目的為何？ (A)勞工雇請較容易 (B)工廠用地較都市便宜 (C)可避免工廠廢棄物污染居住環境 (D)增加鄉村人口的工作機會，減少農村人口外流。
28. ( ) 附表是臺灣本島四大區域的人口比例，由表中數據變化可以得到下列哪項地理事實？ (A)人口漸向各區分散 (B)人口漸向北部集中 (C)人口分布出現兩極化 (D)東部的人口數逐年減少。

	民國 55年	民國 71年	民國 104年
北部	33%	40%	45%
中部	29%	26%	25%
南部	34%	31%	28%
東部	4%	3%	2%

29. ( ) 附圖是快樂市的就業人口比例圖。依圖判斷，快樂市的產業發展具有下列哪種特色？ (A)多屬直接利用或培育自然資源的產業 (B)從事第二級產業的人口比例最高 (C)從事第三級產業的人口數最多 (D)第二、三級產業就業人口合計占 85%。



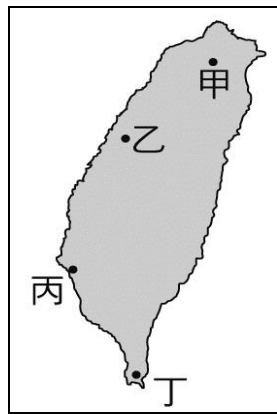
30. ( ) 若某地目前的人口結構處於「高金字塔」階段，則某地的出生率和死亡率變化應該為何？ (A)出生率高、死亡率高 (B)出生率低、死亡率低 (C)出生率下降中、死亡率低 (D)出生率低、死亡率上升中。

## 二、歷史

- ( ) 蔣經國任職總統期間，臺灣的社會逐漸走向民主開放的道路，下列哪幾項是其主要政治措施？(甲)開放黨禁、報禁 (乙)終止動員戡亂 (丙)解除戒嚴 (丁)省市長民選 (A)甲乙 (B)甲丙 (C)甲丁 (D)乙丙。
- ( ) 臺灣總督擁有行政、立法、司法、軍事等大權於一身，儼然為臺灣的土皇帝，這些權力主要是根據哪項法令而來？(A)《憲法》(B)《馬關條約》(C)《民法》(D)《法律第六十三號》。
- ( ) 臺灣在日治時期已逐漸擺脫過去風俗，以何者最為普遍？(甲)斷髮 (乙)使用新式交通工具 (丙)具有自治精神 (丁)放足 (A)甲乙 (B)甲丁 (C)乙丙 (D)丙丁。
- ( ) 光復初期，臺灣的中等教育偏重普通中學，何以後來陸續推動職業教育？(A)為配合經濟建設需要 (B)政府推動教育改革，廢除高中 (C)教育經費縮減，裁撤普通中學 (D)經濟不景氣，不需要高等人才。
- ( ) 蔣中正連續擔任五任總統，直到民國 64 年逝世，但依據《中華民國憲法》規定總統只可連任一次，而他連任四次的法源依據為何？(A)戒嚴令 (B)臺灣省各縣市實施地方自治綱要 (C)六三法 (D)動員戡亂時期臨時條款。
- ( ) 當臺灣民主國瓦解時，大多數的臺灣人反應，最可能為下列何者？(A)歡迎日本統治，迎接日本天皇蒞臨 (B)與日人談和，開始民主政治 (C)人民繼續抗日與日軍周旋 (D)放棄臺灣，所有臺人前往大陸生活。
- ( ) 臺灣第一屆透過直接民選而當選的總統為何人？(A)蔣中正 (B)蔣經國 (C)李登輝 (D)陳水扁。
- ( ) 附圖是日治時期的一份宣傳海報，譯文是「時間是金，時間不待，請相互遵守時間。」請問：這是當時總督府所推行的哪種生活習慣的改造運動？(A)衛生習慣的建立 (B)守時觀念的養成 (C)宗教信仰的改變 (D)法治觀念的培養。



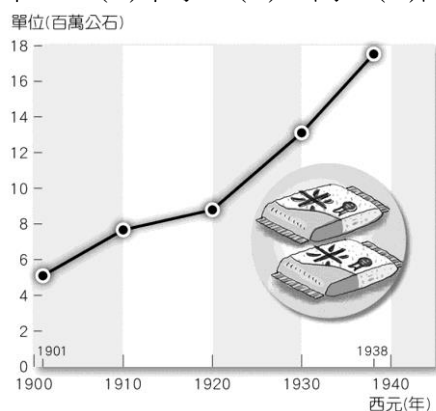
- ( ) 臺灣在日治時期，總督府在臺灣進行不少農業建設，其中對外輸出的重要農業作物為哪兩項？(A)茶、稻米 (B)稻米、樟腦 (C)蔗糖、稻米 (D)茶、樟腦。
- ( ) 這所學校的創校紀念碑首二句為「吾臺人初無中學，有則自本校始。」意謂此校是臺灣第一所專為培育臺籍學子所設立的中學。請問：這所學校最可能位於附圖中的何處？(A)甲 (B)乙 (C)丙 (D)丁。



- ( ) 一本臺灣近代的歷史書上記載：「□在各方擁戴下成為臺灣民主國大總統，他身著朝服，二跪六叩首，大哭成禮，就任大總統……」請問：□指的是下列何人？(A)丘逢甲 (B)羅福星 (C)劉永福 (D)唐景崧。
- ( ) 附表是日治時期臺灣公學校(後改稱國民學校)和私塾的數量，可看出自西元 1909 年開始，私塾數量明顯減少，尤其在西元 1939 年以後逐漸消失，其主要因為何？(A)總督府推行同化政策 (B)臺灣人高度認同日本教育政策 (C)臺灣總督逐漸放棄對臺人的教育主導權 (D)日本實施皇民化運動。

時間	公學校 (國民學校)	私塾數
1899 年	96	1721
1909 年	231	655
1919 年	438	301
1923 年	754	160
1939 年	810	17
1944 年	944	—

- ( ) 由於日本政府在殖民臺灣期間完成了不少基礎建設，為日後國民政府奠定了良好的基礎。請問：日本在臺灣完成這些基礎建設的主要目的為何？(A)鼓勵日人移民到臺灣 (B)讓臺灣人民感受被日本殖民的好處 (C)方便日人統治及獲取利益 (D)讓在臺居住的日本人有一定的生活品質。
- ( ) 下圖為日治時期臺灣稻米生產量的曲線圖。根據此圖判斷，西元 1920 年以後，臺灣稻米生產量增加的主要原因為何？(甲)「工業臺灣，農業南洋」政策的推行 (乙)蓬萊米改良成功 (丙)嘉南大圳的興建 (丁)中國大陸地區對臺灣稻米的大量需求 (A)甲乙 (B)甲丁 (C)乙丙 (D)丙丁。



- ( ) 行政命令不能超越法律，可是臺灣史上的某部法案第一條卻規定：「○得於管轄區域內，公布具有法律效力之命令。」此○應該是指誰？(A)日本警察 (B)臺灣巡撫 (C)日本議員 (D)臺灣總督。
- ( ) 在民國 68 年的臺灣某中學生週記上，「國際要聞」一欄中出現了如下的文句：「美國總統卡特為了己

身利益，不顧國際道義，現在最要緊的是靠自己。」  
請問：他所寫的這件事最有可能是指下列何者？  
(A)美國與中共建交 (B)美國出兵攻打伊拉克  
(C)美國參加韓戰 (D)美國支持以色列攻擊黎巴嫩。

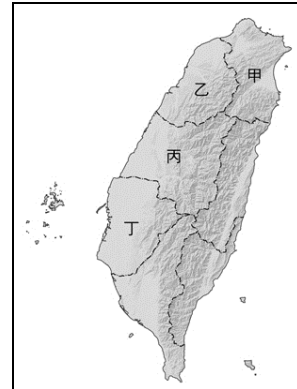
17. ( ) 政府遷臺後，首先進行的是改善農民生活，並進行溫和的「土地改革」，其政策不包括下列何者？ (A)三七五減租 (B)公地放領 (C)平均地權 (D)耕者有其田。
18. ( ) (甲)立法 (乙)司法 (丙)軍事 (丁)行政。日本國會通過「法律第六十三號」，賦予臺灣總督總攬哪些權力？ (A)甲乙丙 (B)甲乙丁 (C)乙丙丁 (D)甲乙丙丁。
19. ( ) 「民國 36 年，有一個寡婦林江邁，在天馬茶房前遭查緝私菸人員傅學通等人以槍托敲打頭部，導致流血過多暈倒在地。緝私員的惡劣舉止引起圍觀群眾的激憤……」請問：以上敘述是描寫哪個事件？ (A)苗栗事件 (B)二二八事件 (C)霧社事件 (D)美麗島事件。
20. ( ) 民國 38 年，中華民國政府決定遷臺後，臺灣省警備總司令部基於穩定國家局勢的理由，曾宣布□□事項，影響此後數十年的臺灣情勢。請問：□□事項應是下列何者？ (A)《戒嚴令》 (B)動員戡亂 (C)實施憲政 (D)解除戒嚴。
21. ( ) 「這所大學於西元 1928 年創校，是日治時期臺灣唯一的高等學府。該校已是擁有文政、理學、農學、醫學、工學五個學部(學院)和預科，以及熱帶醫學、南方人文、南方資源研究所的綜合大學。」請問：上述的大學位於下列何處？ (A)臺北市 (B)臺中市 (C)臺南市 (D)高雄市。
22. ( ) 西元 1937 年後，日本展開侵華戰爭，並將日本文化強勢融入臺灣社會。下列哪件事應該是此一時期所呈現的景象？ (A)容子與姐姐慎子一起穿著唐裝到學校上漢語課 (B)茂伯在報刊上看到霧社原住民遭受日軍的鎮壓 (C)大雄在大街上看到政府徵召許多臺灣人準備到南洋作戰 (D)春樹在報上看到一則有關第一位文官總督就職的新聞。
23. ( ) 「依據□條文的規定，政府有權限制人民的一些基本人權，包括集會、結社、言論、出版等權利。在此段時期，政府運用相關法令對政治的異議分子進行逮捕、軍法審判或處決。」請問：上述□應是指何者？ (A)《六三法》 (B)《戒嚴令》 (C)《中華民國憲法》 (D)《動員戡亂時期臨時條款》。
24. ( ) 一次大戰後，臺灣知識分子受到「民族自決」風潮的影響，開始向日本政府爭取臺人的政治權利，日本當局為了避免風潮擴大，因而推行哪項政策，意圖以日本的法律制度來同化臺人？ (A)皇民化運動 (B)地方自治 (C)無方針主義 (D)內地延長主義。
25. ( ) 日治初期，因抗日事件不斷，軍費龐大，因此有些日本國會議員提議將臺灣賣給外國。但是當時的臺灣民政長官反對此案，並提出臺灣事業經營計畫，後來證實臺灣確實為一大寶地。請問：這位民政長官是誰？ (A)八田與一 (B)莫那魯道 (C)磯永吉 (D)後藤新平。
26. ( ) 「面對臺灣本土菁英參與政治事務的強烈意願，地方自治的實施已刻不容緩，政府於是開放縣級以下的民意代表與行政首長，皆由公民直接選舉產生。」這是臺灣哪個時期的政治發展？ (A)民國三十年

代 (B)民國五十年代 (C)民國七十年代 (D)民國九十年代。

27. ( ) 附圖是臺灣某一時期常見的的宣導文句。請問：這張標語最早出現在何時？ (A)民國四十年代 (B)民國六十年代 (C)民國七十年代 (D)民國八十年代。



28. ( ) 日治時期曾發生原住民襲擊日本人的事件，引起總督府大規模的鎮壓，甚至以施放毒氣、飛機轟炸等方式，令原住民死傷慘重。請問：這個事件發生在附圖中的哪個區域？ (A)甲 (B)乙 (C)丙 (D)丁。



29. ( ) 關於日治時期臺灣教育的發展狀況，下列敘述何者正確？ (A)在臺日人所學教材與日本本國不同 (B)初期的隔離教育方針，將小學校與公學校合稱為國民學校 (C)臺灣人在臺升學容易，因此許多臺灣人考進當時的臺北帝國大學 (D)皇民化運動期間推行六年制義務教育。
30. ( ) 我國政府在民國五十年代，開始推動家庭計畫，其主要目的為下列何者？ (A)為了因應日漸嚴重的少子化問題 (B)為了臺灣邁入高齡社會而實施 (C)為了有效抑制臺灣人口的成長 (D)為了增加農村勞動人口而推動。

### 三、公民

- ( ) 如果民眾抱著「繳費不看病，就是吃虧」的心態來看待全民健康保險這項福利措施，將會產生下列何種影響？ (A)促進國民健康 (B)提升醫療品質 (C)造成醫療資源的浪費 (D)建立傳染病防治體系。
- ( ) 政府應鼓勵社區居民參與社區發展，活化社區組織，利用資源，推動社區永續發展，這是指下列何種社會福利政策？ (A)社會救助 (B)居住正義 (C)社區營造 (D)健康與醫療照護。
- ( ) 行政院環境保護署公告乾淨塑膠袋為資源回收項目之一，新北市環保局結合各區公所清潔隊，全面回收塑膠袋。上述措施是為了因應社會變遷所帶來的何種社會問題？ (A)少子化現象 (B)高齡化社會 (C)環境汙染 (D)貧富差距擴大。
- ( ) 陳爺爺有點輕微的感冒，他馬上到大醫院看病，甚至還「逛醫院」，在甲醫院看完診之後，又到乙醫院看診。上述現象會造成何種問題？ (A)浪費醫療資源 (B)感冒馬上痊癒 (C)與醫生變成好朋友 (D)成為醫院VIP貴賓。
- ( ) 為了讓社會福利措施發揮最大的效益，下列哪項做法是正確的？ (A)民間團體積極參與社會福利的工作 (B)政府制定福利政策應一視同仁，不能優待弱勢群體 (C)志工應以協助本國急難救援為主，其他事項交由政府處理 (D)完全移植西方的福利制度，不必考慮本國文化背景。
- ( ) 政治團體的主要目的為下列何者？ (A)增進同業關係 (B)保障成員工作權益 (C)推展公益活動 (D)促進國民參與政治。
- ( ) 現代社會由於人際互動頻繁，群己關係日趨重要，因而有強調公德的「第六倫」產生。上述「第六倫」指的是下列何者？ (A)五倫 (B)群己倫理 (C)校園倫理 (D)環境倫理。
- ( ) 文化是人類為了下列何種目的，所創造的一切生活方式的總稱？ (A)追求財富 (B)適應環境 (C)爭取自由 (D)傳宗接代。
- ( ) 團體生活中的社會規範，是為了使人與人之間的行為有所依循而產生，具有下列何種功能？ (A)約束個人行為 (B)促進經濟發展 (C)加強民主素養 (D)產生多元文化。
- ( ) 成立【甲】團體是以共同祭祖、聯繫宗族成員的情誼為主要目的。上述【甲】團體應為下列何者？ (A)工會 (B)政黨 (C)宗親會 (D)同業公會。
- ( ) 當衝突發生，應以何種態度面對衝突？ (甲)盡力爭個你死我活 (乙)放聲大哭，博得同情 (丙)尊重他人的意見和立場 (丁)清楚表達自己的意見和立場 (A)甲乙 (B)甲丙 (C)乙丁 (D)丙丁。
- ( ) 下列關於「結社」的敘述，何者正確？ (A)人民可依自己的喜好成立任何團體 (B)參加遊行抗議活動，也是一種結社 (C)聯合國《世界人權宣言》明文規定，人人有和平集會結社的自由 (D)結社的目標是由發起人決定，加入的會員只需實行即可。
- ( ) 目前就讀國中的阿寶，身為班級一分子，能夠替自己所屬的班級做下列哪一件事情？ (A)聽父母的話，放學後不在學校逗留 (B)全力以赴，爭取每科都考一百分 (C)為美化教室，積極參與教室布置 (D)為分擔老師辛勞，努力爭取當小老師。
- ( ) 「洗門風」除了是一種道德制裁手段，同時也成為一種相沿成習，約定俗成的慣例，其與下列何者的

性質相同？ (A)清明節掃墓祭祖 (B)每日睡前必禱告 (C)汽車後座乘客須繫上安全帶 (D)三人以上公共場所不可吸菸。

- ( ) 就讀國中的學昌想要參與一些公益服務活動，下列哪一項活動較不適合他？ (A)利用午休到學校圖書館幫忙整理書籍 (B)在假日到老人療養院陪老人們聊天 (C)向學校請假，參加示威遊行抗議活動 (D)加入社區青少年志工隊，維護社區環境。
- ( ) 宗教透過超自然力量或以各種戒律來規範信徒的行為舉止，下列何者屬於戒律對信徒的規範？ (A)第六倫的群己關係 (B)開車超速違規被警察開罰單 (C)佛教徒不殺生 (D)中秋節賞月吃月餅。
- ( ) 我國《憲法》規定：「人民有集會及結社之自由。」這是宣示國家對於人民何種權利的保障？ (A)遷徙 (B)信仰 (C)平等 (D)結社。
- ( ) 中西文化有相當的差異，西方人每年在聖誕節時會全家團聚一起，而中國人在清明節會全家掃墓祭祖，表達慎終追遠之意。上述內容為何種社會規範的差異？ (A)風俗習慣 (B)倫理道德 (C)法律 (D)宗教信仰。
- ( ) 臺灣有不少醫生世家，如曾擔任衛生署(現改為衛生福利部)署長的侯勝茂，他的父親是嘉義名醫，兄弟、太太都是醫師，現在兒子、女兒也加入專業醫師的行列。由以上例子可知，何種社會化途徑對人的一生成有深遠的影響？ (A)學校 (B)家庭 (C)手足 (D)同儕團體。
- ( ) 政府興建焚化爐、核電廠等建設可以帶動經濟發展，卻也可能引發下列何項社會問題？ (A)環境汙染 (B)就業困難 (C)貧富差距擴大 (D)治安惡化。
- ( ) 下列有關法律的敘述，何者正確？ (A)主要在啟迪人的內在良知 (B)國家經由一定程序所制定的 (C)法律一旦制定通過，即不能修改 (D)法律的制定，不須參考其他社會規範。
- ( ) 就讀國中的永隆自小就與年邁的外婆相依為命，家裡的收入就只依靠外婆出外打零工所賺來的微薄薪水，因此每個月還必須向政府請領生活補助金，才得以度日。政府發放生活補助金是屬於下列何種社會福利政策？ (A)社會津貼 (B)社會救助 (C)健康與醫療照護 (D)福利服務。
- ( ) 附表是政府公布的國情統計部分摘要——

時間 (民國)	政黨	全國性 政治 團體	職業 團體	社會 團體
95	122	43	9,853	28,027
96	136	43	9,983	30,046
97	144	43	10,167	31,994
98	158	43	10,284	34,137

(單位：個)

根據表中內容判斷，下列有關我國人民社會參與活動的敘述，何者正確？ (A)人民參與政治活動的意願漸趨冷淡 (B)人民對社會服務的需求日漸減少 (C)農工商會組織的成長比率最為快速 (D)投入公益活動的人口比率愈來愈多。

- ( ) 公民課時，老師請同學舉例說明文化的差異性，下列哪個同學的說法是正確的？ (A)現代化國家有語言，原始部落也有語言 (B)日本受到我國文化的影響，發展出茶道文化 (C)我國清明祭祖的節

慶文化，有深遠的歷史淵源 (D)我國使用筷子吃米飯，美國則用刀叉吃牛排。

25. ( ) 宗教信仰是人類精神生活的重要部分，下列相關敘述，何者正確？ (A)五倫關係的建立屬於宗教信仰的範圍 (B)宗教信仰屬於社會規範之一 (C)人類因有人定勝天的優越心態而產生宗教信仰 (D)宗教是透過法律來約束信眾的日常生活。
26. ( ) 阿輝上臺報告的資料中提到——



依此判斷，阿輝所描述的團體應為下列何者？ (A)宜蘭縣農會 (B)金門同鄉會 (C)二十一世紀憲改聯盟 (D)主婦聯盟環境保護基金會。

27. ( ) 社會規範是社會成員的行為準則，下列有關社會規範的敘述，何者正確？ (A)不同社會的規範沒有任何差異 (B)社會規範皆以公權力作為後盾 (C)社會規範均會隨時間有所改變 (D)先進國家的社會規範比落後國家的社會規範較一成不變。
28. ( ) 以下是宜超在電視上看到的一則新聞報導——

某保健食品經檢驗證實內含禁藥成分，不符《藥事法》規定，檢調單位搜索負責販售與製造該食品的兩家公司、約談相關涉案人，臺北地方法院並裁定將兩名負責人收押禁見。

下列相關敘述，何者正確？ (A)檢調單位展開搜索是以宗教戒律作為後盾 (B)兩名負責人因違反法律而受到公權力制裁 (C)兩名負責人違反風俗習慣因而遭法院收押禁見 (D)「不符《藥事法》規定」顯示違反倫理道德。

29. ( ) 社會中的團體可以透過哪些方式，督促政府制定相關的法律與政策，並且積極監督政府施政？ (甲)傳播媒體 (乙)集會遊行 (丙)威脅利誘 (丁)自行立法 (A)甲乙 (B)甲丙 (C)乙丙 (D)丙丁。
30. ( ) 全民健康保險開辦以後，許多民眾習慣到大醫院就診或找名醫看病，導致醫學中心的門診量愈來愈多，形成初期醫療照護及慢性病患占用重症醫療資源，也造成民眾就醫的不便。上述內容顯示出大眾應加強哪方面的素養？ (A)推動社區永續發展 (B)推動無歧視與無障礙空間 (C)建立正確使用醫療資源的觀念 (D)提升職場競爭力。

一、地理：

1.A 2.B 3.C 4.D 5.D 6.C 7.C 8.B 9.D 10.A  
11.C 12.B 13.A 14.B 15.B 16.C 17.C 18.A 19.A 20.D  
21.C 22.B 23.D 24.B 25.A 26.D 27.D 28.B 29.C 30.C

二、歷史：

1.B 2.D 3.B 4.A 5.D  
6.C 7.C 8.B 9.C 10.B  
11.D 12.D 13.C 14.C 15.D  
16.A 17.C 18.D 19.B 20.A  
21.A 22.C 23.B 24.D 25.D  
26.A 27.A 28.C 29.D 30.C

三、公民：

1.C 2.C 3.C 4.A 5.A  
6.D 7.B 8.B 9.A 10.C  
11.D 12.C 13.C 14.A 15.C  
16.C 17.D 18.A 19.B 20.A  
21.B 22.B 23.D 24.D 25.B  
26.D 27.C 28.B 29.A 30.C